

2026

سلسلة

البركان

في

الدراسات الاجتماعية

مراجعة

شهر

أكتوبر

أ / محمد عبد الطبور

01129903122

2 اعدادى



مراجعة شهر أكتوبر - ثانية اعدادى

السؤال الأول : أكمل العبارات الاتية بما يناسبها من كلمات :

- ١- تأتي قارة أوروبا من حيث المساحة بين قارات العالم في المرتبة
- ٢- يُطلق اسم سقف العالم على هضبة
- ٣- يطلق على قارة آسيا وأوروبا مصطلح
- ٤- تقترب قارة آسيا من قارة أوروبا عند مضيقى
- ٥- يحد قارة أوروبا من جهة الغرب
- ٦- من الحضارات التي قامت فى قارة أوروبا الحضارة والحضارة
- ٧- تعد جبال أعلى وأضخم سلاسل جبلية في العالم .
- ٨- تتضمن قارات العالم القديم قارة اسيا و و
- ٩- من الحضارات التي قامت بقارة اسيا الحضارة
- ١٠- تجرى انهار اوب وينسى ولينا في سهول باسيا .
- ١١- من مصادر الطاقة المتجددة طاقة الرياح و و
- ١٢- تمر قارة اسيا بثلاث دوائر عرض رئيسية هم و و
- ١٣- من الطرق التجارية بقارة أوروبا طريق وطريق
- ١٤- يجرى نهر بسهل منشوريا بشرق قارة اسيا .
- ١٥- أولى الدول الأوروبية إنتاجاً لطاقة الرياح والشمس
- ١٦- أولى دول قارة آسيا إنتاجاً للحديد دولة
- ١٧- يستخدم معدن في صناعة هياكل الطائرات .
- ١٨- أولى دول قارة آسيا إنتاجاً لليورانيوم دولة
- ١٩- أولى دول قارة أوروبا إنتاجاً للبترول دولة
- ٢٠- أولى دول قارة أوروبا إنتاجاً لطاقة الرياح
- ٢١- يستخدم معدن في صناعة الصلب وبطاريات السيارات الكهربائية .
- ٢٢- هي مواد خام محدودة الوجود ذات أهمية اقتصادية كبيرة حيث تدخل في انتاج الطاقة النظيفة .
- ٢٣- تعد دولتا الهند وتركيا من اكثر الدول الاسيوية في انتاج
- ٢٤- يستخدم في الصناعات النووية معدن
- ٢٥- يعد الغاز الطبيعي منافساً قوياً لـ
- ٢٦- ارتبطت مواقع معظم الحضارات القديمة في قارة آسيا بتوافر و
- ٢٧- اشهر معبودات بلاد العراق القديم هي
- ٢٨- تمكن الأكاديون من السيطرة على المدن السومرية المتنازعة في عهد
- ٢٩- عرفت الكتابة في العراق قديماً باسم الكتابة
- ٣٠- قامت على ارض بلاد الشام العديد من الحضارات القديمة ومنها
- ٣١- كانت مدينة هي عاصمة الحضارة السومرية .



- ٣٢- تعد عبادة من ابرز العبادات في بلاد اليمن القديم وشيدوا لها المعابد .
- ٣٣- تمكنت حضارة سبأ من السيطرة على مناطق حضارة
- ٣٤- أنشأ اليمنيون القدماء عدة موانئ اشهرها ميناء
- ٣٥- قام اهل بلاد اليمن القديم بزراعة الخضروات والفواكه في السهول وعلى

السؤال الثاني : أكتب كلمة (صواب) أمام العبارة الصحيحة وكلمة (خطأ) أمام العبارة غير الصحيحة

- ١- تتشابه الحدود الشمالية لقارتي آسيا وأوروبا . ()
- ٢- أعلى قمة جبلية في العالم هي قمة جبل مون بلان . ()
- ٣- تعد قارة أوروبا أكبر قارات العالم مساحة . ()
- ٤- تقترب قارة آسيا من أمريكا الشمالية عند مضيق هرمز . ()
- ٥- استخراج المعادن من المصادر المهمة للدخل القومي . ()
- ٦- تحاط قارة اسيا بالمحيطات من جميع الجهات . ()
- ٧- تبدو قارة أوروبا كأنها امتداد طبيعي لقارة آسيا من جهة الشرق . ()
- ٨- يعد مضيق الدردنيل من المواقع الاستراتيجية التي تشرف عليها قارة أوروبا . ()
- ١٠- تقع معظم قارة أوروبا في المنطقة الشمالية المعتدلة من الكرة الأرضية . ()
- ١١- ساعد الموقع الجغرافي لقارة أوروبا على سهولة التواصل الاقتصادي مع قارات العالم ()
- ١٢- تنتشر التلال والهضاب قليلة الارتفاع في الجزء الشمالي من قارة أوروبا . ()
- ١٣- تقع هضبة شبه الجزيرة العربية في شمال قارة آسيا . ()
- ١٤- يحتل نهر اليانجنسي المركز الثالث عالميا من حيث امتداده . ()
- ١٥- تعد سهول نهر الدانوب من السهول الصالحة للزراعة بقارة أوروبا . ()
- ١٦- تعد دولة إندونيسيا أولى الدول الآسيوية إنتاجا للبتترول . ()
- ١٧- تُعد كازاخستان أولى دول قارة آسيا في إنتاج اليورانيوم . ()
- ١٨- الصين من الدول المصدرة للحديد . ()
- ١٩- معظم الإنتاج الأوروبى من المنجنيز يأتي من روسيا . ()
- ٢٠- تصدر إندونيسيا دول قارة آسيا في إنتاج الكروم . ()
- ٢١- تنتج قارة آسيا نصف الطاقة الكهرومائية عالميا . ()
- ٢٢- يعتبر النحاس والمنجنيز من أمثلة المعادن الأساسية ومعادن الصناعات الحديدية . ()
- ٢٣- تعد الهند أولى دول قارة آسيا في إنتاج معدن النحاس . ()
- ٢٤- يرتفع إنتاج المعادن الخام فى قارة أوروبا عن قارة آسيا . ()
- ٢٥- يؤثر البترول بشكل كبير فى الاقتصاد العالمى والعلاقات الدولية . ()
- ٢٦- يُعد البترول والغاز الطبيعي من مصادر الطاقة الأحفورية . ()
- ٢٧- تحتل قارة آسيا المركز الأول عالمياً في إنتاج الغاز الطبيعي . ()
- ٢٨- يأتي حوالي ثلثى الإنتاج العالمي من معدن النيكل من قارة أوروبا . ()
- ٢٩- كان للنشاط التعديني دور في حدوث التغيرات المناخية . ()
- ٣٠- يأتي نصف الإنتاج العالمي من الطاقة الكهرومائية من قارة أوروبا . ()

- ٣١- كان المجتمع الفينيقي مقسماً لطبقات مثل المجتمعين المصري والعراق القديم . ()
- ٣٢- اهتم المصريون بإنشاء المعابد والمراكز والحاميات العسكرية في بلاد الشام . ()
- ٣٣- الآشوريين أول الشعوب التي سكنت جنوب بلاد العراق القديم على ضفاف نهر الفرات ()
- ٣٤- كانت سلطة الحكم في العراق القديم في يد بعض افراد الطبقة العليا من المجتمع . ()
- ٣٥- جسد الفينيقيون معبوداتهم في صورة بشرية . ()
- ٣٦- اهتم اهل اليمن قديماً بمشروعات الري وتربية الحيوانات . ()
- ٣٧- طلب أهل بلاد اليمن القديم المساعدة من الروم لتخليصهم من حكم الاحباش . ()
- ٣٨- كان انهيار سد مأرب سبباً في ضعف مملكة سبأ . ()
- ٣٩- كان الذهب على قائمة الواردات المصرية من بلاد اليمن قديماً . ()
- ٤٠- اعتمد اليمنيون القدماء في صناعة ملابسهم على الصوف والحريز . ()

السؤال الثالث : اختر الإجابة الصحيحة مما بين الأقواس

- ١- يفصل بين قارتي آسيا وأستراليا بحر (قزوين - تيمور - الصين - العرب)
- ٢- دائرة العرض الرئيسية المارة في قارة أوروبا (دائرة الاستواء - الدائرة القطبية الشمالية - مدار السرطان - الدائرة القطبية الجنوبية)
- ٣- يحد قارة آسيا من الشرق المحيط (الهندي - الأطلنطي - الهادي - القطبي الجنوبي)
- ٤- من الجزر الآسيوية التي تقع جنوب دائرة الاستواء بعض جزر (إندونيسيا - الفلبين - اليابان - مدغشقر)
- ٥- تعد قمة مون بلان جزءاً من سلسلة جبال (أورال - الألب - الهيمالايا - البرانس)
- ٦- يطلق على جبال الألب اسم جبال البرانس في دولة (إنجلترا - إيطاليا - أرمينيا - إسبانيا)
- ٧- يحد قارة آسيا من الجنوب (المحيط الهندي - المحيط الهادي - البحر المتوسط - البحر الأسود)
- ٨- تقترب قارة آسيا عند مضيق بيرنج من قارة (أوروبا - إفريقيا - أستراليا - أمريكا الشمالية)
- ٩- يقترب يابس قارة آسيا من يابس قارة أوروبا عند مضيق (باب المنذب - جبل طارق - بيرنج - البسفور)
- ١٠- تطل قارة أوروبا من جهة الغرب على (البحر المتوسط - البحر الأحمر - المحيط الأطلنطي - المحيط الهندي)
- ١١- تعد أحد الحضارات القديمة التي قامت في قارة أوروبا الحضارة (اليونانية - الهندية - الصينية - الفينيقية)
- ١٢- أعلى هضبة في العالم هي هضبة (الدكن - التبت - شبه الجزيرة العربية - الميزينا)
- ١٣- من الأنهار التي تجرى شمال قارة آسيا نهر (أوب - السند - الفرات - اليانغتسي)
- ١٤- يجري نهر أمور في (سهل منشوريا - سهول سيبيريا - سهل الصين - السهل الأوروبي العظيم)

- ١٥- من الأنهار التي تجرى غرب قارة آسيا نهر (السند - اليانغتسي - ينسي - دجلة)
- ١٦- تقع هضبة الميزيتا في دولة (إسبانيا - النرويج - ألمانيا - فنلندا)
- ١٧- تنتج قارة آسيا أكثر من الإنتاج العالمي من الكروم . (ثلث - ربع - نصف - ثلثي)
- ١٨- تنتج قارة آسيا من التيتانيوم نسبة من الإنتاج العالمي . (نصف - خمسي - ربع - ثلث)
- ١٩- يدخل مصدر الطاقة في صناعة الصلب . (الفحم - البترول - الغاز الطبيعي - الرياح)
- ٢٠- تصدر دولة دول أوروبا في إنتاج البترول . (الصين - روسيا - الهند - السعودية)
- ٢١- ينتمي إلى المعادن النووية والاستراتيجية (الحديد - الكروم - اليورانيوم - البوكسيت)
- ٢٢- أولى دول قارة آسيا في إنتاج الحديد (الصين - الهند - تركيا - كازاخستان)
- ٢٣- يأتي معظم إنتاج قارة أوروبا في الحديد من دولة (فنلندا - ألمانيا - أوكرانيا - روسيا)
- ٢٤- تعد دولة كازاخستان أولى دول قارة آسيا إنتاجاً لمعدن (الحديد - اليورانيوم - التيتانيوم - النحاس)
- ٢٥- معظم إنتاج قارة أوروبا من المنجنيز يأتي من دولة (أوكرانيا - ألمانيا - فنلندا - روسيا)
- ٢٦- أولى دول قارة آسيا في إنتاج البترول (الصين - الهند - السعودية - إندونيسيا)
- ٢٧- تصدر دولة ألمانيا دول قارة أوروبا في إنتاج (طاقة الرياح والطاقة الكهرومائية - طاقة الرياح والطاقة الشمسية - الطاقة الشمسية والبترول - الطاقة الكهرومائية والغاز الطبيعي)
- ٢٨- أكبر الدول المنتجة لطاقة الرياح على مستوى العالم (روسيا - ألمانيا - الهند - الصين)
- ٢٩- تحتل الصين المركز الأول عالمياً في إنتاج (طاقة الرياح و الطاقة الشمسية - الطاقة الكهرومائية وطاقة الرياح - البترول والغاز الطبيعي - البترول والفحم)
- ٣٠- من مشكلات التعدين التي تظهر في قارة أوروبا على عكس قارة آسيا (التغيرات المناخية الناتجة عن النشاط التعديني - نقص التكنولوجيا الحديثة وتدريب العمالة - الارتفاع الكبير في تكاليف العمالة - عدم إصدار قوانين لحماية البيئة)
- ٣١- أقدم الحضارات في بلاد العراق القديم (السومرية - البابلية الأولى - الآشورية - الأكادية)
- ٣٢- استعان الملك نخاو للدوران حول أفريقيا ببشارة (فينيقيين - آشوريين - بابليين - سومريين)
- ٣٣- واجه العرب المسلمون عند فتح بلاد العراق (الروم - الفرس - الاغريق - السلوقيين)
- ٣٤- استقر الآشوريين في شمال بلاد العراق القديم واتخذوا من عاصمة لهم . (بابل - أكاد - آشور - قرطاج)
- ٣٥- استقر الفينيقيون على الشريط الساحلي البحر المتوسط (شرق - غرب - شمال - جنوب)
- ٣٦- تحكمت بلاد اليمن القديم في مضيق (هرمز - باب المندب - جبل طارق - تيران)
- ٣٧- كانت مدينة ريدان عاصمة مملكة في بلاد اليمن القديم . (معين - سبأ - حمير - بابل)
- ٣٨- كان النشاط الرئيسي لبلاد اليمن قديماً حرفة (الزراعة - الصناعة - التجارة - التعدين)



٣٩- أي مما يأتي كان يمثل أحد فروع السبئيين

(الحميريون - الاحباش - الفرس - الاشوريون)

٤٠- تولت الملكة بلقيس حكم مملكة

(اكسيوم - معين - الفرس - سبأ)

السؤال الرابع : اكتب ما تشير اليه كل عبارة من العبارات التالية

- ١- نعد أعلى قمة جبلية في العالم .
- ٢- سهل يقع في شرق قارة آسيا ويجرى فيه نهر اليانجسي .
- ٣- بعد أكبر السهول الفيضية في قارة أوروبا .
- ٤- مجموعة من الجزر المتجاورة في منطقة مائية .
- ٥- مصطلح يُطلق على قارتي آسيا وأوروبا .
- ٦- تعد أكبر قارات العالم من حيث الامتداد الفلكي .
- ٧- أعلى وأضخم سلسلة جبلية في العالم .
- ٨- معدنان يعتمد عليهما في صناعة بطاريات السيارات الكهربائية .
- ٩- معدن يستخدم في صناعة الصواريخ والأجهزة الطبية المقاومة للتآكل .
- ١٠- طاقة نظيفة غير ملوثة للبيئة، وتنتج عن مصادر متجددة غير قابلة للنفاذ .
- ١١- قانون أصدره الاتحاد الأوروبي لضمان استدامة الموارد المعدنية للأجيال القادمة .
- ١٢- مواد خام محدودة الوجود ذات أهمية اقتصادية كبيرة حيث تدخل في إنتاج الطاقة النظيفة .
- ١٣- معدن يتركز معظم إنتاجه في المناطق المدارية ويدخل في صناعة الألومنيوم .
- ١٤- من مصادر الطاقة الأحفورية الأقل تلويثاً للبيئة .
- ١٥- تستخدم أساليب تعدين حديثة وصديقة للبيئة، لتقليل التلوث البيئي وتحقيق الاستخدام الأمثل والمستدام للموارد الطبيعية .
- ١٦- مصطلح أطلق على بلاد العراق القديم لوقوعها بين نهري دجلة والفرات .
- ١٧- رموز تشبه رعوس المسامير كانت تكتب باستخدام أداة خشبية مدببة .
- ١٨- هرم مدرج يبني عليه معبد من الطوب الطيني .
- ١٩- نظام اعتمدت عليه بلاد العراق القديم في التبادل التجاري قبل استخدام النقود .
- ٢٠- الدولة التي حكمت بلاد العراق القديم والشام بعد وفاة الاسكندر الأكبر .
- ٢١- تقويم وضعه اليمنيون واعتمدوا عليه في تحديد الفصول الزراعية .
- ٢٢- يطلق عليه الخط المسند وتتكون من ٢٩ حرفاً .
- ٢٣- أخصب مناطق اليمن وأكثرها صلاحية للزراعة .
- ٢٤- يساعد الملك في إدارة الدولة في بلاد اليمن قديماً .
- ٢٥- إحدى حضارات بلاد اليمن القديم تمكن أهلها من السيطرة على حضارة سبأ .

السؤال الخامس : صوب ما تحته خط فيما يلي

١- تُعد قارة أوروبا أكبر قارات العالم من حيث المساحة .

٢- يحد قارة آسيا من الشرق المحيط الأطلنطي .



- ٣- تُعد جبال الألب حداً فاصلاً بين قارتي آسيا وأوروبا .
- ٤- تتنوع الحدود الشمالية لقارة آسيا بين حدود برية وحدود بحرية .
- ٥- يفصل البحر الأسود بين قارة أستراليا وقارة آسيا .
- ٦- تقترب قارة أوروبا من قارة إفريقيا عند مضيق باب المندب .
- ٧- تقع سهول نهر السند غرب قارة آسيا .
- ٨- أطول أنهار قارة آسيا نهر أمور .
- ٩- أعلى قمة جبلية في سلاسل جبال الهيمالايا هي قمة مون بلان .
- ١٠- تقع جبال البرانس بين دولتي فرنسا والبرتغال .
- ١١- يُعد نهر السين أطول أنهار أوروبا .
- ١٢- تعتبر ألمانيا أولى دول قارة أوروبا إنتاجاً للكروم .
- ١٣- تُعد إندونيسيا أولى دول قارة آسيا إنتاجاً للنحاس .
- ١٤- يأتي من دولة روسيا أكثر من نصف إنتاج قارة أوروبا من معدن التيتانيوم .
- ١٥- تحتل قارة آسيا المركز الأول بين قارات العالم في إنتاج بعض المعادن الاستراتيجية مثل البوكسيت .
- ١٦- تعد كازاخستان أولى دول قارة آسيا في إنتاج البوكسيت .
- ١٧- اتخذ السومريون من مدينة اشور عاصمة لهم .
- ١٨- من أشهر المعابدات عند العراقيين القدماء بعل .
- ١٩- استقر الاشوريين في وسط بلاد العراق القديم .
- ٢٠- يعد الملك سرجون الثاني من أشهر ملوك الدولة الأكدية .
- ٢١- استولى الروم على العراق بعد هزيمة الدولة السلوقية .
- ٢٢- تطل بلاد اليمن على البحر المتوسط والمحيط الهندي .
- ٢٣- اتخذت حضارة معين من مدينة مأرب عاصمة لهم .
- ٢٤- اهتمت حضارة سبأ في بلاد اليمن القديم بالصناعة والتجارة .

السؤال السادس : بم تفسر ... ؟

١- الأهمية الإستراتيجية لموقع قارة آسيا .

٢- يختلف اتساع مساحة السهول الساحلية في قارة آسيا .

٣- لقارة أوروبا أهمية استراتيجية .

٤- تعرف هضبة التبت بسقف العالم .

٥- تأتي قارة اسيا في المرتبة الأولى بين قارات العالم من حيث طول سواحلها .

٦- يُطلق على قارتي آسيا وأوروبا مصطلح (أوراسيا) .

٧- لموقع قارة آسيا أهمية اقتصادية كبيرة .

٨- الأهمية الدينية لموقع قارة آسيا .

٩- للموقع الجغرافي لقارة أوروبا أهمية اقتصادية .

١٠- تستورد الصين الحديد رغم إنتاجها له .

١١- قلة إنتاج البوكسيت في قارة أوروبا .

١٢- يستخدم التيتانيوم في صنع الأجهزة الطبية .

١٣- ارتفاع إنتاج المعادن الخام في آسيا عن أوروبا .

١٤- نفاذ كميات كبيرة من الخامات المعدنية الأوروبية .

١٥- ارتفاع إنتاج قارة آسيا من الفحم .

١٦- منافسة الغاز الطبيعي للبترول .

١٧- الاهتمام المتزايد بالطاقة المتجددة في العقود الأخيرة .

١٨- إصدار الاتحاد الأوروبي قانون المواد الخام الحرجة .

١٩- استنزاف عديد من الموارد المعدنية في دولتي فرنسا وبريطانيا .

٢٠- لمعدن النيكل أهمية اقتصادية .

٢١- أهمية الفحم بالنسبة للصناعة .

٢٢- يتسم الإنتاج العالمي لقارة آسيا من الطاقة الكهربائية بالضخامة .

٢٣- استخدام قارتي آسيا وأوروبا التقنيات الحديثة لمواجهة مشكلات التعدين .

٢٤- يُعد البترول أحد أهم مصادر الطاقة الأحفورية في العالم .

٢٥- تزايد الاهتمام العالمي بالطاقة المتجددة .

٢٦- نشأة الحضارات القديمة في قارة آسيا .

٢٧- شهرة الملك حمورابي في تاريخ بلاد العراق القديم .

٢٨- أهمية شيخ القبيلة عند بلاد اليمن .

٢٩- الغزو الحبشي لبلاد اليمن القديم .

٣٠- ضعف وسقوط حضارة سبأ .

السؤال السابع : ما النتائج المترتبة على ... ؟

١- امتداد السهول الفيضية في قارة أوروبا .

٢- كثرة تعاريج سواحل قارة أوروبا .

٣- لموقع الفلكي لقارة آسيا .

٤- امتداد قارة أوروبا بأكملها في النصف الشمالي للكرة الأرضية .

٥- لموقع الجغرافي لقارة أوروبا .

٦- لموقع الفلكي لقارة أوروبا .

٧- خفة وزن التيتانيوم وصلابته العالية، ومقاومته الكبيرة للتآكل .

٨- الاستخدام غير المستدام وطول فترة التعدين للموارد المعدنية بدول غرب أوروبا .

٩- النشاط التعديني بالنسبة للبيئة .

١٠- اعتدال المناخ في قارة اسيا بالنسبة للحضارات القديمة بها .

١١- اتبع الاشوريين سياسة العنف ضد الشعوب التي احتلوها .

١٢- الموقع الجغرافي لبلاد اليمن القديم على طرق التجارة .

١٣- اضطهاد الملك ذو نواس للمسيحيين من اهل اليمن .

السؤال الثامن : دلل على صحة العبارات التالية

١- تمتلك قارة أوروبا موقعا مميزا بين قارات العالم .

٢- تختلف مسميات جبال الألب من دولة لأخرى .

٣- يوجد عديد من السهول الفيضية في قارة آسيا .

٤- تتنوع الحدود الغربية لقارة آسيا .



٥- لقارة آسيا أهمية استراتيجية .

٦- لقارة آسيا أهمية حضارية ودينية .

٧- لقارة أوروبا أهمية حضارية .

٨- الصين تمثل ثروة معدنية كبيرة .

٩- ظل الفحم حتى بداية القرن الماضي المصدر الرئيسي للطاقة في العالم .

١٠- تتبنى ألمانيا فكرة «طاقة بلا تلوث» داخل قارة أوروبا .

١١- يواجه النشاط التعدين العديد من المشكلات في قارتى آسيا وأوروبا .

١٢- عرف نظام دولة المدينة في حضارات بلاد العراق القديم .

١٣- آمن سكان بلاد العراق القديم بفكرة تعدد المعبودات .

١٤- اهتم سكان بلاد اليمن القديم بالزراعة .

١٥- برع اليمنيون القدماء في العمارة والفنون .



السؤال التاسع : ما العلاقة بين ؟

١- السهل الأوروبي العظيم وتحقيق التنمية الزراعية .

٢- النشاط التعدين والبيئة .

٣- كثرة الأنهار في قارة آسيا وإنتاج الطاقة الكهرومائية .

٤- التعدين وتلوث المياه الجوفية .

٥- النيكل، والطاقة النظيفة.

٦- قيام الثورة الصناعية بأوروبا، والخامات المعدنية .

٧- الفينيقيون والابجدية الحديثة .

٨- الموقع الجغرافي بلاد اليمن القديم وطرق التجارة القديمة .

السؤال العاشر : ما المقصود بكل من

١- أوراسيا .

٢- الارخبيل .

٣- المواد الخام الحرجة .

٤- المناجم الخضراء .

٥- بلاد الرافدين .

٦- الزقورة .

٧- الكتابة المسمارية .

٨- التقويم السبئي .



السؤال الحادي عشر : في أى القارات توجد كل ظاهرة تضاريسية من الظواهر الآتية ... ؟

.....

.....

.....

.....

.....

.....

.....

.....

.....

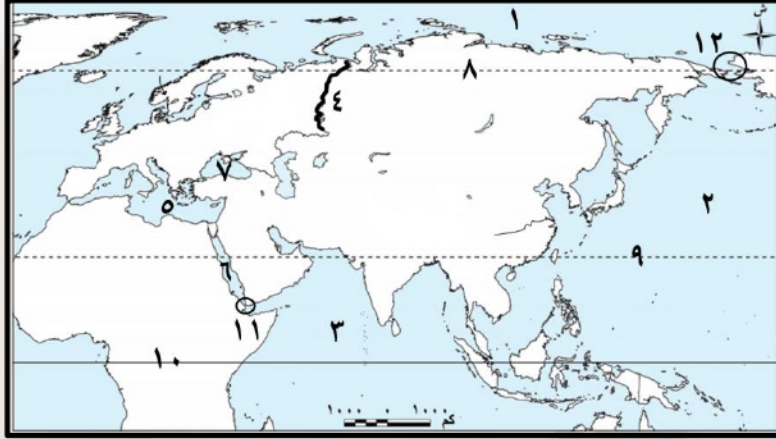
.....

.....

.....

- ١- سهول نهري دجلة والفرات .
- ٢- جبال الألب .
- ٣- جبال البرانس .
- ٤- نهر اليانغتسي .
- ٥- قمة إفرست .
- ٦- قمة مون بلان .
- ٧- جبال الألب الدينارية .
- ٨- جبال الهيمالايا .
- ٩- سهل الصين .
- ١٠- أرخبيل اليابان .
- ١١- هضبة فرنسا الوسطى .
- ١٢- سهول سيبيريا .

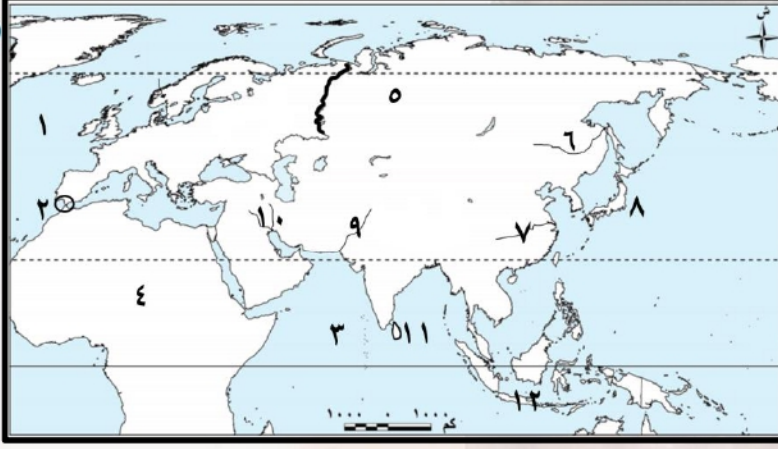
السؤال الثاني عشر : أمامك خريطة صماء لمصر اكتب مدلول الأرقام عليها



- ١- يشير رقم (١) المحيط
- ٢- يشير رقم (٢) المحيط
- ٣- يشير رقم (٣) المحيط
- ٤- يشير رقم (٤) جبال
- ٥- يشير رقم (٥) البحر
- ٦- يشير رقم (٦) البحر
- ٧- يشير رقم (٧) البحر
- ٨- يشير رقم (٨) الدائرة
- ٩- يشير رقم (٩) مدار
- ١١- يشير رقم (١١) مضيق

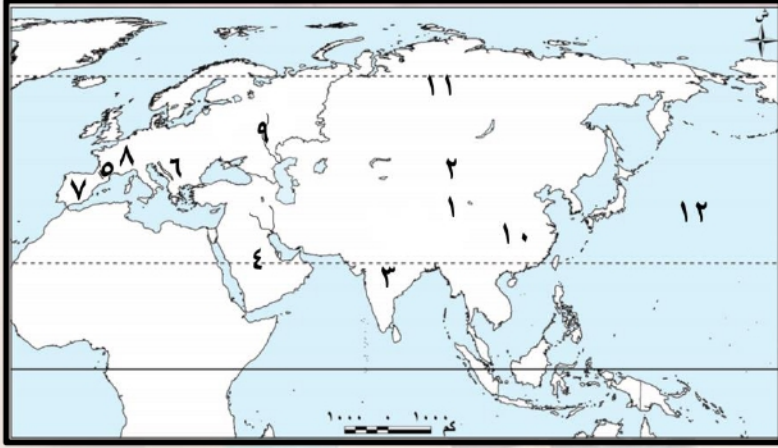
- ١٠- يشير رقم (١٠) دائرة
- ١٢- يشير رقم (١٢) مضيق

السؤال الثاني عشر : أمامك خريطة صماء لمصر اكتب مدلول الأرقام عليها



- ١- يشير رقم (١) المحيط
- ٢- يشير رقم (٢) مضيق
- ٣- يشير رقم (٣) المحيط
- ٤- يشير رقم (٤) قارة
- ٥- يشير رقم (٥) سهول
- ٦- يشير رقم (٦) نهر
- ٧- يشير رقم (٧) نهر
- ٨- يشير رقم (٨) أرخبيل
- ٩- يشير رقم (٩) نهر
- ١٠- يشير رقم (١٠) نهر
- ١١- يشير رقم (١١) جزيرة
- ١٢- يشير رقم (١٢) أرخبيل

السؤال الثاني عشر : أمامك خريطة صماء لمصر اكتب مدلول الأرقام عليها



- ١- يشير رقم (١) جبال
- ٢- يشير رقم (٢) هضبة
- ٣- يشير رقم (٣) هضبة
- ٤- يشير رقم (٤) هضبة
- ٥- يشير رقم (٥) جبال
- ٦- يشير رقم (٦) جبال
- ٧- يشير رقم (٧) هضبة
- ٨- يشير رقم (٨) هضبة
- ٩- يشير رقم (٩) نهر
- ١٠- أولى الدول إنتاجاً للحديد
- ١١- أولى الدول إنتاجاً لليورانيوم
- ١٢- يشير رقم (١٢) المحيط

مراجعة شهر أكتوبر - ثانية اعدادى

السؤال الأول : أكمل العبارات الاتية بما يناسبها من كلمات :

- ١- تأتي قارة أوروبا من حيث المساحة بين قارات العالم في المرتبة **السادسة** .
- ٢- يُطلق اسم سقف العالم على هضبة **التبت** .
- ٣- يطلق على قارة آسيا وأوروبا مصطلح **أوراسيا** .
- ٤- تقترب قارة آسيا من قارة أوروبا عند مضيقى **البسفور والدردينيل** .
- ٥- يحد قارة أوروبا من جهة الغرب **المحيط الاطلنطى** .
- ٦- من الحضارات التي قامت فى قارة أوروبا الحضارة **اليونانية** والحضارة **الرومانية** .
- ٧- تعد جبال **الهيमالايا** أعلى وأضخم سلاسل جبلية في العالم .
- ٨- تتضمن قارات العالم القديم قارة آسيا و **أفريقيا** و **أوروبا** .
- ٩- من الحضارات التي قامت بقارة آسيا الحضارة **الهندية** .
- ١٠- تجرى انهار اوب وينسى ولينا في سهول **سيبيريا** باسيا .
- ١١- من مصادر الطاقة المتجددة طاقة الرياح و **الطاقة الشمسية** و **الكهرومائية** .
- ١٢- تمر قارة آسيا بثلاث دوائر عرض رئيسية هم **الدائرة القطبية الشمالية** و **السرطان** و **الاستواء** .
- ١٣- من الطرق التجارية بقارة أوروبا طريق **الحرير** وطريق **التوابل** .
- ١٤- يجرى نهر **أمور** بسهل منشوريا بشرق قارة آسيا .
- ١٥- أولى الدول الأوروبية إنتاجاً لطاقة الرياح والشمس **المانيا** .
- ١٦- أولى دول قارة آسيا إنتاجاً للحديد دولة **الصين** .
- ١٧- يستخدم معدن **التيتانيوم** في صناعة هياكل الطائرات .
- ١٨- أولى دول قارة آسيا إنتاجاً لليورانيوم دولة **كازاخستان** .
- ١٩- أولى دول قارة أوروبا إنتاجاً للبترول دولة **روسيا** .
- ٢٠- أولى دول قارة أوروبا إنتاجاً لطاقة الرياح **المانيا** .
- ٢١- يستخدم معدن **المنجنيز** في صناعة الصلب وبطاريات السيارات الكهربائية .
- ٢٢- **المواد الخام الحرجة** هي مواد خام محدودة الوجود ذات أهمية اقتصادية كبيرة حيث تدخل في إنتاج الطاقة النظيفة .
- ٢٣- تعد دولتا الهند وتركيا من أكثر الدول الاسيوية في إنتاج **الكروم** .
- ٢٤- يستخدم في الصناعات النووية معدن **اليورانيوم** .
- ٢٥- يعد الغاز الطبيعي منافساً قوياً لـ **البترول** .
- ٢٦- ارتبطت مواقع معظم الحضارات القديمة في قارة آسيا بتوافر **المياه العذبة** و **التربة الخصبة** .
- ٢٧- أشهر معبودات بلاد العراق القديم هي **عشتار** .
- ٢٨- تمكن الأكاديون من السيطرة على المدن السومرية المتنازعة في عهد **سرجون الأول** .
- ٢٩- عرفت الكتابة في العراق قديماً باسم الكتابة **المسمارية** .
- ٣٠- قامت على ارض بلاد الشام العديد من الحضارات القديمة ومنها **الحضارة الفينيقية** .
- ٣١- كانت مدينة **أور** هي عاصمة الحضارة السومرية .

- ٣٢- تعد عبادة **النجوم والكواكب** من ابرز العبادات في بلاد اليمن القديم وشيدوا لها المعابد .
- ٣٣- تمكنت حضارة سبأ من السيطرة على مناطق حضارة **معين** .
- ٣٤- أنشأ اليمنيون القدماء عدة موانئ اشهرها ميناء **عدن** .
- ٣٥- قام اهل بلاد اليمن القديم بزراعة الخضروات والفواكه في السهول وعلى **المدرجات الجبلية** .

السؤال الثاني : أكتب كلمة (صواب) أمام العبارة الصحيحة وكلمة (خطأ) أمام العبارة غير الصحيحة

- ١- تتشابه الحدود الشمالية لقارتي آسيا وأوروبا . (صواب)
- ٢- أعلى قمة جبلية في العالم هي قمة جبل مون بلان . (خطأ)
- ٣- تعد قارة أوروبا أكبر قارات العالم مساحة . (خطأ)
- ٤- تقترب قارة آسيا من أمريكا الشمالية عند مضيق هرمز . (خطأ)
- ٥- استخراج المعادن من المصادر المهمة للدخل القومي . (صواب)
- ٦- تحاط قارة اسيا بالمحيطات من جميع الجهات . (خطأ)
- ٧- تبدو قارة أوروبا كأنها امتداد طبيعي لقارة آسيا من جهة الشرق . (خطأ)
- ٨- يعد مضيق الدردنيل من المواقع الاستراتيجية التي تشرف عليها قارة أوروبا . (صواب)
- ٩- تقع معظم قارة أوروبا في المنطقة الشمالية المعتدلة من الكرة الأرضية . (صواب)
- ١٠- ساعد الموقع الجغرافي لقارة أوروبا على سهولة التواصل الاقتصادي مع قارات العالم . (صواب)
- ١١- تنتشر التلال والهضاب قليلة الارتفاع في الجزء الشمالي من قارة أوروبا . (صواب)
- ١٢- تقع هضبة شبه الجزيرة العربية في شمال قارة آسيا . (خطأ)
- ١٣- يحتل نهر اليانجسي المركز الثالث عالميا من حيث امتداده . (صواب)
- ١٤- تعد سهول نهر الدانوب من السهول الصالحة للزراعة بقارة أوروبا . (صواب)
- ١٥- تعد دولة إندونيسيا أولى الدول الآسيوية إنتاجا للبتترول . (خطأ)
- ١٦- تُعد كازاخستان أولى دول قارة آسيا في إنتاج اليورانيوم . (صواب)
- ١٧- الصين من الدول المصدرة للحديد . (خطأ)
- ١٨- معظم الإنتاج الأوروبى من المنجنيز يأتي من روسيا . (خطأ)
- ١٩- تتصدر إندونيسيا دول قارة آسيا في إنتاج الكروم . (خطأ)
- ٢٠- تنتج قارة آسيا نصف الطاقة الكهرومائية عالميا . (صواب)
- ٢١- يعتبر النحاس والمنجنيز من أمثلة المعادن الأساسية ومعادن الصناعات الحديدية . (صواب)
- ٢٢- تعد الهند أولى دول قارة آسيا في إنتاج معدن النحاس . (خطأ)
- ٢٣- يرتفع إنتاج المعادن الخام فى قارة أوروبا عن قارة آسيا . (خطأ)
- ٢٤- يؤثر البترول بشكل كبير فى الاقتصاد العالمى والعلاقات الدولية . (صواب)
- ٢٥- يُعد البترول والغاز الطبيعي من مصادر الطاقة الأحفورية . (صواب)
- ٢٦- تحتل قارة آسيا المركز الأول عالمياً في إنتاج الغاز الطبيعي . (صواب)
- ٢٧- يأتي حوالي ثلثى الإنتاج العالمى من معدن النيكل من قارة أوروبا . (خطأ)
- ٢٨- كان للنشاط التعدينى دور فى حدوث التغيرات المناخية . (صواب)
- ٢٩- يأتي نصف الإنتاج العالمى من الطاقة الكهرومائية من قارة أوروبا . (خطأ)

تم تحميل هذه الأوراق مجاناً من
أكثر وأضخم مكتبة تعليمية
موقع وتطبيق مذكرات جاهزة

- ٣١- كان المجتمع الفينيقي مقسماً لطبقات مثل المجتمعين المصري والعراق القديم . (صواب)
- ٣٢- اهتم المصريون بانشاء المعابد والمراكز والحاميات العسكرية في بلاد الشام . (صواب)
- ٣٣- الاشوريين اول الشعوب التي سكنت جنوب بلاد العراق القديم على ضفاف نهر الفرات (خطأ)
- ٣٤- كانت سلطة الحكم في العراق القديم في يد بعض افراد الطبقة العليا من المجتمع . (صواب)
- ٣٥- جسد الفينيقيون معبوداتهم في صورة بشرية . (صواب)
- ٣٦- اهتم اهل اليمن قديماً بمشروعات الري وتربية الحيوانات . (صواب)
- ٣٧- طلب أهل بلاد اليمن القديم المساعدة من الروم لتخليصهم من حكم الاحباش . (خطأ)
- ٣٨- كان انهيار سد مأرب سبباً في ضعف مملكة سبأ . (صواب)
- ٣٩- كان الذهب على قائمة الواردات المصرية من بلاد اليمن قديماً . (خطأ)
- ٤٠- اعتمد اليمنيون القدماء في صناعة ملابسهم على الصوف والحريز . (خطأ)

السؤال الثالث : اختر الإجابة الصحيحة مما بين الأقواس

- ١- يفصل بين قارتي آسيا وأستراليا بحر (قزوين - تيمور - الصين - العرب)
- ٢- دائرة العرض الرئيسية المارة في قارة أوروبا (دائرة الاستواء - الدائرة القطبية الشمالية - مدار السرطان - الدائرة القطبية الجنوبية)
- ٣- يحد قارة آسيا من الشرق المحيط (الهندي - الأطلنطي - الهادي - القطبي الجنوبي)
- ٤- من الجزر الآسيوية التي تقع جنوب دائرة الاستواء بعض جزر (إندونيسيا - الفلبين - اليابان - مدغشقر)
- ٥- تعد قمة مون بلان جزءاً من سلسلة جبال (أورال - الألب - الهيمالايا - البرانس)
- ٦- يطلق على جبال الألب اسم جبال البرانس في دولة (إنجلترا - إيطاليا - أرمينيا - إسبانيا)
- ٧- يحد قارة آسيا من الجنوب (المحيط الهندي - المحيط الهادي - البحر المتوسط - البحر الأسود)
- ٨- تقترب قارة آسيا عند مضيق بيرنج من قارة (أوروبا - إفريقيا - أستراليا - أمريكا الشمالية)
- ٩- يقترب يابس قارة آسيا من يابس قارة أوروبا عند مضيق (باب المنذب - جبل طارق - بيرنج - البسفور)
- ١٠- تطل قارة أوروبا من جهة الغرب على (البحر المتوسط - البحر الأحمر - المحيط الأطلنطي - المحيط الهندي)
- ١١- تعد أحد الحضارات القديمة التي قامت في قارة أوروبا الحضارة (اليونانية - الهندية - الصينية - الفينيقية)
- ١٢- أعلى هضبة في العالم هي هضبة (الدكن - التبت - شبه الجزيرة العربية - الميزينا)
- ١٣- من الأنهار التي تجرى شمال قارة آسيا نهر (أوب - السند - الفرات - اليانغتسي)
- ١٤- يجرى نهر أمور في (سهل منشوريا - سهول سيبيريا - سهل الصين - السهل الأوروبي العظيم)

- ١٥- من الأنهار التي تجرى غرب قارة آسيا نهر (السند - اليانغتسي - ينسي - دجلة)
- ١٦- تقع هضبة الميزيتا في دولة (إسبانيا - النرويج - ألمانيا - فنلندا)
- ١٧- تنتج قارة آسيا أكثر من الإنتاج العالمي من الكروم . (ثلث - ربع - نصف - ثلثي)
- ١٨- تنتج قارة آسيا من التيتانيوم نسبة من الإنتاج العالمي . (نصف - خمسي - ربع - ثلث)
- ١٩- يدخل مصدر الطاقة في صناعة الصلب . (الفحم - البترول - الغاز الطبيعي - الرياح)
- ٢٠- تصدر دولة دول أوروبا في إنتاج البترول . (الصين - روسيا - الهند - السعودية)
- ٢١- ينتمي إلى المعادن النووية والاستراتيجية (الحديد - الكروم - اليورانيوم - البوكسيت)
- ٢٢- أولى دول قارة آسيا في إنتاج الحديد (الصين - الهند - تركيا - كازاخستان)
- ٢٣- يأتي معظم إنتاج قارة أوروبا في الحديد من دولة (فنلندا - ألمانيا - أوكرانيا - روسيا)
- ٢٤- تعد دولة كازاخستان أولى دول قارة آسيا إنتاجاً لمعدن (الحديد - اليورانيوم - التيتانيوم - النحاس)
- ٢٥- معظم إنتاج قارة أوروبا من المنجنيز يأتي من دولة (أوكرانيا - ألمانيا - فنلندا - روسيا)
- ٢٦- أولى دول قارة آسيا في إنتاج البترول (الصين - الهند - السعودية - إندونيسيا)
- ٢٧- تصدر دولة ألمانيا دول قارة أوروبا في إنتاج (طاقة الرياح والطاقة الكهرومائية - طاقة الرياح والطاقة الشمسية - الطاقة الشمسية والبترول - الطاقة الكهرومائية والغاز الطبيعي)
- ٢٨- أكبر الدول المنتجة لطاقة الرياح على مستوى العالم (روسيا - ألمانيا - الهند - الصين)
- ٢٩- تحتل الصين المركز الأول عالمياً في إنتاج (طاقة الرياح و الطاقة الشمسية - الطاقة الكهرومائية وطاقة الرياح - البترول والغاز الطبيعي - البترول والفحم)
- ٣٠- من مشكلات التعدين التي تظهر في قارة أوروبا على عكس قارة آسيا (التغيرات المناخية الناتجة عن النشاط التعديني - نقص التكنولوجيا الحديثة وتدريب العمالة - الارتفاع الكبير في تكاليف العمالة - عدم إصدار قوانين لحماية البيئة)
- ٣١- أقدم الحضارات في بلاد العراق القديم (السومرية - البابلية الأولى - الآشورية - الأكادية)
- ٣٢- استعان الملك نخاو للدوران حول أفريقيا ببشارة (فينيقيين - آشوريين - بابليين - سومريين)
- ٣٣- واجه العرب المسلمون عند فتح بلاد العراق (الروم - الفرس - الإغريق - السلوقيين)
- ٣٤- استقر الآشوريين في شمال بلاد العراق القديم واتخذوا من عاصمة لهم . (بابل - أكاد - آشور - قرطاج)
- ٣٥- استقر الفينيقيون على الشريط الساحلي البحر المتوسط (شرق - غرب - شمال - جنوب)
- ٣٦- تحكمت بلاد اليمن القديم في مضيق (هرمز - باب المندب - جبل طارق - تيران)
- ٣٧- كانت مدينة ريدان عاصمة مملكة في بلاد اليمن القديم . (معين - سبأ - حمير - بابل)
- ٣٨- كان النشاط الرئيسي لبلاد اليمن قديماً حرفة (الزراعة - الصناعة - التجارة - التعدين)



٣٩- أي مما يأتي كان يمثل أحد فروع السبئيين

(الحميريون - الاحباش - الفرس - الاشوريون)

٤٠- تولت الملكة بلقيس حكم مملكة

(اكسيوم - معين - الفرس - سبأ)

السؤال الرابع : اكتب ما تشير اليه كل عبارة من العبارات التالية

- ١- نعد أعلى قمة جبلية في العالم .
- ٢- سهل يقع في شرق قارة آسيا ويجري فيه نهر اليانجسي .
- ٣- بعد أكبر السهول الفيضية في قارة أوروبا .
- ٤- مجموعة من الجزر المتجاورة في منطقة مائية .
- ٥- مصطلح يُطلق على قارتي آسيا وأوروبا .
- ٦- تعد أكبر قارات العالم من حيث الامتداد الفلكي .
- ٧- أعلى وأضخم سلسلة جبلية في العالم .
- ٨- معدنان يعتمد عليهما في صناعة بطاريات السيارات الكهربائية .
- ٩- معدن يستخدم في صناعة الصواريخ والأجهزة الطبية المقاومة للتآكل .
- ١٠- طاقة نظيفة غير ملوثة للبيئة، وتنتج عن مصادر متجددة غير قابلة للنفاذ .
- ١١- قانون أصدره الاتحاد الأوروبي لضمان استدامة الموارد المعدنية للأجيال القادمة
- ١٢- مواد خام محدودة الوجود ذات أهمية اقتصادية كبيرة حيث تدخل في إنتاج الطاقة النظيفة .
- ١٣- معدن يتركز معظم إنتاجه في المناطق المدارية ويدخل في صناعة الألومنيوم .
- ١٤- من مصادر الطاقة الأحفورية الأقل تلويثاً للبيئة .
- ١٥- تستخدم أساليب تعدين حديثة وصديقة للبيئة، لتقليل التلوث البيئي وتحقيق الاستخدام الأمثل والمستدام للموارد الطبيعية .
- ١٦- مصطلح أطلق على بلاد العراق القديم لوقوعها بين نهري دجلة والفرات .
- ١٧- رموز تشبه رءوس المسامير كانت تكتب باستخدام أداة خشبية مدببة .
- ١٨- هرم مدرج يبني عليه معبد من الطوب الطيني .
- ١٩- نظام اعتمدت عليه بلاد العراق القديم في التبادل التجاري قبل استخدام النقود
- ٢٠- الدولة التي حكمت بلاد العراق القديم والشام بعد وفاة الاسكندر الأكبر .
- ٢١- تقويم وضعه اليمنيون واعتمدوا عليه في تحديد الفصول الزراعية .
- ٢٢- يطلق عليه الخط المسند وتتكون من ٢٩ حرفاً .
- ٢٣- أخصب مناطق اليمن وأكثرها صلاحية للزراعة .
- ٢٤- يساعد الملك في إدارة الدولة في بلاد اليمن قديماً .
- ٢٥- احدى حضارات بلاد اليمن القديم تمكن أهلها من السيطرة على حضارة سبأ .

السؤال الخامس : صوب ما تحته خط فيما يلي

١- تُعد قارة أوروبا أكبر قارات العالم من حيث المساحة .

٢- يحد قارة آسيا من الشرق المحيط الأطلنطي .

آسيا

المحيط الهادي

تم تحميل هذه الأوراق مجاناً من
أكبر وأضخم مكتبة تعليمية
موقع وتطبيق مذكرات جاهزة

جبال الاورال

الغربية

بحر تيمور

جبل طارق

جنوب

اليانجتسى

افرست

اسبانيا

الفولجا

فنلندا

النيكل

النحاس

المعادن الخفيفة

الصين

أور

عشتار

شمال

الاشورية

الفرس

الاحمر

قرناو

بالزراعة

٣- تُعد جبال الألب حداً فاصلاً بين قارتي آسيا وأوروبا .٤- تتنوع الحدود الشمالية لقارة آسيا بين حدود برية وحدود بحرية .٥- يفصل البحر الأسود بين قارة أستراليا وقارة آسيا .٦- تقترب قارة أوروبا من قارة إفريقيا عند مضيق باب المنذب .٧- تقع سهول نهر السند غرب قارة آسيا .٨- أطول أنهار قارة آسيا نهر أمور .٩- أعلى قمة جبلية في سلاسل جبال الهيمالايا هي قمة مون بلان .١٠- تقع جبال البرانس بين دولتي فرنسا والبرتغال .١١- يُعد نهر السين أطول أنهار أوروبا .١٢- تعتبر ألمانيا أولى دول قارة أوروبا إنتاجاً للكروم .١٣- تُعد إندونيسيا أولى دول قارة آسيا إنتاجاً للنحاس .١٤- يأتي من دولة روسيا أكثر من نصف إنتاج قارة أوروبا من معدن التيتانيوم .١٥- تحتل قارة آسيا المركز الأول بين قارات العالم في إنتاج بعض المعادن الاستراتيجية مثل البوكسيت .١٦- تعد كازاخستان أولى دول قارة آسيا في إنتاج البوكسيت .١٧- اتخذ السومريون من مدينة أشور عاصمة لهم .١٨- من أشهر المعبودات عند العراقيين القدماء بعل .١٩- استقر الاشوريين في وسط بلاد العراق القديم .٢٠- يعد الملك سرجون الثاني من أشهر ملوك الدولة الأكدية .٢١- استولى الروم على العراق بعد هزيمة الدولة السلوقية .٢٢- تطل بلاد اليمن على البحر المتوسط والمحيط الهندي .٢٣- اتخذت حضارة معين من مدينة مأرب عاصمة لهم .٢٤- اهتمت حضارة سبأ في بلاد اليمن القديم بالصناعة والتجارة .

السؤال السادس : بم تفسر ... ؟

١- الأهمية الإستراتيجية لموقع قارة آسيا .

لأنها تطل على مسطحات مائية مهمة - تشرف على ممرات ملاحية ذات أهمية إستراتيجية كبيرة مثل مضيق باب المنذب ومضيق هرمز .

٢- يختلف اتساع مساحة السهول الساحلية في قارة آسيا .

يرجع ذلك تبعاً لاقتراب او ابتعاد المرتفعات عن المسطحات المائية .

٣- لقارة أوروبا أهمية إستراتيجية .

لأنها تطل على مسطحات مائية مهمة وشرافها على ممرات ملاحية ذات أهمية إستراتيجية كبيرة مثل مضيق جبل طارق ومضيق البسفور ومضيق الدردنيل .

٤- تعرف هضبة التبت بسقف العالم . لأنها أعلى هضاب العالم .

- ٥- تأتي قارة اسيا فى المرتبة الأولى بين قارات العالم من حيث طول سواحلها .
بسبب اتساع مساحتها وكثرة الخلجان والاذرع المائية بها .
- ٦- يُطلق على قارتى آسيا وأوروبا مصطلح (أوراسيا) .
لان قارة أوروبا تبدو كأنها امتداد طبيعى لقارة اسيا من جهة الغرب .
- ٧- لموقع قارة آسيا أهمية اقتصادية كبيرة . بسبب
- الموقع الجغرافى الذى جعلها معبراً رئيسياً لطرق التجارة البرية والبحرية منذ العصور القديمة مثل طريق الحرير وطريق التوابل - الموقع الفلكى الذى أدى الى حدوث تنوع كبير فى مناخها وبالتالي تنوع النباتات الطبيعية والحيوانات والمحاصيل الزراعية .
- ٨- الأهمية الدينية لموقع قارة آسيا .
لانها مهد الديانات السماوية (اليهودية - المسيحية - الإسلام) - وتضم العديد من المواقع المقدسة ذات الأهمية الكبيرة مثل الكعبة المشرفة والمسجد الاقصى ومسجد قبة الصخرة وكنيسة المهد .
- ٩- للموقع الجغرافى لقارة أوروبا أهمية اقتصادية .
بسبب موقعها الجغرافى الذى ساعد على سهولة التواصل الاقتصادى بينها وبين باقى قارات العالم وموقعها الفلكى الذى ساعد على تنوع مناخها .
- ١٠- تستورد الصين الحديد رغم إنتاجها له . لتغطية استهلاكها .
- ١١- قلة إنتاج البوكسيت فى قارة أوروبا .
بسبب عدم توافر المناخ الملائم مثل المناخ المدارى اللازم لتكوين خام البوكسيت فى أوروبا حيث تقع معظم أراضيها فى المنطقة المناخية المعتدلة الشمالية .
- ١٢- يستخدم التيتانيوم فى صنع الأجهزة الطبية .
لانه يتميز بخفة وزنه وصلابته العالية ومقاومته الكبيرة للتآكل .
- ١٣- ارتفاع إنتاج المعادن الخام فى آسيا عن أوروبا .
بسبب اتساع مساحة قارة اسيا مقارنة بقارة أوروبا - تنوع الصخور الموجودة فى اسيا - تعرض مساحات كبيرة من اسيا الى حركات باطنية قوية مقارنة باوروبا - نفاذ كميات كبيرة من الخامات المعدنية الأوروبية
- ١٤- نفاذ كميات كبيرة من الخامات المعدنية الأوروبية .
بسبب طول فترة الاستخراج التى بدأت مع الثورة الصناعية فى منتصف القرن الـ ١٨ م .
- ١٥- ارتفاع إنتاج قارة آسيا من الفحم .
بسبب توافر كميات كبيرة من الفحم فى القارة - الاعتماد على الفحم كمصدر رئيسى للطاقة المستخدمة فى عديد من الصناعات خاصة صناعة الصلب .
- ١٦- منافسة الغاز الطبيعى للبتروىل .
بسبب سهولة استخراجة وتكلفتها المنخفضة وقلة تلويثه للبيئة ورخص ثمنه .
- ١٧- الاهتمام المتزايد بالطاقة المتجددة فى العقود الأخيرة .
لانها طاقة نظيفة غير ملوثة للبيئة - تنتج عن مصادر متجددة غير قابلة للنفاذ - متوفرة فى معظم مناطق العالم - يساعد فى زيادة الاعتماد عليها فى انخفاض انبعاثات ثانى أكسيد الكربون .



١٨- إصدار الاتحاد الأوروبي قانون المواد الخام الحرجة .
لضمان استدامة الموارد المعدنية للأجيال القادمة .

١٩- استنزاف عديد من الموارد المعدنية في دولتي فرنسا وبريطانيا .

بسبب الاستخدام غير المستدام لها وطول فترة التعدين التي بدأت منذ الثورة الصناعية .

٢٠- لمعدن النيكل أهمية اقتصادية .

لانه يدخل في صناعة محركات الطائرات وبطاريات السيارات الكهربائية .

٢١- أهمية الفحم بالنسبة للصناعة .

لانه اعتمد على الفحم كمصدر رئيسي للطاقة المستخدمة في عديد من الصناعات خاصة صناعة الصلب .

٢٢- يتسم الإنتاج العالمي لقارة آسيا من الطاقة الكهرومائية بالضخامة .

بسبب كثرة الامطار والانهار في قارة اسيا .

٢٣- استخدام قارتي آسيا وأوروبا التقنيات الحديثة لمواجهة مشكلات التعدين .

لتقليل التأثيرات السلبية للتعدين على البيئة .

٢٤- يُعد البترول أحد أهم مصادر الطاقة الأحفورية في العالم .

لانه يستخدم بصورة أساسية في توليد الكهرباء وفي وسائل النقل - ويعد مادة خام للصناعات

البتروكيماوية الحديثة والصناعات المعدنية - يؤثر بشكل كبير في الاقتصاد العالمي والعلاقات الدولية .

٢٥- تزايد الاهتمام العالمي بالطاقة المتجددة .

لانها طاقة نظيفة غير ملوثة للبيئة - تنتج عن مصادر متجددة غير قابلة للنفاذ - متوفرة في معظم مناطق

العالم - يساعد في زيادة الاعتماد عليها في انخفاض انبعاثات ثاني أكسيد الكربون .

٢٦- نشأة الحضارات القديمة في قارة آسيا .

بسبب توافر العوامل مثل المياه العذبة والتربة الخصبة - التضاريس المتنوعة - توفير الموارد الطبيعية -

اعتدال المناخ .

٢٧- شهرة الملك حمورابي في تاريخ بلاد العراق القديم .

لانه انشأ امبراطورية واسعة - ووضع مجموعة من القوانين عرفت باسم تشريعات حمورابي .

٢٨- أهمية شيخ القبيلة عند بلاد اليمن . لانه يدير شئونها ويساعد الملك في إدارة الدولة .

٢٩- الغزو الحبشي لبلاد اليمن القديم . لانه ملك الحبشة خرج لليمن وهزم ذا نواس وسيطر على بلاد

اليمن بسبب اضطهاد ذا نواس للمسيحيين من اهل اليمن .

٣٠- ضعف وسقوط حضارة سبأ . بسبب انهيار سد مأرب وتحول طريق التجارة من البر الى البحر مما مهد

الطريق امام مملكة حمير بالسيطرة على جميع المناطق التابعة لسبأ .

السؤال السابع : ما النتائج المترتبة على ... ؟

١- امتداد السهول الفيضية في قارة أوروبا .

أدى الى سهولة الاتصال بين أجزاء القارة وتحقيق التنمية الزراعية بها .

٢- كثرة تعاريج سواحل قارة أوروبا . ساعد على انشاء الموانئ الطبيعية .

٣- لموقع الفلكي لقارة آسيا .

أدى الى حدوث تنوع كبير في مناخها وبالتالي تنوع النباتات الطبيعية والحيوانات والمحاصيل الزراعية .



٤- امتداد قارة أوروبا بأكملها في النصف الشمالي للكرة الأرضية .

ترتب على ذلك وقوع معظم القارة في المنطقة المناخية المعتدلة من الكرة الأرضية .

٥- لموقع الجغرافي لقارة أوروبا . ساعد على سهولة التواصل الاقتصادي بينها وبين باقى قارات العالم .

٦- لموقع الفلكي لقارة أوروبا . ساعد على تنوع مناخها .

٧- خفة وزن التيتانيوم وصلابته العالية، ومقاومته الكبيرة للتآكل .

أدى الى صناعة هياكل الطائرات والصواريخ والأجهزة الطبية من معدن التيتانيوم .

٨- الاستخدام غير المستدام وطول فترة التعدين للموارد المعدنية بدول غرب أوروبا .

أدى الى استنزاف عديد من الموارد المعدنية من دول غرب أوروبا مثل فرنسا وبريطانيا .

٩- النشاط التعديني بالنسبة للبيئة .

ترتب عليه حدوث تغيرات مناخية ناتجة عن انبعاث كميات كبيرة من غاز ثنائي أكسيد الكربون - تلوث مياه الامطار ومياه الأنهار والمياه الجوفية نتيجة استخدام المواد الكيماوية الضارة في عمليات التعدين السطحي والباطني .

١٠- اعتدال المناخ في قارة اسيا بالنسبة للحضارات القديمة بها .

ساعد على استقرار السكان واستغلالهم للموارد المتاحة .

١١- اتبع الاشوريين سياسة العنف ضد الشعوب التي احتلوها .

مما أدى الى ثورات متكررة أضعفت دولتهم .

١٢- الموقع الجغرافي لبلاد اليمن القديم على طرق التجارة .

ساعد على نشأة حضاراتها اذ مكنها اشرافها على البحر الأحمر والمحيط الهندي وتحكمها في مضيق باب المنذب من السيطرة على طرق التجارة القديمة .

١٣- اضطهاد الملك ذو نواس للمسيحيين من اهل اليمن .

أدى الى قيام ملك الحبشة للخروج الى اليمن وهزم ذا نواس وسيطر على بلاد اليمن القديم .

السؤال الثامن : دلل على صحة العبارات التالية

١- تمتلك قارة أوروبا موقعا مميزا بين قارات العالم . حيث يحدها شرقاً حدود برية ومائية مع قارة اسيا - وتقرب أوروبا من قارة افريقيا عند مضيق جبل طارق .

٢- تختلف مسميات جبال الألب من دولة لأخرى .

حيث تسمى جبال البرانس بين فرنسا واسبانيا - وجبال الالب الدينارية في شبه جزيرة البلقان .

٣- يوجد عديد من السهول الفيضية في قارة آسيا .

حيث يوجد بها السهول الشمالية (سيبيريا) ويجرى بها نهر اوب وينسى ولينا - وسهل الصين ويجرى بها نهر اليانجتسى - والسهول الغربية ويوجد بها نهري دجلة والفرات - والسهول الجنوبية ويجرى بها نهر السند .

٤- تتنوع الحدود الغربية لقارة آسيا .

يوجد حدود مائية على البحر الأحمر والبحر المتوسط والبحر الأسود - وحدود برية تتمثل معظمها في جبال اورال التي تفصلها عن قارة أوروبا .

٥- لقارة آسيا أهمية استراتيجية .

حيث تطل على مسطحات مائية مهمة بالإضافة الى اشرافها على ممرات ملاحية ذات أهمية استراتيجية كبيرة مثل مضيق باب المندب ومضيق هرمز .

٦- لقارة آسيا أهمية حضارية ودينية .

أهمية حضارية : حيث قامت بها العديد من الحضارات العريقة مثل حضارة بلاد الرافدين وفينيقيا والحضارة الصينية والهندية بالإضافة الى الحضارة الإسلامية .

أهمية دينية : تعد اسيا مهد للديانات السماوية (اليهودية والمسيحية والاسلام) وتضم العديد من المواقع المقدسة ذات الأهمية الكبيرة مثل المسجد الحرام وكنيسة القيامة .

٧- لقارة أوروبا أهمية حضارية .

حيث قامت العديد من الحضارات في قارة أوروبا مثل الحضارة اليونانية والرومانية كما قامت الحضارة الغربية الحديثة التي شهدت الثورة العلمية والصناعية .

٨- الصين تمثل ثروة معدنية كبيرة . حيث تعد أولى الدول إنتاجاً للحديد والنحاس والتيتانيوم والبوكسيت .

٩- ظل الفحم حتى بداية القرن الماضي المصدر الرئيسي للطاقة في العالم .

حيث كان يشكل ثلثي الطاقة المستخدمة في العالم وقد تراجعت نسبته تدريجياً حتى وصلت الى ربع الطاقة المستخدمة عام ٢٠٢٣ م ومن المتوقع ان تنخفض هذه النسبة في المستقبل .

١٠- تتبنى ألمانيا فكرة «طاقة بلا تلوث» داخل قارة أوروبا .

حيث تعد ألمانيا أولى الدول المنتجة في طاقة الرياح والطاقة الشمسية .

١١- يواجه النشاط التعديني العديد من المشكلات في قارتي آسيا وأوروبا .

حيث ينتج عن النشاط التعديني انبعاث كميات كبيرة من غاز ثاني أكسيد الكربون – استنزاف العديد من الموارد المعدنية من دو غرب أوروبا – ضعف التكنولوجيا المستخدمة في التعدين – الارتفاع الكبير في تكاليف الانتا ومنها ارتفاع تكاليف العمالية في أوروبا مقارنة بآسيا .

١٢- عرف نظام دولة المدينة في حضارات بلاد العراق القديم .

حيث كانت كل مدينة مستقلة ولها حاكم يجمع بين السلطتين السياسية والدينية ثم اصبح للعراق القديم حكومة مركزية بعد توحيدها على يد الأكاديين .

١٣- أمن سكان بلاد العراق القديم بفكرة تعدد المعبودات .

حيث قدسوا قوى الطبيعة – اعتقدوا في البعث والخلود – وضعوا الطعام والشراب في قبور موتاهم .

١٤- اهتم سكان بلاد اليمن القديم بالزراعة .

حيث زرع اهل اليمن الخضروات والفواكه والحبوب وفي السهول وعلى المدرجات الجبلية واهتموا بمشروعات الرى وتربية الحيوانات ووضعوا قانوناً لتنظيم الضرائب الزراعية .

١٥- برع اليمنيون القدماء في العمارة والفنون .

حيث شيّدوا الحصون والقلاع والمعابد – شيّدوا القصور المزخرفة التي تميزت بروعة التصميم والزخارف حيث كانت تدهن الأبواب والجدران والاسقف بالعاج والذهب والفضة والاحجار الكريمة – تفوقوا في انشاء السدود والحواجز المائية وبرزها سد مأرب .

السؤال التاسع : ما العلاقة بين ؟

- ١- السهل الأوروبي العظيم وتحقيق التنمية الزراعية .
 - ٢- النشاط التعدين والبيئة .
 - ٣- كثرة الأنهار في قارة آسيا وإنتاج الطاقة الكهرومائية .
 - ٤- التعدين وتلوث المياه الجوفية .
 - ٥- النيكل، والطاقة النظيفة .
 - ٦- قيام الثورة الصناعية بأوروبا، والخامات المعدنية .
 - ٧- الفينيقيون والابجدية الحديثة .
 - ٨- الموقع الجغرافي لبلاد اليمن القديم وطرق التجارة القديمة .
- ساعد الموقع الجغرافي لبلاد اليمن على نشأة حضاراتها وتحكمها في طرق التجارة القديمة .

السؤال العاشر : ما المقصود بكل من

- ١- أوراسيا . مصطلح يطلق على قارتى آسيا وأوروبا معاً .
- ٢- الارخبيل . مجموعة من الجزر المتجاورة في منطقة مائية .
- ٣- المواد الخام الحرجة . هي مواد خام محدودة الوجود ذات أهمية اقتصادية كبيرة، حيث تدخل في إنتاج الطاقة النظيفة .
- ٤- المناجم الخضراء . تستخدم أساليب تعدين حديثة وصديقة للبيئة لتقليل التلوث البيئي وتحقيق الاستخدام الأمثل والمستدام للموارد الطبيعية .
- ٥- بلاد الرافدين . مصطلح اطلق على بلاد العراق القديم لوقوعها بين نهري دجلة والفرات .
- ٦- الزقورة . هرم مدرج يبنى عليه معبد من الطوب الطيني .
- ٧- الكتابة المسمارية .
- ٨- التقويم السبئي . تقويم وضعه اليمنيون واعتمدوا عليه في تحديد الفصول الزراعية .



السؤال الحادي عشر : فى أى القارات توجد كل ظاهرة تضاريسية من الظواهر الآتية ... ؟

قارة اسيا

قارة أوروبا

قارة أوروبا

قارة اسيا

قارة اسيا

قارة أوروبا

قارة أوروبا

قارة اسيا

قارة اسيا

قارة اسيا

قارة أوروبا

قارة اسيا

١- سهول نهري دجلة والفرات .

٢- جبال الألب .

٣- جبال البرانس .

٤- نهر اليانغتسي .

٥- قمة إفرست .

٦- قمة مون بلان .

٧- جبال الألب الدينارية .

٨- جبال الهيمالايا .

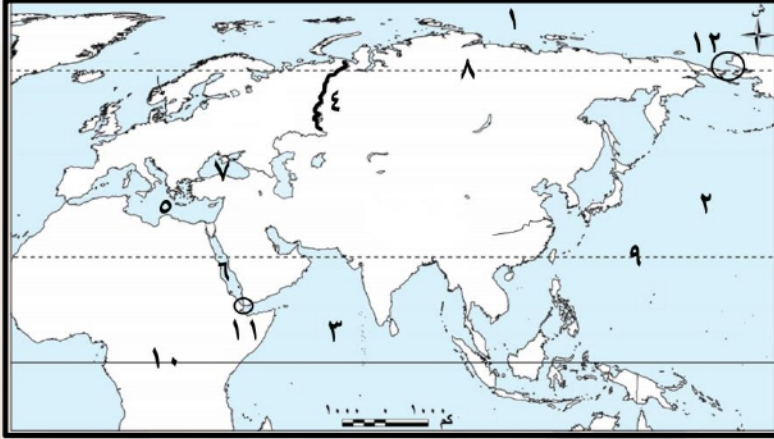
٩- سهل الصين .

١٠- أرخبيل اليابان .

١١- هضبة فرنسا الوسطى .

١٢- سهول سيبيريا .

السؤال الثانى عشر : أمامك خريطة صماء لمصر اكتب مدلول الأرقام عليها



١- يشير رقم (١) المحيط القطبى الشمالى .

٢- يشير رقم (٢) المحيط الهادى .

٣- يشير رقم (٣) المحيط الهندى .

٤- يشير رقم (٤) جبال اورال .

٥- يشير رقم (٥) البحر المتوسط .

٦- يشير رقم (٦) البحر الأحمر .

٧- يشير رقم (٧) البحر الأسود .

٨- يشير رقم (٨) الدائرة القطبية الشمالية .

٩- يشير رقم (٩) مدار السرطان .

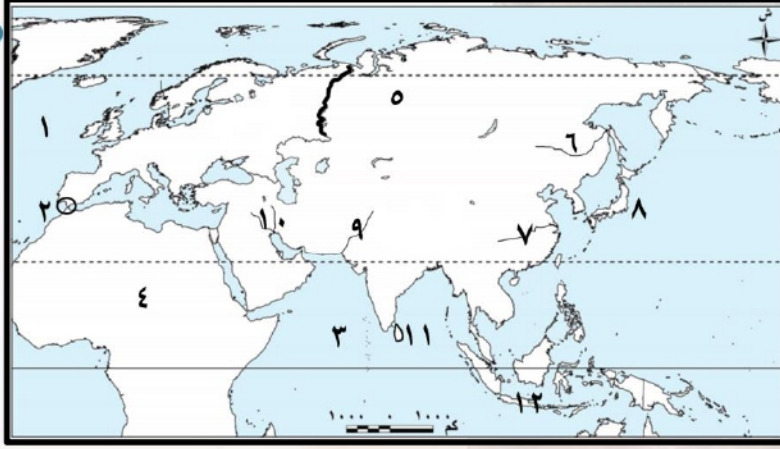
١١- يشير رقم (١١) مضيق باب المنذب .

١٠- يشير رقم (١٠) دائرة الاستواء .

١٢- يشير رقم (١٢) مضيق بيرنج .



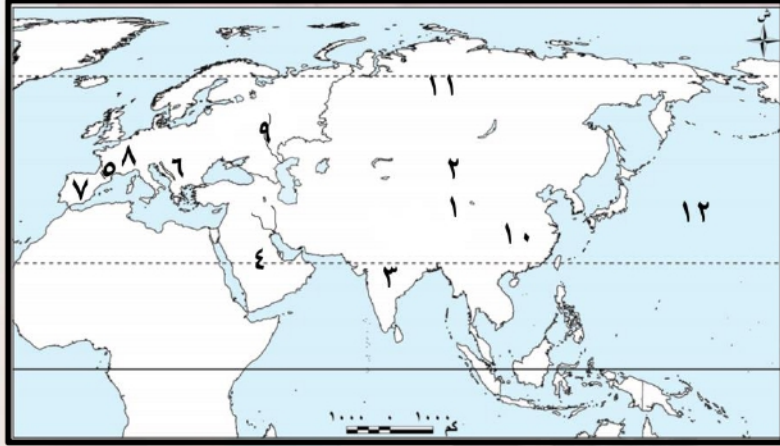
السؤال الثاني عشر : أمامك خريطة صماء لمصر اكتب مدلول الأرقام عليها



- ١- يشير رقم (١) المحيط الاطلنطي .
- ٢- يشير رقم (٢) مضيق جبل طارق .
- ٣- يشير رقم (٣) المحيط الهندي .
- ٤- يشير رقم (٤) قارة افريقيا .
- ٥- يشير رقم (٥) سهول سيبيريا .
- ٦- يشير رقم (٦) نهر أمور .
- ٧- يشير رقم (٧) نهر اليانغتسي .
- ٨- يشير رقم (٨) ارخبيل اليابان .
- ٩- يشير رقم (٩) نهر السند .
- ١١- يشير رقم (١١) جزيرة سيريلانكا .

- ١٠- يشير رقم (١٠) نهرا دجلة والفرات .
- ١٢- يشير رقم (١٢) ارخبيل اندونيسيا .

السؤال الثاني عشر : أمامك خريطة صماء لمصر اكتب مدلول الأرقام عليها



- ١- يشير رقم (١) جبال الهيمالايا .
- ٢- يشير رقم (٢) هضبة التبت .
- ٣- يشير رقم (٣) هضبة الدكن .
- ٤- يشير رقم (٤) هضبة شبه الجزيرة العربية .
- ٥- يشير رقم (٥) جبال البرانس .
- ٦- يشير رقم (٦) جبال الالب الدينارية .
- ٧- يشير رقم (٧) هضبة الميزيتا .
- ٨- يشير رقم (٨) هضبة فرنسا الوسطى .
- ٩- يشير رقم (٩) نهر الفولجا .
- ١١- أولى الدول انتاجاً لليورانيوم روسيا .

- ١٠- أولى الدول انتاجاً للحديد الصين .
- ١٢- يشير رقم (١٢) المحيط الهادى .

تطبيق



مذكرات جاهزة للطباعة

لتحميل الملفات التعليمية مجاناً للمعلم والطالب

مذكرات وملازم / مراجعات وملخصات / امتحانات / كتب الوزارة /
أدلة المعلم / دفاتر التحضير / سجلات مدرسية / أوراق تأسيس

امسح الكود بموبايلك علشان تقدر تثبت التطبيق

وتقدر ف أي وقت تحمّل ال نفسك فيه ببلاش

هيغنيك عن البحث والجروبات والقنوات الكثيرة

