

ستدياد

الابتدائي
الصف الخامس
5

الدراسات الاجتماعية 2026

مراجعة شهر أكتوبر

الفصل الدراسي الأول

الجزء الأول
مراجعة شهر أكتوبر (تشمل الوحدة الأولى)

أكمل العبارات الآتية بكلمات مناسبة:

- ١ تدور الأرض حول نفسها من إلى مرة كل ٢٤ ساعة.
- ٢ أكبر دوائر العرض الرئيسية هي
- ٣ يقسم الكرة الأرضية إلى نصف شرقي ونصف غربي.
- ٤ تساعدنا دوائر العرض في دراسة من حيث الحرارة والرياح والأمطار.
- ٥ تنقسم مظاهر السطح في مصر إلى وحدات تضاريسية.
- ٦ تمتد على جانبي نهر النيل السهول
- ٧ تحتوي الدلتا على حوالي نصف مساحة في مصر.
- ٨ يقع منخفض الفيوم في
- ٩ أكبر الوحدات التضاريسية في مصر
- ١٠ من أشهر المنخفضات في الصحراء الغربية منخفض ومنخفض
- ١١ يمتد بحر الرمال العظيم في الصحراء
- ١٢ يقطع وادي العريش هضبة
- ١٣ من الأودية الجافة في سيناء وادي
- ١٤ من أهم العوامل المؤثرة في مناخ مصر و و
- ١٥ تقع الأطراف الشمالية من مصر ضمن إقليم
- ١٦ تقوم الزراعة في المناطق الشمالية لمصر على
- ١٧ تتعامد الشمس على في فصل الشتاء بمصر.
- ١٨ تهب على مصر رياح الخماسين في فصل
- ١٩ تدور الأرض حول الشمس مرة كل يوم.
- ٢٠ النبات الذي ينمو دون تدخل الإنسان في زراعته يُسمى
- ٢١ استخدم المصري القديم نبات البردي في صناعة
- ٢٢ من الحيوانات التي تتحمل الجوع والعطش في الصحاري المصرية و و

اختر الإجابة الصحيحة من بين الإجابات المعطاة:

- ١ يقصد بـ خطوط الطول ودوائر العرض.
- ٢ تدور الأرض حول نفسها مرة كل
- ٣ دائرة العرض التي تقع عند $٢٣,٥^\circ$ شمالاً تُعرف باسم
- ١ خط جرينتش دائرة الاستواء مدار الجدي مدار السرطان
- ٢ ٢٤ يوم ٢٤ ساعة أسبوع سنة
- ١ الموقع الجغرافي المسطح المائي شبكة الإحداثيات التضاريس

- ٤ يمر مدار السرطان في مصر.
- أ) شمال ب) شرق ج) جنوب د) غرب
- ٥ يقع جبل موسى في
- أ) القاهرة ب) الصحراء الغربية ج) الدلتا د) شبه جزيرة سيناء
- ٦ تبدو الدلتا على شكل
- أ) مربع ب) مستطيل ج) مثلث د) دائرة
- ٧ تقع هضبة في شمال الصحراء الغربية.
- أ) العباددة ب) مارمريكا ج) التيه د) الجلف الكبير
- ٨ أعلى القمم الجبلية في سلسلة جبال البحر الأحمر قمة جبل
- أ) العوينات ب) شايب البنات ج) سانت كاترين د) موسى
- ٩ من الهضاب التي تمتد وسط شبه جزيرة سيناء هضبة
- أ) العباددة ب) المعازة ج) التيه د) الجلف الكبير
- ١٠ ساعد مناخ مصر على بقاء الآثار المصرية.
- أ) البارد ب) الحار ج) الجاف د) الرطب
- ١١ تتكون الثلوج على قمة جبل سانت كاترين في فصل
- أ) الشتاء ب) الربيع ج) الصيف د) الخريف
- ١٢ تقع معظم الأراضي المصرية ضمن الإقليم الصحراوي الحار نتيجة
- أ) موقعها الفلكي ب) مظاهر السطح ج) القرب أو البعد عن المسطحات المائية د) كل ما سبق
- ١٣ تهب رياح الخماسين على مصر في فصل
- أ) الصيف ب) الربيع ج) الخريف د) الشتاء
- ١٤ تتعامد الشمس على مدار الجدي فيكون فصل في مصر.
- أ) الصيف ب) الخريف ج) الشتاء د) الربيع
- ١٥ تتنوع النباتات الطبيعية بسبب
- أ) تنوع المناخ ب) تنوع البيئات ج) توفر موارد المياه د) جميع ما سبق
- ١٦ من الحيوانات البرية التي تنتشر في الوادي والدلتا
- أ) الذئاب ب) الغزلان ج) الزواحف د) الفهود
- ١٧ ينمو في الساحل الشمالي على البحر المتوسط
- أ) الخروع ب) المانجروف ج) الكافور د) البوص
- ١٨ يعيش طائر النورس في
- أ) الصحاري ب) المناطق الساحلية ج) الوادي د) الدلتا

٣ اكتب كلمة (صواب) أمام العبارة الصحيحة، وكلمة (خطأ) أمام العبارة غير الصحيحة:

- ١ خطوط الطول ودوائر العرض خطوط طبيعية توجد على الأرض. ()
- ٢ تمر الدائرة القطبية الشمالية جنوب دائرة الاستواء. ()
- ٣ تساعد خطوط الطول في معرفة أحوال المناخ. ()
- ٤ دوائر العرض غير متساوية في الطول، وأصغرها دائرة الاستواء. ()
- ٥ الأودية الجافة كانت أودية تملؤها المياه ثم جفت. ()
- ٦ توجد هضبة التيه في الصحراء الغربية. ()
- ٧ يوجد جبل الحلال شمال شبه جزيرة سيناء. ()
- ٨ الصحراء الشرقية غنية بالمعادن مثل: الذهب. ()
- ٩ يوجد وادي قنا في شبه جزيرة سيناء. ()
- ١٠ تمتد سلسلة جبال البحر الأحمر في شرق مصر. ()
- ١١ الطقس وصف لحالة الجو في فترة زمنية طويلة. ()
- ١٢ تتراكم الثلوج فوق جبل سانت كاترين في فصل الشتاء. ()
- ١٣ تقع المناطق الشمالية في مصر ضمن الإقليم الصحراوي الحار. ()
- ١٤ تتعاقب الفصول الأربعة بسبب دوران الأرض حول الشمس مرة كل $\frac{1}{4}$ ٣٦٥ يوم وربع. ()
- ١٥ تتلف المحاصيل الزراعية بسبب رياح الخماسين في فصل الشتاء. ()
- ١٦ المناخ يصف حالة الجو في فترة زمنية قصيرة. ()
- ١٧ تتنوع النباتات الطبيعية في مصر نتيجة تنوع المناخ والبيئات المصرية. ()
- ١٨ الصحاري المصرية غنية بالنباتات الطبيعية لكثرة الأمطار. ()
- ١٩ تنمو النباتات الرعوية في المناطق الساحلية وتصلح لرعي الحيوانات. ()

٤ اكتب ما تشير إليه كل عبارة:

- ١ موقع المكان بالنسبة لخطوط الطول ودوائر العرض. ()
- ٢ دائرة عرض تمر عند درجة ٢٣,٥° جنوب دائرة الاستواء. ()
- ٣ خط الطول الرئيسي، يقسم الأرض إلى نصفين شرقي وغربي. ()
- ٤ دائرة عرض رئيسية، تمر في جنوب مصر. ()
- ٥ تبدو على شكل مثلث، تكونت من رواسب فيضية عند مصب النهر. ()
- ٦ تعتبر أكبر الوحدات التضاريسية في مصر. ()
- ٧ مجار مائية كانت تملؤها المياه ثم جفت. ()
- ٨ أعلى قمة جبلية في سلسلة جبال البحر الأحمر. ()
- ٩ دوران الأرض حول الشمس مرة كل $\frac{1}{4}$ ٣٦٥ يوم وربع. ()
- ١٠ دوران الأرض حول نفسها مرة كل ٢٤ ساعة. ()
- ١١ فصل تهب فيه رياح الخماسين على مصر. ()

- ١٢ إقليم مناخي تقع فيه مدينة الإسكندرية.
١٣ تنوع الحياة النباتية والحيوانية على كوكب الأرض.
١٤ النبات الذي ينمو تلقائياً دون تدخل الإنسان في الزراعة.
١٥ استخدمه المصري القديم في صناعة الورق.

٥ صوّب ما تحته خط:

- ١ تمتد هضبة الجلف الكبير شمال الصحراء الغربية.
٢ شكلت التعرية الهوائية وادي النيل والأودية الجافة.
٣ تسقط الأمطار في فصل الشتاء في الإقليم الصحراوي الحار.
٤ المناخ وصف لحالة الجو في فترة زمنية قصيرة.
٥ من الحيوانات البرية في الوادي والدلتا الغزلان.
٦ قامت الدولة بإنشاء صوبات زراعية لحماية النباتات والحيوانات من الانقراض.

٦ اذكر سبباً واحداً لكل من:

- ١ تميّز منخفض الفيوم بأرضه الخصبة رغم وقوعه في الصحراء الغربية.
٢ أهمية الأودية الجافة.
٣ تركز السكان في بعض مناطق الصحراء الغربية.
٤ تكوّن سلسلة جبال البحر الأحمر.

٧ اذكر نتيجة واحدة لكل من:

- ١ وجود الآبار الجوفية للمياه العذبة في الصحراء الغربية.
٢ عوامل التعرية المائية.
٣ عوامل التعرية الهوائية.

٨ دلل على صحة العبارات الآتية:

- ١ تكثر الجبال في جنوب سيناء.
٢ يختلف منخفض الفيوم عن باقي منخفضات الصحراء الغربية.

٩ بم تفسر ...؟

- ١ أهمية خطوط الطول.
٢ أهمية دوائر العرض.
٣ وقوع معظم الأراضي المصرية في الإقليم الصحراوي الحار.
٤ تعاقب فصول السنة الأربعة.
٥ قيام الزراعة في إقليم البحر المتوسط.
٦ تنوع النباتات الطبيعية في مصر.
٧ أهمية النباتات الطبيعية والحيوانات البرية في مصر.
٨ اهتمام الدولة بإقامة المحميات الطبيعية.

١٠ ما النتائج المترتبة على ...؟

- ١ دوران الأرض حول نفسها من الغرب إلى الشرق كل ٢٤ ساعة.
٢ حلول فصل الشتاء في مصر.
٣ نشاط رياح الخماسين في فصل الربيع.
٤ تعرض النباتات الطبيعية والحيوانات البرية للانقراض في مصر.

١١ ما العلاقة بين ...؟

- ١ مدار السرطان وموقع مصر الفلكي.
٢ علم الفلك وبناء الأهرامات.
٣ الدلتا والزراعة في مصر.
٤ الحركات الانكسارية وجبال البحر الأحمر.
٥ الموقع الفلكي والمناخ في مصر.
٦ النبات الطبيعي وصناعة الأدوية.

١٢ قارن بين:

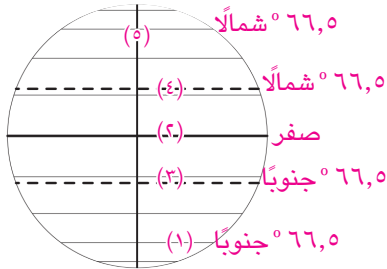
- ١ دوائر العرض وخطوط الطول.

- ١٣ إذا أقيمت مباراة لكرة القدم بين فريقى ليفربول وأرسنال في لندن الواقعة على خط جرينتش (صفر) الساعة ٩ مساءً، فمتى يشاهدها سكان مدينة تونس الواقعة على خط طول ١٠° شرقاً؟

١٤ صنف النباتات الطبيعية الآتية حسب المناطق التي تنمو بها:

- ١ البوص. ٢ النخيل والصبار. ٣ التين والزيتون.
٤ المانجروف. ٥ نبات البردي. ٦ التين الشوكي.

١٥ لاحظ الشكل الذي أمامك ثم أجب عن التالي:



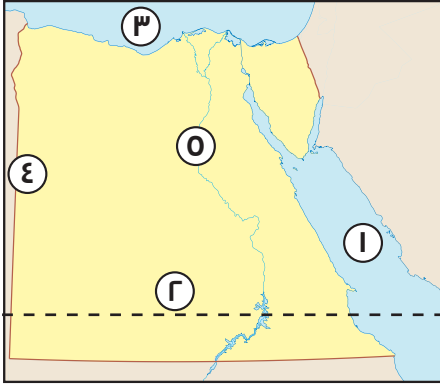
- ١ رقم (١) يشير إلى الدائرة
٢ رقم يشير إلى دائرة الاستواء.
٣ الدائرة التي درجتها ٢٣,٥° جنوباً تمثل رقم
٤ مدار السرطان يمثل رقم
٥ رقم (٥) يمثل خط

١٦ صنف الظواهر الجغرافية الآتية حسب القسم الذي تنتمي له:

- (فرع دمياط وفرع رشيد - جبل موسى - وادي قنا - هضبة الجلف الكبير - هضبة المعازة -
جبل شايب البنات - هضبة التيه - واحة سيوة - نهر النيل)

الوادي والدلتا ومنخفض الفيوم	الصحراء الغربية	الصحراء الشرقية	شبه جزيرة سيناء

١٧ أمامك خريطة صماء لمصر، وضع ما تدل عليه الأرقام الآتية:



أ

١ البحر

٢ مدار

٣ البحر

٤ خط طول

٥ نهر

ب

١ جبل

٢ البحر

٣ جبل

٤ جبال

٥ وادي

٦ هضبة

ج

١ الصحراء

٢ نهر

٣ إقليم مناخي

٤ جبل

٥ مدار

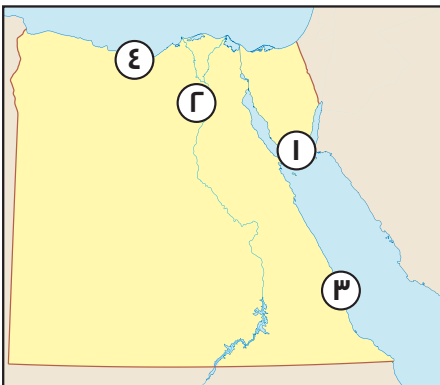
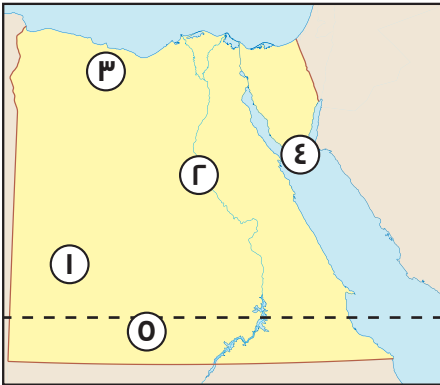
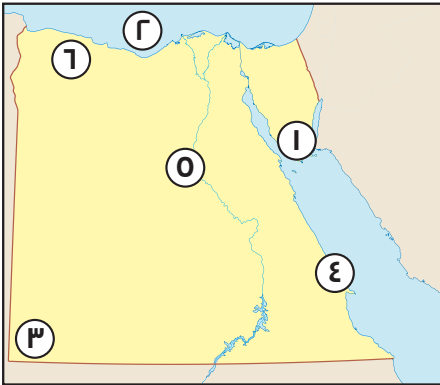
د

١ جبل

٢ نهر

٣ جبال

٤ إقليم مناخي



1 أكمل العبارات الآتية بكلمات مناسبة:

- 1 الغرب - الشرق. 2 دائرة الاستواء. 3 خط جرينتش. 4 المناخ. 5 أربع. 6 الفيضية. 7 الأرض الزراعية. 8 الصحراء الغربية. 9 الصحراء الغربية. 10 القطارة - سيوة. 11 الغربية. 12 التيه. 13 العريش. 14 الموقع الفلكي - القرب أو البعد عن المسطحات المائية - مظاهر السطح. 15 البحر المتوسط. 16 الأمطار الشتوية. 17 مدار الجدي. 18 الربيع. 19 ٣٦٥ يوم وربيع يوم. 20 النباتات الطبيعي. 21 الورد. 22 الإبل - الزواحف - الغزال.

2 اختر الإجابة الصحيحة مما بين الأقواس:

- 1 شبكة الإحداثيات. 2 ٢٤ ساعة. 3 مدار السرطان. 4 جنوب. 5 شبه جزيرة سيناء. 6 مثلث. 7 مارمرিকা. 8 شايب البنات. 9 التيه. 10 الجاف. 11 الشتاء. 12 موقعها الفلكي. 13 الربيع. 14 الشتاء. 15 جميع ما سبق. 16 الذئاب. 17 المانجروف. 18 المناطق الساحلية.

3 اكتب كلمة صواب أو خطأ:

- 1 خطأ 2 خطأ 3 خطأ 4 خطأ 5 صواب 6 خطأ 7 صواب 8 صواب 9 خطأ 10 صواب 11 خطأ 12 صواب 13 خطأ 14 صواب 15 خطأ 16 صواب 17 صواب 18 خطأ 19 صواب

4 اكتب ما تشير إليه كل عبارة:

- 1 الموقع الفلكي. 2 مدار الجدي. 3 خط جرينتش. 4 مدار السرطان. 5 الدلتا. 6 الصحراء الغربية. 7 الأودية الجافة. 8 شايب البنات. 9 الدورة السنوية. 10 الدورة اليومية. 11 الربيع. 12 البحر المتوسط. 13 التنوع البيولوجي. 14 النباتات الطبيعي. 15 نبات البردي.

5 صوب:

- 1 مارمرিকা. 2 التعرية المائية. 3 إقليم البحر المتوسط. 4 الطقس. 5 الذئاب. 6 المحميات الطبيعية. 7 أحب بنفسك.

7 أذكر نتيجة واحدة:

- 1 أدى إلى قيام النشاط الزراعي وتركز السكان. 2 تكونت السهول الفيضية والدلتا. 3 تكونت الكثبان الرملية مثل: بحر الرمال العظيم.

8 دل:

- 1 وجود جبل موسى وجبل سانت كاترين. 2 حيث يتميز بتربه الخصبة لوصول مياه نهر النيل والظمي إليه.

9 بم تفسر:

- 1 تحديد المواقع على سطح الأرض شرقاً وغرباً وتحديد الزمن وفروق التوقيت بين الدول. 2 تحديد المواقع شمالاً وجنوباً ودراسة المناخ من حيث حرارة ورياح وأمطار. 3 بسبب موقع مصر الفلكي. 4 بسبب دوران الأرض حول الشمس مرة كل ٣٦٥ وربع يوم. 5 لسقوط الأمطار في فصل الشتاء. 6 بسبب تنوع المناخ وتنوع الموارد المائية والبيئات المصرية. 7 توفر الغذاء للإنسان - تستخدم النباتات الطبيعية كغذاء للحيوانات البرية - تستخدم بعض النباتات الطبيعية في صناعة الأدوية والطور والمستحضرات - بعض الحيوانات تعمل على خصوبة التربة. 8 لحماية النباتات والحيوانات والأسماك النادرة من الانقراض.

10 ما النتائج:

- 1 أدى إلى شروق الشمس على الأماكن الواقعة شرق خط جرينتش قبل الواقعة غرب خط جرينتش. 2 وقوعها شمال دائرة الاستواء (نصف الكرة الشمالي) وشرق خط جرينتش في (نصف الكرة الشرقي) ويمر مدار السرطان جنوب مصر. وقوع معظم الأراضي المصرية في الإقليم الصحراوي الحار ما عدا الأطراف الشمالية تقع في إقليم البحر المتوسط. 3 انخفاض درجات الحرارة وسقوط الأمطار. 4 إصابة الإنسان ببعض الأمراض وتلف المحاصيل الزراعية. 5 أقامت الدولة العديد من المحميات الطبيعية.

11 ما العلاقة:

- 1 يمر مدار السرطان جنوب مصر بسبب موقعها الفلكي. 2 استخدام المصريون القدماء علم الفلك في بناء الأهرامات. 3 الدلتا تشكل حوالي نصف مساحة الأراضي الزراعية في مصر. 4 الحركات الانكسارية أدت إلى تكون جبال البحر الأحمر. 5 الموقع الفلكي لمصر أدى إلى وقوع معظم الأراضي المصرية ضمن مناخ الإقليم الصحراوي الحار.

- 6 تدخل بعض النباتات الطبيعية في صناعة الأدوية.

12: 14 أحب بنفسك.

10 أكمل الشكل:

- 1 الدائرة القطبية الجنوبية. 2 رقم ٢. 3 رقم ٣. 4 رقم ٤. 5 خط جرينتش.

16 أحب بنفسك.

17 الخريطة:

- 1 الأحمر. 2 السرطان. 3 المتوسط. 4 ٢٥ شرقاً. 5 النيل. 6 سانت كاترين. 7 المتوسط. 8 العيونات. 9 البحر الأحمر. 10 النيل. 11 مارمرিকা. 12 الغربية. 13 النيل. 14 البحر المتوسط. 15 سانت كاترين. 16 السرطان.

- 1 سانت كاترين. 2 النيل. 3 البحر المتوسط. 4 البحر الأحمر.

الجزء الثاني
أسئلة وإجابات التدريب الشهري من كتاب المدرسة

1 لاحظ الصورة أدناه، ثم أجب:



1 ما الحدث الذي يحتفل به العالم في 22 من شهر مايو من كل عام، ما دلالة ذلك في رأيك؟ **أجب بنفسك.**

2 ما المقصود بمصطلح التنوع البيولوجي؟
هو تنوع الحياة النباتية والحيوانية على كوكب الأرض وتنوع البيئات التي تعيش فيها.

3 اكتب أحد جهود الدولة للحفاظ على التنوع البيولوجي.
إصدار القوانين التي تجرم الرعي أو الصيد الجائر.

4 اكتب أحد الأخطار التي تهدد التنوع البيولوجي في مصر.
التوسع العمراني.

2 لاحظ الصورة أدناه، ثم أجب:

أ ما الحدث الذي يحتفل به العالم في 3 مارس من كل عام، وما دلالة ذلك في رأيك؟ **أجب بنفسك.**



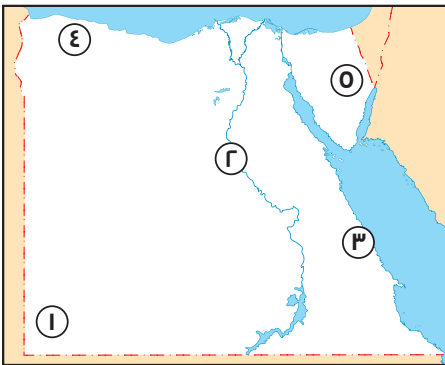
ب ما المقصود بمصطلح الحيوانات البرية؟

الحيوانات التي تعيش في بيئة طبيعية دون تدخل أو رعاية من الإنسان.
ج اكتب اثنين من الأخطار التي تواجه الحيوانات البرية في مصر.
الصيد الجائر / التغير المناخي.

د اكتب أحد جهود الدولة لحماية الحيوانات البرية.
إنشاء المحميات الطبيعية.

3 لاحظ خريطة مصر الصماء أدناه، ثم أجب:

أ اكتب كلمة (صح) أمام العبارة الصحيحة، وكلمة (خطأ) أمام العبارة غير الصحيحة، مع تصويبها:



يترك التصويب للطالب.

أ تقع هضبة الجلف الكبير في جنوب غرب القسم التضاريسي رقم (1).
(صح)

ب تكوّن المظهر التضاريسي رقم (2) نتيجة الحركات الإلتوائية.
(خطأ)

ج اشرح العلاقة بين المظهر التضاريسي رقم (3) ومناخ مصر.

يتأثر مناخ مصر بعدة عوامل منها مظاهر السطح ويمثل رقم (3) جبال البحر الأحمر والتي تؤثر في مناخ مصر.

د قيام الزراعة في المنطقة رقم (4). اذكر السبب. لوجود الأمطار الشتوية.

ه تعيش الأرناب البرية وطيائر النورس في المظهر التضاريسي رقم (5) دلل على صحة أو خطأ العبارة السابقة:


العبارة خطأ: لأنها تعيش في إقليم البحر المتوسط وليس الصحراوي.

٤ اختر الإجابة الصحيحة مما بين القوسين لكل عبارة من العبارات التالية:



١ يبدأ الفصل المناخي الذي تعبر عنه الصورة التي أمامك يوم

(٢١ مارس - ٢١ يونيو - ٢١ ديسمبر - ٢٣ سبتمبر)

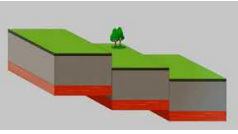


٢ يدخل النبات الطبيعي بالصورة التي أمامك في صناعة

(الحصير - الورق - الأصباغ - الزيوت)

٣ أي من التالي يعد أكبر دوائر العرض الرئيسية؟

(دوائر الاستواء - مدار السرطان - الدائرة القطبية الشمالية - مدار الجدي)



٤ تعد العوامل التي تعرضها الصورة التي أمامك مسئولة عن تشكيل

(الكثبان الرملية - الأودية الجافة - وادي النيل - جبال البحر الأحمر)

٥ بم تفسر ...؟

١ أهمية خطوط الطول.

تحديد الموقع على سطح الأرض / تحديد الزمن ومعرفة فرق التوقيت بين الدول.

٢ أهمية دوائر العرض.

تحديد الموقع على سطح الأرض / دراسة المناخ من حيث الحرارة والرياح والأمطار.

٣ يعد انخفاض سيوة من المنخفضات المأهولة بالسكان.

بسبب وجود المياه الجوفية.

٤ أهمية الأودية الجافة.

تستخدم في تخزين المياه عند حدوث السيول.

٥ تشكيل جبال البحر الأحمر.

بسبب الحركات الانكسارية.

٦ تعاقب فصول السنة الأربعة على مصر بانتظام.

بسبب دوران الأرض حول الشمس مرة كل ٣٦٥ يوم وربع يوم.

٧ تساقط الثلوج على جبال سانت كاترين.

لانخفاض درجات الحرارة لشدة ارتفاعه.

٨ قيام حرفة الزراعة في شمال مصر.

لأنها تعتمد على سقوط الأمطار الشتوية.

٩ الأهمية الاقتصادية لنبات البوص.

يستخدم في صناعة الحصير.

١٠ الأهمية الاقتصادية لنبات البردي.

يستخدم في صناعة الورق.

١٢ أهمية النباتات الطبيعية والحيوانات البرية. أجب بنفسك.

٦ ما النتائج المترتبة على ...؟

- ١ الموقع الفلكي لمصر بالنسبة للمناخ.
- ٢ وقوع معظم الأراضي المصرية في نطاق الإقليم الصحراوي الحار.
- ٣ تعامد أشعة الشمس على مدار السرطان يوم ٢١ يونيو.
- ٤ بداية فصل الصيف في مصر.
- ٥ امتداد ترعة بحر يوسف من نهر النيل لمنخفض الفيوم.
- ٦ وصول مياه نهر النيل إلى الفيوم و خصوبة التربة بها.
- ٧ وجود المياه الجوفية في منخفض البحرية.
- ٨ قيام الزراعة ووجود السكان.
- ٩ هبوب رياح الخماسين في فصل الربيع.
- ١٠ إصابة الإنسان ببعض الأمراض / تلف المحاصيل الزراعية.
- ١١ امتداد معظم الأراضي المصرية في الإقليم الصحراوي الحار.
- ١٢ شدة الحرارة صيفاً والبرودة شتاءً وندرة الأمطار.
- ١٣ تنوع المناخ والبيئات والموارد المائية بمصر.
- ١٤ تنوع النباتات الطبيعية والحيوانات البرية.

٧ دلل على صحة العبارات التالية:

- ١ تنوع مظاهر السطح بمصر.
 - ٢ الدليل وجود الجبال و الهضاب والسهول.
 - ٣ يغلب على الصحراء الغربية المظهر الهضبي.
 - ٤ لوجود هضبة الجلف الكبير في الجنوب وهضبة مارمريكا في الشمال.
 - ٥ تتعرض النباتات الطبيعية والحيوانات البرية لكثير من الأخطار.
 - ٦ لوجود الرعي الجائر والصيد الجائر والتغيرات المناخية.
 - ٧ تتعدد جهود الدولة لحماية النباتات الطبيعية والحيوانات البرية.
 - ٨ تؤثر دوائر العرض الرئيسية على المناخ.
 - ٩ تؤثر مظاهر السطح على مناخ مصر.
- أجب بنفسك.
- أجب بنفسك.
- أجب بنفسك.

٨ ماذا يحدث إذا ...؟

- ١ استقر طائر النورس في الصحاري المصرية.
- ٢ تعامدت الشمس على مدار الجدي يوم ٢١ يونيو بالنسبة لمصر.
- ٣ توقفت الأرض عن الدوران حول نفسها.
- ٤ كانت طبيعة جميع الأراضي المصرية مثل: طبيعة الوادي والدلتا ومنخفض الفيوم.
- ٥ أجب بنفسك.
- ٦ أجب بنفسك.
- ٧ أجب بنفسك.
- ٨ أجب بنفسك.

٩ قارن بين كل من:

- ١ خطوط الطول ودوائر العرض من حيث (التعريف - العدد - الأهمية).
 - ٢ الصحراء الشرقية والصحراء الغربية من حيث (أهم المظاهر التضاريسية - الأهمية الاقتصادية).
 - ٣ فصل الصيف وفصل الشتاء من حيث (تعامد الشمس - الخصائص المناخية).
 - ٤ إقليم مناخ البحر المتوسط والإقليم الصحراوي الحار من حيث (الامتداد - الخصائص المناخية).
 - ٥ الصحاري المصرية - المناطق الساحلية من حيث (النباتات الطبيعية - الحيوانات البرية).
- أجب بنفسك.
أجب بنفسك.
أجب بنفسك.
أجب بنفسك.
أجب بنفسك.

تطبيق



مذكرات جاهزة للطباعة

لتحميل الملفات التعليمية مجاناً للمعلم والطالب

مذكرات وملازم / مراجعات وملخصات / امتحانات / كتب الوزارة /
أدلة المعلم / دفاتر التحضير / سجلات مدرسية / أوراق تأسيس

امسح الكود بموبايلك علشان تقدر تثبت التطبيق

وتقدر ف أي وقت تحمّل ال نفسك فيه ببلاش

هيغنيك عن البحث والجروبات والقنوات الكثيرة

