


الدراسات الاجتماعية

الصف الخامس

مراجعة شهر أكتوبر

سمير الغريب مذكرات تعليمية

2026/2025



السؤال الأول: اكتب كلمة (صواب) أو كلمة (خطأ) أمام كل عبارة

- (1) تدور الأرض حول نفسها كل 24 ساعة من الشرق إلى الغرب. ()
- (2) تقع مصر في النصف الجنوبي للكرة الأرضية. ()
- (3) يمر مدار السرطان جنوب مصر. ()
- (4) تساعدنا شبكة الإحداثيات في السفر واكتشاف الأماكن. ()
- (5) يوجد فرق زمني 4 دقائق بين كل خط طول والخط الذي يليه. ()
- (6) خطوط الطول تساعد في دراسة المناخ والحرارة والمطر. ()
- (7) استخدم المصريون القدماء علم الفلك في تحديد المواقع. ()
- (8) أصغر الوحدات التضاريسية في مصر هي الصحراء الغربية. ()
- (9) تربة الدلتا ووادي النيل والفيوم تربة صخرية صلبة. ()
- (10) تتميز شبه جزيرة سيناء باستواء السطح وعدم وجود مرتفعات. ()
- (11) تكثر الأودية الجافة في الصحراء الشرقية لمصر. ()
- (12) تتميز أراضي جنوب سيناء بوعورة السطح. ()
- (13) تدور الأرض حول نفسها من الشرق إلى الغرب. ()
- (14) منخفض القطارة من المنخفضات المزدحمة بالسكان. ()
- (15) تساعدنا خطوط الطول في تحديد الموقع شرقاً وغرباً. ()
- (16) تمتد معظم الأراضي المصرية في الإقليم الصحراوي. ()
- (17) تدور الأرض حول نفسها من الشرق إلى الغرب. ()
- (18) منخفض القطارة من المنخفضات المزدحمة بالسكان. ()

اكتب كلمة (صواب) أو كلمة (خطأ) أمام كل عبارة

- () (19) الصحراء الشرقية أكبر أقسام سطح مصر من حيث المساحة.
- () (20) توجد هضبة مارمريكا في شمال الصحراء الغربية.
- () (21) الأودية الجافة كانت مجاري للمياه قديماً ولكنها جفت.
- () (22) لا تؤثر المرتفعات والمنخفضات والجبال على درجة الحرارة.
- () (23) تتعامد الشمس على مدار السرطان في فصل الصيف.
- () (24) تسبب رياح الخماسين تلف المحاصيل الزراعية.
- () (25) تقع مدينة الإسكندرية في الإقليم الصحراوي.
- () (26) يتميز إقليم البحر المتوسط باعتدال المناخ وسقوط الأمطار شتاءً.
- () (27) تتعامد أشعة الشمس على دائرة الاستواء مرتين في السنة.
- () (28) تدور الأرض حول الشمس مرة كل شهر.
- () (29) أقامت الدولة المحميات الطبيعية؛ لحماية الحيوانات البرية.
- () (30) إنقراض الحيوانات يهدد التنوع البيولوجي.
- () (31) ندرة المياه وارتفاع الحرارة يزيد من النباتات الطبيعية في الصحراء.
- () (32) أبو قردان طائر بري يعيش بالقرب من وادي النيل والدلتا.
- () (33) يتميز النبات الطبيعي في الصحاري بأنه قادر على التكيف.
- () (34) تنمو أشجار المانجروف على جوانب الترعرع في وادي النيل.
- () (35) تصدر الدولة القوانين لتجريم الرعي الجائر والصيد الجائر.
- () (36) تتميز أراضي جنوب سيناء باستواء السطح والمنخفضات.

السؤال الثاني: اختر الإجابة الصحيحة

- (1) الفرق بين كل خط طول وخط آخر هو مدة دقائق.
- (أ) ثلاث (ب) أربع (ج) خمس (د) ست
- (2) تُساعد خطوط الطول في تحديد
- (أ) درجة الحرارة (ب) الرياح (ج) كمية الأمطار (د) الزمن
- (3) دائرة العرض الرئيسية التي تقسم الأرض إلى نصفين شمالي وجنوبي هي
- (أ) دائرة الاستواء (ب) مدار السرطان (ج) مدار الجدي (د) خط جرينتش
- (4) نستفيد من في معرفة الوقت وتحديد الأماكن.
- (أ) دائرة الاستواء (ب) مدار السرطان (ج) مدار الجدي (د) خط جرينتش
- (5) يقسم خط (جرينتش) الأرض إلى نصفين
- (أ) شمالي وجنوبي (ب) شمالي وشرقي (ج) شرقي وغربي (د) جنوبي وغربي
- (6) أكبر الوحدات التضاريسية في مصر هي
- (أ) شبه جزيرة سيناء (ب) الصحراء الشرقية (ج) الصحراء الغربية (د) الدلتا
- (7) تشكل وادي النيل والدلتا والفيوم نتيجة
- (أ) التعرية المائية (ب) التعرية الهوائية (ج) تآكل الشواطئ (د) الحرارة
- (8) تبدو دلتا النيل على شكل
- (أ) دائرة (ب) مربع (ج) مستطيل (د) مثلث
- (9) يوجد وادي العريش في
- (أ) شبه جزيرة سيناء (ب) الصحراء الشرقية (ج) الصحراء الغربية (د) الدلتا
- (10) يبدأ وادي النيل في مصر من حدود مصر
- (أ) الشمالية (ب) الجنوبية (ج) الشرقية (د) الغربية
- (11) تتعامد أشعة الشمس على دائرة الاستواء في
- (أ) الصيف (ب) الشتاء (ج) الربيع والخريف (د) الصيف والشتاء
- (12) معظم أراضي مصر تقع في الإقليم
- (أ) الصحراوي الحار (ب) البحر المتوسط (ج) المداري (د) الاستوائي

اختر الإجابة الصحيحة

- (13) في فصل الربيع يسود مصر مُناخًا
 (أ) حارا (ب) باردا (ج) معتدلا (د) شديد البرودة
- (14) المدينة التي تشرق عليها الشمس أولا مدينة
 (أ) رفح (ب) بورسعيد (ج) دمياط (د) الإسكندرية
- (15) تقع مصر دائرة الاستواء.
 (أ) شمال (ب) جنوب (ج) شرق (د) غرب
- (16) من النباتات الطبيعية التي تنمو في الصحاري المصرية
 (أ) البوص (ب) البردي (ج) الصبار (د) المانجروف
- (17) من الأودية الجافة في الصحراء الشرقية وادي
 (أ) العريش (ب) فيران (ج) الفيوم (د) قنا
- (18) عندما تتعامد الشمس على مدار السرطان يبدأ في مصر فصل
 (أ) الربيع (ب) الخريف (ج) الصيف (د) الشتاء
- (19) تنشط رياح الخماسين في مصر في فصل
 (أ) الصيف (ب) الخريف (ج) الشتاء (د) الربيع
- (20) في فصل الشتاء تتكون الثلوج على قمم جبال
 (أ) العوينات (ب) سانت كاترين (ج) شايب البنات (د) الحلال
- (21) في مصر تنمو أشجار التين والزيتون في
 (أ) الصحراء الشرقية (ب) المناطق الساحلية (ج) الدلتا والفيوم (د) الصحراء الغربية
- (22) تحمي الدولة التنوع البيولوجي عن طريق
 (أ) قطع الغابات (ب) إزالة النباتات (ج) الرعي الجائر (د) المحمية الطبيعية
- (23) تتميز تربة وادي النيل والدلتا والفيوم بأنها تربة
 (أ) صخرية صلبة (ب) طينية خصبة (ج) رملية واسعة (د) جبلية واعرة
- (24) ينمو نبات البردي على
 (أ) مياه الأمطار (ب) قمم الجبال (ج) ضفاف النيل (د) سواحل البحار

السؤال الثالث: أجب عما يأتي

(1) حدد أوجه الشبه والاختلاف بين خطوط الطول ودوائر العرض

• الشبه
• الاختلاف

(2) بم تفسر: أهمية خطوط الطول؟

(3) اكتب دليلا على أهمية دوائر العرض.

(4) ماذا تتوقع في حالة عدم وجود خطوط طول ودوائر عرض؟

(5) اذكر سببا واحدا: معظم مناطق الصحراء الغربية مأهولة بالسكان.

(6) اكتب دليلا على أهمية الصحراء الشرقية.

(7) فسر أسباب تركيز السكان في منخفض سيوة، وندرته في منخفض القطارة.

(8) اكتب سبباً واحداً: أراضي منخفض الفيوم خصبة صالحة للزراعة.

(9) ما العلاقة بين السياحة ومظاهر السطح في مصر؟

(10) دلل على : تنوع مظاهر السطح في الصحراء الغربية.

(11) وضح أهمية الأودية الجافة.

(12) اذكر سببا واحدا لاعتدال درجة الحرارة في المناطق القريبة من البحر.

(13) ماذا تتوقع إذا وقعت مصر بالكامل في إقليم البحر المتوسط؟

أجب عما يأتي

(14) اكتب نتيجة واحدة تترتب على دوران الأرض حول الشمس.

(15) اكتب نتيجة واحدة تترتب على تعامد الشمس على مدار السرطان بالنسبة لمصر.

(16) اكتب نتيجة واحدة تترتب على هبوب رياح الخماسين.

(17) اكتب سبباً واحداً: النباتات الصحراوية لها جذور طويلة.

(18) اكتب نتيجة واحدة تترتب على قلة الأمطار وارتفاع درجة الحرارة في الصحراء.

(19) بم تفسر: تمتلك مصر ثروة نباتية وحيوانية متنوعة؟

(20) اكتب سبباً واحداً: تقوم الدولة بإنشاء المحميات الطبيعية.

(21) اكتب نتيجة واحدة: الرعي الجائر للحيوانات.

(22) دلل على صحة العبارة: (النباتات الطبيعية لها استخدامات كثيرة).

(23) ما الفرق بين: خطوط الطول ودوائر العرض؟

(24) ما النتيجة المترتبة على: دوران الأرض حول الشمس مرة كل عام؟

(25) ماذا يحدث إذا: تعامدت الشمس على مدار الجدي طول العام؟

السؤال الرابع: أكمل العبارات التالية بما يناسبها من كلمات

- (1) تشرق الشمس على المناطق الشرقية قبل المناطق
- (2) تُقسم الأرض إلى نصفين شمالي وجنوبي.
- (3) خط الطول الرئيسي (خط جرينتش) درجته
- (4) من أشهر هضاب الصحراء الغربية في الجنوب هضبة
- (5) الأراضي الخصبة التي كوَّنها النيل نتيجة ترسيب الطمي عند المصب هي
- (6) الدلتا أرض خصبها كونها النيل نتيجة ترسيب الطمي عند
- (7) يوجد جبال الحلال في شمال
- (8) نصف الأراضي الزراعية توجد في
- (9) دائرة العرض التي تمر جنوب مصر هي دائرة مدار
- (10) تتساقط الثلوج على جبال سانت كاترين في فصل
- (11) تقوم الزراعة في مصر في المناطق الشمالية على مياه
- (12) من الحيوانات البرية التي تعيش في الصحراء المصرية
- (13) تنمو أشجار النخيل والصابر في
- (14) من النباتات الشجرية التي تنمو في المناطق الساحلية

السؤال الخامس: ما المقصود ب...؟

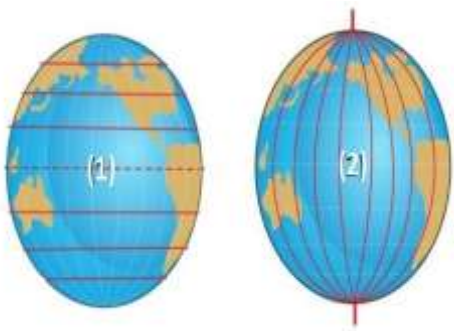
- (1) خطوط الطول:
- (2) الموقع الفلكي:
- (3) الأودية الجافة:
- (4) دلتا النيل:
- (5) الطقس:
- (6) المناخ:
- (7) الحيوانات البرية:
- (8) النبات الطبيعي:

السؤال السادس: اكتب ما تشير إليه العبارة

- (1) يُقصد بها خطوط الطول ودوائر العرض. (.....)
- (2) أنصاف دوائر رأسية تصل بين القطبين الشمالي والجنوبي. (.....)
- (3) هو الموقع بالنسبة لخطوط الطول ودوائر العرض. (.....)
- (4) يُقصد بها خطوط الطول ودوائر العرض. (.....)
- (5) أكبر الوحدات التضاريسية في مصر من حيث المساحة. (.....)
- (6) مساحة من الأرض لها نفس الخصائص المناخية. (.....)
- (7) دوران الأرض حول الشمس مرة كل 365 يوماً وربع. (.....)
- (8) رياح تنشط في فصل الربيع تضر الإنسان والمحاصيل. (.....)
- (9) نبات مائي ينمو على ضفاف النيل أستخدم في صناعة الورق. (.....)
- (10) الحيوان الذي يعيش في بيئة طبيعية دون رعاية من الإنسان. (.....)
- (11) تفاعل الكائنات الحية مع البيئة بطريق تحافظ على استمرارها. (.....)

السؤال السابع: اختر الإجابة الصحيحة

- (1) يمثل رقم (1) على الشكل
(خط جرينتش - دائرة الاستواء - مدار السرطان)
- (2) يمثل رقم (2) على الشكل
(خط جرينتش - دائرة الاستواء - مدار السرطان)

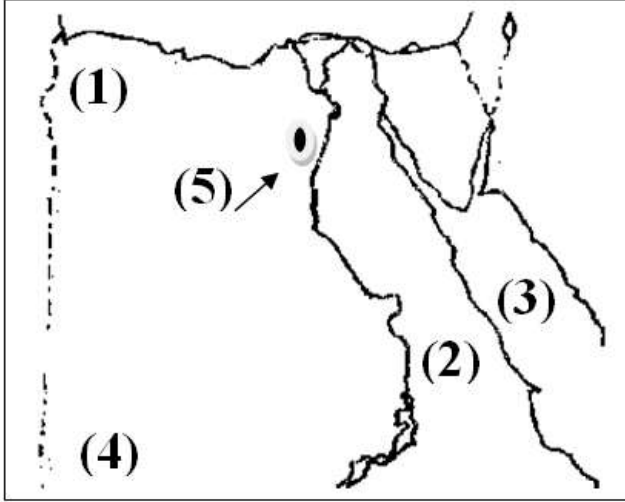
**السؤال الثامن: صوب ما تحته خط**

- (1) الموقع الجغرافي الموقع بالنسبة لخطوط الطول ودوائر العرض. (.....)
- (2) يمر مدار السرطان شمال مصر. (.....)
- (3) تتميز أراضي جنوب سيناء باستواء السطح. (.....)

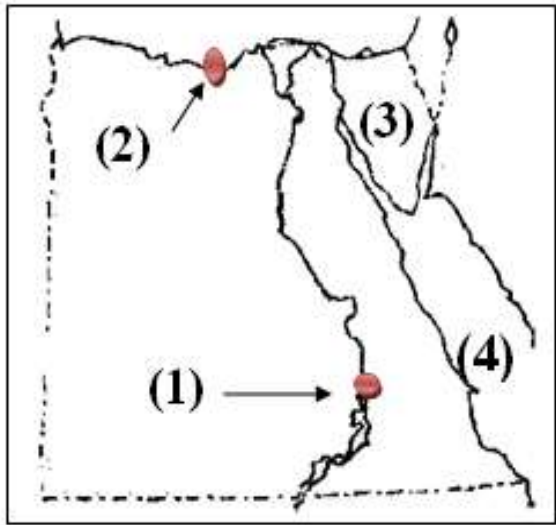
السؤال التاسع: استبعد الكلمة المختلفة

- (1) الإبل - الزواحف - أبو قردان - الغزلان. (.....)
- (2) الصبار - التين الشوكي - النخيل - البوص. (.....)

السؤال العاشر: (أ) اكتب مدلول كل رقم على الخريطة



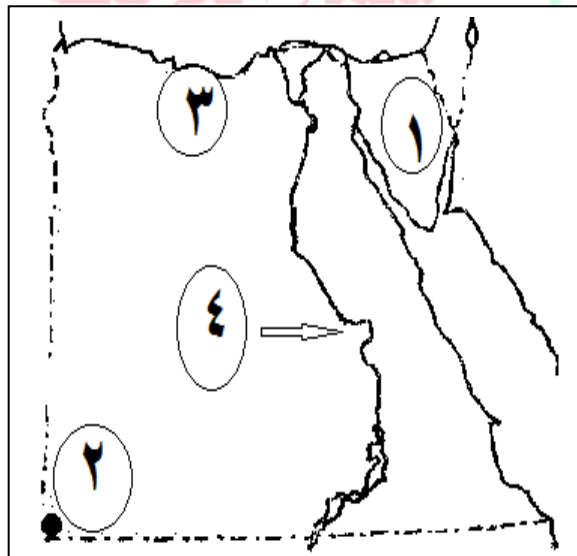
- رقم (1) هضبة
- رقم (2) الصحراء
- رقم (3) البحر
- رقم (4) جبل
- رقم (5) منخفض



(ب) اكتب مدلول كل رقم على الخريطة

- (1) المدينة رقم (1) تقع في الإقليم
- (2) المدينة رقم (2) تقع في إقليم
- (3) رقم (3) تشير إلى شبه جزيرة
- (4) يشير رقم (4) إلى البحر

(ج) لاحظ الخريطة المقابلة، ثم أجب



- (1) شبه جزيرة
- (2) جبل
- (3) إقليم مناخي
- (4) نهر


الدراسات الاجتماعية

الصف الخامس

الإجابة

سمير الغريب مذكرات تعليمية

2026/2025



السؤال الأول: اكتب كلمة (صواب) أو كلمة (خطأ) أمام كل عبارة

- | | | | | |
|--------|--------|--------|--------|--------|
| ✓ (5) | ✓ (4) | ✓ (3) | × (2) | × (1) |
| × (10) | × (9) | × (8) | ✓ (7) | × (6) |
| ✓ (15) | × (14) | × (13) | ✓ (12) | ✓ (11) |
| ✓ (20) | × (19) | × (18) | × (17) | ✓ (16) |
| × (25) | ✓ (24) | ✓ (23) | × (22) | ✓ (21) |
| ✓ (30) | ✓ (29) | × (28) | ✓ (27) | ✓ (26) |
| ✓ (35) | × (34) | ✓ (33) | ✓ (32) | × (31) |
| | | | | × (36) |

السؤال الثاني: اختر الإجابة الصحيحة

- | | | | | |
|--------|--------|--------|--------|--------|
| (5) ج | (4) د | (3) أ | (2) د | (1) ب |
| (10) ب | (9) أ | (8) د | (7) أ | (6) ج |
| (15) أ | (14) أ | (13) ج | (12) أ | (11) ج |
| (20) ب | (19) د | (18) ج | (17) د | (16) ج |
| | (24) ج | (23) ب | (22) د | (21) ب |

السؤال الثالث: أجب عما يأتي

(1) الشبه: تحديد المكان.

الاختلاف، خطوط الطول: تحدد الوقت، ودوائر العرض: دراسة المناخ.

(2) تحديد المواقع وفروق التوقيت.

(3) تحديد المواقع ودراسة المناخ.

(4) عدم معرفة الأماكن أو فروق التوقيت أو المناخ.

(5) لوجود المنخفضات والماء العذب والزراعة.

(6) غنية بالمعادن مثل: الذهب ويوجد بها حقول البترول والغاز الطبيعي.

- (7) وجود المياه العذب في سيوة، وندرة المياه العذبة في منخفض القطارة.
- (8) تصل إليه مياه النيل والطمي عن طريق ترعة بحر يوسف.
- (9) تنوع مظاهر السطح يجذب السياح.
- (10) وجود الجبال مثل: جبل العوينات، والهضاب مثل: الجلف الكبير.
- (11) تستخدم في تخزين المياه عند حدوث السيول.
- (12) بسبب الهواء البارد الذي يأتي من المسطحات المائية.
- (13) يكون المناخ حار وجاف صيفاً، ودافئ ممطر شتاءً.
- (14) تعاقب فصول السنة الأربعة بانتظام.
- (15) ترتفع درجة الحرارة خاصة على المناطق الداخلية وجنوب مصر.
- (16) تصيب الإنسان ببعض أمراض الجهاز التنفسي، وتضر المحاصيل
- (17) لتصل إلى المياه الجوفية.
- (18) قلة النباتات وقدرتها على التكيف مع الظروف المناخية الصعبة.
- (19) بسبب تنوع المناخ والبيئات وموارد المياه بها.
- (20) لحماية النباتات والحيوانات من الانقراض.
- (21) تدهور النباتات.
- (22) استخدم المصري القديم نبات البردي في صناعة الورق، والبوص في الحصر.
- (23) خطوط الطول: أنصاف دوائر رئيسية، ودوائر العرض: دوائر أفقية.
- (24) تعاقب فصول السنة الأربعة بانتظام.
- (25) يسود المناخ البارد في مصر، وتسقط الأمطار.

السؤال الرابع: أكمل العبارات التالية بما يناسبها من كلمات

- | | | |
|------------------|---------------------|-------------|
| (1) الغربية | (2) دائرة الاستواء | (3) صفر |
| (4) الجلف الكبير | (5) الدلتا | (6) المصب |
| (7) سيناء | (8) الدلتا | (9) السرطان |
| (10) الشتاء | (11) الأمطار | (12) الإبل |
| (13) الصحراء | (14) التين والزيتون | |

السؤال الخامس: ما المقصود ب...؟

- (1) خطوط الطول: أنصاف دوائر رأسية تصل بين القطبين الشمالي والجنوبي.
- (2) الموقع الفلكي: هو الموقع بالنسبة لخطوط الطول ودوائر العرض.
- (3) الأودية الجافة: أودية كانت تمتلئ بالمياه قديماً ثم جفت.
- (4) دلتا النيل: أرض خصبها كونها نهر النيل نتيجة ترسيب الطمي عند المصب.
- (5) الطقس: وصف حالة الجو خلال فترة زمنية قصيرة، يوم أو أسبوع أو شهر.
- (6) المناخ: وصف حالة الجو خلال فترة زمنية طويلة، قد تكون فصلاً أو سنة.
- (7) الحيوانات البرية: الحيوان الذي يعيش في بيئة طبيعية دون رعاية من الإنسان.
- (8) النبات الطبيعي: النبات الذي ينمو دون تدخل من الإنسان.

السؤال السادس: اكتب ما تشير إليه العبارة

- | | | |
|--------------------------|---------------------|---------------------|
| (1) شبكة الإحداثيات | (2) خطوط الطول | (3) الموقع الفلكي |
| (4) شبكة الإحداثيات | (5) الصحراء الغربية | (6) الإقليم المناخي |
| (7) الدورة السنوية للشمس | (8) رياح الخماسين | (9) نبات البردي |
| (10) الحيوان البري | (11) النظام البيئي | |

السؤال السابع: اختر الإجابة الصحيحة

- (1) دائرة الاستواء (2) خط جرينتش

السؤال الثامن: صوب ما تحته خط

- (1) الفلكي (2) جنوب (3) وعورة

السؤال التاسع: استبعد الكلمة المختلفة

- (1) أبو قردان (2) البوص

السؤال العاشر: (أ) اكتب مدلول كل رقم على الخريطة

- (1) مارماريكا (2) الشرقية (3) الأحمر (4) العينات (5) الفيوم

(ب) اكتب مدلول كل رقم على الخريطة

- (1) الصحراوي الحار (2) البحر المتوسط (3) سيناء (4) الأحمر

(ج) لاحظ الخريطة المقابلة، ثم أجب

- (1) سيناء (2) العينات (3) البحر المتوسط (4) النيل