

2026

سلسلة

البركان

في

الدراسات الاجتماعية

مراجعة

شهر

أكتوبر

أ / محمد عبد المعبود

01129903122

1 اعدادى





مراجعة شهر أكتوبر - أولى اعدادى

السؤال الأول : أكمل العبارات الاتية بما يناسبها من كلمات :

- ١- بحد قارة إفريقيا من الشمال
- ٢- تأتي قارة إفريقيا في المرتبة الثانية من حيث المساحة بعد قارة
- ٣- تقترب قارة إفريقيا من قارة آسيا عند مضيق
- ٤- تقع قارة إفريقيا إلى الشرق من المحيط
- ٥- تشرف قارة إفريقيا على ممر استراتيجي يقع في نصف الكرة الأرضية الغربي هو
- ٦- وصل المصريون القدماء إلى السودان وشرق إفريقيا وامتد التأثير الحضاري لهم إلى
- ٧- تعددت الممالك الإسلامية على السواحل الشرقية للقارة وامتدت إلى هضبة
- ٨- انتهت جهود الحملات الاستكشافية التي أرسلها محمد على لإفريقيا بالوصول إلى
- ٩- تنحدر هضبة البحيرات الاستوائية تجاه
- ١٠- تسقط الأمطار طوال العام على هضبة
- ١١- من الجبال الالتوائية في قارة إفريقيا
- ١٢- ارتبط بالأخدود الإفريقي العظيم ظهور مسطح مائي يحد مصر من جهة
- ١٣- تمتد جبال أطلس في ثلاث دول لذلك فهي تشبه جبال
- ١٤- يشبه جبل كلمنجارو في تكويناته البركانية تلك التكوينات السائدة في هضبة
- ١٥- ترتبط تربة مصر الطينية شديدة الخصوبة بالرواسب النهرية القادمة من
- ١٦- تضيق السهول الساحلية في بلاد
- ١٧- تتسع السهول الساحلية المطلة على المحيط الهندي في دولة
- ١٨- من الجهود المصرية لتحقيق التنمية المستدامة في إفريقيا إنشاء سد أوين في
- ١٩- ينبع نهر النيل من وسط وشرق قارة إفريقيا حتى يصل إلى مصبه في البحر
- ٢٠- تسقط الأمطار على هضبة الحبشة في فصل
- ٢١- أكثر الدول التي اهتمت بعقد اتفاقيات لتنظيم وإدارة وتنمية مياه النيل
- ٢٢- شكلت دول حوض النيل تجمعا يعرف باسم
- ٢٣- أسس الفينيقيين مدينة قرطاج لتأمين رحلاتهم التجارية من فينيقيا إلى
- ٢٤- يبدأ نهر النيل جنوباً حيث المناخ الاستوائي لينتهي عند البحر
- ٢٥- قامت مصر بإنشاء خزان جبل الاولياء في السودان لانتاج الطاقة
- ٢٦- اهتم الفنانون بمصر في عصر الدولة القديمة بنحت تماثيل النبلاء مثل تمثال
- ٢٧- ثانى ملوك الاسرة الرابعة في مصر القديمة هو الملك
- ٢٨- صاحب الهرم الأوسط هو الملك
- ٢٩- انتشرت بعض المعبودات المصرية في افريقيا مثل الصقر وخاصة في دولة
- ٣٠- احدى ملكات عصر الدولة الوسطى تولت حكم مصر عقب وفاة امنمحات الرابع الملكة
- ٣١- المدينة التي اتخذها الهكسوس عاصمة لهم في مصر هي
- ٣٢- سعى الملك كامس لقطع الامدادات التي كانت تصل الى الهكسوس من حاكم



- ٣٣- عرف عصر الدولة القديمة بمصر
- ٣٤- كلف الملك زوسر وزيره بتشيد هرم سقارة المدرج .
- ٣٥- ارسل الملك سنفرو اسطولاً تجارياً لجلب اخشاب شجر الأرز من
- ٣٦- أزال كهنة الاله حكم آخر ملوك الاسرة الرابعة .

السؤال الثاني : أكتب كلمة (صواب) أمام العبارة الصحيحة وكلمة (خطأ) أمام العبارة غير الصحيحة

- ١- تتسم سهول البحر الأحمر بالضيق . ()
- ٢- تقترب قارة إفريقيا من قارة أوربا عند مضيق باب المندب . ()
- ٣- يحد البحر المتوسط إفريقيا من جهة الشمال . ()
- ٤- يمر خط طول جرينتش شرق قارة إفريقيا . ()
- ٥- يقترب الياوس الإفريقي من الياوس الأوروبى عند مضيق جبل طارق . ()
- ٦- تقع كل الدول العربية التى توجد بقارة إفريقيا شمال دائرة الاستواء . ()
- ٧- تقع مصر فى الركن الشمالي الشرق من قارة إفريقيا . ()
- ٨- تعرضت شعوب قارة إفريقيا للاستعمار من قبل دول قارة أوروبا . ()
- ٩- تبذل مصر جهوداً مكثفة لتعميق العلاقات المصرية الإفريقية . ()
- ١٠- جميع الدول العربية الإفريقية تمتلك سواحل على مسطحات مائية . ()
- ١١- سهول البحر الأحمر الساحلية غنية بالثروات المعدنية ومصادر الطاقة . ()
- ١٢- تقع هضبة الحبشة غرب إفريقيا . ()
- ١٣- تنحدر الهضبة الجنوبية بشدة جهة المحيط الأطلنطي . ()
- ١٤- تعتبر هضبة البحيرات الاستوائية المنبع الدائم لنهر النيل . ()
- ١٥- تكونت جبال كينيا وكلمنجارو نتيجة الثورات البركانية . ()
- ١٦- ساهمت الطفوح البركانية فى ارتفاع خصوبة التربة بهضبة الصحراء الكبرى . ()
- ١٧- يُعد جبل شايب البنات أعلى قمة جبلية فى سلسلة جبال البحر الأحمر . ()
- ١٨- تظهر الجبال الالتوائية فى أقصى جنوب قارة إفريقيا . ()
- ١٩- تتسع السهول الساحلية الإفريقية المطلة على المحيط الأطلنطي . ()
- ٢٠- تقع سهول البحر الأحمر شرق إريتريا . ()
- ٢١- أعلنت هيئة اليونسكو أهرامات مروى بإريتريا أحد مواقع التراث العالمي . ()
- ٢٢- تحملت مصر تكاليف إنشاء خزان جبل الأولياء المقام فى السودان . ()
- ٢٣- يعد البخور والعاج من أبرز صادرات حضارة أكسوم وأعلاها قيمة اقتصادية . ()
- ٢٤- انتشرت عند حضارة كوش عبادة الإله آمون . ()
- ٢٥- تسقط الأمطار بغزارة فى الصيف على دولة إثيوبيا . ()
- ٢٦- كانت السودان هي صاحبة فكرة إنشاء تجمع يضم دول حوض نهر النيل . ()
- ٢٧- تصل لمصر كميات كبيرة من مياه هضبة البحيرات الاستوائية عبر نهر النيل . ()
- ٢٨- تعد هضبة الحبشة أكثر هضاب قارة إفريقيا ارتفاعاً . ()
- ٢٩- تمتد جبال البحر الأحمر فى ثلاث دول عربية . ()



- ٣٠- نشأت مدينة قرطاج لتحقيق أهداف تجارية . ()
- ٣١- يعتبر عصر الاسرة الثالثة والرابعة عصر البناء والتأسيس بمصر القديمة . ()
- ٣٢- من المواد المستخدمة في مقابر الملوك في العصر العتيق الحجر الجيري والطوب اللبن ()
- ٣٣- سمي عصر الدولة القديمة بعصر بناء الإمبراطورية . ()
- ٣٤- يعبر بناء الهرم الكامل عن تقدم المصريين القدماء في العمارة والفلك والهندسة . ()
- ٣٥- اهتم ملوك عصر بناء الاهرام ببناء المعابد الجنائزية ومعابد الالهة . ()
- ٣٦- ازدهر الادب الديني في عصر الدولة القديمة مثل نصوص الاهرام . ()
- ٣٧- اقام الملك زوسر هرمة المدرج بمنطقة هواره . ()
- ٣٨- كانت زيادة الأعباء على كاهل الفلاح المصري احد أسباب انهيار عصر الدولة القديمة ()
- ٣٩- انتشرت بعض المعبودات المصرية في افريقيا مثل الصقر (المعبود حورس) . ()
- ٤٠- انتشرت الالات الموسيقية المصرية في غرب افريقيا خلال عصر الدولة القديمة . ()
- ٤١- بدأ عصر الرخاء الاقتصادي على يد احد حكام مدينة (من - نفر) . ()
- ٤٢- قام ملوك الدولة الوسطى بتوسيع حدود مصر الجنوبية . ()
- ٤٣- استطاع الملك احمس الأول هزيمة الهكسوس وطردهم من البلاد . ()
- ٤٤- ساهمت قناة سيزوستريس في تنشيط حركة التجارة بمصر . ()
- ٤٥- اقام الملك امنمحات الأول سد اللاهون . ()

السؤال الثالث : اختر الإجابة الصحيحة مما بين الأقواس

- ١- استطاع ابن بطوطة خلال رحلته بقارة إفريقيا أن يخرق الصحراء الكبرى حتى وصل إلى
(نيجيريا - مالي - جزر القمر - أنجولا)
- ٢- نشأت حضارة قرطاج في (حاليا) .
(السودان - تونس - مصر - إثيوبيا)
- ٣- في عهد محمد على تم ترسيم خريطة النيل حتى جنوب
(الصومال - إثيوبيا - السودان - النيجر)
- ٤- تقع في الركن الشمالي الشرق من قارة إفريقيا دولة
(المغرب - مصر - الجزائر - ليبيا)
- ٥- يحد قارة إفريقيا من جهة الغرب
(البحر الأحمر - البحر المتوسط - المحيط الهندي - المحيط الأطلنطي)
- ٦- أي الدول التالية دولة عربية إفريقية ؟
(موزمبيق - جيبوتي - نيجيريا - تشاد)
- ٧- تقع قارة إفريقيا إلى الجنوب من
(البحر الأحمر - البحر المتوسط - المحيط الهندي - المحيط الأطلنطي)
- ٨- أي من الممرات المائية التالية تتحكم فيه الدولة المصرية ؟
(قناة السويس - مضيق جبل طارق - مضيق باب المندب - مضيق موزمبيق)
- ٩- تقع دولة جزر القمر في مدخل مسبق موزمبيق من ناحية
(الشرق - الغرب - الشمال - الجنوب)
- ١٠- تم رسم خريطة للنيل حتى جنوب السودان في عهد
(حر خوف - إسماعيل - نخاو الثاني - محمد على)



- ١١- من أوائل الرحالة العرب الذين زاروا قارة إفريقيا وكتبوا عنها
(هنرى الملاح - حر خوف - المسعودى - ابن بطوطة)
- ١٢- بدأ البرتغاليون محاولاتهم لاكتشاف إفريقيا في القرن الـ ١٥م خلال عهد
(محمد على - هنرى الملاح - الخديو إسماعيل - نحاو الثاني)
- ١٣- بدأ تأسيس مجموعة من الموانئ لتأمين الملاحة والتجارة على طول طريق رأس الرجاء الصالح على
يد (الإنجليز - الفرنسيين - الهولنديين - البرتغاليين)
- ١٤- تقع جزيرة مدغشقر فى
(البحر الأحمر - البحر المتوسط - المحيط الهندى - المحيط الأطلنطى)
- ١٥- توجد هضبة الشطوط فى دولة
(نيجيريا - مالي - الجزائر - أنجولا)
- ١٦- تنحدر الهضبة الجنوبية بشدة نحو السواحل (الشرقية - الغربية - الجنوبية - الشمالية)
- ١٧- المسطح المائى الذى تنحدر إليه أكبر هضاب إفريقيا مساحة هو
(البحر الأحمر - البحر المتوسط - المحيط الأطلنطى - المحيط الهادى)
- ١٨- يوجد على الحدود بين مصر وليبيا والسودان جبل
(العوينات - شايب البنات - توبقال - كلمنجارو)
- ١٩- تقع سهول نهر النيجر إلى الجنوب من هضبة
(الشطوط - الحبشة - البحيرات الاستوائية - شمال إفريقيا)
- ٢٠- أقام الكوشيون علاقات تجارية من جهة الشرق مع (مصر - قرطاج - أكسوم - اليونان)
- ٢١- تتعدد الواحات الصالحة للزراعة فى الصحراء الكبرى ومنها واحة سيوة فى دولة
(الجزائر - ليبيا - مصر - تونس)
- ٢٢- أعلى هضاب قارة إفريقيا هضبة
(الحبشة - البحيرات الاستوائية - شمال إفريقيا - الشطوط)
- ٢٣- تمتد فى أقصى جنوب شرق قارة إفريقيا جبال (أطلس - كينيا - كلمنجارو - دراكنزبرج)
- ٢٤- تنحصر بين سلاسل جبال أطلس هضبة (جنوب إفريقيا - الحبشة - البحيرات الاستوائية - الشطوط)
- ٢٥- من الجبال الالتوائية التى توجد فى قارة إفريقيا
(جبال أطلس - جبل كينيا - جبل كلمنجارو - جبال البحر الأحمر)
- ٢٦- تضيق السهول الساحلية فى بعض دول قارة إفريقيا ومنها دولة
(كينيا - تنزانيا - موريتانيا - أنجولا)
- ٢٧- تقع أكبر الجزر الإفريقية من حيث المساحة فى
(البحر الأحمر - البحر المتوسط - المحيط الأطلنطى - المحيط الهندى)
- ٢٨- من روافد المنابع الموسمية لنهر النيل
(نهر كاجيرا - نهر السوايط - بحيرة فيكتوريا - بحيرة البرت)
- ٢٩- أي من الأنهار الآتية ينتمى إلى المنابع الدائمة لنهر النيل ؟
(نهر السوبايط - نهر كاجيرا - النيل الأزرق - نهر عطبرة)
- ٣٠- الرافد الذى يلتقى ببحر الجبل فيساعده على الجريان جهة الشمال



- (نهر كاجيرا - نهر السوبات - نهر عطبرة - النيل الأزرق)
٣١- قامت مصر بإنشاء خزان سنار على النيل الأزرق لصالح دولة
(تنزانيا - السودان - أوغندا - كينيا)
- ٣٢- امتدت حضارة أكسوم الإفريقية في دولتي
(مصر والسودان - تونس والمغرب - إريتريا وإثيوبيا - إثيوبيا والسودان)
- ٣٣- يصب نهر كاجيرا في بحيرة فيكتوريا من جهة (الشرق - الجنوب - الغرب - الشمال)
- ٣٤- البحيرة التي تُعد ثاني أكبر البحيرات الطبيعية العنبة في العالم هي بحيرة
(تانا - ألبرت - كيوجا - فيكتوريا)
- ٣٥- إحدى دول منابع النيل ونشأ بها حضارة إفريقية قديمة (مصر - تونس - إثيوبيا - المغرب)
- ٣٦- من المشروعات التي أُقيمت على نهر النيل في منطقة المنابع الدائمة
(سد اوين - خزان سنار - خزان جبل الأولياء - السد العالي)
- ٣٧- ظهرت حضارة أكسوم بالمنطقة التي توجد بها حالياً دولتي إثيوبيا و
(أوغندا - إريتريا - تونس - كينيا)
- ٣٨- يرجع الفضل في تأسيس مدينة قرطاج إلى (المصريين - الفينيقيين - الكوشيين - الليبيين)
- ٣٩- معظم حضارات إفريقيا حضارات زراعية ولكن يخرج عنها حضارة
(كوش - أكسوم - قرطاج - مصر القديمة)
- ٤٠- يُطلق على تجمع دول حوض النيل اسم الأندوجو ويعني (المحبة - الصدق - الإخاء - العهد)
- ٤١- كانت مقبرة الملك خوفو عبارة عن (مصطبة واحدة - هرم مدرج - هرم كامل - حفرة عميقة)
- ٤٢- صاحب أول بناء حجري ضخم في التاريخ الملك (خفرع - زوسر - خوفو - اونس)
- ٤٣- أطلق لقب الملك المحسن المحبوب على مؤسس الأسرة الفرعونية
(الأولى - الثالثة - الرابعة - الخامسة)
- ٤٤- أرسل الملك سنfro حملة ليعيد الأمن لحدود مصر
(الشمالية - الشرقية - الغربية - الجنوبية)
- ٤٥- أرسل الملك سنfro أسطولاً بحرياً لاحتضار أخشاب شجر الأرز من
(الكونغو - بلاد بونت - فينيقيا - أوغندا)
- ٤٦- ازدهرت التجارة الخارجية لمصر في عهد الملك خوفو خاصة مع
(كوش - بونت - فينيقيا - ليبيا)
- ٤٧- استطاع الفنان المصري استخدام حجر الديوريت في نحت التماثيل بداية من
(عصر الدولة القديمة - العصر العتيق - عصر المجد الحربي - عصر الرخاء الاقتصادي)
- ٤٨- كان أوسر كاف كبيراً لكهنة المعبود (أتون - رع - آمون - أوزوريس)
- ٤٩- كل الملوك الآتية لهم الفضل في تأسيس أسرات فرعونية يخرج عنهم الملك
(زوسر - سنfro - خوفو - أوسركاف)
- ٥٠- سيطر رجال الدين بشكل كامل على مقاليد الحكم خلال عصر الدولة القديمة في عهد الأسرة
(الأولى - الثالثة - الرابعة - الخامسة)



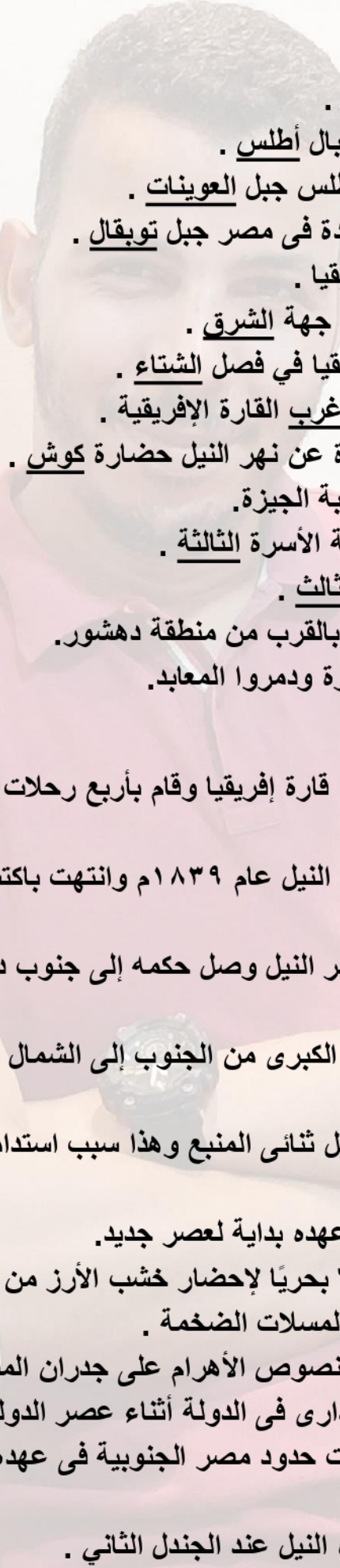
- ٥١- مجد الاسرة الحادية عشرة يتمثل في فترة حكم
- (امنمحات الأول - امنمحات الثالث - سنوسرت الثالث - منتوحتب الثاني)
- ٥٢- عمل الملك أمنمحات الأول على تأمين حدود الدلتا الغربية من غارات
- (القبائل الاسيوية - الليبيين - الهكسوس - امراء كوش)
- ٥٣- آخر حكام الاسرة الثانية عشرة
- (الملك سنفرو - الملك ايسماتيك - الملكة نفرتاري - الملكة سبك نفرو)
- ٥٤- يرمز اسم الاله سبك عند المصريين القدماء الى
- (القوة - الخصوبة - الموت - العدالة)
- ٥٥- اقام الملك
- مقاييس النيل عند الجندل الثاني .
- (نعرمر - احمس الأول - امنمحات الثالث - سنفرو)
- ٥٦- ارسل الملك امنمحات الثالث اربعاً وعشرين بعثة لاستخراج المعادن وقطع الأحجار من
- (شبه جزيرة سيناء - بلاد بونت - فينيقيا - الجيزة)
- ٥٧- كانت الامدادات التي تصل الى الهكسوس من ارض كوش يتم نقلها عبر
- (البحر الأحمر - البحر المتوسط - نهر النيل - الصحراء الشرقية)
- ٥٨- نجح الملك
- في قطع الامدادات القادمة من ارض كوش الى الهكسوس .
- (سنفرو - توت عنخ امون - كامس - رمسيس الثاني)
- ٥٩- أى من الملوك التاليين تُعد فترة حكمه بداية لمجد الأسرة الحادية عشرة ؟ الملك
- (منتوحتب الثاني - أمنمحات الأول - سنوسرت الثالث - أمنمحات الثالث)
- ٦٠- اهتم الملك منتوحتب الثاني بتجميل مدينة
- وإنشاء المعابد بها .
- (أواريس - إثيث تاوى - طيبة - «من نفر»)

السؤال الرابع : اكتب ما تشير اليه كل عبارة من العبارات التالية

- ١- مجموع الإنتاج الثقافي كالعلوم والفنون والإنتاج المادى كالقلاع والحصون .
- ٢- مجموعة انكسازات طولية تتجه من الجنوب إلى الشمال في شرق إفريقيا .
- ٣- كانت ذات أهمية حضارية حيث انتقلت عن طريقها الحضارة الإسلامية من آسيا لإفريقيا .
- ٤- مضيق تلتقى عنده قارتي إفريقيا وآسيا .
- ٥- إحدى جزر إفريقيا تقع شمال غرب جزيرة مدغشقر .
- ٦- انتقلت عن طريقها بعض الثقافات والحضارات من آسيا إلى إفريقيا كالحضارة الإسلامية .
- ٧- أكبر دول القارة الإفريقية من حيث المساحة .
- ٨- دول تطل على بحار ومحيطات .
- ٩- دول لا تطل على مسطحات مائية (البحار أو المحيطات) .
- ١٠- دولة تم انتخابها لرئاسة الاتحاد الإفريقي عام ٢٠١٩ م .
- ١١- مدينة بدأت فيها حضارة كوش قبل الانتقال إلى مروى .
- ١٢- سهول كونتها الأنهار عن طريق ترسيب المواد العالقة بمياهاها .
- ١٣- هضبة تنحدر بشدة نحو السواحل الشرقية وتقع جنوب إفريقيا .
- ١٤- جبال التوانية تمتد في سلسلتين متوازيتين على طول الساحل الشمالي الغربي لإفريقيا .



- ١٥- جبال انكسارية تمتد في ثلاث دول ويُعد جزء من الأخدود الإفريقي العظيم .
 - ١٦- سهول فيضية تمتد في مصر والسودان وتتميز بخصوبة تربتها .
 - ١٧- سهول ساحلية تقع شمال إفريقيا تتميز بوجود النباتات الطبيعية والمحاصيل الزراعية.
 - ١٨- سهول ساحلية تقع غرب إفريقيا وتتميز باتساعها.
 - ١٩- استثمار الموارد المائية بشكل يضمن تحقيق التنمية المستدامة والقضاء على الفقر
 - ٢٠- حضارة إفريقية أثرت في تاريخ القارة ولكنها لم ترتبط بنهر النيل .
 - ٢١- المساحة التي يجرى فيها النهر وروافده .
 - ٢٢- حضارة ظهرت في الساحل الشرقي لقارة إفريقيا .
 - ٢٣- النهر الذي يمتد مجراه وروافده في أكثر من دولة .
 - ٢٤- تجمع شكلته دول حوض النيل عام ١٩٨٣م يهدف الحفاظ على المصالح المشتركة
 - ٢٥- اقتصاد صديق للبيئة يستهدف تحقيق نمو اقتصادي مستدام مع الحفاظ على البيئة.
 - ٢٦- تمثال تم نحته في عصر الدولة القديمة يظهر بجسم أسد ليدل على القوة ورأس إنسان.
 - ٢٧- أصلب أنواع الأحجار الذي أستخدم في نحت التماثيل خلال عصر الدولة القديمة.
 - ٢٨- معابد مكشوفة تم تشييدها في أبي صير بالجيزة خلال عصر الأسرة الخامسة.
 - ٢٩- مجموعة نصوص دينية نقشت بالخط الهيروغليفي على جدران الحجرات الداخلية للأهرام.
 - ٣٠- عصر امتد من الأسرة السابعة حتى الأسرة العاشرة وتعرضت البلاد خلاله للانقسام والغارات الأجنبية.
 - ٣١- اتخذها الملك أمنمحات الأول عاصمة للبلاد ومعناها القابضة على الأرضين.
 - ٣٢- قناة مائية تم حفرها للربط بين البحر الأحمر والبحر المتوسط عن طريق نهر النيل.
 - ٣٣- سد أقيم عند مدخل بحيرة مورييس لتخزين مياه الفيضان .
 - ٣٤- اسم أطلق على عصر الدولة الوسطى لاهتمامهم بمشروعات الزراعة.
 - ٣٥- مدينة اهتم بها منتوحتب الثاني وبنى بها المعابد وجعلها عاصمة البلاد.
- السؤال الخامس : صوب ما تحته خط فيما يلي**
- ١- من الجبال البركانية في قارة إفريقيا جبال الكاب .
 - ٢- يحد قارة إفريقيا من الشرق البحر الأحمر والمحيط الأطلنطي .
 - ٣- امتد حكم الخديو إسماعيل حتى جنوب مدار الجدي .
 - ٤- يعتبر من الممرات الاستراتيجية ذات الإشراف الإفريقي الخالص مضيق باب المنذب .
 - ٥- اكتشف البريطانيون طريق رأس الرجاء الصالح .
 - ٦- نشأت حضارة كوش في الصومال .
 - ٧- أكثر الهضاب الإفريقية اتساعاً هي هضبة إثيوبيا .
 - ٨- تعد جزر القمر أكبر جزر قارة إفريقيا .
 - ٩- تعد صحراء كلهاري أكبر صحارى قارة إفريقيا .
 - ١٠- الهضبة التي ينعدم ارتباطها بنهر النيل هي هضبة البحيرات الاستوائية .



- ١١- يجرى نهر النيجر في شرق إفريقيا .
- ١٢- قامت مملكة كوش في شمال دولة تونس .
- ١٣- يرتبط بالأخدود الإفريقي العظيم ظهور جبال أطلس .
- ١٤- يمثل أعلى قمة جبلية في سلسلة جبال أطلس جبل العوينات .
- ١٥- من أهم القمم الجبلية الانكسارية الموجودة في مصر جبل توبقال .
- ١٦- يُعد جبل توبقال أعلى قمم جبال قارة إفريقيا .
- ١٧- يصب نهر كاجيرا في بحيرة فيكتوريا من جهة الشرق .
- ١٨- تأتي معظم مياه النيل من شرق قارة إفريقيا في فصل الشتاء .
- ١٩- قامت الحضارة المصرية القديمة بشمال غرب القارة الإفريقية .
- ٢٠- من الحضارات الإفريقية التي نشأت بعيدة عن نهر النيل حضارة كوش .
- ٢١- شيد الملك خوفو الهرم المدرج على هضبة الجيزة .
- ٢٢- ازداد نفوذ كهنة إله الشمس رع في نهاية الأسرة الثالثة .
- ٢٣- الملكة سبك نفرو ابنة الملك سنوسرت الثالث .
- ٢٤- انشأت الملكة إياح حتب هرمًا خاصًا بها بالقرب من منطقة دهشور .
- ٢٥- استولى الهكسوس على مدينة طيبة بالقوة ودمروا المعابد .

السؤال السادس : من أكون :

- ١- من أوائل المصريين القدماء الذين اكتشفوا قارة إفريقيا وقام بأربع رحلات كشفية للجنوب .
- ٢- حاكم مصرى أرسل رحلات لاكتشاف منابع النيل عام ١٨٣٩م وانتهت باكتشاف النيل الأبيض .
- ٣- أحد أحفاد محمد على اهتم باكتشاف منابع نهر النيل وصل حكمه إلى جنوب دائرة الاستواء .
- ٤- رحالة عربى استطاع أن يخترق الصحراء الكبرى من الجنوب إلى الشمال حتى وصل إلى مالى .
- ٥- عالم جغرافى مصرى أشار إلى أن نهر النيل ثنائى المنبع وهذا سبب استدامته ووصوله إلى مصر .
- ٦- قام بتوحيد مملكة الشمال والجنوب وكان عهده بداية لعصر جديد .
- ٧- مؤسس الأسرة الرابعة الذى أرسل أسطولاً بحرياً لإحضار خشب الأرز من فينيقيا .
- ٨- مؤسس الأسرة الخامسة وشيد العديد من المسلات الضخمة .
- ٩- آخر ملوك الأسرة الخامسة وأول من كتب نصوص الأهرام على جدران المقابر .
- ١٠- أعاد السلطة المركزية وأصلح النظام الإدارى فى الدولة أثناء عصر الدولة الوسطى .
- ١١- مؤسس الأسرة الثانية عشرة الذى وصلت حدود مصر الجنوبية فى عهده إلى الجندل الثانى .
- ١٢- أقام مقاييس لمراقبة ارتفاع منسوب مياه النيل عند الجندل الثانى .



- ١٣- أول ملكة مصرية يتم تسميتها على اسم الإله الذي يرمز للقوة .
١٤- بدأ النضال الحقيقي لتحرير البلاد من الهكسوس وقتل في ساحة المعركة .
١٥- تولت شؤون الحكم إلى حين عودة أبنائها منتصرين من حرب التحرير .

السؤال السابع : بم تفسر ... ؟

- ١- لموقع قارة إفريقيا أهمية استراتيجية .
٢- تقسيم إفريقيا لعدد كبير من الدول .
٣- تحكم قارة إفريقيا في أهم طرق الملاحة العالمية .
٤- الأهمية الاقتصادية لموقع قارة إفريقيا .
٥- لشبه جزيرة سيناء أهمية حضارية لإفريقيا .
٦- أسس البرتغاليون الموالى والمراكز التجارية على طريق رأس الرجاء الصالح .
٧- تعميق دور مصر الريادي في قارة إفريقيا عام ٢٠١٩ م .
٨- تكون الجليد فوق قمة جبل كلمنجارو .
٩- ارتباط النشاط السياحي بجبال قارة إفريقيا .
١٠- تميز هضبة الحبشة بخصوبة تربتها .
١١- تعد هضبة الحبشة المنبع الموسمي لنهر النيل .
١٢- تكون الأخدود الإفريقي العظيم .
١٣- يختلف اتساع السهول الساحلية بإفريقيا من منطقة لأخرى .
١٤- ضيق السهول الساحلية المطلة على البحر الأحمر .
١٥- تقل مساهمة المنابع الدائمة في مياه نهر النيل بمصر .
١٦- أهمية اتفاقية قانون تنظيم استخدام المجاري المائية في الأغراض غير الملاحية .
١٧- عقد كل من مصر وإثيوبيا والسودان اتفاقية ٢٠١٥ م .
١٨- بعد نهر النيل نهراً دولياً .



١٩- قيام مصر بمشروعات خارج حدودها على نهر النيل . .

٢٠- ظهور العديد من الحضارات القديمة في قارة إفريقيا .

٢١- تسمية العصر العتيق بعصر البناء والتأسيس .

٢٢- تميز العصر العتيق بالاستقرار وتحقيق الأمن .

٢٣- اهتمام ملوك العصر العتيق بالطرق الصحراوية .

٢٤- تسمية عصر الدولة القديمة بعصر بناء الأهرام .

٢٥- اهتمام المصري القديم بنحت التماثيل الملكية خلال عصر الدولة القديمة .

٢٦- عرف هرم سقارة بالهرم المدرج .

٢٧- تسمية الملك سنفرو بالملك المحسن المحبوب .

٢٨- قيام الملك أوناس بكتابة نصوص الأهرام على جدران حجرة الدفن داخل الهرم .

٢٩- قيام المصريين بثورة عارمة في أواخر عصر الدولة القديمة .

٣٠- اهتمام ملوك عصر الدولة الوسطى ببناء الحصون .

٣١- يعرف عصر الدولة الوسطى بعصر الرخاء الاقتصادي .

٣٢- تُعد فترة حكم الملك منتوحتب الثاني بداية لمجد الأسرة الحادية عشرة .

٣٣- قيام الملك أمنمحات الأول بنقل العاصمة إلى «إثيت تاوى» .

٣٤- قيام الملك أمنمحات الأول ببناء الحصون على الحدود الغربية للدلتا .

٣٥- قيام الملك سنوسرت الثالث بحفر قناة سيزوستريس .

٣٦- إنشاء الملك أمنمحات الثالث لصد اللاهون .

٣٧- سقوط وانهيار الدولة الوسطى .



السؤال السابع : ما النتائج المترتبة على ... ؟

- ١- الموقع الجغرافي لقارة إفريقيا .
- ٢- انتخاب مصر لرئاسة الاتحاد الإفريقي عام ٢٠١٩ م .
- ٣- اتصال إفريقيا بقارة آسيا عند شبه جزيرة سيناء استراتيجياً .
- ٤- تنوع المناخ في قارة إفريقيا .
- ٥- اهتمام محمد علي باكتشاف منابع النيل .
- ٦- تصارع الدول الاستعمارية على قارة إفريقيا .
- ٧- الطفوح البركانية في هضبة الحبشة .
- ٨- اقتراب جبال أطلس من ساحل البحر المتوسط .
- ٩- سقوط الأمطار طوال العام على هضبة البحيرات الاستوائية .
- ١٠- شدة ارتفاع جبال كلمنجارو .
- ١١- الثورانات البركانية قديماً في قارة إفريقيا (بالنسبة للتضاريس) .
- ١٢- سقوط الأمطار شتاءً على السهول الساحلية للبحر المتوسط .
- ١٣- اقتراب جبال البحر الأحمر من الساحل الشرقي لكل من مصر والسودان وإريتريا .
- ١٤- انتشار المستنقعات وزيادة معدلات البخر في هضبة البحيرات الاستوائية .
- ١٥- استقرار المصري القديم على ضفاف النيل .
- ١٦- موقع حضارة أكسوم الجغرافي .
- ١٧- الموقع الاستراتيجي لمدينة قرطاج .
- ١٨- نهر النيل نهر ثنائي المنبع .
- ١٩- حاجة الملك سنفرو إلى الأخشاب .



٢٠- زيادة نفوذ كهنة الإله رع في أواخر عصر الأسرة الرابعة.

٢١- وصول أوسركاف إلى الحكم .

٢٢- ضعف السلطة المركزية في نهاية عصر الأسرة السادسة .

٢٣- حالة الضعف التي امتدت من الأسرة السابعة حتى الأسرة العاشرة .

٢٤- قيام الملك سنوسرت الثالث بحفر قناة سيزوستريس .

٢٥- وصول الملكة سبك نفر و إلى حكم البلاد.

٢٦- ضعف الملوك في أواخر عصر الدولة الوسطى .

السؤال الثامن : دلل على صحة العبارات التالية

١- الأهمية الحضارية لقارة إفريقيا .

٢- الأهمية الاستراتيجية للموقع قارة إفريقيا .

٣- لم يكن للبرتغاليين السبق في الدوران حول إفريقيا .

٤- لشبه جزيرة سيناء أهمية استراتيجية .

٥- كان للتجار العرب دور في الكشوف الجغرافية لقارة إفريقيا .

٦- تتنوع مظاهر السطح على هضبة شمال إفريقيا .



٧- تختلف أجزاء سهول المحيط الهندي في الاتساع .

٨- تأثرت الأراضي المصرية بالأخدود الإفريقي العظيم .

٩- اهتمت مصر بزيادة مائية بحيرة فيكتوريا وبحيرة كيوجا .

١٠- تأثر الكوشيون بمظاهر الحضارة المصرية القديمة .

١١- كان لمصر دور مهم في تنمية مائية حوض النيل .

١٢- اهتمام ملوك العصر العتيق بالأنشطة الاقتصادية .

١٣- تعددت المواد المستخدمة في النحت بعصر الدولة القديمة .

١٤- تطورت مقابر الملوك في عصر الدولة القديمة .

١٥- برع الفنان المصري القديم خلال عصر الدولة القديمة في فن النحت .

١٦- براعة الفنان المصري القديم خلال عصر الدولة القديمة في فن النقش .

١٧- برع الفنان المصري القديم في فن الرسم خلال عصر الدولة القديمة .

١٨- وصل فن النحت إلى قمته في عهد الملك خفرع .

١٩- كان للملك أوناس دورًا في حفظ التراث الديني للمصريين القدماء .



٢٠- اهتم ملوك عصر الدولة القديمة باكتشاف القارة الإفريقية .

٢١- تأثر أمراء الكونغو بالحضارة المصرية القديمة.

٢٢- تنوع إنجازات الملك منتوحتب الثاني .

٢٣- اهتم كل من الملك سنوسرت الثالث والملك أمنمحات الثالث بمنطقة الجندل الثاني ولكن بشكل مختلف.

٢٤- تعددت أعمال آخر حكام الأسرة الثانية عشر المعمارية .

٢٥- لم يحترم الهكسوس الديانة المصرية القديمة .

٢٦- كان عصر الأسرة السابعة عشرة عصر الانتفاضة ضد الهكسوس .

٢٧- العبقرية العسكرية للملك كامس في مواجهته للهكسوس .

٢٨- لعبت الملكة إياح حتب دوراً مهماً في طرد الهكسوس .

٢٩- وجود علاقات تجارية بين ملوك مصر في عصر الدولة الوسطى وحضارة كوش بإفريقيا .

السؤال التاسع : ما العلاقة بين ... ؟

١- الاستعمار والحالة الاقتصادية في إفريقيا .

٢- الملك نخاو الثاني واكتشاف قارة إفريقيا .



٣- شبه جزيرة سيناء والأمن القومي المصري .

٤- الموقع الجغرافي لإفريقيا، والملاحة العالمية .

٥- العدد الكبير لدول قارة إفريقيا، والاستعمار الأوروبي .

٦- هضاب شرق ووسط إفريقيا ومائية نهر النيل في مصر .

٧- هضبة الحبشة والتربة في مصر .

٨- الأخدود الإفريقي العظيم، وتشكيل سطح قارة إفريقيا .

٩- الجبال والسهول الساحلية في شمال قارة إفريقيا .

١٠- نهر النيل وقيام الحضارات في قارة إفريقيا .

١١- الفينيقيين وحضارة قرطاج .

١٢- الملك زوسر والعمارة الملكية .

١٣- الملك أوناس، والأدب الديني في مصر القديمة .

١٤- ملوك الأسرة الحادية عشرة، ووحدة البلاد .

١٥- الملك أمنمحات الثالث، واتساع مساحة الأراضي الزراعية .

١٦- أمراء طيبة، والهكسوس .



السؤال العاشر : ما المقصود بكل من

١- الحضارة .

٢- الأهمية الاستراتيجية .

٣- الدول الساحلية .

٤- الدول الحبيسة .

٥- الجبل البركاني .

٦- الاقتصاد الأزرق .

٧- النهر الدولي .

٨- الأندوجو .

٩- حوض نهر النيل .

١٠- الاقتصاد الأخضر .

١١- متون الأهرام .

١٢- عصر الاضمحلال .

١٣- الهكسوس .

السؤال الحادي عشر : ماذا يحدث إذا..؟

١- لم تتعرض قارة إفريقيا لثورانات بركانية .

٢- اقتصرت منابع نهر النيل على هضبة البحيرات الاستوائية .

٣- لم يتعرض سطح إفريقيا لحركات التوائية .

٤- لم ينقل الطمي من هضبة الحبشة إلى مصر والسودان .

٥- كانت هضبة البحيرات الاستوائية تنحدر نحو الجنوب .

٦- استغلت قارة إفريقيا مواردها الطبيعية بشكل صحيح .

السؤال الثاني عشر : في عهد من بنيت المنشآت الآتية ..؟

١- الهرم المدرج .

٢- الهرم الأوسط .

٣- معابد الشمس .

٤- قناة سيزوستريس .

٥- حصني سمنا وقمنة .

٦- سد اللاهون .

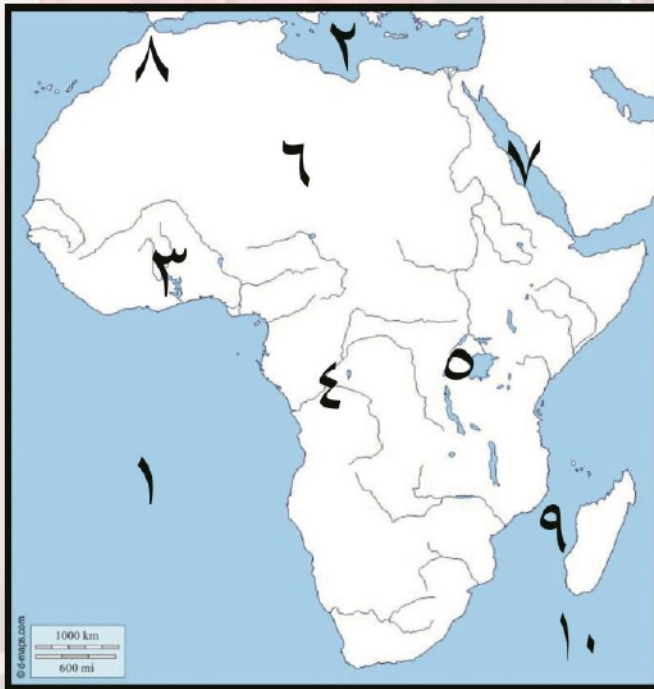


السؤال الثالث عشر : أمامك خريطة صماء لمصر اكتب مدلول الأرقام عليها



- ١- يشير رقم (١) جبال
- ٢- يشير رقم (٢) هضبة
- ٣- يشير رقم (٣) بحيرة
- ٤- يشير رقم (٤) جزيرة
- ٥- يشير رقم (٥) النيل
- ٦- يشير رقم (٦) مدار
- ٧- يشير رقم (٧) نهر
- ٨- يشير رقم (٨) حضارة
- ٩- يشير رقم (٩) جبال
- ١٠- يشير رقم (١٠) جزر

السؤال الثاني عشر : أمامك خريطة صماء لمصر اكتب مدلول الأرقام عليها



- ١- يشير رقم (١) المحيط
- ٢- يشير رقم (٢) البحر
- ٣- يشير رقم (٣) نهر
- ٤- يشير رقم (٤) نهر
- ٥- يشير رقم (٥) هضبة
- ٦- يشير رقم (٦) هضبة
- ٧- يشير رقم (٧) البحر
- ٨- يشير رقم (٨) مضيق
- ٩- يشير رقم (٩) مضيق
- ١٠- يشير رقم (١٠) المحيط



مراجعة شهر أكتوبر - أولى اعدادى

السؤال الأول : أكمل العبارات الاتية بما يناسبها من كلمات :

- ١- بحد قارة إفريقيا من الشمال **البحر المتوسط** .
- ٢- تأتي قارة إفريقيا في المرتبة الثانية من حيث المساحة بعد قارة **آسيا** .
- ٣- تقترب قارة إفريقيا من قارة آسيا عند مضيق **باب المندب** .
- ٤- تقع قارة إفريقيا إلى الشرق من المحيط **الاطلنطى** .
- ٥- تشرف قارة إفريقيا على ممر استراتيجي يقع في نصف الكرة الأرضية الغربي هو **جبل طارق** .
- ٦- وصل المصريون القدماء إلى السودان وشرق إفريقيا وامتد التأثير الحضاري لهم إلى **غرب إفريقيا** .
- ٧- تعددت الممالك الإسلامية على السواحل الشرقية للقارة وامتدت إلى هضبة **البحيرات الاستوائية** .
- ٨- انتهت جهود الحملات الاستكشافية التي أرسلها محمد على لإفريقيا بالوصول إلى **جنوب السودان** .
- ٩- تنحدر هضبة البحيرات الاستوائية تجاه **الشمال** .
- ١٠- تسقط الأمطار طوال العام على هضبة **البحيرات الاستوائية** .
- ١١- من الجبال الالتوائية فى قارة إفريقيا **أطلس والكاب** .
- ١٢- ارتبط بالأخدود الإفريقي العظيم ظهور مسطح مائى يحد مصر من جهة **الشرق** .
- ١٣- تمتد جبال أطلس فى ثلاث دول لذلك فهى تشبه جبال **البحر الأحمر** .
- ١٤- يشبه جبل كلمنجارو فى تكويناته البركانية تلك التكوينات السائدة فى هضبة **الحبشة** .
- ١٥- ترتبط تربة مصر الطينية شديدة الخصوبة بالرواسب النهرية القادمة من هضبة **الحبشة البركانية** .
- ١٦- تضيق السهول الساحلية فى بلاد **المغرب العربي** .
- ١٧- تتسع السهول الساحلية المطلة على المحيط الهندى فى دولة **تنزانيا** .
- ١٨- من الجهود المصرية لتحقيق التنمية المستدامة فى إفريقيا إنشاء سد أوين فى **اوغندا** .
- ١٩- ينبع نهر النيل من وسط وشرق قارة إفريقيا حتى يصل إلى مصبه فى البحر **المتوسط** .
- ٢٠- تسقط الأمطار على هضبة الحبشة فى فصل **الصيف** .
- ٢١- أكثر الدول التي اهتمت بعقد اتفاقيات لتنظيم وإدارة وتنمية مياه النيل **مصر** .
- ٢٢- شكلت دول حوض النيل تجمعا يعرف باسم **الاندوجو** .
- ٢٣- أسس الفينيقيين مدينة قرطاج لتأمين رحلاتهم التجارية من فينيقيا إلى **اسبانيا** .
- ٢٤- يبدأ نهر النيل جنوباً حيث المناخ الاستوائى لينتهى عند البحر **المتوسط** .
- ٢٥- قامت مصر بإنشاء خزان جبل الاولياء فى السودان لانتاج الطاقة **الكهرومائية** .
- ٢٦- اهتم الفنانون بمصر فى عصر الدولة القديمة بنحت تماثيل النبلاء مثل تمثال **النبيل كاعبر** .
- ٢٧- ثانى ملوك الاسرة الرابعة فى مصر القديمة هو الملك **خوفو** .
- ٢٨- صاحب الهرم الأوسط هو الملك **خفرع** .
- ٢٩- انتشرت بعض المعبودات المصرية فى افريقيا مثل الصقر وخاصة فى دولة **اوغندا** .
- ٣٠- احدى ملكات عصر الدولة الوسطى تولت حكم مصر عقب وفاة امنمحات الرابع الملكة **سبك نفرو** .
- ٣١- المدينة التي اتخذها الهكسوس عاصمة لهم فى مصر هي **أواريس** .
- ٣٢- سعى الملك كامس لقطع الامدادات التي كانت تصل الى الهكسوس من حاكم **كوش** .



- ٣٣- عرف عصر الدولة القديمة بمصر **بناة الاهرامات** .
٣٤- كلف الملك زوسر وزيره **ايمحوتب** بتشييد هرم سقارة المدرج .
٣٥- ارسل الملك سنفرو اسطولاً تجارياً لجلب اخشاب شجر الأرز من **فينيقيا** .
٣٦- أزال كهنة الاله **رع** حكم آخر ملوك الاسرة الرابعة .

السؤال الثاني : أكتب كلمة (صواب) أمام العبارة الصحيحة وكلمة (خطأ) أمام العبارة غير الصحيحة

- ١- تتسم سهول البحر الأحمر بالضيق . (صواب)
٢- تقترب قارة إفريقيا من قارة أوربا عند مضيق **باب المنذب** . (خطأ)
٣- يحد البحر المتوسط إفريقيا من جهة الشمال . (صواب)
٤- يمر خط طول جرينتش شرق قارة إفريقيا . (خطأ)
٥- يقترب اليابس الإفريقي من اليابس الأوروبى عند مضيق جبل طارق . (صواب)
٦- تقع كل الدول العربية التى توجد بقارة إفريقيا شمال دائرة الاستواء . (خطأ)
٧- تقع مصر فى الركن الشمالي الشرق من قارة إفريقيا . (صواب)
٨- تعرضت شعوب قارة إفريقيا للاستعمار من قبل دول قارة أوروبا . (صواب)
٩- تبذل مصر جهوداً مكثفة لتعميق العلاقات المصرية الإفريقية . (صواب)
١٠- جميع الدول العربية الإفريقية تمتلك سواحل على مسطحات مائية . (صواب)
١١- سهول البحر الأحمر الساحلية غنية بالثروات المعدنية ومصادر الطاقة . (صواب)
١٢- تقع هضبة الحبشة غرب إفريقيا . (خطأ)
١٣- تنحدر الهضبة الجنوبية بشدة جهة **المحيط الأطلنطى** . (خطأ)
١٤- تعتبر هضبة البحيرات الاستوائية المنبع الدائم لنهر النيل . (صواب)
١٥- تكونت جبال كينيا وكلمنجارو نتيجة الثورات البركانية . (صواب)
١٦- ساهمت الطفوح البركانية فى ارتفاع خصوبة التربة بهضبة **الصحراء الكبرى** . (خطأ)
١٧- يُعد جبل شايب البنات أعلى قمة جبلية فى سلسلة جبال البحر الأحمر . (صواب)
١٨- تظهر الجبال الالتوائية فى أقصى جنوب قارة إفريقيا . (صواب)
١٩- تتسع السهول الساحلية الإفريقية المطلة على المحيط الأطلنطى . (صواب)
٢٠- تقع سهول البحر الأحمر شرق إريتريا . (صواب)
٢١- أعلنت هيئة اليونسكو أهرامات مروى **باريتريا** أحد مواقع التراث العالمى . (خطأ)
٢٢- تحملت مصر تكاليف إنشاء خزان جبل الأولياء المقام فى السودان . (صواب)
٢٣- يعد **البخور** والعاج من أبرز صادرات حضارة أكسوم وأعلاها قيمة اقتصادية . (خطأ)
٢٤- انتشرت عند حضارة كوش عبادة الإله آمون . (صواب)
٢٥- تسقط الأمطار بغزارة فى الصيف على دولة إثيوبيا . (صواب)
٢٦- كانت **السودان** هي صاحبة فكرة إنشاء تجمع يضم دول حوض نهر النيل . (خطأ)
٢٧- تصل لمصر كميات كبيرة من مياه هضبة البحيرات الاستوائية عبر نهر النيل . (خطأ)
٢٨- تعد هضبة الحبشة أكثر هضاب قارة إفريقيا ارتفاعاً . (صواب)
٢٩- تمتد جبال البحر الأحمر فى ثلاث دول عربية . (خطأ)



تم تحميل هذه الأوراق مجاناً من
أكبر وأضخم مكتبة تعليمية
موقع وتطبيق مذكرات جاهزة

(صواب)

٣٠- نشأت مدينة قرطاج لتحقيق أهداف تجارية .

(خطأ)

٣١- يعتبر عصر الاسرة الثالثة والرابعة عصر البناء والتأسيس بمصر القديمة .

(صواب)

(خطأ)

(صواب)

(صواب)

(صواب)

(خطأ)

(صواب)

(صواب)

(صواب)

(خطأ)

(صواب)

(صواب)

(صواب)

(خطأ)

- ٣٢- من المواد المستخدمة في مقابر الملوك في العصر العتيق الحجر الجيري والطوب اللبن
- ٣٣- سمي عصر الدولة القديمة بعصر بناء الإمبراطورية .
- ٣٤- يعبر بناء الهرم الكامل عن تقدم المصريين القدماء في العمارة والفلك والهندسة .
- ٣٥- اهتم ملوك عصر بناء الاهرام ببناء المعابد الجنائزية ومعابد الالهة .
- ٣٦- ازدهر الادب الديني في عصر الدولة القديمة مثل نصوص الاهرام .
- ٣٧- اقام الملك زوسر هرمه المدرج بمنطقة هواره .
- ٣٨- كانت زيادة الأعباء على كاهل الفلاح المصري احد أسباب انهيار عصر الدولة القديمة
- ٣٩- انتشرت بعض المعبودات المصرية في افريقيا مثل الصقر (المعبود حورس) .
- ٤٠- انتشرت الالات الموسيقية المصرية في غرب افريقيا خلال عصر الدولة القديمة.
- ٤١- بدأ عصر الرخاء الاقتصادي على يد احد حكام مدينة (من - نفر) .
- ٤٢- قام ملوك الدولة الوسطى بتوسيع حدود مصر الجنوبية .
- ٤٣- استطاع الملك احمس الأول هزيمة الهكسوس وطردهم من البلاد .
- ٤٤- ساهمت قناة سيزوستريس في تنشيط حركة التجارة بمصر .
- ٤٥- اقام الملك امنمحات الأول سد اللاهون .

السؤال الثالث : اختر الإجابة الصحيحة مما بين الأقواس

- ١- استطاع ابن بطوطة خلال رحلته بقارة إفريقيا أن يخرق الصحراء الكبرى حتى وصل إلى
- (نيجيريا - مالي - جزر القمر - أنجولا)
- ٢- نشأت حضارة قرطاج في (حاليا) .
- (السودان - تونس - مصر - إثيوبيا)
- ٣- في عهد محمد على تم ترسيم خريطة النيل حتى جنوب
- (الصومال - إثيوبيا - السودان - النيجر)
- ٤- تقع في الركن الشمالي الشرق من قارة إفريقيا دولة
- (المغرب - مصر - الجزائر - ليبيا)
- ٥- يحد قارة إفريقيا من جهة الغرب
- (البحر الأحمر - البحر المتوسط - المحيط الهندي - المحيط الأطلنطي)
- ٦- أي الدول التالية دولة عربية إفريقية؟
- (موزمبيق - جيبوتي - نيجيريا - تشاد)
- ٧- تقع قارة إفريقيا إلى الجنوب من
- (البحر الأحمر - البحر المتوسط - المحيط الهندي - المحيط الأطلنطي)
- ٨- أي من الممرات المائية التالية تتحكم فيه الدولة المصرية؟
- (قناة السويس - مضيق جبل طارق - مضيق باب المندب - مضيق موزمبيق)
- ٩- تقع دولة جزر القمر في مدخل مسبق موزمبيق من ناحية
- (الشرق - الغرب - الشمال - الجنوب)
- ١٠- تم رسم خريطة للنيل حتى جنوب السودان في عهد
- (حر خوف - إسماعيل - نخاو الثاني - محمد على)



- ١١- من أوائل الرحالة العرب الذين زاروا قارة إفريقيا وكتبوا عنها
(هنرى الملاح - حر خوف - المسعودي - ابن بطوطة)
- ١٢- بدأ البرتغاليون محاولاتهم لاكتشاف إفريقيا في القرن الـ ١٥م خلال عهد
(محمد على - هنرى الملاح - الخديو إسماعيل - نحاو الثاني)
- ١٣- بدأ تأسيس مجموعة من الموانئ لتأمين الملاحة والتجارة على طول طريق رأس الرجاء الصالح على
يد (الإنجليز - الفرنسيين - الهولنديين - البرتغاليين)
- ١٤- تقع جزيرة مدغشقر في
(البحر الأحمر - البحر المتوسط - المحيط الهندي - المحيط الأطلنطي)
- ١٥- توجد هضبة الشطوط في دولة
(نيجيريا - مالي - الجزائر - أنجولا)
- ١٦- تنحدر الهضبة الجنوبية بشدة نحو السواحل (الشرقية - الغربية - الجنوبية - الشمالية)
- ١٧- المسطح المائي الذي تنحدر إليه أكبر هضاب إفريقيا مساحة هو
(البحر الأحمر - البحر المتوسط - المحيط الأطلنطي - المحيط الهادي)
- ١٨- يوجد على الحدود بين مصر وليبيا والسودان جبل
(العيونات - شايب البنات - توبقال - كلمنجارو)
- ١٩- تقع سهول نهر النيجر إلى الجنوب من هضبة
(الشطوط - الحبشة - البحيرات الاستوائية - شمال إفريقيا)
- ٢٠- أقام الكوشيون علاقات تجارية من جهة الشرق مع (مصر - قرطاج - أكسوم - اليونان)
- ٢١- تتعدد الواحات الصالحة للزراعة في الصحراء الكبرى ومنها واحة سيوة في دولة
(الجزائر - ليبيا - مصر - تونس)
- ٢٢- أعلى هضاب قارة إفريقيا هضبة
(الحبشة - البحيرات الاستوائية - شمال إفريقيا - الشطوط)
- ٢٣- تمتد في أقصى جنوب شرق قارة إفريقيا جبال (أطلس - كينيا - كلمنجارو - دراكنزبرج)
- ٢٤- تنحصر بين سلاسل جبال أطلس هضبة (جنوب إفريقيا - الحبشة - البحيرات الاستوائية - الشطوط)
- ٢٥- من الجبال الالتوائية التي توجد في قارة إفريقيا
(جبال أطلس - جبل كينيا - جبل كلمنجارو - جبال البحر الأحمر)
- ٢٦- تضيق السهول الساحلية في بعض دول قارة إفريقيا ومنها دولة
(كينيا - تنزانيا - موريتانيا - أنجولا)
- ٢٧- تقع أكبر الجزر الإفريقية من حيث المساحة في
(البحر الأحمر - البحر المتوسط - المحيط الأطلنطي - المحيط الهندي)
- ٢٨- من روافد المنابع الموسمية لنهر النيل
(نهر كاجيرا - نهر السوايط - بحيرة فيكتوريا - بحيرة البرت)
- ٢٩- أي من الأنهار الآتية ينتمي إلى المنابع الدائمة لنهر النيل ؟
(نهر السوايط - نهر كاجيرا - النيل الأزرق - نهر عطبرة)
- ٣٠- الرافد الذي يلتقى ببحر الجبل فيساعده على الجريان جهة الشمال



تم تحميل هذه الأوراق مجاناً من
أكبر وأضخم مكتبة تعليمية
موقع وتطبيق مذكرات جاهزة

- (نهر كاجيرا - نهر السوبات - نهر عطبرة - النيل الأزرق)
٣١- قامت مصر بإنشاء خزان سنار على النيل الأزرق لصالح دولة
(تنزانيا - السودان - أوغندا - كينيا)
- ٣٢- امتدت حضارة أكسوم الإفريقية في دولتي
(مصر والسودان - تونس والمغرب - إريتريا وإثيوبيا - إثيوبيا والسودان)
- ٣٣- يصب نهر كاجيرا في بحيرة فيكتوريا من جهة (الشرق - الجنوب - الغرب - الشمال)
- ٣٤- البحيرة التي تُعد ثاني أكبر البحيرات الطبيعية العنبة في العالم هي بحيرة
(تانا - ألبرت - كيوجا - فيكتوريا)
- ٣٥- إحدى دول منابع النيل ونشأ بها حضارة إفريقية قديمة (مصر - تونس - إثيوبيا - المغرب)
- ٣٦- من المشروعات التي أقيمت على نهر النيل في منطقة المنابع الدائمة
(سد اوين - خزان سنار - خزان جبل الأولياء - السد العالي)
- ٣٧- ظهرت حضارة أكسوم بالمنطقة التي توجد بها حالياً دولتي إثيوبيا و
(أوغندا - إريتريا - تونس - كينيا)
- ٣٨- يرجع الفضل في تأسيس مدينة قرطاج إلى (المصريين - الفينيقيين - الكوشيين - الليبيين)
- ٣٩- معظم حضارات إفريقيا حضارات زراعية ولكن يخرج عنها حضارة
(كوش - أكسوم - قرطاج - مصر القديمة)
- ٤٠- يُطلق على تجمع دول حوض النيل اسم الأندوجو ويعني (المحبة - الصدق - الإخاء - العهد)
- ٤١- كانت مقبرة الملك خوفو عبارة عن (مصطبة واحدة - هرم مدرج - هرم كامل - حفرة عميقة)
- ٤٢- صاحب اول بناء حجرى ضخم في التاريخ الملك (خفرع - زوسر - خوفو - اوناس)
- ٤٣- أطلق لقب الملك المحسن المحبوب على مؤسس الاسرة الفرعونية
(الأولى - الثالثة - الرابعة - الخامسة)
- ٤٤- أرسل الملك سنfro حملة ليعيد الأمن لحدود مصر
(الشمالية - الشرقية - الغربية - الجنوبية)
- ٤٥- أرسل الملك سنfro أسطولاً بحرياً لاحتضار اخشاب شجر الأرز من
(الكونغو - بلاد بونت - فينيقيا - اوغندا)
- ٤٦- ازدهرت التجارة الخارجية لمصر في عهد الملك خوفو خاصة مع
(كوش - بونت - فينيقيا - ليبيا)
- ٤٧- استطاع الفنان المصري استخدام حجر الديوريت في نحت التماثيل بداية من
(عصر الدولة القديمة - العصر العتيق - عصر المجد الحربي - عصر الرخاء الاقتصادي)
- ٤٨- كان أوسر كاف كبيراً لكهنة المعبود (أتون - رع - آمون - أوزوريس)
- ٤٩- كل الملوك الآتية لهم الفضل في تأسيس أسرات فرعونية يخرج عنهم الملك
(زوسر - سنfro - خوفو - أوسركاف)
- ٥٠- سيطر رجال الدين بشكل كامل على مقاليد الحكم خلال عصر الدولة القديمة في عهد الأسرة
(الأولى - الثالثة - الرابعة - الخامسة)



- ٥١- مجد الاسرة الحادية عشرة يتمثل في فترة حكم
- (امنمحات الأول - امنمحات الثالث - سنوسرت الثالث - منتوحتب الثاني)
- ٥٢- عمل الملك أمنمحات الأول على تأمين حدود الدلتا الغربية من غارات
- (القبائل الاسيوية - الليبيين - الهكسوس - امراء كوش)
- ٥٣- آخر حكام الاسرة الثانية عشرة
- (الملك سنفرو - الملك ايسماتيك - الملكة نفرتارى - الملكة سبك نفرو)
- ٥٤- يرمز اسم الاله سبك عند المصريين القدماء الى (القوة - الخصوبة - الموت - العدالة)
- ٥٥- اقام الملك مقاييس النيل عند الجندل الثاني .
- (نعرمر - احمس الأول - امنمحات الثالث - سنفرو)
- ٥٦- ارسل الملك امنمحات الثالث اربعاً وعشرين بعثة لاستخراج المعادن وقطع الأحجار من
- (شبه جزيرة سيناء - بلاد بونت - فينيقيا - الجيزة)
- ٥٧- كانت الامدادات التي تصل الى الهكسوس من ارض كوش يتم نقلها عبر
- (البحر الأحمر - البحر المتوسط - نهر النيل - الصحراء الشرقية)
- ٥٨- نجح الملك في قطع الامدادات القادمة من ارض كوش الى الهكسوس .
- (سنفرو - توت عنخ امون - كامس - رمسيس الثاني)
- ٥٩- أى من الملوك التاليين تُعد فترة حكمه بداية لمجد الأسرة الحادية عشرة ؟ الملك
- (منتوحتب الثاني - امنمحات الأول - سنوسرت الثالث - أمنمحات الثالث)
- ٦٠- اهتم الملك منتوحتب الثاني بتجميل مدينة وإنشاء المعابد بها .
- (أواريس - إثيث تاوى - طيبة - «من نفر»)

السؤال الرابع : اكتب ما تشير اليه كل عبارة من العبارات التالية

- ١- مجموع الإنتاج الثقافي كالعلوم والفنون والإنتاج المادى كالقلاع والحصون . **الحضارة**
- ٢- مجموعة انكسازات طويلة تتجه من الجنوب إلى الشمال في شرق إفريقيا . **الاحدود الافريقي**
- ٣- كانت ذات أهمية حضارية حيث انتقلت عن طريقها الحضارة الإسلامية من آسيا لإفريقيا . **سيناء**
- ٤- مضيق تلتقى عنده قارتي إفريقيا وآسيا . **باب المنذب**
- ٥- إحدى جزر إفريقيا تقع شمال غرب جزيرة مدغشقر . **جزر القمر**
- ٦- انتقلت عن طريقها بعض الثقافات والحضارات من آسيا إلى إفريقيا كالحضارة الإسلامية . **سيناء**
- ٧- أكبر دول القارة الإفريقية من حيث المساحة . **الجزائر**
- ٨- دول تطل على بحار ومحيطات . **دول ساحلية**
- ٩- دول لا تطل على مسطحات مائية (البحار أو المحيطات) . **دول حبيسة**
- ١٠- دولة تم انتخابها لرئاسة الاتحاد الإفريقي عام ٢٠١٩ م . **مصر**
- ١١- مدينة بدأت فيها حضارة كوش قبل الانتقال إلى مروى . **نبتة**
- ١٢- سهول كونتها الأنهار عن طريق ترسيب المواد العالقة بمياهها . **سهول فيضية**
- ١٣- هضبة تنحدر بشدة نحو السواحل الشرقية وتقع جنوب إفريقيا . **الهضبة الجنوبية**
- ١٤- جبال التوانية تمتد في سلسلتين متوازيتين على طول الساحل الشمالي الغربي لإفريقيا . **جبال اطلس**



تم تحميل هذه الأوراق مجاناً من
أكبر وأضخم مكتبة تعليمية
موقع وتطبيق مذكرات جاهزة

- ١٥- جبال انكسارية تمتد في ثلاث دول ويُعد جزء من الأخدود الإفريقي العظيم .
- ١٦- سهول فيضية تمتد في مصر والسودان وتتميز بخصوبة تربتها .
- ١٧- سهول ساحلية تقع شمال إفريقيا تتميز بوجود النباتات الطبيعية والمحاصيل الزراعية. **البحر المتوسط**
- ١٨- سهول ساحلية تقع غرب إفريقيا وتتميز باتساعها. **المحيط الاطلنطي**
- ١٩- استثمار الموارد المائية بشكل يضمن تحقيق التنمية المستدامة والقضاء على الفقر **الاقتصاد الازرق**
- ٢٠- حضارة إفريقية أثرت في تاريخ القارة ولكنها لم ترتبط بنهر النيل . **حضارة قرطاج**
- ٢١- المساحة التي يجرى فيها النهر وروافده . **حوض النهر**
- ٢٢- حضارة ظهرت في الساحل الشرقي لقارة إفريقيا . **حضارة اكسوم**
- ٢٣- النهر الذي يمتد مجراه وروافده في اكثر من دولة . **النهر الدولي**
- ٢٤- تجمع شكلته دول حوض النيل عام ١٩٨٣م يهدف الحفاظ على المصالح المشتركة **الاتدوجو**
- ٢٥- اقتصاد صديق للبيئة يستهدف تحقيق نمو اقتصادي مستدام مع الحفاظ على البيئة. **الاقتصاد الأخضر**
- ٢٦- تمثال تم نحته في عصر الدولة القديمة يظهر بجسم أسد ليدل على القوة ورأس إنسان. **أبو الهول**
- ٢٧- أصلب أنواع الأحجار الذي أستخدم في نحت التماثيل خلال عصر الدولة القديمة. **الديوريت**
- ٢٨- معابد مكشوفة تم تشييدها في أبي صير بالجيزة خلال عصر الأسرة الخامسة. **معابد الشمس**
- ٢٩- مجموعة نصوص دينية نقشت بالخط الهيروغليفي على جدران الحجرات الداخلية للأهرام. **نصوص الاهرام**
- ٣٠- عصر امتد من الأسرة السابعة حتى الأسرة العاشرة وتعرضت البلاد خلاله للانقسام والغارات الأجنبية. **عصر الاضمحلال الاول**
- ٣١- اتخذها الملك أمنمحات الأول عاصمة للبلاد ومعناها القابضة على الأرضين. **أثيت تاوي**
- ٣٢- قناة مائية تم حفرها للربط بين البحر الأحمر والبحر المتوسط عن طريق نهر النيل. **سيزوستريس**
- ٣٣- سد أقيم عند مدخل بحيرة مورييس لتخزين مياه الفيضان . **سد اللاهون**
- ٣٤- اسم أطلق على عصر الدولة الوسطى لاهتمامهم بمشروعات الزراعة. **الرخاء الاقتصادي**
- ٣٥- مدينة اهتم بها منتوحتب الثاني وبنى بها المعابد وجعلها عاصمة البلاد. **مدينة طيبة**
- السؤال الخامس : صوب ما تحته خط فيما يلي**
- ١- من الجبال البركانية في قارة إفريقيا جبال الكاب .
- ٢- يحد قارة إفريقيا من الشرق البحر الأحمر والمحيط الأطنطي .
- ٣- امتد حكم الخديو إسماعيل حتى جنوب مدار الجدي .
- ٤- يعتبر من الممرات الاستراتيجية ذات الإشراف الإفريقي الخالص مضيق باب المنذب . **موزمبيق**
- ٥- اكتشف البريطانيون طريق رأس الرجاء الصالح . **البرتغاليون**
- ٦- نشأت حضارة كوش في الصومال . **السودان**
- ٧- أكثر الهضاب الإفريقية اتساعاً هي هضبة إثيوبيا . **شمال افريقيا**
- ٨- تعد جزر القمر أكبر جزر قارة إفريقيا . **جزيرة مدغشقر**
- ٩- تعد صحراء كلهاري أكبر صحارى قارة إفريقيا . **الصحراء الكبرى**
- ١٠- الهضبة التي ينعدم ارتباطها بنهر النيل هي هضبة البحيرات الاستوائية . **الهضبة الجنوبية**



تم تحميل هذه الأوراق مجاناً من
أكبر وأضخم مكتبة تعليمية
موقع وتطبيق مذكرات جاهزة

غرب

السودان

البحر الاحمر

توبقال

شايب البنات

كلمنجارو

الغرب

الصيف

شمال شرق

قرطاج

الهرم الاكبر

الرابعة

امنمحات الثالث

سبك نفرو

اواريس

- ١١- يجرى نهر النيجر في شرق إفريقيا .
- ١٢- قامت مملكة كوش في شمال دولة تونس .
- ١٣- يرتبط بالأخدود الإفريقي العظيم ظهور جبال أطلس .
- ١٤- يمثل أعلى قمة جبلية في سلسلة جبال أطلس جبل العوينات .
- ١٥- من أهم القمم الجبلية الانكسارية الموجودة في مصر جبل توبقال .
- ١٦- يُعد جبل توبقال أعلى قمم جبال قارة إفريقيا .
- ١٧- يصب نهر كاجيرا في بحيرة فيكتوريا من جهة الشرق .
- ١٨- تأتي معظم مياه النيل من شرق قارة إفريقيا في فصل الشتاء .
- ١٩- قامت الحضارة المصرية القديمة بشمال غرب القارة الإفريقية .
- ٢٠- من الحضارات الإفريقية التي نشأت بعيدة عن نهر النيل حضارة كوش .
- ٢١- شيد الملك خوفو الهرم المدرج على هضبة الجيزة .
- ٢٢- ازداد نفوذ كهنة إله الشمس رع في نهاية الأسرة الثالثة .
- ٢٣- الملكة سبك نفرو ابنة الملك سنوسرت الثالث .
- ٢٤- انشأت الملكة إياح حتب هرمًا خاصًا بها بالقرب من منطقة دهشور .
- ٢٥- استولى الهكسوس على مدينة طيبة بالقوة ودمروا المعابد .

السؤال السادس : من أكون :

١- من أوائل المصريين القدماء الذين اكتشفوا قارة إفريقيا وقام بأربع رحلات كشفية للجنوب .

حر - خوف

٢- حاكم مصرى أرسل رحلات لاكتشاف منابع النيل عام ١٨٣٩م وانتهت باكتشاف النيل الأبيض .

محمد على باشا

٣- أحد أحفاد محمد على اهتم باكتشاف منابع نهر النيل وصل حكمه إلى جنوب دائرة الاستواء .

الخدوي إسماعيل

٤- رحالة عربى استطاع أن يخترق الصحراء الكبرى من الجنوب إلى الشمال حتى وصل إلى مالى .

ابن بطوطة

٥- عالم جغرافى مصرى أشار إلى أن نهر النيل ثنائى المنبع وهذا سبب استدامته ووصوله إلى مصر .

جمال حمدان

نعرمر

٦- قام بتوحيد مملكة الشمال والجنوب وكان عهده بداية لعصر جديد .

سنفرو

اوسر كاف

٧- مؤسس الأسرة الرابعة الذى أرسل أسطولاً بحرياً لإحضار خشب الأرز من فينيقيا .

اوناس

٨- مؤسس الأسرة الخامسة وشيد العديد من المسلات الضخمة .

منتوحتب الثانى

امنمحات الاول

امنمحات الثالث

امنمحات الثالث

٩- آخر ملوك الأسرة الخامسة وأول من كتب نصوص الأهرام على جدران المقابر .

امنمحات الثالث

امنمحات الثالث

امنمحات الثالث



تم تحميل هذه الأوراق مجاناً من
أكبر وأضخم مكتبة تعليمية
موقع وتطبيق مذكرات جاهزة

سبك نفرو

سقنن رع الثانى

اياح حتب

١٣- أول ملكة مصرية يتم تسميتها على اسم الإله الذي يرمز للقوة .

١٤- بدأ النضال الحقيقى لتحرير البلاد من الهكسوس وقتل في ساحة المعركة.

١٥- تولت شئون الحكم إلى حين عودة أبنائها منتصرين من حرب التحرير .

السؤال السابع : بم تفسر ... ؟

١- لموقع قارة إفريقيا أهمية استراتيجية .

لأنها تشرف بحكم موقعها الجغرافي على ممرات مائية مهمة مثل مضيق جبل طارق ومضيق باب المندب وقناة السويس .

٢- تقسيم إفريقيا لعدد كبير من الدول .

بسبب تصارع الدول الاستعمارية عليها لنهب خيراتها واستغلال ثرواتها الطبيعية وضمان السيطرة عليها .

٣- تحكم قارة إفريقيا في أهم طرق الملاحة العالمية . بسبب الموقع الجغرافي المتميز لقارة إفريقيا .

٤- الأهمية الاقتصادية لموقع قارة إفريقيا .

بسبب الموقع الجغرافي الذى أدى الى تحكمها في اهم طرق الملاحة العالمية - والموقع الفلكى الذى أدى الى تنوع مناخها وبالتالي تنوع النباتات الطبيعية والحيوانات والمحاصيل الزراعية .

٥- لشبه جزيرة سيناء أهمية حضارية لإفريقيا .

بسبب انتقال بعض الثقافات والحضارات عن طريقها من اسيا الى افريقيا مثل الحضارة الإسلامية .

٦- أسس البرتغاليون الموالى والمراكز التجارية على طريق رأس الرجاء الصالح . لتأمين الملاحة والتجارة

٧- تعميق دور مصر الريادى فى قارة إفريقيا عام ٢٠١٩م . لتدعيم علاقتها مع دول وشعوب إفريقيا .

٨- تكون الجليد فوق قمة جبل كلمنجارو . لانه اعلى قمة جبلية افريقية وانخفاض درجات الحرارة .

٩- ارتباط النشاط السياحى بجبال قارة إفريقيا . لأنها تتميز بمناظر طبيعية خلابة تجذب السياح الذين يمارسون العديد من الأنشطة السياحية بالمناطق الجبلية .

١٠- تميز هضبة الحبشة بخصوبة تربتها . بسبب الطفوح البركانية .

١١- تعد هضبة الحبشة المنبع الموسمى لنهر النيل . بسبب الامطار التي تسقط عليها في فصل الصيف .

١٢- تكون الأخدود الإفريقى العظيم . بسبب الانكسارات الطولية التي تتجه من الجنوب الى الشمال .

١٣- يختلف اتساع السهول الساحلية بإفريقيا من منطقة لأخرى .

بسبب اقتراب او ابتعاد المرتفعات من السواحل بإفريقيا .

١٤- ضيق السهول الساحلية المطلة على البحر الأحمر . بسبب وجود جبال البحر الأحمر .

١٥- تقل مساهمة المنابع الدائمة فى مياه نهر النيل بمصر . بسبب المستنقعات وزيادة التبخر .

١٦- أهمية اتفاقية قانون تنظيم استخدام المجارى المائية فى الأغراض غير الملاحية .

بهدف ١- تنظيم استخدام مياه الأنهار وتنميتها وادارتها وحمايتها .

٢- تحقيق الانتفاع الأمثل والمستدام بها للأجيال الحالية والمقبلة .

١٧- عقد كل من مصر وإثيوبيا والسودان اتفاقية ٢٠١٥م . لاستخدام مياه نهر النيل منها التعاون والتنمية

وعدم التسبب في ضرر والاستخدام المنصف والمناسب لمياه نهر النيل .

١٨- بعد نهر النيل نهراً دولياً . بسبب امتداد مجراه وروافده داخل اراضى احدى عشرة دولة .



- ١٩- قيام مصر بمشروعات خارج حدودها على نهر النيل .
لتحقيق التنمية المستدامة لمياه نهر النيل في دول حوض النيل .
- ٢٠- ظهور العديد من الحضارات القديمة في قارة إفريقيا . بسبب وجود العوامل الطبيعية منها الموقع المتميز والثروات الطبيعية من مياه عذبة ونباتات طبيعية وثروة حيوانية ومعادن ومصادر طاقة – وعوامل بشرية منها سكان القارة الذين استطاعوا استثمار الثروات الطبيعية .
- ٢١- تسمية العصر العتيق بعصر البناء والتأسيس .
لانه بدأ بتوحيد الملك نعرمر لمملكتي الشمال والجنوب وتأسيس عاصمة مصر الموحدة مدينة من نفر .
- ٢٢- تميز العصر العتيق بالاستقرار وتحقيق الأمن .
بسبب اهتمام ملوك هذا العصر بتأمين حدود مصر وبناء الحصون .
- ٢٣- اهتمام ملوك العصر العتيق بالطرق الصحراوية لتأمين التجارة المارة بها .
- ٢٤- تسمية عصر الدولة القديمة بعصر بناء الأهرام .
بسبب اهتمام ملوكه ببناء مقابرهم على شكل اهرامات .
- ٢٥- اهتمام المصري القديم بنحت التماثيل الملكية خلال عصر الدولة القديمة . لاعتقادهم في قدسية الملك .
- ٢٦- عرف هرم سقارة بالهرم المدرج . لانه يتكون من ست مصاطب مختلفة الحجم .
- ٢٧- تسمية الملك سنفرو بالملك المحسن المحبوب . لانه كان ملكاً عادلاً عظيماً .
- ٢٨- قيام الملك أوناس بكتابة نصوص الأهرام على جدران حجرة الدفن داخل الهرم.
بهدف حماية الملك في الحياة الآخرة .
- ٢٩- قيام المصريين بثورة عارمة في أواخر عصر الدولة القديمة.
بسبب زيادة الأعباء على كاهل الفلاح المصري .
- ٣٠- اهتمام ملوك عصر الدولة الوسطى ببناء الحصون . لتأمين الحدود الشرقية والغربية .
- ٣١- يعرف عصر الدولة الوسطى بعصر الرخاء الاقتصادي . بسبب الإنجازات التي شهدتها هذه العصر .
- ٣٢- تُعد فترة حكم الملك منتوحتب الثاني بداية لمجد الأسرة الحادية عشرة .
لانه قام بعدة اعمال منها نجاح في الانتصار على ملوك اهناسيا – أعاد السلطة المركزية القوية – اصلح النظام الادارى في الدولة – نجح في الحد من نفوذ حكام الأقاليم – اهتم بتجميل مدينة طيبة .
- ٣٣- قيام الملك أمنمحات الأول بنقل العاصمة إلى «إثيت تاوى» .
لتكون في موقع متوسط بين الوجهين البحرى والقبلى وحتى يتحقق له السيطرة على كل انحاء البلاد .
- ٣٤- قيام الملك أمنمحات الأول ببناء الحصون على الحدود الغربية للدلتا . لحماية مصر من الغارات الليبية
- ٣٥- قيام الملك سنوسرت الثالث بحفر قناة سيزوستريس .
لتربط بين البحر الأحمر والبحر المتوسط عن طريق نهر النيل .
- ٣٦- إنشاء الملك أمنمحات الثالث لسد اللاهون .
لتخزين مياه الفيضان مما أدى الى حماية البلاد من المجاعة التي قد تصيبتها نتيجة انخفاض منسوب مياه نهر النيل .
- ٣٧- سقوط وانهيار الدولة الوسطى .
بسبب ضعف الملوك – زيادة الصراعات بين حكام الأقاليم على السلطة .



السؤال السابع : ما النتائج المترتبة على ... ؟

- ١- الموقع الجغرافي لقارة إفريقيا أدى الى تحكمه في اهم طرق الملاحة العالمية .
- ٢- انتخاب مصر لرئاسة الاتحاد الإفريقي عام ٢٠١٩ م .
- أدى ذلك الى وجود فرصة قوية لتعميق دور مصر الريادي في قارة افريقيا وتدعيم علاقاتها مع دول وشعوب القارة الافريقية .
- ٣- اتصال إفريقيا بقارة آسيا عند شبه جزيرة سيناء استراتيجياً .
- أدى الى تعرض مصر الى العديد من الحملات العسكرية من خلال شبه جزيرة سيناء .
- ٤- تنوع المناخ في قارة إفريقيا . بسبب الموقع الفلكي لقارة إفريقيا .
- ٥- اهتمام محمد علي باكتشاف منابع النيل .
- أدى الى ارسال رحلات لاكتشاف منابع النيل وانتهت باكتشاف للنيل الأبيض ورسم خريطة للنيل حتى جنوب السودان .
- ٦- تصارع الدول الاستعمارية على قارة إفريقيا .
- أدى الى تقسيم قارة افريقيا لعدد كبير من الدول مختلفة المساحة .
- ٧- الطفوح البركانية في هضبة الحبشة أدى الى خصوبة التربة وقيام الزراعة بها ونشأة الحضارات .
- ٨- اقتراب جبال أطلس من ساحل البحر المتوسط . أدى الى ضيق السهول الساحلية ببلاد المغرب .
- ٩- سقوط الأمطار طوال العام على هضبة البحيرات الاستوائية .
- أصبحت هضبة البحيرات الاستوائية المنبع الدائم لنهر النيل .
- ١٠- شدة ارتفاع جبال كلمنجارو . ترتب على ذلك تكون الجليد على قمته رغم وقوعه بالمنطقة الاستوائية .
- ١١- الثورات البركانية قديماً في قارة إفريقيا (بالنسبة للتضاريس) . أدى الى خصوبة التربة بهضبة الحبشة - أدى الى تكوين الجبال البركانية منها جبل كينيا وكلمنجارو ودراكنزبرج .
- ١٢- سقوط الأمطار شتاءً على السهول الساحلية للبحر المتوسط .
- أدى الى وجود النباتات الطبيعية والمحاصيل الزراعية .
- ١٣- اقتراب جبال البحر الأحمر من الساحل الشرقي لكل من مصر والسودان وإريتريا .
- أدى الى ضيق السهول الساحلية على البحر الأحمر .
- ١٤- انتشار المستنقعات وزيادة معدلات البخر في هضبة البحيرات الاستوائية .
- أدى الى وصول كميات قليلة الى مصر من مياه المنابع الدائمة .
- ١٥- استقرار المصري القديم على ضفاف النيل .
- عرف الانسان الزراعة واستأنس الحيوانات ثم انشأ القرى ثم المدن ثم الأقاليم وبعد ذلك استطاع توحيد البلاد وتكوين الاسرات الحاكمة .
- ١٦- موقع حضارة أكسوم الجغرافي . أدى الى وجود مركز تجارى قوى بأكسوم وملتقى الطرق التجارية .
- ١٧- الموقع الاستراتيجي لمدينة قرطاج .
- حكمت قرطاج معظم ساحل شمال افريقيا وبعض جزر البحر المتوسط .
- ١٨- نهر النيل نهر ثنائى المنبع . أدى الى استدامته ووصوله الى مصر .
- ١٩- حاجة الملك سنفرو إلى الأخشاب . أدى الى ارسال اسطولاً بحرياً مكوناً من ٤٠ سفينة الى بلاد فينيقيا



٢٠- زيادة نفوذ كهنة الإله رع في أواخر عصر الأسرة الرابعة.

أدى الى سقوط الاسرة الرابعة وتأسيس الاسرة الخامسة على يد كبيرهم اوسر كاف .

٢١- وصول أوسركاف إلى الحكم .

قام بتشديد المسلات الضخمة – ومعابد الشمس المكشوفة في ابي صير بالجيزة .

٢٢- ضعف السلطة المركزية في نهاية عصر الأسرة السادسة .

أدى الى تدهور الأحوال السياسية والاقتصادية والاجتماعية وانتهاء عصر الدولة القديمة .

٢٣- حالة الضعف التي امتدت من الأسرة السابعة حتى الأسرة العاشرة .

تعرضت البلاد للانقسام والغارات الخارجية وتوقف عجلة البناء والتطور الحضارى .

٢٤- قيام الملك سنوسرت الثالث بحفر قناة سيزوستريس .

نتج عنها زيادة حركة التجارة بين مصر وجيرانها .

٢٥- وصول الملكة سبك نفرو إلى حكم البلاد .

أسست الكثير من المعابد – استكملت بناء هرم والدها في منطقة هواره – أنشأت هرمًا خاصاً بها بالقرب

من منطقة دهشور .

٢٦- ضعف الملوك في أواخر عصر الدولة الوسطى .

أدى الى تعرض البلاد للاطماع الخارجية حتى سقطت فريسة في يد الهكسوس .

السؤال الثامن : دلل على صحة العبارات التالية

١- الأهمية الحضارية لقارة إفريقيا .

حيث نشأت العديد من الحضارات في العالم على ارضها مثل الحضارة المصرية القديمة في مصر وحضارة

كوش في السودان وحضارة اكسوم في اريتريا واثيوبيا وحضارة قرطاج في تونس .

٢- الأهمية الاستراتيجية للموقع قارة إفريقيا .

حيث ان افريقيا تشرف على ممرات مائية مهمة مثل مضيق جبل طارق ومضيق باب المنذب وقناة السويس

٣- لم يكن للبرتغاليين السبق في الدوران حول إفريقيا .

حيث قام المصريون القدماء اثناء عهد الملك نخاو الثانى بإرسال بعثة للدوران حول افريقيا بدأت من البحر

الأحمر وعادت عبر مضيق جبل طارق واستمرت الرحلة ثلاث سنوات .

٤- لشبه جزيرة سيناء أهمية استراتيجية .

حيث تعرضت مصر للعديد من الحملات العسكرية من خلالها وذلك فان الحفاظ على أمن شبه جزيرة سيناء

ضرورة للحفاظ على الامن القومى المصرى والافريقي .

٥- كان للتجار العرب دور فى الكشوف الجغرافية لقارة إفريقيا .

حيث وصلت قوافلهم الى السودان وبلاد الحبشة وجزر القمر وغيرها وساهموا في نشر الإسلام .

٦- تتنوع مظاهر السطح على هضبة شمال إفريقيا .

حيث يوجد الصحراء الكبرى اكبر الصحارى الحارة في العالم – وجبال مثل جبل العوينات على الحدود بين

مصر وليبيا والسودان – ومنخفضات مثل منخفض القطارة بمصر – العديد من الواحات مثل واحة سيوة

بمصر وواحة الجوفة بلبيبا .



- ٧- تختلف أجزاء سهول المحيط الهندي في الاتساع .
حيث في دولة تنزانيا تتميز بسهول ساحلية واسعة – بينما في دولة كينيا تكون عبارة عن شريط ضيق ينحصر بين الساحل وهضبة البحيرات الاستوائية .
- ٨- تأثرت الأراضي المصرية بالأخود الإفريقي العظيم .
حيث تعد جبال البحر الأحمر وخليج العقبة جزءاً من الأخود الإفريقي العظيم .
- ٩- اهتمت مصر بزيادة مائة بحيرة فيكتوريا وكيوجا .
حيث قامت مصر بتطهير بحيرتي فيكتوريا وكيوجا من الحشائش والنباتات .
- ١٠- تأثر الكوشيون بمظاهر الحضارة المصرية القديمة .
حيث قامت بنحت التماثيل – وبناء المعابد والاهرامات مثل اهرامات مروى – عبادة بعض المعبودات المصرية القديمة مثل الاله رع – الاله امون – الاله اوزوريس – الالهة ايزيس .
- ١١- كان لمصر دور مهم في تنمية مائية حوض النيل .
حيث قامت بانشاء خزان سنار على النيل الأزرق لصالح السودان – انشاء سد اوين باوغندا – دفع تكاليف انشاء خزان جبل الاولياء في السودان لتوليد الطاقة الكهربائية – تطهير بحيرتي فيكتوريا وكيوجا من الحشائش والنباتات – حفر عشرات الابار في كينيا – انشاء مركز للبحوث المائية في تنزانيا .
- ١٢- اهتمام ملوك العصر العتيق بالأنشطة الاقتصادية .
حيث قام ملوكه ب: الاهتمام باستغلال محاجر سيناء – الاهتمام بالطرق الصحراوية – السيطرة على المنطقة الواقعة جنوب الجندل الأول .
- ١٣- تعددت المواد المستخدمة في النحت بعصر الدولة القديمة .
حيث استخدموا المواد المختلفة في النحت مثل الحجر – العاج – الخشب .
- ١٤- تطورت مقابر الملوك في عصر الدولة القديمة .
حيث تحولت من حجرة يعلوها مصطبة الى عدة مصاطب اخذت شكل هرم مدرج ثم وصلت الى شكل الهرم الكامل في عهد الملك خوفو .
- ١٥- برع الفنان المصري القديم خلال عصر الدولة القديمة في فن النحت .
حيث قام بنحت التماثيل الملكية لاعتقاده في قدسية الملك – تماثيل النبلاء مثل تمثال النبل كاعبر – تماثيل في وضعية الجلوس مثل تمثال الكاتب المصري .
- ١٦- براعة الفنان المصري القديم خلال عصر الدولة القديمة في فن النقش .
حيث ظهرت النقوش البارزة على الاسطح الصلبة كالحجر والمعادن .
- ١٧- برع الفنان المصري القديم في فن الرسم خلال عصر الدولة القديمة .
حيث استخدم الألوان لتصميم الصور الجدارية على جدران المعابد .
- ١٨- وصل فن النحت إلى قمته في عهد الملك خفرع .
حيث استطاع الفنان المصري القديم استخدام اصلب أنواع الحجر في نحت التماثيل مثل حجر الديوريت .
- ١٩- كان للملك أوناس دوراً في حفظ التراث الديني للمصريين القدماء .
حيث يعد اول من كتب نصوص الاهرام على جدران المقابر من الداخل بهدف حماية الملك في الحياة الاخرة



٢٠- اهتم ملوك عصر الدولة القديمة باكتشاف القارة الإفريقية .

حيث ارسل ملوك الاسرة الخامسة والسادسة الرحلات التجارية والاستكشافية الى افريقيا مثل رحلات الرحالة حر خوف نحو الجنوب في افريقيا .

٢١- تأثر أمراء الكونغو بالحضارة المصرية القديمة.

من خلال انتشار بعض العادات المصرية بين الشعوب الافريقية مثل التحنيط وتم تحنيط جثث ملوك وامراء الكونغو وان لم يعرفوا اسرار التحنيط كاملة .

٢٢- تنوع إنجازات الملك منتوحتب الثاني .

حيث أعاد السلطة المركزية واصلح النظام الادارى واهتم بتجميل طيب وانشأ المعابد فيها وقام بالتوسع جنوباً وارسل بعثة تجارية الى بلاد بونت عبر الصحراء .

٢٣- اهتم كل من الملك سنوسرت الثالث والملك أمنمحات الثالث بمنطقة الجندل الثاني ولكن بشكل مختلف.

حيث قام سنوسرت الثالث ببناء الحصون مثل حصن سمنا وقمنة عند الجندل الثاني واقام امنمحات الثالث مقاييس للنيل عند الجندل الثاني لمراقبة ارتفاع منسوب مياه النيل .

٢٤- تعددت أعمال آخر حكام الأسرة الثانية عشر المعمارية .

حيث قامت الملكة سبك نفرو بتأسيس العديد من المعابد - استكملت بناء هرم والدها في منطقة هواره - أنشأت هرماً خاصاً بها بالقرب من منطقة دهشور .

٢٥- لم يحترم الهكسوس الديانة المصرية القديمة .

حيث قام الهكسوس بتدمير المعابد وسلب مملكات المصريين وفرض الضرائب .

٢٦- كان عصر الأسرة السابعة عشرة عصر الانتفاضة ضد الهكسوس .

حيث عمل ملوك هذه الاسرة على تنظيم أمور ممتلكاتهم في طيبة وبث الشعور الوطنى وروح المقاومة لدى المصريين لمواجهة الهكسوس .

٢٧- العسكرية العسكرية للملك كامس في مواجهته للهكسوس .

حيث قام بحملة مفاجئة على ارض كوش واجبر اميرها على قطع الامدادات التي كانت تصل الى الهكسوس عن طريق النيل .

٢٨- لعبت الملكة إياح حتب دوراً مهماً فى طرد الهكسوس .

شجعت ابنها كامس واحمس على الاستمرار في الكفاح بعد مقتل أبيهما سقتن رع كما تولت نيابة عنهما شئون الحكم الى حين عودتهما منتصرين .

٢٩- وجود علاقات تجارية بين ملوك مصر فى عصر الدولة الوسطى وحضارة كوش بإفريقيا .

حيث تم تبادل الحلى والمجوهرات والاعطور والمعادن والعاج والتوابل والزيوت كزيت الزيتون والنخيل .

السؤال التاسع : ما العلاقة بين ؟

١- الاستعمار والحالة الاقتصادية فى إفريقيا .

أدى الاستعمار الاوربى لافريقيا الى معاناة افريقيا من الفقر رغم ما تمتلكه من ثروات طبيعية متعددة .

٢- الملك نخاو الثانى واكتشاف قارة إفريقيا .

ارسل الملك نخاو الثانى بعثة للدروان حول افريقيا بدأت من البحر الأحمر وعادت من مضيق جبل طارق واستمرت ثلاث سنوات .



- ٣- شبه جزيرة سيناء والأمن القومي المصري .
- وذلك فان الحفاظ على أمن شبه جزيرة سيناء ضرورة للحفاظ على الامن القومي المصري والافريقي .
- ٤- الموقع الجغرافي لإفريقيا، والملاحة العالمية .
- الموقع الجغرافي لقارة إفريقيا أدى الى تحكمه في اهم طرق الملاحة العالمية .
- ٥- العدد الكبير لدول قارة إفريقيا، والاستعمار الأوروبى .
- تصارع الدول الاستعمارية الاوربية على قارة إفريقيا أدى الى تقسيم قارة افريقيا لعدد كبير من الدول مختلفة المساحة .
- ٦- هضاب شرق ووسط إفريقيا ومائية نهر النيل فى مصر .
- تعد هضاب شرق ووسط افريقيا هي المنبع الدائم والموسمى لنهر النيل وساعدت على استدامته .
- ٧- هضبة الحبشة والتربة فى مصر .
- تتميز سهول نهر النيل في مصر السودان بخصوبة تربتها لانها تكونت من الطمي الذى نقلته مياه نهر النيل من هضبة الحبشة البركانية .
- ٨- الأخدود الإفريقي العظيم، وتشكيل سطح قارة إفريقيا .
- ساعد الاخدود الافريقي العظيم على تشكيل سطح افريقيا مثل البحر الأحمر وخليجا العقبة وعدن .
- ٩- الجبال والسهول الساحلية فى شمال قارة إفريقيا .
- تتسع او تضيق السهول الساحلية في شمال افريقيا بسبب اقتراب او ابتعاد الجبال من ساحل البحر المتوسط
- ١٠- نهر النيل وقيام الحضارات فى قارة إفريقيا .
- ساعد نهر النيل على قيام الحضارات القديمة في افريقيا ومنها الحضارة المصرية القديمة وحضارة كوش وحضارة اكسوم .
- ١١- الفينيقيين وحضارة قرطاج . قام الفينيقيين بتأسيس قرطاج لتأمين التجارة بين بلاد فينيقيا واسبانيا .
- ١٢- الملك زوسر والعمارة الملكية .
- حيث تطورت العمارة الملكية من حجرة يعلوها مصطبة الى هرم مدرج مثل هرم زوسر المدرج .
- ١٣- الملك أوناس، والأدب الديني فى مصر القديمة .
- حيث يعد الملك أوناس اول من كتب نصوص الاهرام التي تعد من الادب الديني عند المصريين القدماء .
- ١٤- ملوك الأسرة الحادية عشرة، ووحدة البلاد .
- حيث قام الملك منتوحت الثانى احد ملوك الاسرة الحادية عشر من إعادة السيطرة على البلاد ووحدة البلاد .
- ١٥- الملك أمنمحات الثالث، واتساع مساحة الأراضي الزراعية .
- حيث قام امنمحات الثالث بانشاء سد اللاهون عند مدخل مورييس بهدف التوسع في مساحات الاراضى الزراعية .
- ١٦- أمراء طيبة، والهكسوس .
- حيث قام امراء طيبة في مواجهة الهكسوس في الاسرة السابعة عشر مثل سقتن رع الثانى وكامس واحمس الأول بتشجيع من الملك اياح حتب .



السؤال العاشر : ما المقصود بكل من

- ١- الحضارة . مجموع الإنتاج الثقافي مثل العادات والتقاليد والعلوم والفنون والقيم والإنتاج المادي مثل القلاع والمباني والقصور وهو ما يميز مجتمع عن غيره .
- ٢- الأهمية الاستراتيجية . الأهمية وقت السلم ووقت الحروب والأزمات .
- ٣- الدول الساحلية . هي الدول التي تطل على بحار ومحيطات .
- ٤- الدول الحبيسة . هي الدول لا تطل على مسطحات مائية البحار والمحيطات .
- ٥- الجبل البركاني . جبال نشأت نتيجة الثورات البركانية .
- ٦- الاقتصاد الأزرق . استثمار الموارد المائية بشكل مستدام لتحقيق التنمية المستدامة والقضاء علي الفقر وتحقيق الاكتفاء الذاتي من الغذاء مع المحافظة علي النظام البيئي .
- ٧- النهر الدولي . النهر الذي يمتد مجراه وروافده في أكثر من دولة .
- ٨- الأندوجو . يعني الاخاء باللغة السواحلية .
- ٩- حوض نهر النيل . يطلق علي المساحة التي يجري بها نهر النيل وروافده .
- ١٠- الاقتصاد الأخضر . هو الاقتصاد الصديق للبيئة الذي يستهدف تحقيق نمو اقتصادي مستدام مع الحفاظ علي البيئة وتحقيق العدالة الاجتماعية والحد من الفقر والبطالة .
- ١١- متون الأهرام . نصوص دينية نقشت بالخط الهيروغليفي على جدران الحجرات الداخلية للأهرام .
- ١٢- عصر الاضمحلال .

فترات زمنية في التاريخ المصري القديم سادت فيها البلاد حالة من الضعف لسلطة الملك والحكومة المركزية وانتشرت فيها الاضطرابات السياسية والاقتصادية .

١٣- الهكسوس . مجموعة من القبائل جاءت من وسط اسيا .

السؤال الحادي عشر : ماذا يحدث إذا..؟

- ١- لم تتعرض قارة إفريقيا لثورانات بركانية .
- ٢- لم تصبح هضبة الحبشة ذات تربة خصبة - لم تتكون الجبال البركانية بأفريقيا مثل كينيا وكلمنجارو .
- ٣- اقتصرت منابع نهر النيل على هضبة البحيرات الاستوائية .
- ٤- لم تتميز سهول نهر النيل بالخصوبة حيث لم يصل الطمي من هضبة الحبشة البركانية .
- ٥- لم يتعرض سطح إفريقيا لحركات التوائية . لم تتكون الجبال الالتوائية مثل جبال اطلس والكاب .
- ٦- لم ينقل الطمي من هضبة الحبشة إلى مصر والسودان . لم تتميز سهول نهر النيل ذات تربة خصبة .
- ٧- كانت هضبة البحيرات الاستوائية تنحدر نحو الجنوب .
- ٨- لم تصل المياه منها الى دول حوض النيل ولم تصبح المنبع الدائم .
- ٩- استغلت قارة إفريقيا مواردها الطبيعية بشكل صحيح .
- ١٠- أصبحت من اغنى القارات من حيث الاقتصاد .

السؤال الثاني عشر : في عهد من بنيت المنشآت الآتية ...؟

- | | | | |
|----------------------|---------------|---------------------|---------------|
| ١- الهرم المدرج . | زوسر | ٢- الهرم الأوسط . | خفرع |
| ٣- معابد الشمس . | اوسر كاف | ٤- قناة سيزوستريس . | سنوسرت الثالث |
| ٥- حصني سمنا وقمنا . | سنوسرت الثالث | ٦- سد اللاهون . | امنحات الثالث |



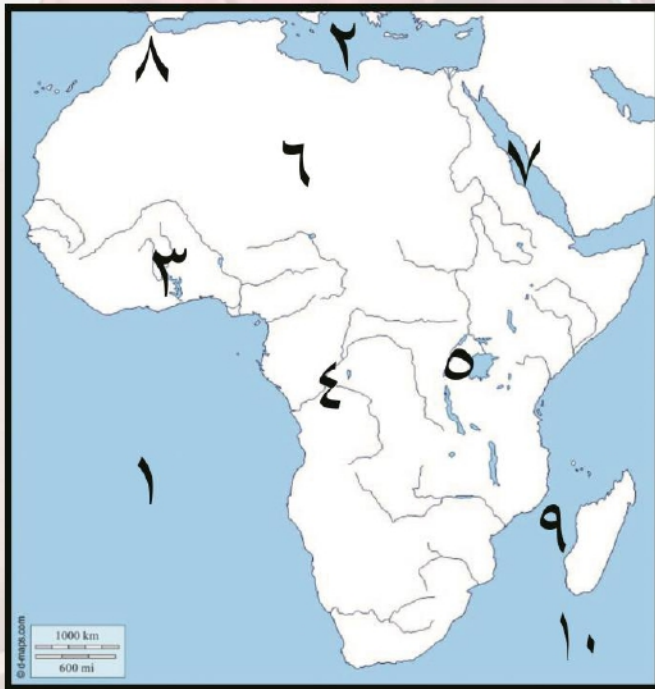
تم تحميل هذه الأوراق مجاناً من
أكبر وأصغر مكتبة تعليمية
موقع وتطبيق مذكرات جاهزة

السؤال الثالث عشر : أمامك خريطة صماء لمصر اكتب مدلول الأرقام عليها



- ١- يشير رقم (١) جبال أطلس .
- ٢- يشير رقم (٢) هضبة الحبشة .
- ٣- يشير رقم (٣) بحيرة فيكتوريا .
- ٤- يشير رقم (٤) جزيرة مدغشقر .
- ٥- يشير رقم (٥) النيل الأزرق .
- ٦- يشير رقم (٦) مدار السرطان .
- ٧- يشير رقم (٧) نهر عطبرة .
- ٨- يشير رقم (٨) حضارة كوش .
- ٩- يشير رقم (٩) جبال دراكنزبرج .
- ١٠- يشير رقم (١٠) جزر القمر .

السؤال الثاني عشر : أمامك خريطة صماء لمصر اكتب مدلول الأرقام عليها



- ١- يشير رقم (١) المحيط الاطلنطي .
- ٢- يشير رقم (٢) البحر المتوسط .
- ٣- يشير رقم (٣) نهر النيجر .
- ٤- يشير رقم (٤) نهر الكونغو .
- ٥- يشير رقم (٥) هضبة البحيرات الاستوائية .
- ٦- يشير رقم (٦) هضبة شمال افريقيا .
- ٧- يشير رقم (٧) البحر الأحمر .
- ٨- يشير رقم (٨) مضيق جبل طارق .
- ٩- يشير رقم (٩) مضيق موزمبيق .
- ١٠- يشير رقم (١٠) المحيط الهندي .

تطبيق



مذكرات جاهزة للطباعة

لتحميل الملفات التعليمية مجاناً للمعلم والطالب

مذكرات وملازم / مراجعات وملخصات / امتحانات / كتب الوزارة /
أدلة المعلم / دفاتر التحضير / سجلات مدرسية / أوراق تأسيس

امسح الكود بموبايلك علشان تقدر تثبت التطبيق

وتقدر ف أي وقت تحمّل ال نفسك فيه ببلاش

هيغنيك عن البحث والجروبات والقنوات الكثيرة

