

2026

سلسلة

البركان

في

الدراسات الاجتماعية

مراجعة

شهر

أكتوبر

أ / محمد عبد المصور

01129903122

6 ابتدائي



مراجعة شهر أكتوبر - ستة ابتدائى

السؤال الأول : أكمل العبارات الاتية بما يناسبها من كلمات :

- ١- يحد الوطن العربي من الغرب
- ٢- تعد دولة سوريا من دول الجناح
- ٣- الدولة العربية التي يمر بها خط جرينتش هي دولة
- ٤- يحد الوطن العربي من ناحية الشمال البحر
- ٥- اصغر دول الوطن العربي من حيث المساحة هي
- ٦- يربط مضيق هرمز بين و
- ٧- توجد النسبة الأكبر من مساحة الوطن العربي في الجناح
- ٨- يحد الوطن العربي من الشرق جبال كردستان و جبال
- ٩- يمر خط الاستواء في الوطن العربي عبر دولة
- ١٠- ممر ماني يربط بين البحر الأحمر والبحر المتوسط هو
- ١١- تمتد جبال أطلس في دولة
- ١٢- أكبر هضاب الوطن العربي من حيث المساحة هضبة
- ١٣- ساعد تنوع مظاهر السطح في الوطن العربي على تنوع
- ١٤- تتميز السهول الساحلية للبحر الأحمر والخليج العربي بـ
- ١٥- العوامل الداخلية لتشكيل سطح الأرض
- ١٦- تمتد سلاسل جبال الحجاز فى الجناح
- ١٧- نشأت جبال أطلس في الوطن العربي نتيجة الحركات التي تعرضت لها الأرض .
- ١٨- من الجبال الانكسارية في الوطن العربي
- ١٩- توجد واحة عين صالح في دولة
- ٢٠- تكونت الكثبان الرملية في الوطن العربي نتيجة التعرية
- ٢١- تعد سهول دجلة والفرات من السهول
- ٢٢- ساعد نهر على قيام الزراعة في مصر والسودان .
- ٢٣- العوامل المؤثرة في مناخ الوطن العربي
- ٢٤- تسود الأعشاب في الوطن العربي بالإقليم
- ٢٥- تنمو بالإقليم المدارى فى الوطن العربي حشائش
- ٢٦- تنمو الغابات المعتدلة بإقليم البحر المتوسط فوق
- ٢٧- يحدث تلوث الهواء بالوطن العربي بسبب حرق
- ٢٨- تسقط الأمطار في إقليم البحر المتوسط خلال فصل
- ٢٩- إحدى طرق مواجهة تلوث الهواء الاعتماد على الطاقة
- ٣٠- قام المصريون القدماء بإنشاء مخرات للسيول لحماية المعابد و
- ٣١- عمل الرسول (ص) وهو في بيت عمه بحرفة
- ٣٢- كانت من اشهر القبائل قبل الإسلام وقامت برفض الدعوة الإسلامية قبيلة



- ٣٣- كانت الأسواق مكاناً لتنافس الشعراء والخطباء مثل سوق و
- ٣٤- من العادات الحسنة في شبه الجزيرة العربية قبل الاسلام
- ٣٥- نزل سيدنا جبريل عليه السلام على النبي (ص) في احدى ليالى شهر
- ٣٦- ثانى الغزوات التي خاضها المسلمون ضد قريش هي غزوة
- ٣٧- هاجر الرسول (ص) الى يثرب وأخى بين و
- ٣٨- نقضت قريش صلح الحديبية باعتدائها على قبيلة
- ٣٩- بدأت مرحلة عالمية الدعوة بعد
- ٤٠- اول أسس بناء الدولة الإسلامية في يثرب

السؤال الثانى : أكتب كلمة (صواب) أمام العبارة الصحيحة وكلمة (خطأ) أمام العبارة غير الصحيحة

- ١- يمتد الوطن العربي بين قارتي آسيا وأوروبا . ()
- ٢- يفصل البحر الأحمر بين جناحي وطننا العربي . ()
- ٣- يقع الوطن العربي وسط قارات العالم القديم . ()
- ٤- العراق من دول الجناح العربي الإفريقي . ()
- ٥- يفصل بين جناحي الوطن العربي البحر الأحمر . ()
- ٦- تعد كل من فلسطين والأردن من دول الجناح العربي الإفريقي . ()
- ٧- تعد الجزائر الدولة العربية الوحيدة التي يقطعها خط جرينتش . ()
- ٨- تقع دولة جزر القمر في المحيط الهندي . ()
- ٩- من الأماكن الدينية المقدسة بالسعودية المسجد الأقصى . ()
- ١٠- ترجع الأهمية الحضارية للوطن العربي إلى موقعه الإستراتيجي . ()
- ١١- يربط مضيق جبل طارق بين المحيط الأطلنطي والبحر المتوسط . ()
- ١٢- الموقع الجغرافي المميز للوطن العربي جعله مطعماً للمحتلين عبر العصور . ()
- ١٣- توجد سهول فيضية في العراق ومصر . ()
- ١٤- تقع جبال أطلس في شبه الجزيرة العربية . ()
- ١٥- نهر النيل من السهول الخصبة في الوطن العربي . ()
- ١٦- جبال البحر الأحمر من الجبال الالتوائية في وطننا العربي . ()
- ١٧- تشكلت مظاهر السطح في الوطن العربي بفعل عوامل باطنية وأخرى سطحية . ()
- ١٨- أكبر هضاب الوطن العربي تقع في الجناح الإفريقي . ()
- ١٩- يسود المناخ المداري معظم أراضي الوطن العربي . ()
- ٢٠- أحد العوامل المؤثرة في المناخ الموقع الفلكي . ()
- ٢١- يؤدي التنوع المناخي إلى تنوع النبات الطبيعي . ()
- ٢٢- تمتد جبال البحر الأحمر في كل من مصر والسودان . ()
- ٢٣- تقع هضبة نجد في جنوب شبه الجزيرة العربية . ()
- ٢٤- من أمثلة الكثبان الرملية بحر الرمال العظيم بين مصر والجزائر . ()
- ٢٥- تتكون جبال أطلس من عدة سلاسل جبلية تمتد في ثلاث دول عربية . ()

تم تحميل هذه الأوراق مجاناً من
أكبر وأضخم مكتبة تعليمية
موقع وتطبيق مذكرات جاهزة

- ٢٦- جبال زاجروس وعمان من الجبال الالتوائية في الوطن العربي . ()
- ٢٧- تمتد هضبة إفريقيا الشمالية من البحر الأحمر إلى المحيط الأطلنطي . ()
- ٢٨- تنتشر الواحات في المناطق الساحلية في الوطن العربي . ()
- ٢٩- سهول البحر المتوسط صالحة للزراعة وتتميز بتربة خصبة . ()
- ٣٠- تنوع مظاهر السطح في الوطن العربي ساعد على تنوع الأنشطة الاقتصادية . ()
- ٣١- من أهم أشجار الغابات المعتدلة الزيتون والأرز . ()
- ٣٢- تتأثر كمية المطر باتجاه الكتل الجبلية . ()
- ٣٣- تنمو النباتات الشوكية في المناطق نادرة المطر . ()
- ٣٤- تنمو أشجار السنط بالوطن العربي في الغابات المدارية . ()
- ٣٥- تسقط الأمطار صيفاً على الأطراف الشمالية للوطن العربي . ()
- ٣٦- تؤدي السيول إلى إتلاف المحاصيل الزراعية . ()
- ٣٧- من أسباب التصحر في الوطن العربي الرعي الجائر للحيوانات . ()
- ٣٨- تتميز المناطق البعيدة عن المسطحات المائية باعتدال المناخ طوال العام . ()
- ٣٩- تغطي الثلوج بعض قمم الجبال المرتفعة في الوطن العربي . ()
- ٤٠- يتميز إقليم البحر المتوسط باعتدال الحرارة صيفاً وغازارة الأمطار شتاء . ()
- ٤١- تنمو أشجار الزيتون والأرز في إقليم البحر المتوسط بسبب وفرة الأمطار . ()
- ٤٢- تختلف أنواع النباتات في الإقليم الصحراوي حسب كمية المطر . ()
- ٤٣- تنوع مناخ الوطن العربي أدى إلى تشابه المحاصيل الزراعية . ()
- ٤٤- التوسع العمراني ساعد على حدوث مشكلة التصحر بالوطن العربي . ()
- ٤٥- ترشيد استهلاك المياه وإعادة تدويرها من أهم طرق مواجهة مشكلة الجفاف . ()
- ٤٦- ساد النظام الملكي في شبه الجزيرة العربية قبل الإسلام . ()
- ٤٧- تزوج الرسول (ص) من السيدة خديجة وانجب منها ستة من الأبناء . ()
- ٤٨- اجتمع زعماء قريش في دار الحكمة لمنع النبي (ص) من الهجرة . ()
- ٤٩- خروج الجيش للقتال بقيادة النبي (ص) يعرف بالسرية . ()
- ٥٠- هزم المسلمون في غزوة بدر بسبب قلة عددهم . ()

السؤال الثالث : اختر الإجابة الصحيحة مما بين الأقواس

- ١- تقع دولة جزر القمر في المحيط (الهادي - القطبي الشمالي - الهندي - الأطلنطي)
- ٢- أكبر الدول العربية من حيث المساحة (البحرين - السعودية - السودان - الجزائر)
- ٣- يحد الوطن العربي من ناحية الغرب المحيط (الأطلنطي - الهادي - الهندي - القطبي الجنوبي)
- ٤- يصل مضيق باب المندب بين البحر الأحمر وخليج (عمان - عدن - العقبة - السويس)
- ٥- تشرف دولة عُمان على مضيق (هرمز - باب المندب - جبل طارق - البسفور)
- ٦- تطل دولة المغرب على مضيق (جبل طارق - هرمز - باب المندب - البسفور)

- ٧- الدولة العربية الوحيدة التي تقع خارج النطاق الفلكي للوطن العربي هي
(جزر القمر - جيبوتي - لبنان - موريتانيا)
- ٨- مسطح مائي يفصل بين جناحي الوطن العربي هو
(بحر العرب - الخليج العربي - البحر الأحمر - البحر المتوسط)
- ٩- يساعد تنوع الموارد الطبيعية في الوطن العربي على
(تقلص المساحة - تنوع الإنتاج - قلة السكان - نقص التجارة)
- ١٠- إحدى الحضارات التي نشأت على أراضي الوطن العربي هي الحضارة
(الرومانية - اليونانية - العراقية - الهندية)
- ١١- أعلى قمة في جبال أطلس جبل
(توبقال - سانت كاترين - علبة - شايب البنات)
- ١٢- تمتد هضبة إفريقيا الشمالية من البحر المتوسط شمالاً إلى
(وسط إفريقيا - شرق إفريقيا - جنوب إفريقيا - غرب إفريقيا)
- ١٣- يوجد بحر الرمال العظيم بين دولتي
(سوريا ولبنان - العراق والأردن - مصر وليبيا - المغرب والجزائر)
- ١٤- تقع واحة عين صالح في دولة
(مصر - ليبيا - المغرب - الجزائر)
- ١٥- أحد الجبال الانكسارية في الوطن العربي جبال
(الحجاز - عمان - زاجروس - أطلس)
- ١٦- تمتد جبال أطلس في دول تونس والجزائر و
(مصر - السودان - ليبيا - المغرب)
- ١٧- تتعدد الهضاب التي تقع في الجناح العربي الآسيوي ومنها
(بادية الشام - إفريقيا الشمالية - هضبة الشطوط - الجلف الكبير)
- ١٨- تتميز السهول الساحلية على البحر الأحمر بوجود
(التربة الطينية - الأنهار العذبة - الغابات المطيرة - الثروات المعدنية)
- ١٩- تقع هضبة نجد في
(وسط شبه الجزيرة العربية - وسط هضبة إفريقيا الشمالية - غرب العراق - شرق ليبيا)
- ٢٠- من أشجار الغابات المدارية
(الزيتون - الأرز - البلوط - السنط)
- ٢١- أي مما يلي يعد من العوامل المؤثرة في مناخ الوطن العربي ؟
(عدد السكان - الموقع الفلكي - نوع التربة - خطوط الطول)
- ٢٢- يمتد إقليم البحر المتوسط في
(شمال الوطن العربي - وسط إفريقيا - جنوب الوطن العربي - منطقة الخليج)
- ٢٣- تعيش الزراف والنمور في مناطق
(الصحاري - الإستبس - السافانا - الواحات)
- ٢٤- إحدى المشكلات البيئية التي يواجهها الوطن العربي
(الأمية - الجفاف - كثافة الغابات - كثرة الثلوج)
- ٢٥- أي مما يلي يُعد سبباً لحدوث التصحر في الوطن العربي ؟
(زراعة الأشجار - حفر الآبار - غزارة الأمطار - الرعي الجائر)
- ٢٦- يمكن مواجهة تلوث الهواء من خلال الاعتماد على
(الأسمدة الكيميائية - الطاقة المتجددة - الوقود الأحفوري - الري بالرش)



- ٢٧- أى من التالي يعد من أسباب حدوث تلوث الهواء ؟
- (تناقص الأمطار - قطع الأشجار - التوسع العمرانى - حرق النفايات)
- ٢٨- زحف الرمال من أسباب حدوث مشكلة
- (التصحر - خصوبة التربة - الجفاف - نقص المياه)
- ٢٩- ولد الرسول (ص) في
- ٣٠- الغار الذى كان النبى (ص) يتعبد فيه هو غار
- (حراء - ثور - الكهف - الصفا)
- ٣١- احدى العادات الحسنة عند العرب قبل الاسلام
- (وأد البنات - اكرام الضيف - الاخذ بالتأثر - شرب الخمر)
- ٣٢- الغزوة التي تحول فيها نصر المسلمين الى هزيمة هي
- (بدر - الخندق - أحد - تبوك)
- ٣٣- تمكن النبى (ص) عام ٨ هـ من فتح
- (المدينة - مكة - الحديبية - الطائف)
- ٣٤- تختلف السرايا عن الغزوات في
- (مدة القتال - نوع الأسلحة - مكان المعركة - قائد الجيش)
- ٣٥- احد أسس قيام الدولة الإسلامية في المدينة
- (فتح مكة - حفر الخندق - بناء المسجد - انشاء قلعة)

السؤال الرابع : اكتب ما تشير اليه كل عبارة من العبارات التالية

- ١- الدولة العربية الوحيدة التي تقع خارج النطاق الفلكي للوطن العربي .
- ٢- أكبر هضاب الوطن العربي من حيث المساحة .
- ٣- جبال نشأت نتيجة الحركات الالتوائية التي تعرضت لها .
- ٤- جبال نشأت نتيجة الحركات الانكسارية في القشرة الأرضية .
- ٥- نحت الصخور ونقلها وإرسابها بواسطة المياه .
- ٦- تحت الصخور ونقلها وإرسابها بواسطة الرياح .
- ٧- تجمعات من الرمال الخفيفة تكونت بفعل التعرية الهوائية .
- ٨- أرض منخفضة تقع وسط الصحراء، تتم زراعتها باستخدام المياه الجوفية .
- ٩- أودية تكونت بفعل التعرية المائية وتستخدم كطرق للمواصلات .
- ١٠- مساحة من الأرض لها نفس الخصائص المناخية من حيث الحرارة والمطر .
- ١١- غابات تنمو في الأجزاء الشمالية من الوطن العربي .
- ١٢- نقص كمية الأمطار خلال فترة زمنية محددة .
- ١٣- تناقص قدرة الأراضي الزراعية على الإنتاج .
- ١٤- الدولة التي أطلقت مبادرة زراعة ٤٥٠ مليون شجرة .
- ١٥- الدولة التي أطلقت مبادرة زراعة ١٠٠ مليون شجرة مثمرة .

السؤال الخامس : صوب ما تحته خط فيما يلي

- ١- يحد الوطن العربي من جهة الشمال البحر المتوسط وجبال زاغروس .
- ٢- يحد الوطن العربي غربا المحيط الهندي .
- ٣- تمتلك دولة السودان سواحل مطلة على البحر المتوسط .



- ٤- يستخرج الصمغ العربي من أشجار الزيتون .
- ٥- تزدهر حشائش الإستيس في إقليم البحر المتوسط خلال فصل الربيع .
- ٦- تربي الأغنام والماعز على حشائش السافانا .
- ٧- يقع الإقليم الصحراوي بين إقليم البحر المتوسط والإقليم الاستوائي .
- ٨- إنشاء مدينة نيوم الخضراء هو أحد الجهود للحفاظ على البيئة في دولة البحرين .

السؤال السادس : اكتب اسم الشخصية التاريخية التي تدل عليها العبارات

- ١- والدة الرسول (ص) عاش معها حتى سن السادسة .
- ٢- حاول هدم الكعبة بجيش من الفيلة .
- ٣- عم الرسول (ص) الذي عاش في بيته وهو صغير .
- ٤- أخبر النبي (ص) بأنه نبي هذه الأمة .
- ٥- جد الرسول (ص) عاش معه حتى الثامنة من عمره .
- ٦- ملك الحبشة الذي هاجر اليها المسلمون لأول مرة .
- ٧- زوجة النبي (ص) وأول من آمنت من النساء .
- ٨- مرضعة النبي (ص) التي اكتسب من ديارها فصاحة اللسان .
- ٩- صاحب النبي (ص) في غار ثور ثلاثة أيام اثناء الهجرة .
- ١٠- أذن لأصحابه بالهجرة الى يثرب عندما اشتد أذى قريش للمسلمين .
- ١١- أشار على النبي (ص) ان يعسكر عند أقرب بئر لبدر لمنع الماء عن المشركين .
- ١٢- نقضوا صلح الحديبية بعقدائهم على قبيلة خزاعة .
- ١٣- تأمروا على قتل النبي (ص) ومنعه من الهجرة .
- ١٤- اقترح على النبي (ص) بحفر خندق حول المدينة .

السؤال السابع : بم تفسر ... ؟

- ١- الأهمية الإستراتيجية لموقع الوطن العربي .

٢- الأهمية الحضارية للوطن العربي .

٣- الأهمية الدينية للوطن العربي .

٤- تحكم الوطن العربي في طرق التجارة العالمية .

٥- تنوع الإنتاج وزيادة النشاط الاقتصادي للوطن العربي .

٦- أهمية الوطن العربي الاقتصادية .

٧- تنوع مظاهر السطح في الوطن العربي .

٨- تغطى الثلوج بعض القمم العالية مثل جبال لبنان .

٩- تكون جبال البحر الأحمر بالوطن العربي .

١٠- أهمية الأودية الجافة فى الوطن العربي .

١١- قيام الزراعة فى الواحات بالوطن العربي .

١٢- تركيز سكان الوطن العربي فى مناطق السهول الفيضية .

١٣- تتدرج حشائش السافانا فى الطول .

١٤- تنمو الغابات المعتدلة فوق المنحدرات الجبلية .

١٥- تعتبر حشائش السافانا حديقة حيوان طبيعية .

١٦- أهمية حشائش الإستبس فى الوطن العربي .

١٧- تعاني معظم الدول العربية من ندرة المياه العذبة .

١٨- حدوث ظاهرة التصحر فى الوطن العربي .

١٩- يواجه الوطن العربي العديد من المشكلات البيئية .

٢٠- تلوث الهواء فى الوطن العربي .

٢١- إطلاق مصر مبادرة زراعة ١٠٠ مليون شجرة مثمرة .

٢٢- إطلاق السعودية مبادرة ٤٥٠ مليون شجرة فى الدول العربية .

٢٣- قيام المصريين القدماء بإنشاء مخرات للسيول .

٢٤- حاجة العالم الى مجئ النبى (ص) .

٢٥- التقاء النبى مع المسلمين فى دار الارقم .

٢٦- ذهاب النبى (ص) الى غار حراء .

٢٧- رفض قريش للدعوة الاسلامية .

٢٨- ساد نظام الحكم القبلي في شبه الجزيرة العربية .

٢٩- اجتماع زعماء قريش في دار الندوة .

٣٠- وضع النبي (ص) صحيفة المدينة .

٣١- هزيمة المسلمين في غزوة أحد .

٣٢- تسمية غزوة الخندق بهذا الاسم .

٣٣- اهتم النبي (ص) بتكوين جيش قوى .

٣٤- أهمية بناء المسجد في تأسيس الدولة الاسلامية .

٣٥- خاض النبي (ص) العديد من الغزوات وارسل السرايا .

السؤال الثامن : ما النتائج المترتبة على ؟

١- الموقع الجغرافي المتميز للوطن العربي .

٢- تحكم الوطن العربي فى ممرات مائة مهمة .

٣- انساع مساحة الوطن العربي وتنوع موارده الطبيعية .

٤- الموقع الفلكي للوطن العربي .

٥- تنوع التضاريس في الوطن العربي .

٦- وجود السهول الساحلية في الوطن العربي .

٧- حدوث الحركات الانكسارية بالوطن العربي .

٨- حدوث الحركات الالتوائية بالوطن العربي .

٩- وجود مياه جوفية فى واحات الوطن العربي .

١٠- تنوع المناخ في الوطن العربي .

١١- غزارة الأمطار فوق المنحدرات الجبلية بإقليم البحر المتوسط .

١٢- اختلاف كمية المطر في الإقليم الصحراوي .

١٣- استخدام طرق الري التقليدية في الزراعة .

١٤- حدوث التغيرات المناخية بالوطن العربي .

١٥- تعرض كثير من الدول العربية لخطر الجفاف .

١٦- حدوث السيول في المناطق الزراعية .

١٧- عمل النبي (ص) في رعى الأغنام .

١٨- رفض قريش للدعوة الإسلامية .

١٩- دعوة النبي (ص) وفود القبائل الى الإسلام في موسم الحج .

٢٠- غزوة بدر ٢ هـ .

٢١- مخالفة الرماة أوامر النبي (ص) في غزوة أحد ٣ هـ .

٢٢- غزوة الخندق ٥ هـ .

٢٣- نقض قريش صلح الحديبية .

السؤال التاسع : دلل على صحة العبارات التالية

١- تتميز شبه الجزيرة العربية بتعدد الهضاب بها .

٢- تتميز السهول الساحلية في الوطن العربي بتنوع الموارد والاستخدامات .

٣- تؤثر التعرية الهوائية على سطح الوطن العربي .

٤- الأشجار الغابات المدارية بالوطن العربي أهمية اقتصادية كبرى .

٥- اختلاف النبات الطبيعي في الإقليم الصحراوي بالوطن العربي .

٦- تعد حشائش السافانا بالوطن العربى حديقة حيوان طبيعية .

٧- جهود بعض الدول العربية لزيادة المساحات الخضراء .

٨- أثرت الحركات الانكسارية على مظاهر سطح الوطن العربى .

٩- تحدث المشكلات البيئية لأسباب طبيعية وأخرى بشرية .

١٠- يمكن استخدام التكنولوجيا الحديثة في مواجهة السيول .

١١- اثرت ديار بنى سعد في حياة النبى (ص) .

١٢- شهرة العرب بالشعر والخطابة .

١٣- اتصف العرب قبل الإسلام بعدة عادات حسنة .

١٤- حرص النبى (ص) على التعايش السلمى في المدينة .

السؤال العاشر : ماذا يحدث اذا

١- لم يكن للوطن العربى موقع جغرافى متميز .

٢- لم تتنوع مظاهر السطح في الوطن العربى .

٣- لم يؤثر المناخ على نوعية النباتات .

٤- لم توجد سهول فيضية في الوطن العربى .

٥- لم يتعرض الوطن العربى لحركات التوائية .

٦- سقطت أمطار قليلة على منحدرات جبال أطلس .

٧- اختلفت الأنهار من الوطن العربى .



السؤال الحادي عشر : ما العلاقة بين ؟

١- الموقع الفلكي والمناخ في الوطن العربي .

٢- المناخ والنبات الطبيعي .
٣- الهضاب والجبال في تشكيل سطح الوطن العربي .

٤- الكتل الجبلية والمطر .

٥- المياه الجوفية والواحات .

٦- المسطحات المائية ومناخ الوطن العربي .

٧- المطر والنبات الصحراوي .
٨- الأنهار والسهول الفيضية .
٩- التضاريس والأنشطة الاقتصادية في الوطن العربي .

١٠- نهر النيل والسهول الفيضية .

١١- مبادرات زراعة الأشجار ومواجهة التغير المناخي .

١٢- الأسواق والشعر عند العرب .

١٣- الدعوة السرية ودار الأرقم بن ابي الارقم .

١٤- صلح الحديبية وفتح مكة .

١٥- الغنائم وغزوة أحد .

السؤال الثاني عشر : ما المقصود بكل من

١- التعرية المائية

٢- الإقليم المناخي



- ٣- التصحر
- ٤- السيول
- ٥- الوطن العربي
- ٦- التعرية الهوائية
- ٧- الأودية الجافة
- ٨- الجفاف
- ٩- القبيلة
- ١٠- النظام القبلي
- ١١- الوحي
- ١٢- المهاجرون
- ١٣- الانصار
- ١٤- الغزوة
- ١٥- السرية

السؤال الثالث عشر : إلى أى الأقاليم المناخية تنتمي النباتات الطبيعية والحيوانات الآتية ؟

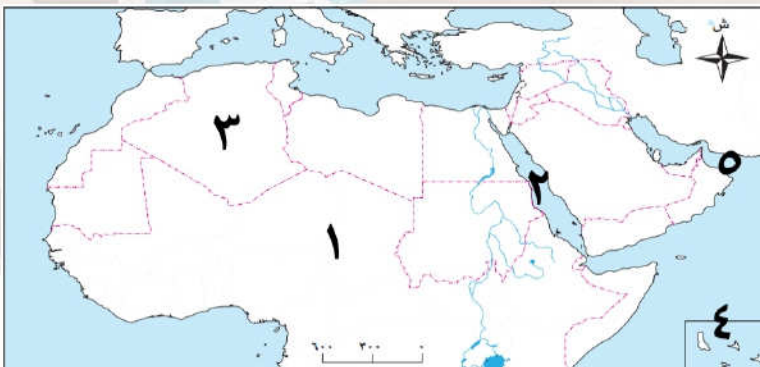
- | | |
|------------|-------------|
| ١- الأفيال | ٢- الزيتون |
| ٣- السنط | ٤- الإبل |
| ٥- الزراف | ٦- السافانا |
| ٧- الأغنام | ٨- الغزلان |
| ٩- الإستبس | |

السؤال الرابع عشر : أمامك خريطة صماء لمصر اكتب مدلول الأرقام عليها



(خريطة رقم ١)

- ١- البحر
- ٢- جبال
- ٣- الخليج
- ٤- المحيط
- ٥- المحيط



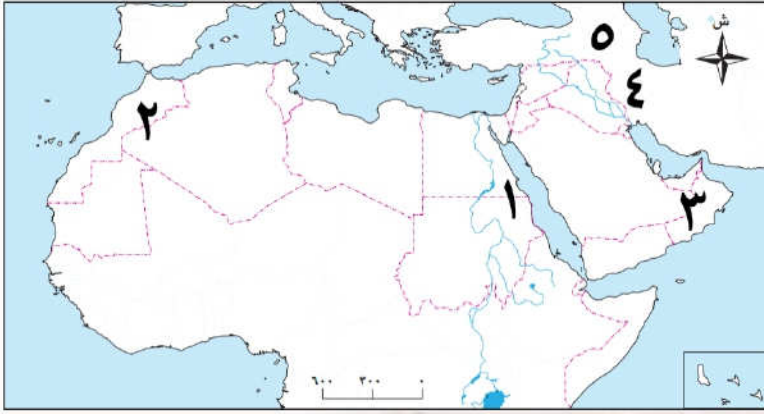
(خريطة رقم ٢)

- ١- الصحراء
- ٢- البحر
- ٣- أكبر دول الوطن العربي
- ٤- أصغر دول الوطن العربي
- ٥- خليج



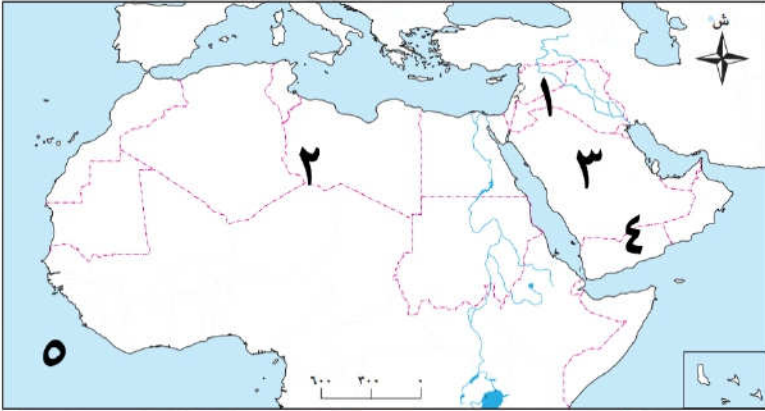
(خريطة رقم ٣)

- ١- جبال
- ٢- جبال
- ٣- جبال
- ٤- جبال
- ٥- جبال



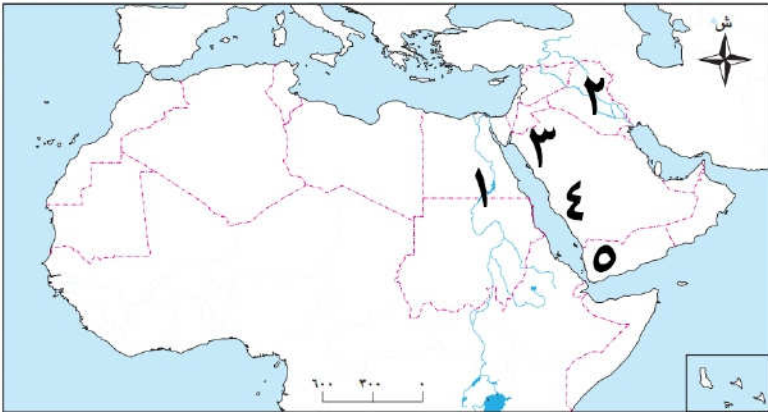
(خريطة رقم ٤)

- ١- هضبة
- ٢- هضبة
- ٣- هضبة
- ٤- هضبة
- ٥- المحيط



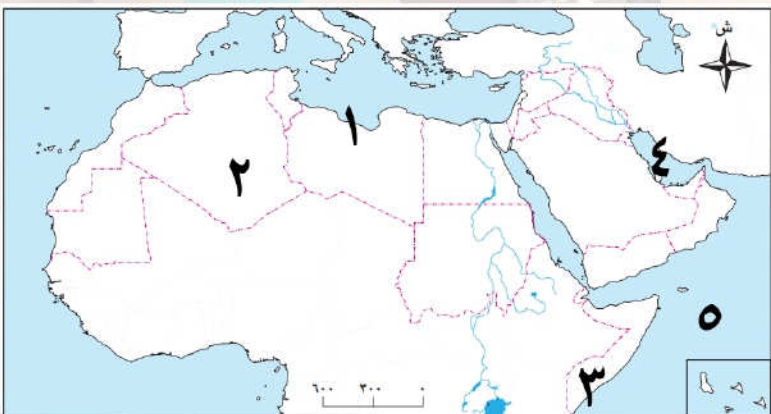
(خريطة رقم ٥)

- ١- نهر
- ٢- نهرا
- ٣- جبال
- ٤- جبال
- ٥- جبال



(خريطة رقم ٦)

- ١- إقليم مناخي
- ٢- إقليم مناخي
- ٣- إقليم مناخي
- ٤- الخليج
- ٥- المحيط



مراجعة شهر أكتوبر - ستة ابتدائي

السؤال الأول : أكمل العبارات الآتية بما يناسبها من كلمات :

- ١- يحد الوطن العربي من الغرب **المحيط الاطلنطي** .
- ٢- تعد دولة سوريا من دول الجناح **الاسيوي** .
- ٣- الدولة العربية التي يمر بها خط جرينتش هي دولة **الجزائر** .
- ٤- يحد الوطن العربي من ناحية الشمال البحر **المتوسط** .
- ٥- اصغر دول الوطن العربي من حيث المساحة هي **البحرين** .
- ٦- يربط مضيق هرمز بين **خليج عمان** و **الخليج العربي** .
- ٧- توجد النسبة الأكبر من مساحة الوطن العربي في الجناح **الافريقي** .
- ٨- يحد الوطن العربي من الشرق جبال كردستان و جبال **زاجروس** .
- ٩- يمر خط الاستواء في الوطن العربي عبر دولة **الصومال** .
- ١٠- ممر ماني يربط بين البحر الأحمر والبحر المتوسط هو **قناة السويس** .
- ١١- تمتد جبال أطلس في دولة **المغرب وتونس والجزائر** .
- ١٢- أكبر هضاب الوطن العربي من حيث المساحة هضبة **افريقيا الشمالية** .
- ١٣- ساعد تنوع مظاهر السطح في الوطن العربي على تنوع **الموارد والأنشطة الاقتصادية** .
- ١٤- تتميز السهول الساحلية للبحر الأحمر والخليج العربي بـ **غنية بالثروات المعدنية** .
- ١٥- العوامل الداخلية لتشكيل سطح الأرض **الالتواءات والانكسارات** .
- ١٦- تمتد سلاسل جبال الحجاز في الجناح **الاسيوي** .
- ١٧- نشأت جبال أطلس في الوطن العربي نتيجة الحركات **الالتوائية** التي تعرضت لها الأرض .
- ١٨- من الجبال الانكسارية في الوطن العربي **جبال البحر الأحمر** .
- ١٩- توجد واحة عين صالح في دولة **الجزائر** .
- ٢٠- تكونت الكثبان الرملية في الوطن العربي نتيجة التعرية **الهوائية** .
- ٢١- تعد سهول دجلة والفرات من السهول **الفيضية** .
- ٢٢- ساعد نهر **النيل** على قيام الزراعة في مصر والسودان .
- ٢٣- العوامل المؤثرة في مناخ الوطن العربي **الموقع الفلكي** .
- ٢٤- تسود الأعشاب في الوطن العربي بالإقليم **الصحراوي الحار** .
- ٢٥- تنمو بالإقليم المداري في الوطن العربي حشائش **السافانا** .
- ٢٦- تنمو الغابات المعتدلة بإقليم البحر المتوسط فوق **المنحدرات الجبلية** .
- ٢٧- يحدث تلوث الهواء بالوطن العربي بسبب حرق **النفائيات** .
- ٢٨- تسقط الأمطار في إقليم البحر المتوسط خلال فصل **الشتاء** .
- ٢٩- إحدى طرق مواجهة تلوث الهواء الاعتماد على الطاقة **المتجددة** .
- ٣٠- قام المصريون القدماء بإنشاء مخرات للسيول لحماية المعابد و **المقابر** .
- ٣١- عمل الرسول (ﷺ) وهو في بيت عمه بحرفة **رعى الأغنام** .
- ٣٢- كانت من اشهر القبائل قبل الإسلام وقامت برفض الدعوة الإسلامية قبيلة **قريش** .

- ٣٣- كانت الأسواق مكاناً لتنافس الشعراء والخطباء مثل سوق **عكاظ** و **ذي المجاز**.
- ٣٤- من العادات الحسنة في شبه الجزيرة العربية قبل الاسلام **الوفاء بالعهد**.
- ٣٥- نزل سيدنا جبريل عليه السلام على النبي (ﷺ) في احدى ليالى شهر **رمضان**.
- ٣٦- ثانی الغزوات التي خاضها المسلمون ضد قريش هي غزوة **أحد**.
- ٣٧- هاجر الرسول (ﷺ) الى يثرب وأخى بين **المهاجرين** و **الأنصار**.
- ٣٨- نقضت قريش صلح الحديبية باعتدائها على قبيلة **خزاعة**.
- ٣٩- بدأت مرحلة عالمية الدعوة بعد **صلح الحديبية**.
- ٤٠- اول أسس بناء الدولة الإسلامية في يثرب **بناء المسجد**.

السؤال الثاني : أكتب كلمة (صواب) أمام العبارة الصحيحة وكلمة (خطأ) أمام العبارة غير الصحيحة

- ١- يمتد الوطن العربي بين قارتي آسيا وأوروبا . (خطأ)
- ٢- يفصل البحر الأحمر بين جناحي وطننا العربي . (صواب)
- ٣- يقع الوطن العربي وسط قارات العالم القديم . (صواب)
- ٤- العراق من دول الجناح العربي الإفريقي . (خطأ)
- ٥- يفصل بين جناحي الوطن العربي البحر الأحمر . (صواب)
- ٦- تعد كل من فلسطين والأردن من دول الجناح العربي الإفريقي . (خطأ)
- ٧- تعد الجزائر الدولة العربية الوحيدة التي يقطعها خط جرينتش . (صواب)
- ٨- تقع دولة جزر القمر في المحيط الهندي . (صواب)
- ٩- من الأماكن الدينية المقدسة بالسعودية المسجد الأقصى . (خطأ)
- ١٠- ترجع الأهمية الحضارية للوطن العربي إلى موقعه الإستراتيجي . (صواب)
- ١١- يربط مضيق جبل طارق بين المحيط الأطلنطي والبحر المتوسط . (صواب)
- ١٢- الموقع الجغرافي المميز للوطن العربي جعله مطمعا للمحتلين عبر العصور . (صواب)
- ١٣- توجد سهول فيضية في العراق ومصر . (صواب)
- ١٤- تقع جبال أطلس في شبه الجزيرة العربية . (خطأ)
- ١٥- نهر النيل من السهول الخصبة في الوطن العربي . (صواب)
- ١٦- جبال البحر الأحمر من الجبال الالتوائية في وطننا العربي . (خطأ)
- ١٧- تشكلت مظاهر السطح في الوطن العربي بفعل عوامل باطنية وأخرى سطحية . (صواب)
- ١٨- أكبر هضاب الوطن العربي تقع في الجناح الإفريقي . (صواب)
- ١٩- يسود المناخ المداري معظم أراضي الوطن العربي . (خطأ)
- ٢٠- أحد العوامل المؤثرة في المناخ الموقع الفلكي . (صواب)
- ٢١- يؤدي التنوع المناخي إلى تنوع النبات الطبيعي . (صواب)
- ٢٢- تمتد جبال البحر الأحمر في كل من مصر والسودان . (صواب)
- ٢٣- تقع هضبة نجد في جنوب شبه الجزيرة العربية . (خطأ)
- ٢٤- من أمثلة الكثبان الرملية بحر الرمال العظيم بين مصر والجزائر . (خطأ)
- ٢٥- تتكون جبال أطلس من عدة سلاسل جبلية تمتد في ثلاث دول عربية . (صواب)



تم تحميل هذه الأوراق مجاناً من
أكبر وأضخم مكتبة تعليمية
موقع وتطبيق مذكرات جاهزة

(صواب)

(صواب)

(خطأ)

(صواب)

(صواب)

(صواب)

(صواب)

(صواب)

(صواب)

(خطأ)

(صواب)

(صواب)

(خطأ)

(صواب)

(خطأ)

(صواب)

(صواب)

(خطأ)

(صواب)

(صواب)

(خطأ)

(صواب)

(خطأ)

(خطأ)

(خطأ)

- ٢٦- جبال زاجروس وعمان من الجبال الالتوائية في الوطن العربي .
٢٧- تمتد هضبة إفريقيا الشمالية من البحر الأحمر إلى المحيط الأطلنطي .
٢٨- تنتشر الواحات في المناطق الساحلية في الوطن العربي .
٢٩- سهول البحر المتوسط صالحة للزراعة وتتميز بتربة خصبة .
٣٠- تنوع مظاهر السطح في الوطن العربي ساعد على تنوع الأنشطة الاقتصادية .
٣١- من أهم أشجار الغابات المعتدلة الزيتون والأرز .
٣٢- تتأثر كمية المطر باتجاه الكتل الجبلية .
٣٣- تنمو النباتات الشوكية في المناطق نادرة المطر .
٣٤- تنمو أشجار السنط بالوطن العربي في الغابات المدارية .
٣٥- تسقط الأمطار صيفاً على الأطراف الشمالية للوطن العربي .
٣٦- تؤدي السيول إلى إتلاف المحاصيل الزراعية .
٣٧- من أسباب التصحر في الوطن العربي الرعي الجائر للحيوانات .
٣٨- تتميز المناطق البعيدة عن المسطحات المائية باعتدال المناخ طوال العام .
٣٩- تغطي الثلوج بعض قمم الجبال المرتفعة في الوطن العربي .
٤٠- يتميز إقليم البحر المتوسط باعتدال الحرارة صيفاً وغازارة الأمطار شتاء .
٤١- تنمو أشجار الزيتون والأرز في إقليم البحر المتوسط بسبب وفرة الأمطار .
٤٢- تختلف أنواع النباتات في الإقليم الصحراوي حسب كمية المطر .
٤٣- تنوع مناخ الوطن العربي أدى إلى تشابه المحاصيل الزراعية .
٤٤- التوسع العمراني ساعد على حدوث مشكلة التصحر بالوطن العربي .
٤٥- ترشيد استهلاك المياه وإعادة تدويرها من أهم طرق مواجهة مشكلة الجفاف .
٤٦- ساد النظام الملكي في شبه الجزيرة العربية قبل الإسلام .
٤٧- تزوج الرسول (ﷺ) من السيدة خديجة وانجب منها ستة من الأبناء .
٤٨- اجتمع زعماء قريش في دار الحكمة لمنع النبي (ﷺ) من الهجرة .
٤٩- خروج الجيش للقتال بقيادة النبي (ﷺ) يعرف بالسرية .
٥٠- هزم المسلمون في غزوة بدر بسبب قلة عددهم .

السؤال الثالث : اختر الإجابة الصحيحة مما بين الأقواس

- ١- تقع دولة جزر القمر في المحيط (الهادي - القطبي الشمالي - الهندي - الأطلنطي)
٢- أكبر الدول العربية من حيث المساحة (البحرين - السعودية - السودان - الجزائر)
٣- يحد الوطن العربي من ناحية الغرب المحيط
٤- يصل مضيق باب المندب بين البحر الأحمر وخليج (الأطلنطي - الهادي - الهندي - القطبي الجنوبي)
٥- تصل مضيق عمان على مضيق (عمان - عدن - العقبة - السويس)
٦- تشرق دولة عُمان على مضيق (هرمز - باب المندب - جبل طارق - البسفور)
٦- تطل دولة المغرب على مضيق (جبل طارق - هرمز - باب المندب - البسفور)

- ٧- الدولة العربية الوحيدة التي تقع خارج النطاق الفلكي للوطن العربي هي
(جزر القمر - جيبوتي - لبنان - موريتانيا)
- ٨- مسطح مائي يفصل بين جناحي الوطن العربي هو
(بحر العرب - الخليج العربي - البحر الأحمر - البحر المتوسط)
- ٩- يساعد تنوع الموارد الطبيعية في الوطن العربي على
(تقلص المساحة - تنوع الإنتاج - قلة السكان - نقص التجارة)
- ١٠- إحدى الحضارات التي نشأت على أراضي الوطن العربي هي الحضارة
(الرومانية - اليونانية - العراقية - الهندية)
- ١١- أعلى قمة في جبال أطلس جبل
(توبقال - سانت كاترين - علبة - شايب البنات)
- ١٢- تمتد هضبة إفريقيا الشمالية من البحر المتوسط شمالاً إلى
(وسط إفريقيا - شرق إفريقيا - جنوب إفريقيا - غرب إفريقيا)
- ١٣- يوجد بحر الرمال العظيم بين دولتي
(سوريا ولبنان - العراق والأردن - مصر وليبيا - المغرب والجزائر)
- ١٤- تقع واحة عين صالح في دولة
(مصر - ليبيا - المغرب - الجزائر)
- ١٥- أحد الجبال الانكسارية في الوطن العربي جبال
(الحجاز - عمان - زاجروس - أطلس)
- ١٦- تمتد جبال أطلس في دول تونس والجزائر و
(مصر - السودان - ليبيا - المغرب)
- ١٧- تتعدد الهضاب التي تقع في الجناح العربي الآسيوي ومنها
(بادية الشام - إفريقيا الشمالية - هضبة الشطوط - الجلف الكبير)
- ١٨- تتميز السهول الساحلية على البحر الأحمر بوجود
(التربة الطينية - الأنهار العذبة - الغابات المطيرة - الثروات المعدنية)
- ١٩- تقع هضبة نجد في
(وسط شبه الجزيرة العربية - وسط هضبة إفريقيا الشمالية - غرب العراق - شرق ليبيا)
- ٢٠- من أشجار الغابات المدارية
(الزيتون - الأرز - البلوط - السنط)
- ٢١- أي مما يلي يعد من العوامل المؤثرة في مناخ الوطن العربي ؟
(عدد السكان - الموقع الفلكي - نوع التربة - خطوط الطول)
- ٢٢- يمتد إقليم البحر المتوسط في
(شمال الوطن العربي - وسط إفريقيا - جنوب الوطن العربي - منطقة الخليج)
- ٢٣- تعيش الزراف والنمور في مناطق
(الصحاري - الإستبس - السافانا - الواحات)
- ٢٤- إحدى المشكلات البيئية التي يواجهها الوطن العربي
(الأمية - الجفاف - كثافة الغابات - كثرة الثلوج)
- ٢٥- أي مما يلي يُعد سبباً لحدوث التصحر في الوطن العربي ؟
(زراعة الأشجار - حفر الآبار - غزارة الأمطار - الرعي الجائر)
- ٢٦- يمكن مواجهة تلوث الهواء من خلال الاعتماد على
(الأسمدة الكيميائية - الطاقة المتجددة - الوقود الأحفوري - الري بالرش)



- ٢٧- أى من التالي يعد من أسباب حدوث تلوث الهواء ؟
- (تناقص الأمطار - قطع الأشجار - التوسع العمرانى - حرق النفايات)
- ٢٨- زحف الرمال من أسباب حدوث مشكلة
- (التصحر - خصوبة التربة - الجفاف - نقص المياه)
- ٢٩- ولد الرسول (ﷺ) في
- ٣٠- الغار الذى كان النبى (ﷺ) يتعبد فيه هو غار
- (حراء - ثور - الكهف - الصفا)
- ٣١- احدى العادات الحسنة عند العرب قبل الاسلام
- (وأد البنات - اكرام الضيف - الاخذ بالتأثر - شرب الخمر)
- ٣٢- الغزوة التي تحول فيها نصر المسلمين الى هزيمة هي
- (بدر - الخندق - أحد - تبوك)
- ٣٣- تمكن النبى (ﷺ) عام ٨ هـ من فتح
- (المدينة - مكة - الحديبية - الطائف)
- ٣٤- تختلف السرايا عن الغزوات في
- (مدة القتال - نوع الأسلحة - مكان المعركة - قائد الجيش)
- ٣٥- احد أسس قيام الدولة الإسلامية في المدينة
- (فتح مكة - حفر الخندق - بناء المسجد - انشاء قلعة)

السؤال الرابع : اكتب ما تشير اليه كل عبارة من العبارات التالية

- ١- الدولة العربية الوحيدة التي تقع خارج النطاق الفلكي للوطن العربي .
- ٢- أكبر هضاب الوطن العربي من حيث المساحة .
- ٣- جبال نشأت نتيجة الحركات الالتوائية التي تعرضت لها .
- ٤- جبال نشأت نتيجة الحركات الانكسارية في القشرة الأرضية .
- ٥- نحت الصخور ونقلها وإرسابها بواسطة المياه .
- ٦- تحت الصخور ونقلها وإرسابها بواسطة الرياح .
- ٧- تجمعات من الرمال الخفيفة تكونت بفعل التعرية الهوائية .
- ٨- أرض منخفضة تقع وسط الصحراء، تتم زراعتها باستخدام المياه الجوفية .
- ٩- أودية تكونت بفعل التعرية المائية وتستخدم كطرق للمواصلات .
- ١٠- مساحة من الأرض لها نفس الخصائص المناخية من حيث الحرارة والمطر .
- ١١- غابات تنمو في الأجزاء الشمالية من الوطن العربي .
- ١٢- نقص كمية الأمطار خلال فترة زمنية محددة .
- ١٣- تناقص قدرة الأراضي الزراعية على الإنتاج .
- ١٤- الدولة التي أطلقت مبادرة زراعة ٤٥٠ مليون شجرة .
- ١٥- الدولة التي أطلقت مبادرة زراعة ١٠٠ مليون شجرة مثمرة .

السؤال الخامس : صوب ما تحته خط فيما يلي

- ١- يحد الوطن العربي من جهة الشمال البحر المتوسط وجبال زاغروس .
- ٢- يحد الوطن العربي غربا المحيط الهندي .
- ٣- تمتلك دولة السودان سواحل مطلة على البحر المتوسط .

جزر القمر

أفريقيا الشمالية

جبال التوائية

جبال انكسارية

التعرية المائية

التعرية الهوائية

كثبان رملية

الواحات

أودية جافة

إقليم مناخى

غابات معتدلة

الجفاف

التصحر

السعودية

مصر

طوروس

الاطلنطى

الاحمر



- ٤- يستخرج الصمغ العربي من أشجار الزيتون .
- ٥- تزدهر حشائش الإستيس في إقليم البحر المتوسط خلال فصل الربيع .
- ٦- تربي الأغنام والماعز على حشائش السافانا .
- ٧- يقع الإقليم الصحراوي بين إقليم البحر المتوسط والإقليم الاستوائي .
- ٨- إنشاء مدينة نيوم الخضراء هو أحد الجهود للحفاظ على البيئة في دولة البحرين . السعودية

السؤال السادس : اكتب اسم الشخصية التاريخية التي تدل عليها العبارات

- ١- والدة الرسول (ﷺ) عاش معها حتى سن السادسة .
- ٢- حاول هدم الكعبة بجيش من الفيلة .
- ٣- عم الرسول (ﷺ) الذي عاش في بيته وهو صغير .
- ٤- أخبر النبي (ﷺ) بأنه نبي هذه الأمة .
- ٥- جد الرسول (ﷺ) عاش معه حتى الثامنة من عمره .
- ٦- ملك الحبشة الذي هاجر اليها المسلمون لأول مرة .
- ٧- زوجة النبي (ﷺ) وأول من آمنت من النساء .
- ٨- مرضعة النبي (ﷺ) التي اكتسب من ديارها فصاحة اللسان .
- ٩- صاحب النبي (ﷺ) في غار ثور ثلاثة أيام اثناء الهجرة .
- ١٠- أذن لأصحابه بالهجرة الى يثرب عندما اشتد أذى قريش للمسلمين .
- ١١- أشار على النبي (ﷺ) ان يعسكر عند أقرب بئر لبدر لمنع الماء عن المشركين .
- ١٢- نقضوا صلح الحديبية باعتدائهم على قبيلة خزاعة .
- ١٣- تأمروا على قتل النبي (ﷺ) ومنعه من الهجرة .
- ١٤- اقترح على النبي (ﷺ) بحفر خندق حول المدينة .

السؤال السابع : بم تفسر ... ؟

- ١- الأهمية الإستراتيجية لموقع الوطن العربي . .
- بسبب تحكمه في ممرات مائية هامة مثل قناة السويس - مضيق هرمز - مضيق باب المندب - مضيق جبل طارق وهذا ما جعله ذا أهمية كبيرة وقت الحروب والصراعات الدولية .
- ٢- الأهمية الحضارية للوطن العربي .
- لانه نشأت على ارضه العديد من الحضارات القديمة منها الحضارة المصرية والعراق واليمن .
- ٣- الأهمية الدينية للوطن العربي .
- لانه مهد الديانات السماوية الثلاثة (اليهودية - المسيحية - الإسلام) - تمثل تلك الديانات أماكن مقدسة يقصدها الزائرون من جميع انحاء العالم مثل الكعبة المشرفة - المسجد الاقصي - كنيسة المهد .
- ٤- تحكم الوطن العربي في طرق التجارة العالمية .
- لانه يطل على مسطحات مائية هامة منها البحر المتوسط والاحمر والخليج العربي .
- ٥- تنوع الإنتاج وزيادة النشاط الاقتصادي للوطن العربي .
- بسبب اتساع مساحته وتنوع موارده الطبيعية مثل المعادن والبتترول وتنوع الأقاليم المناخية والنباتية .



- ٦- أهمية الوطن العربي الاقتصادية .
- لانه يطل على مسطحات مائية هامة منها البحر المتوسط والاحمر والخليج العربي مما جعله يتحكم في طرق التجارة - ولاتساع مساحته وتنوع موارده الطبيعية مثل المعادن والبتروول .
- ٧- تنوع مظاهر السطح في الوطن العربي .
- بسبب تنوع الموارد والأنشطة الاقتصادية مثل الزراعة والصيد والتعدين والسياحة والصناعة .
- ٨- تغطي الثلوج بعض القمم العالية مثل جبال لبنان .
- لانه كلما ارتفعنا ١٥٠ متر عن مستوى سطح البحر تنخفض الحرارة درجة مئوية واحدة .
- ٩- تكون جبال البحر الأحمر بالوطن العربي . بسبب الحركات الانكسارية .
- ١٠- اهمية الأودية الجافة في الوطن العربي . تستخدم كطريق للنقل والمواصلات واستخراج المياه الجوفية
- ١١- قيام الزراعة في الواحات بالوطن العربي . بسبب وجود المياه الجوفية .
- ١٢- تركيز سكان الوطن العربي في مناطق السهول الفيضية . بسبب خصوبة التربة وقيام الزراعة بها .
- ١٣- تتدرج حشائش السافانا في الطول . حسب كمية المطر .
- ١٤- تنمو الغابات المعتدلة فوق المنحدرات الجبلية . لغزارة الامطار .
- ١٥- تعتبر حشائش السافانا حديقة حيوان طبيعية .
- لانه يعيش في مناطق السافانا حيوانات مثل الزراف والأسود والنمور والافيال .
- ١٦- أهمية حشائش الإستبس في الوطن العربي . لانها تربي عليها الأغنام والماعز .
- ١٧- تعاني معظم الدول العربية من ندرة المياه العذبة .
- بسبب قلة سقوط الامطار - سوء إدارة الموارد المائية - زيادة عدد السكان في بعض الدول العربية .
- ١٨- حدوث ظاهرة التصحر في الوطن العربي .
- بسبب زحف الكثبان الرملية - تناقص الامطار - قطع الأشجار - الرعي الجائر - التوسع العمراني .
- ١٩- يواجه الوطن العربي العديد من المشكلات البيئية . بسبب التغيرات المناخية .
- ٢٠- تلوث الهواء في الوطن العربي .
- بسبب حرق النفايات - العواصف الرملية - زيادة النشاط الصناعي - الاعتماد على الطاقة الغير متجددة .
- ٢١- إطلاق مصر مبادرة زراعة ١٠٠ مليون شجرة مثمرة .
- لتحسين الهواء - تقليل التلوث - تجميل البيئة - مواجهة التغير المناخي .
- ٢٢- إطلاق السعودية مبادرة ٤٥٠ مليون شجرة في الدول العربية .
- للمحد من التلوث ومواجهة التغير المناخي .
- ٢٣- قيام المصريين القدماء بإنشاء مخرات للسيول .
- لتصريف مياه الامطار لحماية المعابد والمقابر .
- ٢٤- حاجة العالم الى مجيئ النبي (ﷺ) . ليرشد الناس الى عبادة الله الواحد الاحد - ينشر العدل والمساواة
- ٢٥- التقاء النبي مع المسلمين في دار الارقم . ليعلم فيها المسلمين مبادئ الدين الاسلامي .
- ٢٦- ذهاب النبي (ﷺ) الى غار حراء . للتعبد والتأمل في قدرة الله تعالى .
- ٢٧- رفض قريش للدعوة الاسلامية . لانها خافت على مكانتها ونفوذها بين القبائل .

- ٢٨- ساد نظام الحكم القبلي في شبه الجزيرة العربية . بسبب الحروب والخلافات بين القبائل .
- ٢٩- اجتماع زعماء قريش في دار الندوة . ليتآمروا على قتل النبي (ﷺ) ليمنعوه من الهجرة .
- ٣٠- وضع النبي (ﷺ) صحيفة المدينة .
- لتحديد حقوق المسلمين وغير المسلمين وأكدت على التعايش السلمى
- ٣١- هزيمة المسلمين في غزوة أحد .
- بسبب مخالفة الرماة أوامر النبي ونزولهم من فوق الجبل لجمع الغنائم
- ٣٢- تسمية غزوة الخندق بهذا الاسم .
- لان الصحابي سلمان الفارسي اقترح على النبي (ﷺ) بحفر خندق حول المدينة .
- ٣٣- اهتم النبي (ﷺ) بتكوين جيش قوى . لتأسيس الدولة والدفاع عنها .
- ٣٤- أهمية بناء المسجد في تأسيس الدولة الاسلامية . ليكون مركزاً للعبادة ومقرراً للحكم .
- ٣٥- خاض النبي (ﷺ) العديد من الغزوات وارسل السرايا . لحماية الدولة .

السؤال السابع : ما النتائج المترتبة على ؟

- ١- الموقع الجغرافي المتميز للوطن العربي .
- مما جعله يحتل مكانة مهمة بين دول العالم – جعله مطمعاً لكثير من المحتلين عبر العصور .
- ٢- تحكم الوطن العربي في ممرات مائية مهمة .
- هذا جعله ذا أهمية كبيرة وقت الحروب والصراعات الدولية .
- ٣- انساع مساحة الوطن العربي وتنوع موارده الطبيعية .
- مما ساعد على تنوع الإنتاج وزيادة النشاط الاقتصادي في الوطن العربي .
- ٤- الموقع الفلكي للوطن العربي .
- هذا الامتداد جعل معظمه يقع في نصف الكرة الشمالي واثّر ذلك على مناخه ونباتاته الطبيعية .
- ٥- تنوع التضاريس في الوطن العربي .
- تنوع الموارد وبالتالي وتنوع الأنشطة الاقتصادية مثل الزراعة والصيد والتعدين والسياحة والصناعة .
- ٦- وجود السهول الساحلية في الوطن العربي .
- أدى الى تنوع الموارد والاستخدامات فسهول البحر المتوسط تتميز بالتربة الخصبة الصالحة للزراعة وسهول البحر الأحمر والخليج العربي تتميز بانها غنية بالثروات المعدنية ومصادر الطاقة .
- ٧- حدوث الحركات الانكسارية بالوطن العربي .
- نتج عنها تكون جبال انكسارية مثل جبال البحر الأحمر في مصر والسودان .
- ٨- حدوث الحركات الالتوائية بالوطن العربي .
- نتج عنها تكون جبال التوائية مثل جبال اطلس وزاجروس وعمان .
- ٩- وجود مياه جوفية في واحات الوطن العربي .
- لذلك يعيش فيها السكان ويمارسون الزراعة مثل واحة سيوة في مصر وواحة عين صالح في الجزائر .
- ١٠- تنوع المناخ في الوطن العربي .
- أدى الى تنوع النباتات الطبيعية والحيوانات البرية والأنشطة الاقتصادية المختلفة مما يعزز تحقيق التكامل بين دول الوطن العربي .

١١- غزارة الأمطار فوق المنحدرات الجبلية بإقليم البحر المتوسط .
أدى الى نمو الغابات المعتدلة ومن اشجارها الزيتون والأرز .

١٢- اختلاف كمية المطر في الإقليم الصحراوي .

أدى الى نمو الأعشاب القصيرة في المناطق قليلة المطر - نمو النباتات الشوكية في المناطق نادرة المطر .

١٣- استخدام طرق الري التقليدية في الزراعة . أدى الى حدوث مشكلة ندرة المياه العذبة .

١٤- حدوث التغيرات المناخية بالوطن العربي .

١- يؤثر على مستقبل التنمية والاستقرار في المنطقة .

٢- يواجه العديد من المشكلات مثل ندرة المياه العذبة - الجفاف - التصحر - تلوث الهواء - السيول .

١٥- تعرض كثير من الدول العربية لخطر الجفاف .

أدى الى نقص الغذاء - تأثير سلبي على النشاط الزراعي والرعوي - انتشار الامراض وسوء التغذية .

١٦- حدوث السيول في المناطق الزراعية .

أدى الى الخسائر الفادحة في الأرواح والممتلكات - اتلاف المحاصيل الزراعية - انتشار الامراض والابوينة

- الاضرار التي تلحقها بالبنية التحتية .

١٧- عمل النبي (ﷺ) في رعى الأغنام .

اكتسب النبي (ﷺ) العديد من الصفات منها الصبر والتواضع والرحمة والشجاعة .

١٨- رفض قريش للدعوة الإسلامية .

قامت إيذاء النبي (ﷺ) واتهامه بالسحر والجنون - التفاوض معه باغراءه بالمال والزعامة والسلطة لكنه

رفض - تعذيب وايذاء المسلمين - حصار المسلمين ومقاطعتهم .

١٩- دعوة النبي (ﷺ) وفود القبائل الى الإسلام في موسم الحج .

استجاب له وفد من اهل يثرب ودخلوا الإسلام .

٢٠- غزوة بدر ٢ هـ . انتصار المسلمين على قريش رغم قلة عددهم .

٢١- مخالفة الرماة أوامر النبي (ﷺ) في غزوة أحد ٣ هـ . أدى الى تحول نصر المسلمين الى هزيمة .

٢٢- غزوة الخندق ٥ هـ . انتصار المسلمين على قريش وحلفائها بدون قتال .

٢٣- نقض قريش صلح الحديبية . أدى قيام الرسول (ﷺ) بفتح مكة ٨ هـ .

السؤال الثامن : دلل على صحة العبارات التالية

١- تتميز شبه الجزيرة العربية بتعدد الهضاب بها .

حيث توجد بها هضبة بادية الشام في الشمال - وهضبة نجد في الوسط - وهضبة حضرموت في الجنوب .

٢- تتميز السهول الساحلية في الوطن العربي بتنوع الموارد والاستخدامات .

حيث ان سهول البحر المتوسط تتميز بالتربة الخصبة الصالحة للزراعة وسهول البحر الأحمر والخليج

العربي تتميز بانها غنية بالثروات المعدنية ومصادر الطاقة .

٣- تؤثر التعرية الهوائية على سطح الوطن العربي .

أدى الى انتشار الكثبان الرملية في المناطق الصحراوية مثل بحر الرمال العظيم بين مصر وليبيا .

٤- الأشجار الغابات المدارية بالوطن العربي أهمية اقتصادية كبرى .

حيث تنمو بها أشجار السنط الذي يستخرج منها الصمغ العربي .

٥- اختلاف النبات الطبيعي في الإقليم الصحراوي بالوطن العربي .

حيث تنمو الأعشاب القصيرة في المناطق قليلة المطر – نمو النباتات الشوكية في المناطق نادرة المطر .

٦- تعد حشائش السافانا بالوطن العربي حديقة حيوان طبيعية .

حيث يوجد بها العديد من الحيوانات منها الزراف والافعال والأسود والنمور .

٧- جهود بعض الدول العربية لزيادة المساحات الخضراء .

حيث اطلقت مصر مبادرة ١٠٠ مليون شجرة مثمرة في كل انحاء مصر – واطلقت السعودية مبادرة زراعة

٤٥٠ مليون شجرة في الدول العربية بالإضافة الى انشاء مدينة نيوم الخضراء .

٨- أثرت الحركات الانكسارية على مظاهر سطح الوطن العربي .

حيث نشأت عنها الجبال الانكسارية مثل جبال البحر الأحمر في مصر والسودان .

٩- تحدثت المشكلات البيئية لأسباب طبيعية وأخرى بشرية .

حيث يحدث التصحر لاسباب طبيعية مثل زحف الرمال وتناقص الامطار وأسباب بشرية مثل قطع الأشجار

والرعى الجائر للحيوانات والتوسع العمراني .

١٠- يمكن استخدام التكنولوجيا الحديثة في مواجهة السيول .

من خلال التنبؤ بالاطار الطبيعية مثل السيول .

١١- اثر ديار بنى سعد في حياة النبي (ﷺ) .

حيث اكتسب بعض الصفات منها فصاحة اللسان وقوة البنيان ورجاحة العقل .

١٢- شهرة العرب بالشعر والخطابة .

حيث أصبحت الأسواق مكاناً للتنافس بين الشعراء والخطباء مثل سوق عكاظ وذى المجاز .

١٣- اتصف العرب قبل الإسلام بعدة عادات حسنة .

من اهم هذه الصفات الصبر والشجاعة والكرم والوفاء بالعهد .

١٤- حرص النبي (ﷺ) على التعايش السلمى في المدينة .

حيث وضع النبي (ﷺ) صحيفة المدينة التي تحدد الحقوق بين المسلمين وغير المسلمين .

السؤال العاشر : ماذا يحدث اذا

١- لم يكن للوطن العربي موقع جغرافي متميز .

لم يجعله يحتل مكانة مهمة بين دول العالم – لم يجعله مطمعا لكثير من المحتلين عبر العصور .

٢- لم تتنوع مظاهر السطح فى الوطن العربي .

لم تتنوع الموارد وبالتالي وتنوع الأنشطة الاقتصادية مثل الزراعة والصيد والتعدين والسياحة والصناعة .

٣- لم يؤثر المناخ على نوعية النباتات .

لم يتنوع النباتات الطبيعية والحيوانات البرية والأنشطة الاقتصادية .

٤- لم توجد سهول فيضية فى الوطن العربي .

لم توجد تربة خصبة صالحة للزراعة ولم يتركز السكان فيها .

٥- لم يتعرض الوطن العربي لحركات التوائية . لم يتكون جبال التوائية فى الوطن العربي .

٦- سقطت أمطار قليلة على منحدرات جبال أطلس .

نجد السفوح المواجهة للرياح المحملة ببخار الماء اقل مطراً .

٧- اختفت الأنهار من الوطن العربى .

اختفت الزراعة في الوطن العربى - عدم تركيز السكان في المناطق الزراعية .

السؤال الحادى عشر : ما العلاقة بين ... ؟

١- الموقع الفلكى والمناخ فى الوطن العربى .

اثر الموقع الفلكى على هذا الامتداد جعل معظمه يقع في نصف الكرة الشمالى واثر ذلك على مناخه ونباتاته الطبيعية .

٢- المناخ والنبات الطبيعى . تنوع المناخ يؤدي الى تنوع النبات الطبيعى في الوطن العربى .

٣- الهضاب والجبال فى تشكيل سطح الوطن العربى .

أدت العوامل الباطنية مثل الالتواءات والانكسارات الى تكوين سطح الوطن العربى .

٤- الكتل الجبلية والمطر .

يؤثر اتجاه الكتل الجبلية فى توزيع كمية المطر لذلك نجد سفوح الجبال المواجهة للرياح المحملة ببخار الماء تكون اغزر مطراً من السفوح الداخلية .

٥- المياه الجوفية والواحات .

تقوم الزراعة فى الواحات اعتماداً على المياه الجوفية مثل واحة سيوة وواحة عين صالح .

٦- المسطحات المائية ومناخ الوطن العربى .

من العوامل المؤثرة فى مناخ الوطن العربى الموقع بالنسبة للمسطحات المائية .

٧- المطر والنبات الصحراوى . يختلف النبات الصحراوى حسب كمية المطر .

٨- الأنهار والسهول الفيضية . تكونت السهول الفيضية بفعل ارساب الأنهار للمواد العالقة .

٩- التضاريس والأنشطة الاقتصادية فى الوطن العربى .

تنوع التضاريس يؤدي الى تنوع الموارد وبالتالي وتنوع الأنشطة الاقتصادية مثل الزراعة والصيد .

١٠- نهر النيل والسهول الفيضية .

يعد نهر النيل من السهول الفيضية التى توجد بالجناح الافريقي بالوطن العربى .

١١- مبادرات زراعة الأشجار ومواجهة التغير المناخى .

من جهود بعض الدول العربية لزيادة المساحات الخضراء ومواجهة التغير المناخى قيام مصر بمبادرة زراعة ١٠٠ مليون شجرة مثمرة وقيام السعودية بمبادرة زراعة ٤٥٠ مليون شجرة .

١٢- الأسواق والشعر عند العرب .

أصبحت الأسواق مكاناً للتنافس بين الشعراء والخطباء مثل سوق عكاظ وذى المجاز .

١٣- الدعوة السرية ودار الارقم بن ابي الارقم .

فى مرحلة الدعوة السرية اتخذ النبى (ﷺ) دار الارقم بن ابي الارقم ليعلم فيها المسلمين مبادئ الإسلام

١٤- صلح الحديبية وفتح مكة .

بسبب نقض قريش لصلح الحديبية قام النبى (ﷺ) بفتح مكة عام ٨ هـ .

١٥- الغنائم وغزوة أحد .

تحول نصر المسلمين الى هزيمة فى غزوة احد بسبب مخالفة الرماه أوامر الرسول لنزولهم لجمع الغنائم .

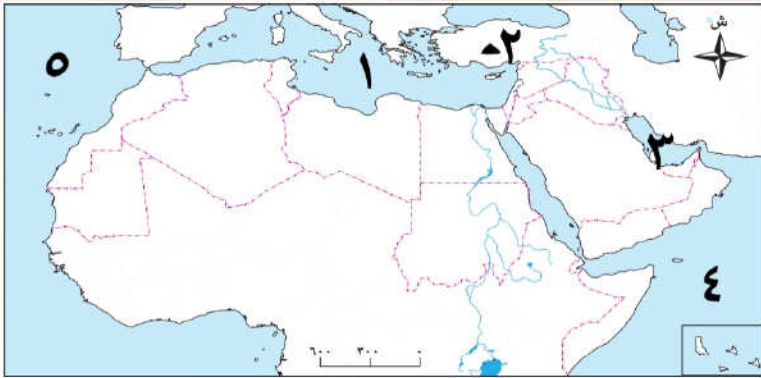
السؤال الثانى عشر : ما المقصود بكل من

- ١- التعرية المائية : نحت الصخور ونقلها وإرسابها بواسطة المياه .
- ٢- الإقليم المناخى : هو مساحة من الأرض لها نفس الخصائص المناخية من حيث الحرارة والمطر .
- ٣- التصحّر : تناقص قدرة الأراضي الزراعية على الإنتاج .
- ٤- السيول : أمطار غزيرة وفجائية تتجمع وتندفق بسرعة في الأودية .
- ٥- الوطن العربى : مجموعة من الدول العربية التي تشترك في مجموعة من الخصائص .
- ٦- التعرية الهوائية : نحت الصخور ونقلها وإرسابها بواسطة المياه .
- ٧- الأودية الجافة : مجارى كانت تملؤها المياه قديماً ثم جفت .
- ٨- الجفاف : نقص كمية الأمطار خلال فترة زمنية محددة .
- ٩- القبيلة جماعة من الناس ينتمون إلى أصل ونسب واحد ولهم عادات وتقاليد .
- ١٠- النظام القبلى نظام يتكون من قبائل متفرقة، ولكل قبيلة شيخ يحكمها .
- ١١- الوحي تعاليم صادرة من الله (عز وجل) إلى الأنبياء بواسطة جبريل (عليه السلام) .
- ١٢- المهاجرون المسلمون الذين تركوا ديارهم وأموالهم في مكة وهاجروا إلى المدينة .
- ١٣- الانصار هم المسلمون من اهل يثرب الذين نصرّوا النبي في دعوته .
- ١٤- الغزوة خروج الجيش للقتال بقيادة النبي (ﷺ) .
- ١٥- السرية خروج الجيش للقتال دون النبي (ﷺ) .

السؤال الثالث عشر : إلى أى الأقاليم المناخية تنتمى النباتات الطبيعية والحيوانات الاتية ؟

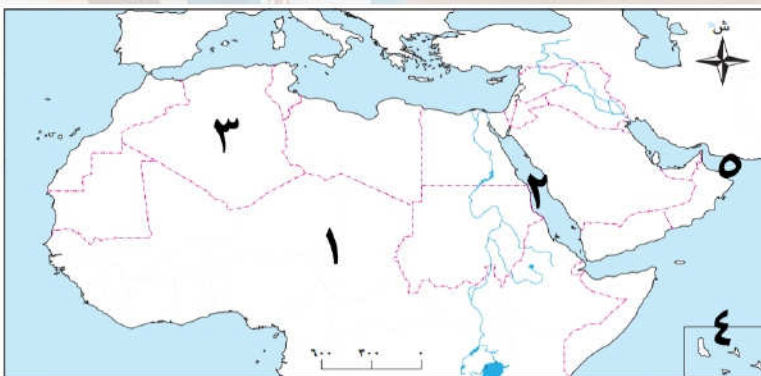
- ١- الأفيال المدارى .
- ٢- الزيتون البحر المتوسط .
- ٣- السنط المدارى .
- ٤- الإبل الصحراوى الحار .
- ٥- الزراف المدارى .
- ٦- السافانا المدارى .
- ٧- الأغنام البحر المتوسط .
- ٨- الغزلان الصحراوى الحار .
- ٩- الإستبس البحر المتوسط .

السؤال الرابع عشر : أمامك خريطة صماء لمصر اكتب مدلول الأرقام عليها



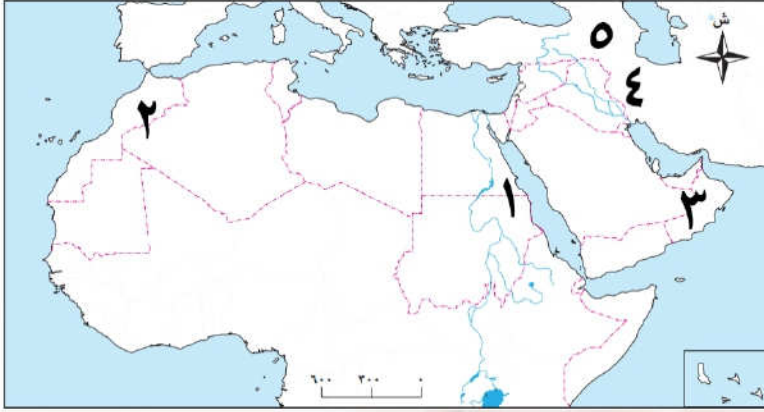
(خريطة رقم ١)

- ١- البحر المتوسط .
- ٢- جبال طوروس .
- ٣- الخليج العربى .
- ٤- المحيط الهندى .
- ٥- المحيط الاطلنطى .



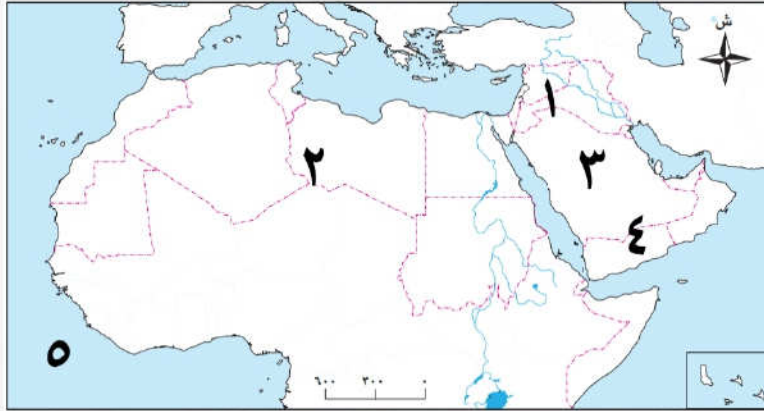
(خريطة رقم ٢)

- ١- الصحراء الكبرى .
- ٢- البحر الأحمر .
- ٣- أكبر دول الوطن العربى الجزائر .
- ٤- أصغر دول الوطن العربى جزر القمر .
- ٥- خليج عمان .



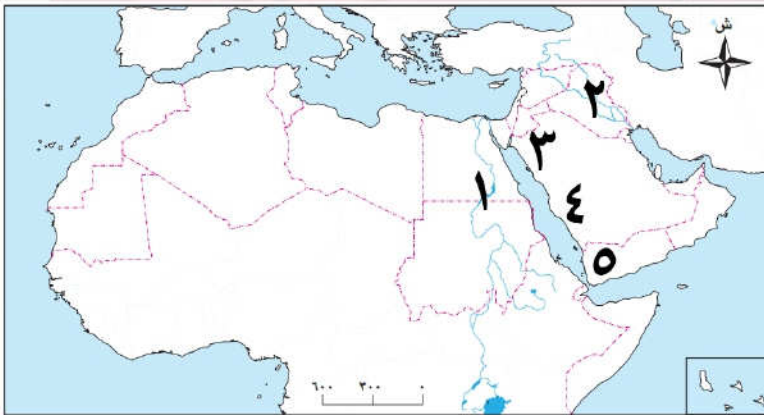
(خريطة رقم ٣)

- ١- جبال البحر الأحمر .
- ٢- جبال أطلس .
- ٣- جبال عمان .
- ٤- جبال زاغروس .
- ٥- جبال كردستان .



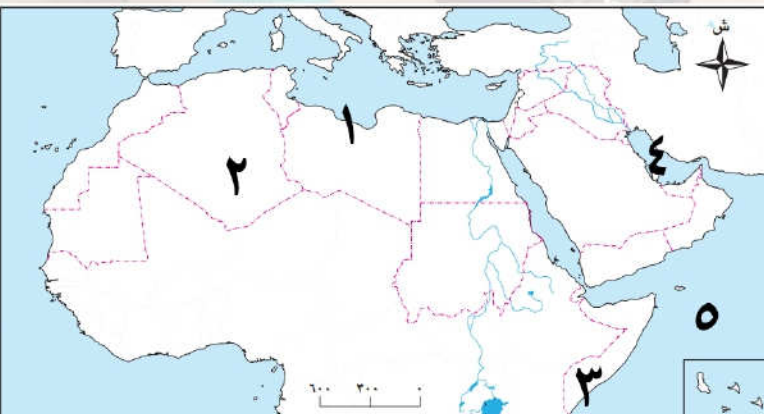
(خريطة رقم ٤)

- ١- هضبة بادية الشام .
- ٢- هضبة افريقيا الشمالية .
- ٣- هضبة نجد .
- ٤- هضبة حضر موت .
- ٥- المحيط الاطلنطي .



(خريطة رقم ٥)

- ١- نهر النيل .
- ٢- نهرا دجلة والفرات .
- ٣- جبال الحجاز .
- ٤- جبال عسير .
- ٥- جبال اليمن .



(خريطة رقم ٦)

- ١- إقليم مناخى البحر المتوسط .
- ٢- إقليم مناخى الصحراوى .
- ٣- إقليم مناخى المدارى .
- ٤- الخليج العربى .
- ٥- المحيط الهندى .

تطبيق



مذكرات جاهزة للطباعة

لتحميل الملفات التعليمية مجاناً للمعلم والطالب

مذكرات وملازم / مراجعات وملخصات / امتحانات / كتب الوزارة /
أدلة المعلم / دفاتر التحضير / سجلات مدرسية / أوراق تأسيس

امسح الكود بموبايلك علشان تقدر تثبت التطبيق

وتقدر ف أي وقت تحمّل ال نفسك فيه ببلاش

هيغنيك عن البحث والجروبات والقنوات الكثيرة



تطبيق الموبايل لتحميل الملفات