

سلاح التلميز

منذ عام ١٩٦٠

2025 - 2026



الدراسات
الاجتماعية

نماذج اختبارات

شهر أكتوبر

طبقاً لآخر مواصفة للورقة الامتحانية

6

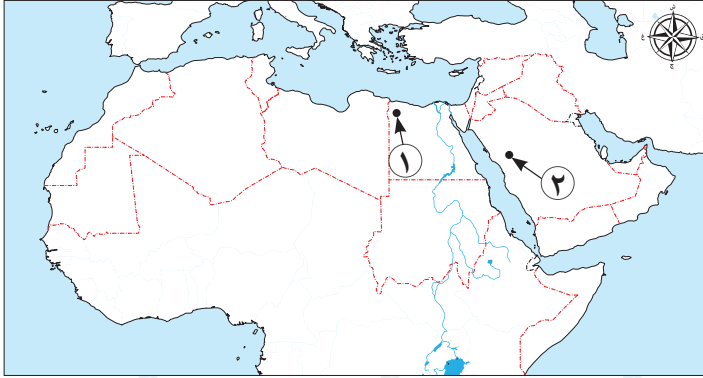
الفصل الدراسي الأول



الاختبار الأول

١٠

١ أ أمامك خريطة صماء للوطن العربي، لاحظها ثم أجب:



١ يشير رقم (١) إلى واحة

٢ اختر: تنتمي المدينة رقم (٢) إلى

الإقليم المناخي
(شبه الاستوائي - الصحراوي -
البحر المتوسط - المداري)

ب ما المقصود ب:

- الوطن العربي؟

٢ أ اكتب كلمة (صواب) أمام العبارة الصحيحة، وكلمة (خطأ) أمام العبارة غير الصحيحة:

١ تنتمي دولة جزر القمر إلى الجناح العربي الآسيوي. ()

٢ تقع هضبة نجد في جنوب شبه الجزيرة العربية. ()

ب ما العلاقة بين:

- الجفاف ودولة الصومال؟

٣ أ اختر الإجابة الصحيحة مما بين القوسين:

١ أصغر الدول العربية من حيث المساحة

(البحرين - قطر - الكويت - جيبوتي)

٢ تُستخدم الطاقة المتجددة لمواجهة مشكلة

(التصحر - تلوث الهواء - السيول - ندرة المياه)

ب بم تفسر...؟

١ اعتدال المناخ في مدينة الإسكندرية عكس مدينة الرياض.

٢ أهمية الأودية الجافة.



الاختبار الثاني

١٠

١ أ أمامك خريطة صماء للوطن العربي، لاحظها ثم أجب:



١ يشير رقم (١) إلى مرتفعات

٢ اختر: يشير رقم (٢) إلى

جبل سانت كاترين - جبال أطلس -

جبال كردستان - هضبة بادية الشام

ب ما العلاقة بين:

- سفوح الجبال والأمطار؟

٢ أ اكتب كلمة (صواب) أمام العبارة الصحيحة، وكلمة (خطأ) أمام العبارة غير الصحيحة:

١ تمتد أراضي الوطن العربي في قارتي آسيا وأوروبا. ()

٢ تطوير البنية التحتية إحدى طرق مواجهة السيول. ()

ب بم تفسر:

- أهمية السهول الفيضية؟

٣ أ اختر الإجابة الصحيحة مما بين القوسين:

١ نستفيد من أشجار السنط في استخراج

(الصمغ - التمر - الزيوت - الأعشاب)

٢ يمر خط جرينتش بالوطن العربي في دولة

(سوريا - الجزائر - لبنان - مصر)

ب ما المقصود بكل من...؟

١ التصحر:

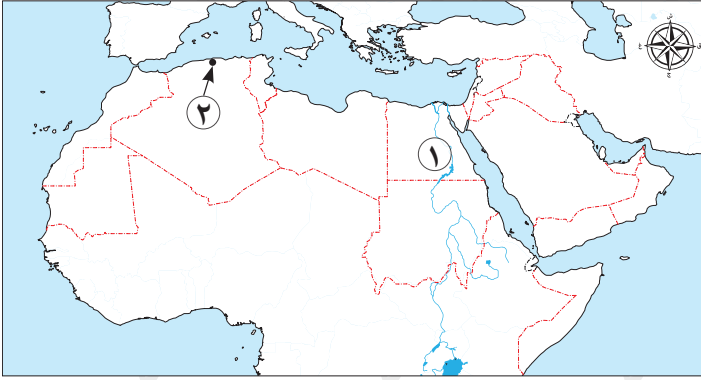
٢ الأودية الجافة:



الاختبار الثالث

١٠

١ أ أمامك خريطة صماء للوطن العربي، لاحظها ثم أجب:



١ يشير رقم (١) إلى السهول الفيضية

حول نهر

٢ صوب ما تحته خط: تقع المدينة

رقم (٢) في الإقليم المناخي

شبه الاستوائي. (.....)

ب بم تفسر:

– إنشاء المصريين القدماء لمخزات السيول؟

٢ أ اكتب كلمة (صواب) أمام العبارة الصحيحة، وكلمة (خطأ) أمام العبارة غير الصحيحة:

١ يتأثر المناخ بالقرب والبعد عن المسطحات المائية. ()

٢ يمتد بحر الرمال العظيم بين مصر والسودان. ()

ب ما العلاقة بين:

– الوطن العربي والأديان السماوية؟

٣ أ اختر الإجابة الصحيحة مما بين القوسين:

١ أي مما يلي من الأودية الجافة بالمملكة العربية السعودية؟

(النيل – الدواسر – العلاقي – العريش)

٢ يؤدي حرق النفايات إلى

(ترشيد المياه – زيادة الجفاف – تلوث الماء – تلوث الهواء)

ب أجب عما يلي:

١ ما النتائج المترتبة على: مشكلة السيول بالوطن العربي؟

٢ دلل على صحة العبارة: «التنوع المناخي له تأثير إيجابي على اقتصاد الوطن العربي».

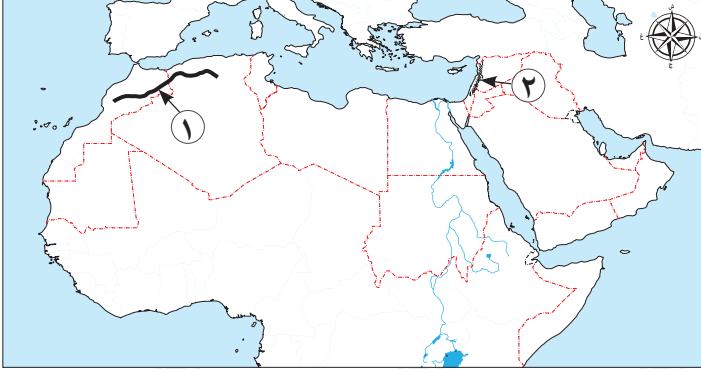




الاختبار الرابع

١٠

١ أ أمامك خريطة صماء للوطن العربي، لاحظها ثم أجب:



- ١ يشير رقم (١) إلى جبال
- ٢ صواب أم خطأ: يشير رقم (٢) لجبال تغطيها الثلوج في الشتاء. ()

ب ما المقصود بـ :

– السيول؟

٢ أ اكتب كلمة (صواب) أمام العبارة الصحيحة، وكلمة (خطأ) أمام العبارة غير الصحيحة:

- ١ تُعد مظاهر السطح أحد العوامل المؤثرة في مناخ الوطن العربي. ()
- ٢ يساهم القطع العشوائي للأشجار في حل مشكلة التصحر. ()
- ب بم تفسر...؟

١ الأهمية الإستراتيجية لموقع الوطن العربي.

٢ تتدرج حشائش السافانا في الطول.

٣ أ اختر الإجابة الصحيحة مما بين القوسين:

- ١ أيُّ من الحيوانات التالية يعيش في إقليم المناخ الصحراوي؟
- (الزراف - الإبل - الأفيال - النمور)
- ٢ أكبر دول الوطن العربي مساحة هي
- (السودان - مصر - الجزائر - السعودية)

ب اذكر وجه الاختلاف بين:

سهول نهر النيل

سهول البحر الأحمر



١ اختر الإجابة الصحيحة مما بين القوسين فيما يلي :

- ١ تطل دولة المغرب على الجزء الجنوبي من مضيق.....
(باب المنذب - هرمز - بيرنج - جبل طارق)
- ٢ أي مما يلي يُعد من الجبال الالتوائية بالوطن العربي؟.....
(أطلس - مرتفعات اليمن - عسير - البحر الأحمر)
- ٣ تنمو في إقليم مناخ البحر المتوسط.....
(حشائش السافانا - أشجار السنط - غابات التندرا - حشائش الإستبس)
- ٤ ترجع مشكلة التصحر في الوطن العربي لعدة أسباب منها.....
(زراعة الأشجار - ترشيد استهلاك المياه - الرعي الجائر - استخدام الطاقة الشمسية)

٢ ما المقصود بـ:

- الإقليم المناخي؟

٣ بم تفسر:

- قيام الزراعة في الواحات؟

٤ دلل على صحة العبارة:

- نشأت في الوطن العربي عديد من الحضارات القديمة.

٥ ما العلاقة بين:

- طرق الري التقليدية والمياه العذبة في الوطن العربي؟



سلاح التلميز

منذ عام ١٩٦٠

2025 - 2026



الدراسات
الاجتماعية

نماذج إجابات
اختبارات شهر أكتوبر

6

الفصل الدراسي الأول

إجابة الاختبار الأول

- ١ أ ١ سيوة. ٢ الصحراوي.
- ب هو مجموعة الدول العربية التي تجمعها لغة وعادات وتقاليد واحدة وتاريخ مشترك.
- ٢ أ ١ خطأ. ٢ خطأ.
- ب عانت دولة الصومال من أكبر موجة جفاف ونقص في الغذاء وحدث مجاعة لأكثر من مليون إنسان.
- ٣ أ ١ البحرين. ٢ تلوث الهواء.
- ب ١ لأن مدينة الإسكندرية قريبة من المسطحات المائية فتتميز باعتدال المناخ، بينما مدينة الرياض بعيدة عن المسطحات المائية فتكون شديدة الحرارة صيفاً، وشديدة البرودة شتاءً.
- ٢ تستخدم كطرق للمواصلات والنقل - استخراج المياه الجوفية.

إجابة الاختبار الثاني

- ١ أ ١ اليمن. ٢ هضبة بادية الشام.
- ب تسقط أمطار غزيرة على سفوح الجبال المواجهة للرياح المحملة ببخار الماء، بينما تقل كمية الأمطار على سفوح الجبال الداخلية.
- ٢ أ ١ خطأ. ٢ صواب.
- ب حيث إن تربتها خصبة ويتركز فيها السكان.
- ٣ أ ١ الصمغ. ٢ الجزائر.
- ب ١ تناقص قدرة الأرض الزراعية على الإنتاج.
- ٢ مجار كانت تملؤها المياه قديماً ثم جفت.

إجابة الاختبار الثالث

- ١ أ ١ النيل. ٢ البحر المتوسط.
- ب لتصريف مياه الأمطار لحماية المعابد والمقابر.
- ٢ أ ١ صواب. ٢ خطأ.
- ب يُعد الوطن العربي مهد الديانات السماوية الثلاث (الإسلام - المسيحية - اليهودية)، التي تمثلها الأماكن المقدسة التي يقصدها الزائرون من جميع أنحاء العالم.
- ٣ أ ١ الدواسر. ٢ تلوث الهواء.
- ب ١ إتلاف المحاصيل الزراعية - خسائر كبيرة في الأرواح والممتلكات - انتشار الأمراض والأوبئة.
- ٢ حيث تنشط السياحة البيئية في الوطن العربي، كذلك يؤدي إلى تنوع المحاصيل الزراعية من مكان لآخر، مما يساعد الوطن العربي في تحقيق التكامل بين دوله من خلال تبادل المحاصيل والمنتجات.

إجابة الاختبار الرابع

١ أ ١ أطلس.

٢ صواب.

ب أمطار غزيرة مفاجئة تتجمع وتتدفق بسرعة في الأودية.

٢ أ ١ صواب.

٢ خطأ.

ب ١ بسبب تحكمه في ممرات مائية منها قناة السويس، ومضيق جبل طارق، ومضيق هرمز، ومضيق باب المندب.

٢ حسب كمية المطر، فكلما زادت الأمطار زاد طول الحشائش.

٣ أ ١ الإبل.

٢ الجزائر.

ب

سهول نهر النيل	سهول البحر الأحمر
- سهول فيضية. - ذات تربة خصبة.	- سهول ساحلية. - غنية بالثروات المعدنية ومصادر الطاقة.

إجابة الاختبار الخامس

١ أ ١ جبل طارق.

٢ أطلس.

٣ حشائش الإستبس.

٤ الرعي الجائر.

٢ مساحة من الأرض لها نفس الخصائص المناخية من حيث الحرارة والمطر.

٣ لوجود المياه الجوفية.

٤ نشأت على أرض الوطن العربي الحضارة المصرية القديمة وحضارة العراق وحضارة اليمن.

٥ استخدام طرق الري التقليدية أحد أسباب مشكلة ندرة المياه العذبة في الوطن العربي.

تطبيق



مذكرات جاهزة للطباعة

لتحميل الملفات التعليمية مجاناً للمعلم والطالب

مذكرات وملازم / مراجعات وملخصات / امتحانات / كتب الوزارة /
أدلة المعلم / دفاتر التحضير / سجلات مدرسية / أوراق تأسيس

امسح الكود بموبايلك علشان تقدر تثبت التطبيق

وتقدر ف أي وقت تحمّل ال نفسك فيه ببلاش

هيغنيك عن البحث والجروبات والقنوات الكثيرة

