

مراجعات  
شهر  
أكتوبر

الفصل الدراسي الأول



2026  
اختبار  
الأول في  
مصر



ذاكر معنا

HOTLINE

012 8888 0390

[www.altaasisalsaleem.com](http://www.altaasisalsaleem.com)

الصف السادس الابتدائي

6

الدراسات الاجتماعية



ذاكر معنا

## النموذج الأول

**السؤال الأول: أمامك خريطة صَمَاءَ للوطن العربي، ادرسها ثم أجب:**



(١) يمثل الرقم (.....) الحد الفاصل بين

الجناحين الآسيوي والإفريقي.

(٢) يشير رقم (١) إلى دولة .....

(٣) يشير رقم (٢) إلى جبال .....

(٤) يشير الرقم (٣) إلى وادي .....

(٥) يشير رقم (٤) إلى مضيق .....

**السؤال الثاني: (أ) أكمل العبارات الآتية بما يناسبها من كلمات:**

(١) وجود البترول والمعادن بالوطن العربي أعطى له أهمية .....

(٢) تُعدُّ هضبة ..... من هضاب الجناح الآسيوي.

(٣) تعيش الزراف والأسود والنمور في منطقة حشائش .....

**(ب) ما النتائج المترتبة على:** تعرُّض الصومال لأكبر موجة جفاف في الوطن العربي؟

ج أدى إلى حدوث مجاعة تسببت في وفاة أكثر من مليون شخص.

**(ج) دَلِّ على صحة العبارة:** يؤثّر اتجاه الكتل الجبلية في توزيع كمية المطر.

⊖

⊖

**السؤال الثالث: (أ) اكتب كلمة (صواب) أو (خطأ) أمام العبارات الآتية:**

(١) تكوّنت تضاريس الوطن العربي في العصر الحديث. (خطأ)

(٢) توجد دولة جزر القمر في نفس الامتداد الفلكي لباقي الدول العربية. (خطأ)

(٣) ترتفع درجات الحرارة كلما اقتربنا من دائرة الاستواء. (صواب)

**(ب) ما المقصود بـ: (الجفاف)؟**

⊖

**(ج) بم تفسر:** تُغطي الثلوج بعض القمم الجبلية المرتفعة في الوطن العربي؟

⊖

⊖

## النموذج الثاني

السؤال الأول: أمامك خريطة صماء للوطن العربي، ادرسها ثم أجب:



(١) اختر: تنتمي المدينة رقم (١) إلى إقليم مُناخ (شبه الاستوائي - السوداني - الصحراوي).

(٢) يشير رقم (٢) إلى مضيق .....

(٣) يشير رقم (٣) إلى .....

(٤) يمثل رقم (٥) دولة عانت من الجفاف .....

السؤال الثاني: (أ) اختر الإجابة الصحيحة مما بين القوسين:

(١) تشترك دولة المغرب والجزائر أنّ كليهما يُطل على .....

(البحر الأحمر - البحر المتوسط - المحيط الهندي - المحيط الأطلنطي)

(٢) تسقط الأمطار الصيفية على مناطق .....

(إقليم البحر المتوسط - الإقليم المداري - الإقليم الصحراوي - إقليم التندرا)

(٣) تُعدُّ السهول ..... الأكثر انتشارًا في الوطن العربي.

(الصحراوية - الساحلية - الفيضية - الجليدية)

(ب) ما النتائج المترتبة على: الموقع الجغرافي للوطن العربي؟

.....

.....

(ج) ما العلاقة بين: التعرية الهوائية و بحر الرمال العظيم؟

.....

السؤال الثالث: (أ) أكمل العبارات الآتية بما يناسبها من كلمات:

(١) يربط مضيق ..... الخليج العربي وخليج عُمان.

(٢) تنمو أشجار الزيتون والأرز في غابات إقليم .....

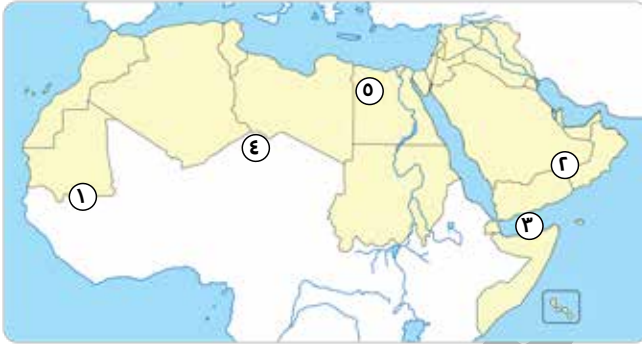
(٣) تحدث مشكلة التصحر لأسباب طبيعية منها .....

(ب) قارن بين الخصائص المناخية «لإقليم البحر المتوسط - الإقليم المداري»:

وجه المقارنة	إقليم البحر المتوسط	الإقليم المداري
الخصائص	.....	.....
	.....	.....
المناخية	.....	.....
	.....	.....

### النموذج الثالث

السؤال الأول: أمامك خريطة صماء للوطن العربي، ادرسها ثم أجب:



- (١) يشير رقم (١) إلى الإقليم .....
- (٢) يشير رقم (٢) إلى هضبة .....
- (٣) يشير الرقم (٣) إلى خليج .....
- (٤) يشير رقم (٤) إلى .....
- (٥) يشير رقم (٥) إلى واحة .....

السؤال الثاني: (أ) اكتب كلمة (صواب) أو (خطأ) أمام العبارات الآتية:

- (١) تجمع الوطن العربي لغة وعادات وتقاليده واحدة. (.....)
- (٢) تُعدُّ الجبال أكثر مظاهر السطح انتشاراً في الوطن العربي. (.....)
- (٣) تنتشر حشائش (الإستبس) في الإقليم الصحراوي. (.....)
- (٤) يساهم التوسع العمراني في حل مشكلة التصحر. (.....)

(ب) ما المقصود بكل من...؟

(١) التغير المناخي: .....

(٢) الوطن العربي: .....

**السؤال الثالث: (أ) حدّد المختلف في العناصر الآتية مع ذكر السبب:**

(سوريا - السعودية - لبنان - الجزائر)

.....

.....

(أشجار التين - أشجار الأرز - حشائش الإستبس - حشائش السافانا)

.....

.....

**(ب) بم تفسر:** لوطننا العربي أهمية دينية كبرى؟

.....

.....

.....

**(ج) دّل على صحة العبارة:** تُعدّ هضبة إفريقيا الشمالية أكبر هضاب الوطن العربي مساحة.

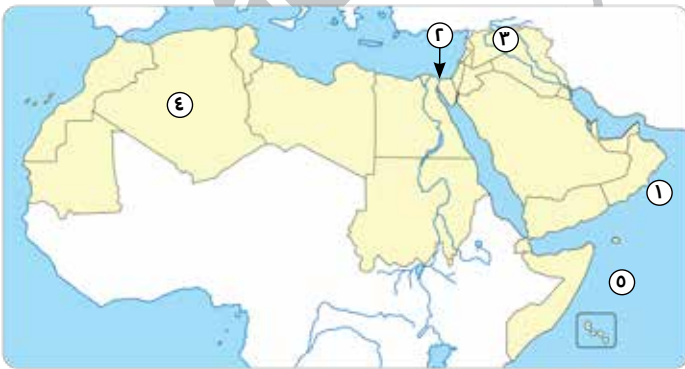
.....

.....

.....

**النموذج الرابع**

**السؤال الأول: (أ) أمامك خريطة صماء للوطن العربي، ادرسها ثم أجب:**



- (١) بحر .....
- (٢) ممر ملاحي هام .....
- (٣) نهري .....
- (٤) أكبر دول الوطن العربي مساحة .....
- (٥) المحيط .....

**(ب) بم تفسر:** أهمية سهول البحر الأحمر والخليج العربي؟

.....

### السؤال الثاني: (أ) اختر الاجابة الصحيحة مما بين القوسين:

- (١) يمكن مواجهة تلوث الهواء من خلال الاعتماد على .....
- (الأسمدة الكيمايية - الطاقة المتجددة - الوقود الحفري - الري بالرش)
- (٢) تقع هضبة نجد في .....
- (وسط شبه الجزيرة العربية - شمال شبه الجزيرة العربية - شمال إفريقيا - غرب إفريقيا)
- (٣) أحد أسباب التصحر في الوطن العربي .....
- (زراعة الأشجار - ترشيد استهلاك المياه - الرعي الجائر - استخدام الطاقة الشمسية)
- (ب) ما وجه الشبه بين: جهود مصر والسعودية في الحفاظ على البيئة؟

.....

.....

.....

- (ج) ما النتائج المترتبة على: إشراف الوطن العربي على مسطحات مائية هامة؟

.....

### السؤال الثالث: (أ) اكتب كلمة (صواب) أو (خطأ) أمام العبارات الآتية:

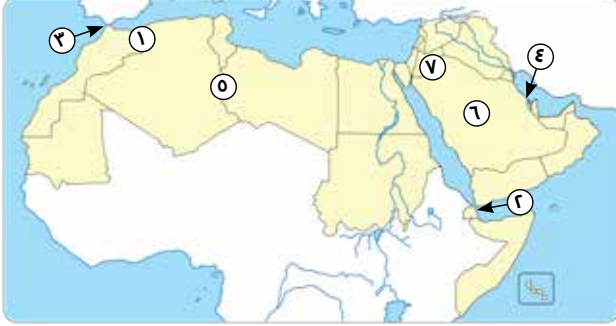
- (١) توجد أعلى قمة جبلية بالوطن العربي شمال غرب شبه الجزيرة العربية. (.....)
- (٢) حرص المصريون القدماء على عدم الإضرار بالبيئة الطبيعية. (.....)
- (٣) تؤثر مشكلة الجفاف إيجابياً على النشاط الزراعي والرعي. (.....)
- (٤) تعيش الإبل والزواحف بالإقليم المداري. (.....)

- (ب) قارن بين أسباب حدوث مشكلة كل من «التصحر - تلوث الهواء» في الوطن العربي:

وجه المقارنة	التصحر	تلوث الهواء
أسباب حدوث المشكلة	.....	.....
	.....	.....
	.....	.....
	.....	.....
	.....	.....
	.....	.....

## النموذج الخامس

السؤال الأول: (أ) أمامك خريطة صماء للوطن العربي، ادرسها ثم أجب:



(١) تعمل الدولة رقم (.....) على إنشاء مدينة نيوم الخضراء.

(٢) يشير الرقم (.....) إلى أصغر دول الوطن العربي.

(٣) يمثل الرقم (.....) إقليم البحر المتوسط.

(٤) يمثل الرقم (.....) مضيق باب المندب.

(٥) يمثل الرقم (.....) هضبة بادية الشام.

(ب) **بم تفسر:** نمو الغابات المعتدلة على منحدرات الجبال بالوطن العربي؟

السؤال الثاني: (أ) أكمل العبارات الآتية بما يناسبها من كلمات:

(١) يَحَدُّ الوطن العربي جبال ..... و ..... شرقاً.

(٢) تمتدُّ جبال أطلس في ثلاث دول هي ..... ، ..... ، .....

(٣) يقع الإقليم ..... في جنوب الوطن العربي.

(ب) **دَلِّل على صحة العبارة:** يُؤثِّر المُنَاخ على تنوع الأنشطة الاقتصادية بالوطن العربي.(ج) **ما النتائج المترتبة على:** مشكلة الجفاف في الوطن العربي؟

## السؤال الثالث: (أ) اكتب ما تشير إليه العبارات الآتية:

- (١) النبات الذي ينمو دون تدخل من الإنسان. (.....)
- (٢) وصف حالة الجو خلال فترة زمنية طويلة. (.....)
- (٣) نحت الصخور ونقلها وإرسابها بواسطة المياه. (.....)
- (٤) موقع المكان بالنسبة لليابس والماء. (.....)

## (ب) ما العلاقة بين...؟

طرق الري القديمة والمياه العذبة.

## (ج) ماذا يحدث إذا لم...؟

يتعرض الوطن العربي للحركات الالتوائية.

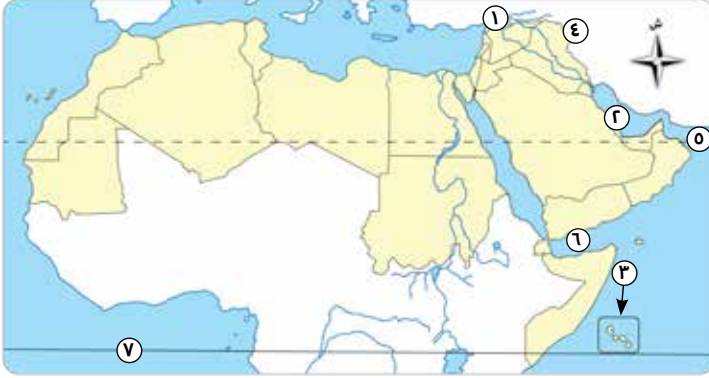




ذاكر معنا

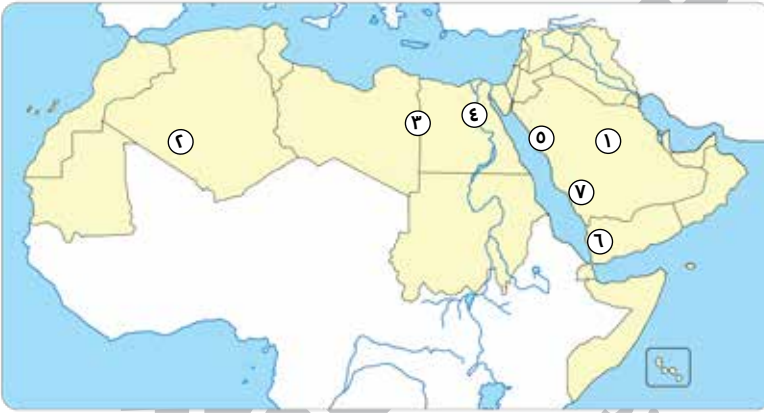
بنك الأسئلة

١ (أ) أمامك خريطة صماء للوطن العربي، ادرسها ثم أجب:



- (١) يشير رقم (١) إلى جبال .....
- (٢) يشير رقم (٢) إلى الخليج .....
- (٣) يشير رقم (٣) إلى دولة .....
- (٤) يشير رقم (٤) إلى جبال .....
- (٥) يشير رقم (٥) إلى خليج .....
- (٦) يشير رقم (٦) إلى خليج .....
- (٧) يشير رقم (٧) إلى دائرة .....

(ب) أمامك خريطة صماء للوطن العربي، ادرسها ثم أجب:



- (١) يشير رقم (١) إلى هضبة .....
- (٢) يشير رقم (٢) إلى واحة .....
- (٣) يشير رقم (٣) إلى كثبان رملية،  
هي .....
- (٤) يشير رقم (٤) إلى نهر .....
- (٥) يشير رقم (٥) إلى جبال .....
- (٦) يشير رقم (٦) إلى مرتفعات .....
- (٧) يشير رقم (٧) إلى جبال .....

٢ أكمل العبارات الآتية بما يناسبها من كلمات:

- (١) تمتد أراضي الوطن العربي في قارتين هما ..... و .....
- (٢) نشأت على أرض الوطن العربي العديد من الحضارات منها حضارة ..... في الجناح الآسيوي.
- (٣) يتم استخراج الصمغ العربي من أشجار .....

- (٤) تنتشر ببعض دول الوطن العربي الأمراض وسوء التغذية بسبب مشكلة .....
- (٥) الإقليم المناخي السائد في الوطن العربي هو .....
- (٦) يمرُّ في جنوب الوطن العربي دائرة .....
- (٧) تنتشر الظواهر التضاريسية فوق .....

### ٣ اكتب كلمة (صواب) أمام العبارة الصحيحة وكلمة (خطأ) أمام العبارة غير الصحيحة:

- (١) تساهم جبال الوطن العربي في ازدهار نشاط السياحة. (.....)
- (٢) تسقط الأمطار شتاءً في مناطق الإقليم المداري. (.....)
- (٣) تنتمي مدينة الخرطوم في السودان إلى إقليم البحر المتوسط. (.....)
- (٤) تؤثر التغيرات المناخية سلبيًا على مستقبل التنمية في الوطن العربي. (.....)
- (٥) تُعدُّ العواصف الرملية من أسباب مشكلة تلوث الهواء. (.....)
- (٦) أكبر هضاب الوطن العربي تقع في الجناح الإفريقي. (.....)
- (٧) يؤدي التنوع المناخي إلى تنوع النبات الطبيعي. (.....)

### ٤ اختر الإجابة الصحيحة مما بين القوسين:

- (١) يقع الوطن العربي بأكمله شرق المحيط .....  
(الهادي - الهندي - الأطلنطي - القطبي)
- (٢) أعلى قمة في جبال أطلس هي جبل .....  
(أطلس التل - سانت كاترين - توبقال - شايب النبات)
- (٣) أيُّ ممَّا يلي يُعدُّ من العوامل الباطنية التي شكَّلت سطح الوطن العربي؟ .....  
(التعرية المائية - الثورات البركانية - التعرية الهوائية - الرواسب الفيضية)
- (٤) تقع واحة ..... في دولة الجزائر.  
(سيوة - الكفرة - عين صالح - الداخلة)
- (٥) يتشابه مناخ شمال دولتي سوريا ومصر في أن كليهما يتصف بـ .....  
(سقوط الأمطار شتاءً - سقوط الأمطار صيفًا - ارتفاع الحرارة شتاءً - سقوط الأمطار طوال العام)

(٦) تقع دولة جزر القمر في المحيط .....

(الهادي - القطب الشمالي - الهندي - الأطلنطي)

(٧) من أشجار الغابات المدارية .....

(الزيتون - الأرز - البلوط - السنط)

### ٥ اكتب ما تشير إليه العبارات الآتية:

(١) تحكم الوطن العربي في الممرات ذات الأهمية وقت الحروب والأزمات.

(.....)

(٢) مجار كانت تملؤها المياه قديمًا ثم جفت.

(.....)

(٣) أشكال سطح الأرض المختلفة.

(.....)

(٤) مساحة من الأرض لها نفس الخصائص المناخية.

(.....)

(٥) نقص كمية الأمطار خلال فترة زمنية محددة.

(.....)

(٦) تناقص قدرة الأرض الزراعية على الإنتاج.

(.....)

(٧) أراض منخفضة تقع وسط الصحراء، تتم زراعتها باستخدام المياه الجوفية.

(.....)

(٨) تجمعات من الرمال المنخفضة تكوّنت بفعل التعرية الهوائية.

(.....)

### ٦ صوب ما تحته خط:

(١) يحدّ الوطن العربي من جهة الشمال البحر المتوسط وجبال كرديستان.

(.....)

(٢) تعدّد الممرات جعل للوطن العربي أهمية ثقافية كبيرة.

(.....)

(٣) تعتمد الزراعة في الواحات على الأمطار الشتوية.

(.....)

(٤) نشأت جبال عمان نتيجة الحركات الانكسارية.

(.....)

(٥) أحد أسباب تلوث الهواء زيادة النشاط الزراعي.

(.....)

٧

بم تفسر...؟

(١) بناء السدود في مناطق حدوث السيول.

Ⓒ

(٢) اختلاف درجات الحرارة من دولة إلى أخرى داخل الوطن العربي.

Ⓒ

(٣) نشأة جبال زاغروس وعمان في الوطن العربي.

Ⓒ

(٤) أهمية وجود الواحات وسط الصحراء بالوطن العربي.

Ⓒ

(٥) للجبال أهمية اقتصادية كبيرة.

Ⓒ

Ⓒ

(٦) أهمية الأودية الجافة.

Ⓒ

Ⓒ

(٧) تساهم السهول الساحلية في دعم اقتصاد بعض الدول العربية.

Ⓒ

Ⓒ

(٨) تتدرج حشائش السافانا في الطول.

Ⓒ

Ⓒ

٨

ما النتائج المترتبة على...؟

(١) يُغطي التصحر نسبة كبيرة من مساحة الوطن العربي.

Ⓒ



(٢) حدوث الحركات الانكسارية في الوطن العربي.

.....

.....



(٣) وجود العديد من الأماكن المقدسة بالوطن العربي.

.....

.....

دَلِّ على صحة العبارات الآتية:

٩

(١) نشأ بالوطن العربي العديد من الحضارات القديمة.

.....

.....

(٢) أثرت الحركات الالتوائية على مظاهر السطح بالوطن العربي.

.....

.....

(٣) تُعدُّ الهضاب أكثر مظاهر سطح الوطن العربي انتشارًا.

.....

.....

(٤) يؤثر عامل الارتفاع في درجات الحرارة.

.....

.....

(٥) يختلف النبات الطبيعي حسب كمية المطر في الإقليم الصحراوي.

.....

.....

(٦) تبذل الدول العربية الجهود للحد من التغيرات المناخية.

.....

.....

التأسيس السليم

# الإجابات النموذجية



اختيارك  
الأول في  
مصر



ذاكر معنا

شركة التأسيس السليم





ذاكر معنا

## النموذج الأول

**السؤال الأول: أمامك خريطة صَمَاءَ للوطن العربي، ادرسها ثم أجب:**



- (١) يمثل الرقم (٦) الحد الفاصل بين الجناحين الآسيوي والإفريقي.  
 (٢) يشير رقم (١) إلى دولة البحرين.  
 (٣) يشير رقم (٢) إلى جبال أطلس.  
 (٤) يشير الرقم (٣) إلى وادي الدواسر.  
 (٥) يشير رقم (٤) إلى مضيق جبل طارق.

**السؤال الثاني: (أ) أكمل العبارات الآتية بما يناسبها من كلمات:**

- (١) وجود البترول والمعادن بالوطن العربي أعطى له أهمية اقتصادية.  
 (٢) تُعدُّ هضبة **بادية الشام** من هضاب الجناح الآسيوي.  
 (٣) تعيش الزراف والأسود والنمور في منطقة **حشائش السافانا**.  
**(ب) ما النتائج المترتبة على:** تعرُّض الصومال لأكبر موجة جفاف في الوطن العربي؟  
 أ أدى إلى حدوث مجاعة تسببت في وفاة أكثر من مليون شخص.  
**(ج) دَلِّ على صحة العبارة:** يؤثّر اتجاه الكتل الجبلية في توزيع كمية المطر.  
 أ حيث تسقط على سفوح الجبال المواجهة للرياح المحملة ببخار الماء ويقل سقوط الأمطار على سفوح الجبال الداخلية غير المواجهة للرياح.

**السؤال الثالث: (أ) اكتب كلمة (صواب) أو (خطأ) أمام العبارات الآتية:**

- (١) تكوّنت تضاريس الوطن العربي في العصر الحديث. (خطأ)  
 (٢) توجد دولة جزر القمر في نفس الامتداد الفلكي لباقي الدول العربية. (خطأ)  
 (٣) ترتفع درجات الحرارة كلما اقتربنا من دائرة الاستواء. (صواب)  
**(ب) ما المقصود بـ: (الجفاف)؟**  
 أ نقص كمية الأمطار خلال فترة زمنية محددة.  
**(ج) بم تفسر:** تُغطي الثلوج بعض القمم الجبلية المرتفعة في الوطن العربي؟  
 أ لأننا كلما ارتفعنا ١٥٠م تنخفض درجة الحرارة درجة مئوية واحدة ممّا يؤدي إلى تراكم الثلوج فوق القمم المرتفعة مثل: «جبال لبنان».



## النموذج الثاني

**السؤال الأول: أمامك خريطة صماء للوطن العربي، ادرسها ثم أجب:**



- (١) اختر: تنتمي المدينة رقم (١) إلى إقليم مُناخ (شبه الاستوائي - السوداني - الصحراوي).
- (٢) يشير رقم (٢) إلى مضيق **هرمز**.
- (٣) يشير رقم (٣) إلى **المغرب**.
- (٤) يمثل رقم (٥) دولة عانت من الجفاف: **الصومال**.

**السؤال الثاني: (أ) اختر الإجابة الصحيحة مما بين القوسين:**

- (١) تشترك دولة المغرب والجزائر أنّ كليهما يُطل على .....  
(البحر الأحمر - البحر المتوسط - المحيط الهندي - المحيط الأطلنطي)
- (٢) تسقط الأمطار الصيفية على مناطق .....  
(إقليم البحر المتوسط - الإقليم المداري - الإقليم الصحراوي - إقليم التندرا)
- (٣) تُعدُّ السهول ..... الأكثر انتشارًا في الوطن العربي.  
(الصحراوية - الساحلية - الفيضية - الجليدية)

- (ب) ما النتائج المترتبة على:** الموقع الجغرافي للوطن العربي؟
- ⊖ جعل الوطن العربي مطعمًا لكثير من المحتلين عبر العصور المختلفة من أجل نهب ثرواته والتحكم في موقعه والممرات الملاحية الهامة.
- (ج) ما العلاقة بين:** التعرية الهوائية وبحر الرمال العظيم؟
- ⊖ التعرية الهوائية تؤدي إلى تكوين الكثبان الرملية ومنها بحر الرمال العظيم.

**السؤال الثالث: (أ) أكمل العبارات الآتية بما يناسبها من كلمات:**

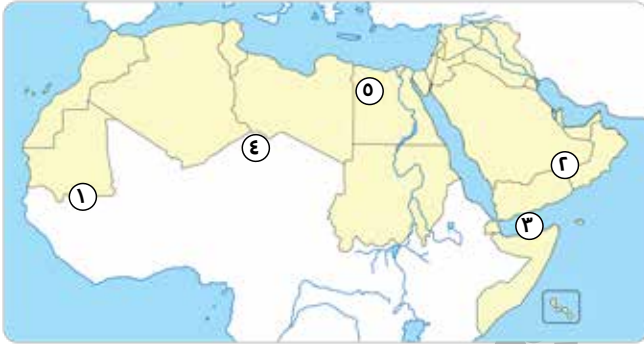
- (١) يربط مضيق **هرمز** الخليج العربي وخليج عُمان.
- (٢) تنمو أشجار الزيتون والأرز في غابات إقليم **البحر المتوسط**.
- (٣) تحدث مشكلة التصحر لأسباب طبيعية منها **زحف الكثبان الرملية**.

(ب) قارن بين الخصائص المناخية «لإقليم البحر المتوسط - الإقليم المداري»:

وجه المقارنة	إقليم البحر المتوسط	الإقليم المداري
الخصائص المناخية	فصل الصيف: يتميز بارتفاع درجات الحرارة. فصل الشتاء: يتميز باعتدال الحرارة وسقوط الأمطار.	فصل الصيف: ترتفع درجات الحرارة وتسقط الأمطار. فصل الشتاء: يتميز باعتدال الحرارة والجفاف.

### النموذج الثالث

السؤال الأول: أمامك خريطة صماء للوطن العربي، ادرسها ثم أجب:



- (١) يشير رقم (١) إلى الإقليم المداري.
- (٢) يشير رقم (٢) إلى هضبة حضر موت.
- (٣) يشير الرقم (٣) إلى خليج عدن.
- (٤) يشير رقم (٤) إلى الصحراء الكبرى.
- (٥) يشير رقم (٥) إلى واحة سيوة.

السؤال الثاني: (أ) اكتب كلمة (صواب) أو (خطأ) أمام العبارات الآتية:

- (١) تجمع الوطن العربي لغة وعادات وتقاليده واحدة. (صواب)
- (٢) تُعدُّ الجبال أكثر مظاهر السطح انتشاراً في الوطن العربي. (خطأ)
- (٣) تنتشر حشائش (الإستبس) في الإقليم الصحراوي. (خطأ)
- (٤) يساهم التوسع العمراني في حل مشكلة التصحر. (خطأ)

(ب) ما المقصود بكل من...؟

- (١) التغير المناخي: تغييرٌ طويل في درجات الحرارة وأنماط المطر يؤدي إلى موجات جفاف وحرائق لغابات وانقراض النباتات.
- (٢) الوطن العربي: عدد من الدول العربية التي تجمعها لغة وعادات وتقاليده واحدة وتاريخ مشترك.

**السؤال الثالث: (أ) حدّد المختلف في العناصر الآتية مع ذكر السبب:**

(سوريا - السعودية - لبنان - الجزائر)

Ⓒ العنصر المختلف: الجزائر.

Ⓒ السبب: لأنها تنتمي لدول الجناح الإفريقي وباقي الدول تقع في الجناح الآسيوي.

(أشجار التين - أشجار الأرز - حشائش الإستبس - حشائش السافانا)

Ⓒ العنصر المختلف: حشائش السافانا.

Ⓒ السبب: لأنها تقع في الإقليم المداري وباقي النباتات تقع في إقليم البحر المتوسط.

(ب) **بم تفسر:** لوطننا العربي أهمية دينية كبرى؟

Ⓒ لأنه مهد للديانات السماوية الثلاث «الإسلامية - المسيحية - اليهودية».

Ⓒ يحتوي على العديد من الأماكن المقدسة يقصدها الزوار من جميع أنحاء العالم

مثل: «بيت الله الحرام - المسجد الأقصى - كنيسة المهد».

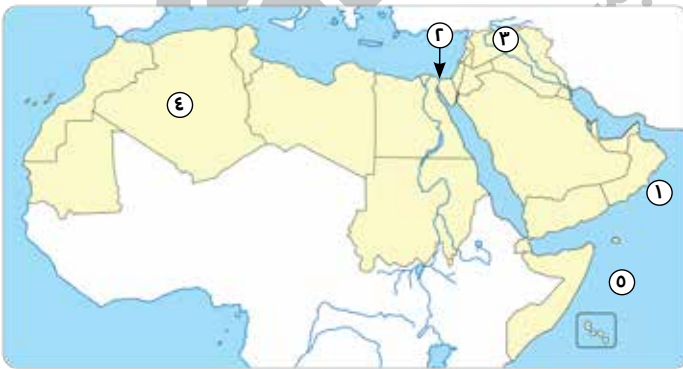
(ج) **دّل على صحة العبارة:** تُعدُّ هضبة إفريقيا الشمالية أكبر هضاب الوطن العربي مساحة.

Ⓒ حيث إنها تمتد من: ساحل البحر المتوسط شمالاً حتى الصحراء الكبرى جنوباً.

ومن المحيط الأطلنطي غرباً حتى جبال البحر الأحمر شرقاً.

**النموذج الرابع**

**السؤال الأول: (أ) أمامك خريطة صماء للوطن العربي، ادرسها ثم أجب:**



(١) بحر العرب.

(٢) ممر ملاحي هام قناة السويس.

(٣) نهري دجلة، الفرات.

(٤) أكبر دول الوطن العربي مساحة الجزائر.

(٥) المحيط الهندي.

(ب) **بم تفسر:** أهمية سهول البحر الأحمر والخليج العربي؟

Ⓒ تتميز بأنها غنية بالثروات المعدنية ومصادر الطاقة.

## السؤال الثاني: (أ) اختر الاجابة الصحيحة مما بين القوسين:

- (١) يمكن مواجهة تلوث الهواء من خلال الاعتماد على .....
- (الأسمدة الكيمائية - الطاقة المتجددة - الوقود الحفري - الري بالرش)
- (٢) تقع هضبة نجد في .....
- (وسط شبه الجزيرة العربية - شمال شبه الجزيرة العربية - شمال إفريقيا - غرب إفريقيا)
- (٣) أحد أسباب التصحر في الوطن العربي .....
- (زراعة الأشجار - ترشيد استهلاك المياه - الري الجائر - استخدام الطاقة الشمسية)
- (ب) ما وجه الشبه بين: جهود مصر والسعودية في الحفاظ على البيئة؟
- حيث أطلق كل من «مصر والسعودية» المبادرات لزراعة الأشجار فأطلقت مصر مبادرة لزراعة «١٠٠ مليون شجرة» وأطلقت السعودية مبادرة لزراعة ٤٥٠ مليون شجرة.

- (ج) ما النتائج المترتبة على: إشراف الوطن العربي على مسطحات مائية هامة؟
- جعل للوطن العربي أهمية إستراتيجية كبيرة.

## السؤال الثالث: (أ) اكتب كلمة (صواب) أو (خطأ) أمام العبارات الآتية:

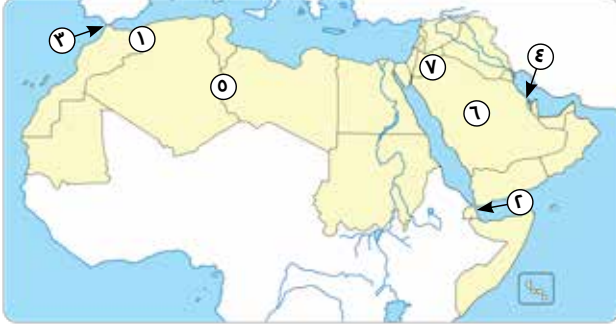
- (١) توجد أعلى قمة جبلية بالوطن العربي شمال غرب شبه الجزيرة العربية. (خطأ)
- (٢) حرص المصريون القدماء على عدم الإضرار بالبيئة الطبيعية. (صواب)
- (٣) تؤثر مشكلة الجفاف إيجابياً على النشاط الزراعي والرعوي. (خطأ)
- (٤) تعيش الإبل والزواحف بالإقليم المداري. (خطأ)

## (ب) قارن بين أسباب حدوث مشكلة كل من «التصحر - تلوث الهواء» في الوطن العربي:

وجه المقارنة	التصحر	تلوث الهواء
أسباب حدوث المشكلة	<ul style="list-style-type: none"> <li>● زحف الكثبان الرملية.</li> <li>● تناقص الأمطار والمياه الجوفية.</li> <li>● قطع الأشجار.</li> <li>● الرعي الجائر للحيوانات.</li> <li>● التوسع العمراني.</li> </ul>	<ul style="list-style-type: none"> <li>● الاعتماد على مصادر الطاقة غير المتجددة.</li> <li>● زيادة النشاط الصناعي الملوث للبيئة.</li> <li>● العواصف الرملية.</li> <li>● حرق النفايات.</li> </ul>

## النموذج الخامس

**السؤال الأول: (أ) أمامك خريطة صماء للوطن العربي، ادرسها ثم أجب:**



(١) تعمل الدولة رقم (٦) على إنشاء مدينة نيوم الخضراء.

(٢) يشير الرقم (٤) إلى أصغر دول الوطن العربي.

(٣) يمثل الرقم (١) إقليم البحر المتوسط.

(٤) يمثل الرقم (٢) مضيق باب المندب.

(٥) يمثل الرقم (٧) هضبة بادية الشام.

**(ب) بم تفسر:** نمو الغابات المعتدلة على منحدرات الجبال بالوطن العربي؟

ج بسبب غزارة الأمطار على منحدرات الجبال في مناطق إقليم البحر المتوسط.

**السؤال الثاني: (أ) أكمل العبارات الآتية بما يناسبها من كلمات:**

(١) يحدُّ الوطن العربي جبال **كرديستان** و**زاجروس** شرقاً.

(٢) تمتدُّ جبال أطلس في ثلاث دول هي **المغرب**، **تونس**، **الجزائر**.

(٣) يقع الإقليم **المداري** في جنوب الوطن العربي.

**(ب) دَلِّ على صحة العبارة:** يُؤثِّر المُنَاخ على تنوع الأنشطة الاقتصادية بالوطن العربي.

ج حيث يؤدي إلى:

- تنوع المحاصيل الزراعية من مكان إلى آخر.
- تنشيط السياحة البيئية.
- تحقيق التكامل بين الدول العربية من خلال تبادل المحاصيل والمنتجات.

**(ج) ما النتائج المترتبة على:** مشكلة الجفاف في الوطن العربي؟

ج يؤدي الجفاف إلى: نقص الغذاء - انتشار الأمراض وسوء التغذية - التأثير

بالسلب على النشاط الزراعي والرعوي.

## السؤال الثالث: (أ) اكتب ما تشير إليه العبارات الآتية:

- (١) النبات الذي ينمو دون تدخل من الإنسان.  
(النبات الطبيعي)
- (٢) وصف حالة الجو خلال فترة زمنية طويلة.  
(المناخ)
- (٣) نحت الصخور ونقلها وإرسابها بواسطة المياه.  
(التعرية المائية)
- (٤) موقع المكان بالنسبة لليابس والماء.  
(الموقع الجغرافي)

## (ب) ما العلاقة بين...؟

طرق الري القديمة والمياه العذبة.

طرق الري القديمة تتسبب في سوء إدارة الموارد المائية مما يؤدي إلى ندرة المياه العذبة.

## (ج) ماذا يحدث إذا لم...؟

يتعرض الوطن العربي للحركات الالتوائية.

لم تتكون الجبال الالتوائية على سطح الوطن العربي.

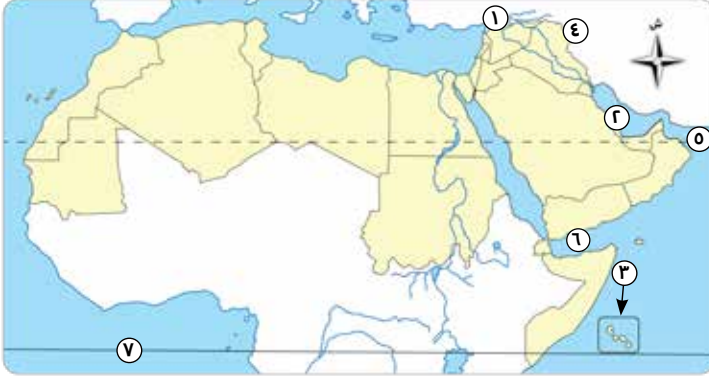




ذاكر معنا

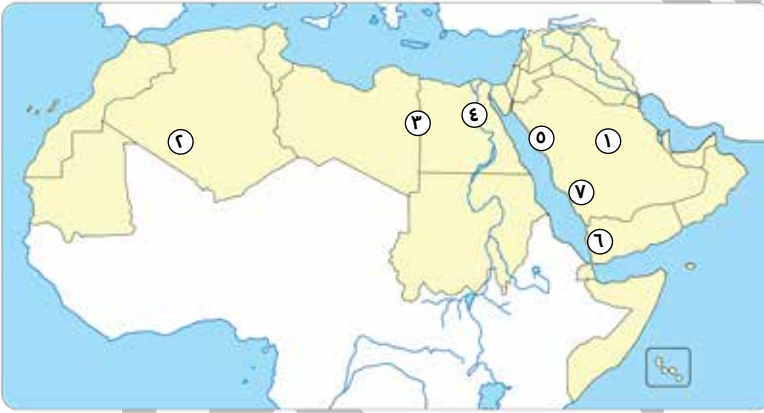
## بنك الأسئلة

١ (أ) أمامك خريطة صماء للوطن العربي، ادرسها ثم أجب:



- (١) يشير رقم (١) إلى جبال طوروس.
- (٢) يشير رقم (٢) إلى الخليج العربي.
- (٣) يشير رقم (٣) إلى دولة جزر القمر.
- (٤) يشير رقم (٤) إلى جبال كردستان.
- (٥) يشير رقم (٥) إلى خليج عُمان.
- (٦) يشير رقم (٦) إلى خليج عدن.
- (٧) يشير رقم (٧) إلى دائرة الاستواء.

٢ (ب) أمامك خريطة صماء للوطن العربي، ادرسها ثم أجب:



- (١) يشير رقم (١) إلى هضبة نجد.
- (٢) يشير رقم (٢) إلى واحة عين صالح.
- (٣) يشير رقم (٣) إلى كئبان رملية، هي بحر الرمال العظيم.
- (٤) يشير رقم (٤) إلى نهر النيل.
- (٥) يشير رقم (٥) إلى جبال الحجاز.
- (٦) يشير رقم (٦) إلى مرتفعات اليمن.
- (٧) يشير رقم (٧) إلى جبال عسير.

٢ أكمل العبارات الآتية بما يناسبها من كلمات:

- (١) تمتد أراضي الوطن العربي في قارتين هما آسيا وإفريقيا.
- (٢) نشأت على أرض الوطن العربي العديد من الحضارات منها حضارة بلاد العراق في الجناح الآسيوي.
- (٣) يتم استخراج الصمغ العربي من أشجار السنط.



- (٤) تنتشر ببعض دول الوطن العربي الأمراض وسوء التغذية بسبب مشكلة الجفاف.
- (٥) الإقليم المناخي السائد في الوطن العربي هو الإقليم الصحراوي.
- (٦) يمرُّ في جنوب الوطن العربي دائرة الاستواء.
- (٧) تنتشر الظواهر التضاريسية فوق الهضاب بالوطن العربي.

٣

## اكتب كلمة (صواب) أمام العبارة الصحيحة وكلمة (خطأ) أمام العبارة غير الصحيحة:

- (١) تساهم جبال الوطن العربي في ازدهار نشاط السياحة. ( صواب )
- (٢) تسقط الأمطار شتاءً في مناطق الإقليم المداري. ( خطأ )
- (٣) تنتمي مدينة الخرطوم في السودان إلى إقليم البحر المتوسط. ( خطأ )
- (٤) تؤثر التغيرات المناخية سلبيًا على مستقبل التنمية في الوطن العربي. ( صواب )
- (٥) تُعدُّ العواصف الرملية من أسباب مشكلة تلوث الهواء. ( صواب )
- (٦) أكبر هضاب الوطن العربي تقع في الجناح الإفريقي. ( صواب )
- (٧) يؤدي التنوع المناخي إلى تنوع النبات الطبيعي. ( صواب )

٤

## اختر الإجابة الصحيحة مما بين القوسين:

- (١) يقع الوطن العربي بأكمله شرق المحيط .....  
(الهادي - الهندي - الأطلنطي - القطبي)
- (٢) أعلى قمة في جبال أطلس هي جبل .....  
(أطلس التل - سانت كاترين - توبقال - شايب النبات)
- (٣) أيُّ ممَّا يلي يُعدُّ من العوامل الباطنية التي شكَّلت سطح الوطن العربي؟ .....  
(التعرية المائية - الثورات البركانية - التعرية الهوائية - الرواسب الفيضية)
- (٤) تقع واحة ..... في دولة الجزائر.  
(سيوة - الكفرة - عين صالح - الداخلة)
- (٥) يتشابه مناخ شمال دولتي سوريا ومصر في أن كليهما يتصف بـ .....  
(سقوط الأمطار شتاءً - سقوط الأمطار صيفًا - ارتفاع الحرارة شتاءً - سقوط الأمطار طوال العام)

(٦) تقع دولة جزر القمر في المحيط .....

(الهادي - القطب الشمالي - الهندي - الأطلنطي)

(٧) من أشجار الغابات المدارية .....

(الزيتون - الأرز - البلوط - السنت)

### ٥ اكتب ما تشير إليه العبارات الآتية:

(١) تحكم الوطن العربي في الممرات ذات الأهمية وقت الحروب والأزمات.

(الأهمية الإستراتيجية)

(٢) مجار كانت تملؤها المياه قديمًا ثم جفت.

(الأودية الجافة)

(٣) أشكال سطح الأرض المختلفة.

(التضاريس)

(٤) مساحة من الأرض لها نفس الخصائص المناخية.

(الإقليم المناخي)

(٥) نقص كمية الأمطار خلال فترة زمنية محددة.

(الجفاف)

(٦) تناقص قدرة الأرض الزراعية على الإنتاج.

(التصحّر)

(٧) أراض منخفضة تقع وسط الصحراء، تتم زراعتها باستخدام المياه الجوفية.

(الواحات)

(٨) تجمعات من الرمال المنخفضة تكوّنت بفعل التعرية الهوائية.

(الكثبان الرملية)

### ٦ صوب ما تحته خط:

(١) يحدّ الوطن العربي من جهة الشمال البحر المتوسط و جبال كردستان. (طوروس)

(٢) تعدّد الممرات جعل للوطن العربي أهمية ثقافية كبيرة. (إستراتيجية)

(٣) تعتمد الزراعة في الواحات على الأمطار الشتوية. (المياه الجوفية)

(٤) نشأت جبال عُمان نتيجة الحركات الانكسارية. (البحر الأحمر)

(٥) أحد أسباب تلوث الهواء زيادة النشاط الزراعي. (الصناعي)

٧

بم تفسر...؟

- (١) بناء السدود في مناطق حدوث السيول.
- Ⓒ للاستفادة من تلك المياه في نشاط الزراعة.
- (٢) اختلاف درجات الحرارة من دولة إلى أخرى داخل الوطن العربي.
- Ⓒ بسبب تأثير عدة عوامل منها «الموقع الفلكي - القرب أو البعد عن المسطحات المائية - مظاهر السطح».
- (٣) نشأة جبال زاغروس وعمان في الوطن العربي.
- Ⓒ بسبب الحركات الالتوائية التي تتعرض لها أرض الوطن العربي.
- (٤) أهمية وجود الواحات وسط الصحراء بالوطن العربي.
- Ⓒ يعيش فيها السكان ويمارسون نشاط الزراعة اعتمادًا على المياه الجوفية.
- (٥) للجبال أهمية اقتصادية كبيرة.
- Ⓒ استخدمها الإنسان في استخراج المعادن ومواد البناء، كما أنها تتميز بالمناظر الخلابة التي تجذب السياح للاستمتاع بها.
- (٦) أهمية الأودية الجافة.
- Ⓒ تستخدم كطرق للمواصلات والنقل.
- Ⓒ نستخرج منها المياه الجوفية.
- (٧) تساهم السهول الساحلية في دعم اقتصاد بعض الدول العربية.
- Ⓒ لأن بعضها نستخرج منه المعادن ومصادر الطاقة والبعض الآخر تربته خصبة صالحة للزراعة.
- (٨) تتدرج حشائش السافانا في الطول.
- Ⓒ بسبب كمية المطر، فكلما زادت الأمطار زاد طول الحشائش.

٨ ما النتائج المترتبة على...؟

- (١) يُغطي التصحر نسبة كبيرة من مساحة الوطن العربي.
- Ⓒ أدى إلى تدهور الأراضي الزراعية واختفاء النباتات.



- (٢) حدوث الحركات الانكسارية في الوطن العربي.  
 ج أدى إلى تكوين العديد من السلاسل الجبلية ومنها:  
 ج سلاسل جبال البحر الأحمر في مصر والسودان وسلاسل جبال الحجاز وعسير  
 ومرتفعات اليمن في السعودية واليمن.  
 (٣) وجود العديد من الأماكن المقدسة بالوطن العربي.  
 ج جعل الوطن العربي ذا أهمية دينية كبيرة.



### دَلِّلْ على صحة العبارات الآتية:

٩

- (١) نشأ بالوطن العربي العديد من الحضارات القديمة.  
 حيث نشأ بالوطن العربي «الحضارة المصرية القديمة وحضارة بلاد العراق وبلاد اليمن».  
 (٢) أثرت الحركات الالتوائية على مظاهر السطح بالوطن العربي.  
 ج حيث ساهمت الحركات الالتوائية في تشكيل العديد من الجبال، منها:  
 • «جبال أطلس - جبال زاغروس - جبال عُمان».  
 (٣) تُعدُّ الهضاب أكثر مظاهر سطح الوطن العربي انتشارًا.  
 ج حيث يوجد العديد من الهضاب منها: «هضبة بادية الشام، هضبة نجد، هضبة حزموت، هضبة شمال إفريقيا».  
 (٤) يؤثر عامل الارتفاع في درجات الحرارة.  
 ج حيث إننا كلما ارتفعنا ١٥٠م عن مستوى سطح البحر تنخفض درجة الحرارة درجة مئوية واحدة.  
 (٥) يختلف النبات الطبيعي حسب كمية المطر في الإقليم الصحراوي.  
 ج حيث تنمو الأعشاب القصيرة في المناطق قليلة المطر وتنمو النباتات الشوكية في المناطق نادرة المطر.  
 (٦) تبذل الدول العربية الجهود للحد من التغيرات المناخية.  
 ج حيث تقوم بحماية الغابات وزيادة مساحة الأراضي الخضراء.  
 ج تفعيل القوانين لمواجهة التغيرات البيئية.  
 ج الاعتماد على مصادر الطاقة المتجددة.  
 ج الحد من انبعاثات الغازات الدفيئة.



تطبيق



مذكرات جاهزة للطباعة

لتحميل الملفات التعليمية مجاناً للمعلم والطالب

مذكرات وملازم / مراجعات وملخصات / امتحانات / كتب الوزارة /  
أدلة المعلم / دفاتر التحضير / سجلات مدرسية / أوراق تأسيس

امسح الكود بموبايلك علشان تقدر تثبت التطبيق

وتقدر ف أي وقت تحمّل ال نفسك فيه ببلاش

هيغنيك عن البحث والجروبات والقنوات الكثيرة

