

الأضواء

# الدراسات الاجتماعية نماذج اختبارات الأضواء

لشهر أكتوبر

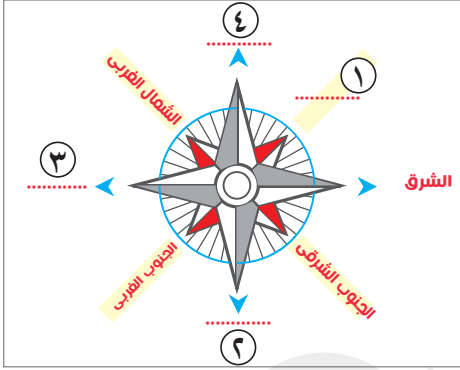
الفصل الدراسي الأول  
المف  
4  
الابتدائي

2026



## السؤال الأول

( ١ ) ادرس الشكل الذى أمامك ثم أجب:



- ١ يشير رقم (١) إلى اتجاه .....
- ٢ يشير رقم (٢) إلى اتجاه .....
- ٣ يشير رقم (٣) إلى اتجاه .....
- ٤ يشير رقم (٤) إلى اتجاه .....

(ب) ما العلاقة بين: المخطط والخريطة؟

## السؤال الثانى

( ١ ) أكمل العبارات الآتية بما يناسبها من كلمات:

- ١ السهول على الخريطة يشار إليها باللون .....
- ٢ قام الإدريسي برسم خريطة للـ .....
- ٣ تقع مدينة بورسعيد على ساحل البحر .....

(ب) بم تفسر ...؟

- ١ التأكد من صحة الخبر قبل نشره .....
- ٢ استخدام المصريين القدماء الخرائط .....

## السؤال الثالث

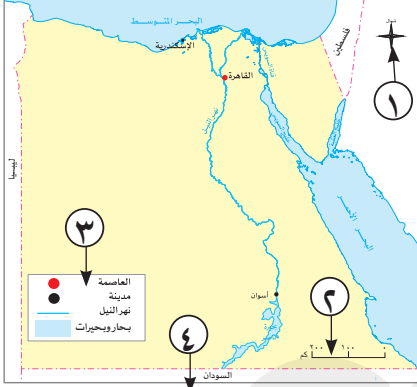
( ١ ) اختر الإجابة الصحيحة مما بين القوسين:

- ١ التقاط الصور الفضائية يتم باستخدام .....  
(الأقمار الصناعية - الطائرات - التليسكوب - الهاتف المحمول)
- ٢ أى من هؤلاء يستخدم الخريطة في تحديد موقع الأراضى الزراعية؟ .....  
(المعلم - الجندى - السأخ - المزارع)
- ٣ سجل المصرى القديم أخباره وأحداث حياته على .....  
(البرديات - المحادثات - الموسوعات - الكتابات)

(ب) قارن بين: مفهوم المدينة والقرية.

وجه المقارنة	المدينة	القرية
المفهوم	.....	.....

( ١ ) أمامك خريطة صماء لمصر : اكتب مدلول الأرقام عليها:



- ١ يشير رقم (١) إلى .....
- ٢ يشير رقم (٢) إلى .....
- ٣ يشير رقم (٣) إلى .....
- ٤ يشير رقم (٤) إلى .....

(ب) ددل على صفة العبارة الآتية: تتنوع استخدامات الأرض في مصر. خريطة توضح أماكن المدن المصرية

( ١ ) اكتب كلمة (صواب) أمام العبارة الصحيحة وكلمة (خطأ) أمام العبارة غير الصحيحة:

- ١ الكتاب الذي كتبه مؤرخ وقت الحدث يعد أحد المصادر الأولية . (.....)
- ٢ تساعد الخريطة الجندی في تحديد المواقع العسكرية . (.....)
- ٣ تُعد المناطق الزراعية في مصر ثروة قومية يجب الحفاظ عليها . (.....)

(ب) حدد أوجه التشابه والاختلاف بين: المصادر الأولية والمصادر الثانوية.

المصادر الثانوية	المصادر الأولية	وجه المقارنة
.....	.....	الشبه
.....	.....	الاختلاف

( ١ ) اكتب ماتشير إليه العبارات الآتية:

- ١ يشير إلى النسبة بين المسافة على الخريطة وما يقابلها على أرض الواقع. (.....)
- ٢ مصادر قامت بتسجيل الحدث بعد وقوعه بفترة زمنية طويلة. (.....)
- ٣ اتجاهات تقع بين الاتجاهات الأربعة الأصلية. (.....)

(ب) بم تفسر...؟

- ١ استخدم المصريون القدماء النجم القطبي الشمالي. ....
- ٢ أهمية الخريطة للسائح. ....

## السؤال الأول

( ١ ) أكمل العبارات الآتية بما يناسبها من كلمات:

- ١ برع الإنسان قديماً في تحديد الاتجاهات الأصلية اعتماداً على الشمس و.....
- ٢ تساعد الخريطة معلمة ..... في الشرح.
- ٣ الكتب والموسوعات أحد أنواع المصادر.....

(ب) دلل على صحة العبارتين الآتيتين:

- ١ لعلماء العرب دور كبير في علم رسم الخرائط.....
- ٢ براعة المصريين القدماء في علم الفلك.....

( ١ ) اختر الإجابة الصحيحة مما بين القوسين:

## السؤال الثاني

- ١ أى المدن التالية تقع على ساحل البحر المتوسط؟  
(أسوان - بورسعيد - الغردقة - شرم الشيخ)
- ٢ أى من الأماكن التالية يعد من المناطق الترفيهية؟  
(المدارس - المستشفيات - الأندية الرياضية - المتاحف)
- ٣ أى مما يلي يعد أحد المصادر الثانوية لجمع المعلومات؟  
(البرديات - النقوش الأثرية - الأماكن الأثرية - الأفلام التاريخية)

(ب) وضح أهمية كل من:

- ١ وردة البوصلة.....
- ٢ مفتاح الخريطة.....

( ١ ) اكتب كلمة (صواب) أمام العبارة الصحيحة وكلمة (خطأ) أمام العبارة غير الصحيحة:

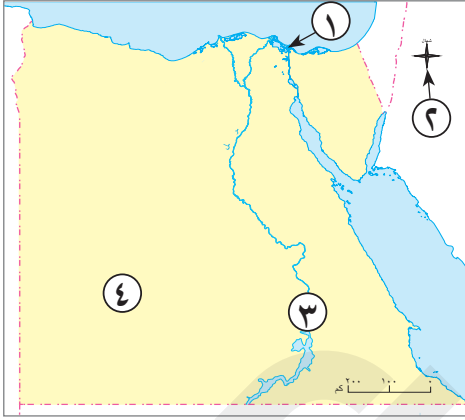
## السؤال الثالث

- ١ تستطيع فهم الخريطة من خلال وجود عنوانها. (.....)
- ٢ تطبيق (GPS) من الوسائل الحديثة لتحديد المواقع. (.....)
- ٣ المصادر لثانوية أكثر دقة من الأولية. (.....)

(ب) قارن بين: الصور الجوية والصور الفضائية من حيث وسيلة الالتقاط والمساحة المغطاة.

وجه المقارنة	الصور الجوية	الصور الفضائية
وسيلة الالتقاط	.....	.....
المساحة المغطاة	.....	.....

**السؤال الأول ( ١ ) أمامك خريطة صماء لمصر اكتب مدلول الأرقام التي عليها:**



- ١ مدينة ساحلية .....
- ٢ يشير (٢) إلى .....
- ٣ مدينة على ضفاف نهر النيل .....
- ٤ الصحراء .....

**(ب) دلل على صحة العبارة الآتية:**

- تتميز المدن المصرية بوجود أماكن أثرية وسياحية مهمة .....

**السؤال الثاني ( ١ ) أكمل العبارات الآتية بما يناسبها من كلمات:**

- ١ تقع الكنيسة المعلقة بمدينة .....
- ٢ برع علماء العرب في رسم .....
- ٣ يستخدم ..... الخريطة في تحديد مسار الرحلات الجوية.

**(ب) قارن بين: المناطق الصناعية والمناطق السكنية من حيث الأهمية:**

المناطق السكنية	المناطق الصناعية	وجه المقارنة
.....	.....	الأهمية

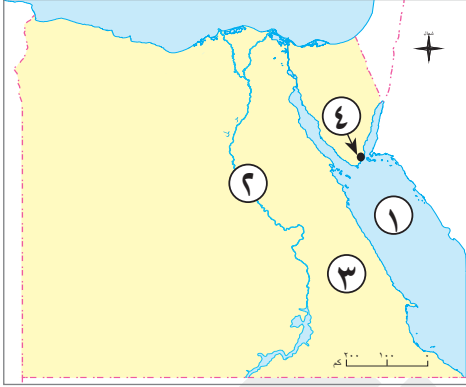
**السؤال الثالث ( ١ ) اختر الإجابة الصحيحة مما بين القوسين:**

- ١ يشرح ..... معنى الألوان والرموز المستخدمة في الخريطة.  
(وردة البوصلة - مفتاح الخريطة - مقياس الرسم - عنوان الخريطة)
- ٢ تختلف الصور الفضائية عن الصور الجوية في أنها تلتقط عن طريق .....
- (الطائرات - الأقمار الصناعية - الصواريخ - السفن)
- ٣ المعلومات المتداولة دون التأكد من صحتها هي .....
- (آراء - حقائق - انطباعات - شائعات)

**(ب) ما المقصود بـ ...؟**

- ١ المصادر الأولية .....
- ٢ الخريطة .....

( ١ ) أمامك خريطة صماء لمصر، اكتب مدلول الأرقام الموضحة عليها:



السؤال الأول

- ١ البحر.....
- ٢ نهر.....
- ٣ الصحراء.....
- ٤ المدينة.....

(ب) بم تفسر ...؟

- استقرار المصريين القدماء على ضفاف نهر النيل.

( ١ ) اكتب كلمة (صواب) أمام العبارة الصحيحة وكلمة (خطأ) أمام العبارة غير الصحيحة:

السؤال الثاني

- ١ تعد البرديات والنقوش أحد المصادر الثانوية لجمع المعلومات. (.....)
- ٢ النجم القطبي الشمالى يشير إلى اتجاه الغرب . (.....)
- ٣ تساعد الخريطة المزارع في تحديد موقع الأراضى الزراعية. (.....)

(ب) ما المقصود بـ:

- ١ الإسطرلاب.....
- ٢ المخطط.....

( ١ ) أكمل العبارات الآتية بما يناسبها من كلمات:

السؤال الثالث

- ١ يعد الاتجاه الشمالى الغربى من الاتجاهات.....
- ٢ اتجاه فرعى يقع بين اتجاه الشمال واتجاه الشرق هو.....
- ٣ يشير اللون الأزرق على الخريطة إلى.....

(ب) أجب عن السؤالين التاليين:

- ١ حدد أهمية الخريطة للمهندس.....
- ٢ وضح: أوجه الاختلاف بين الصور الجوية والصور الفضائية.....

# الدراسات الاجتماعية

## إجابات نماذج اختبارات الأضواء

لشهر أكتوبر

الفصل الدراسي الأول  
المف  
4  
الابتدائي

2026



## السؤال الأول

( ١ )

- ١ الشمال الشرقي .
- ٢ الجنوب .
- ٣ الغرب .
- ٤ الشمال .

(ب) يعد المخطط شكلاً مبسطاً لفكرة الخريطة .

## السؤال الثاني

( ١ )

- ١ الأخضر .
- ٢ العالم .
- ٣ المتوسط .

(ب)

- ١ لتجنب الأخبار الزائفة التي قد تسبب فوضى أو خوفاً .
- ٢ لوصف مسار نهر النيل ومواقع المناجم .

## السؤال الثالث

( ١ )

- ١ الأقمار الصناعية .
- ٢ المزارع .
- ٣ البرديات .

(ب)

القرية	المدينة	وجه المقارنة
تجمع سكني تتركز فيه أنشطة الزراعة وتربية الحيوانات .	تجمع سكني، تتركز فيه الخدمات والأنشطة، وتتكون من عدة أحياء، كل منها له طابع خاص .	المفهوم

## السؤال الأول

( ١ )

- ١ ورده البوصلة .
- ٢ مقياس الرسم .
- ٣ مفتاح الخريطة .
- ٤ عنوان الخريطة .

(ب) حيث توجد مناطق زراعية ومناطق صناعية ومناطق سياحية ومناطق ترفيهية ومناطق سكنية .

## السؤال الثاني

( ١ )

- ١ (صواب) .
- ٢ (صواب) .
- ٣ (صواب) .

(ب)

المصادر الثانوية	المصادر الأولية	وجه المقارنة
مصادر لجمع المعلومات		الشبه
متوافرة ويسهل الحصول عليها أحياناً .	يصعب الحصول عليها أحياناً	الاختلاف

## السؤال الثالث

( ١ )

- ١ مقياس الرسم .
- ٢ مصادر ثانوية .
- ٣ الاتجاهات الفرعية .

(ب)

- ١ لتحديد الاتجاهات ليلاً .
- ٢ تساعد في الوصول إلى الأماكن السياحية والأثرية .

## السؤال الأول

( ١ )

- ١ النجوم.
- ٢ الدراسات الاجتماعية.
- ٣ الثانوية.

(ب)

- ١ قام الإدريسي برسم خريطة للعالم.
- ٢ استعان المصريون القدماء بالنجم القطبي الشمالي لتحديد الاتجاهات ليلاً.

## السؤال الثاني

( ١ )

- ١ بورسعيد.
- ٢ الأندية الرياضية.
- ٣ الأفلام التاريخية.

(ب)

- ١ تساعدنا في تحديد موقع الأماكن والاتجاهات على الخريطة.
- ٢ يشرح معنى الألوان والرموز المستخدمة في الخريطة.

## السؤال الثالث

( ١ )

- ١ (صواب)
- ٢ (صواب)
- ٣ (خطأ)

(ب)

وجه المقارنة	الصور الجوية	الصور الفضائية
وسيلة الالتقاط	الطائرات	القمر الصناعي
المساحة المغطاة	تغطي مساحة محدودة من سطح الأرض.	تغطي مساحات أوسع من الصور الجوية.

## السؤال الأول

( ١ )

١ بورسعيد.

٢ وردة البوصلة.

٣ أسوان.

٤ الغربية.

(ب) حيث يوجد العديد من المناطق الأثرية والسياحية فى القاهرة، مثل: الكنيسة المعلقة التى تعد أقدم الكنائس بمدينة القاهرة، وجامع عمرو بن العاص الذى يعد أول جامع أقيم فى مصر وإفريقيا.

## السؤال الثانى

( ١ )

١ القاهرة.

٢ الخرائط.

٣ قائد الطائرة.

(ب)

وجه المقارنة	المناطق الصناعية	المناطق السكنية
الأهمية	إقامة المصانع التى توفرالمنتجات المتنوعة.	بناء المنازل وتوفيرالخدمات الأساسية.

## السؤال الثالث

( ١ )

١ مفتاح الخريطة.

٢ الأقمارالصناعية.

٣ شائعات.

(ب)

١ مصادر سُجلت فى زمن وقوع الحَدَثِ، تتميز بالدقة، إلا أنه يصعب الحصول عليها أحياناً.  
٢ رسم مصغَّر يوضح سطح الأرض أوجزاً منه باستخدام الرموز والألوان وبمقياس رسم محدد.

## السؤال الأول

( ١ )

١. الأحمر.
٢. النيل.
٣. الشرقية.
٤. شرم الشيخ.

(ب) بسبب وفرة المياه العذبة، واستغلوا التربة الخصبة في الزراعة.

## السؤال الثاني

( ١ )

١. خطأ).
٢. خطأ).
٣. صواب).

(ب)

١. أداة فلكية قديمة استخدمت لتحديد الاتجاهات والمواقع من خلال النجوم.
٢. وصف مكان عن طريق رسم مصغره من الأعلى؛ لأن ذلك يساعد على معرفة تفاصيل المكان بطريقة أوضح من الوصف بالكلمات.

## السؤال الثالث

( ١ )

١. الفرعية.
٢. شمال شرق.
٣. المسطحات المائية.

(ب)

١. التخطيط لإنشاء المباني والطرق.
٢. الصور الجوية يتم التقاطها بواسطة الطائرات أما الصور الفضائية فيتم التقاطها بواسطة الأقمار الصناعية.

تطبيق



مذكرات جاهزة للطباعة

لتحميل الملفات التعليمية مجاناً للمعلم والطالب

مذكرات وملازم / مراجعات وملخصات / امتحانات / كتب الوزارة /  
أدلة المعلم / دفاتر التحضير / سجلات مدرسية / أوراق تأسيس

امسح الكود بموبايلك علشان تقدر تثبت التطبيق  
وتقدر ف أي وقت تحمّل ال نفسك فيه ببلاش  
هيغنيك عن البحث والجروبات والقنوات الكثيرة

