

الأضواء

الدراسات الاجتماعية نماذج اختبارات الأضواء

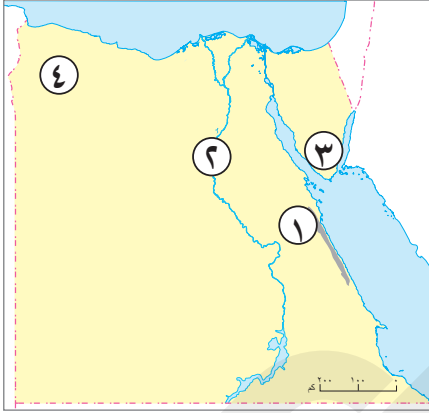
لشهر أكتوبر

الفصل الدراسي الأول
المف
5
الابتدائي

2026



(١) أمامك خريطة صماء لمصر ، اكتب مدلول الأرقام التالية:



- ١ سلسلة جبال.....
- ٢ نهر.....
- ٣ جبل.....
- ٤ هضبة.....

(ب) ما النتائج المترتبة على...؟ دوران الأرض حول نفسها مرة كل ٢٤ ساعة من الغرب إلى الشرق.

(١) اختر الإجابة الصحيحة مما بين الأقواس:

- ١ تتعامد الشمس على دائرة الاستواء في فصلى
- (الصيف والربيع - الصيف والخريف - الصيف والشتاء - الخريف والربيع)
- ٢ أحد مظاهر سطح مصرو يأخذ شكل مثلث هو:
- (الصحراء الغربية - الصحراء الشرقية - شبه جزيرة سيناء - دلتا النيل)
- ٣ تنمو أشجار المانجروف في المناطق
- (الزراعية - الساحلية - الصحراوية - الجليدية)

(ب) أجب عما يلي:

- ١ بم تفسر...؟ إنشاء الدولة المحميات الطبيعية.....
- ٢ ما المقصود ب...؟ شبكة الاحداثيات.....

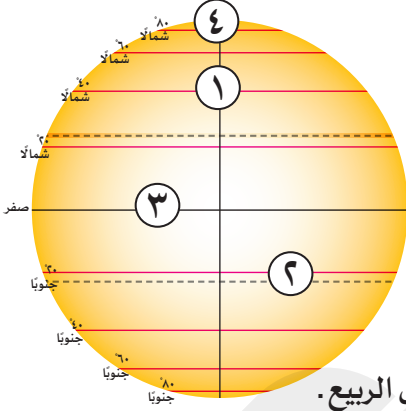
(١) أكمل العبارات الآتية بما يناسبها من كلمات:

- ١ تسقط الأمطار في فصل الخريف في الجهات الشرقية عند جبال.....
- ٢ يدخل النبات الطبيعي في صناعة الأدوية و.....
- ٣ الموقع الفلكي هو الموقع بالنسبة لخطوط الطول ودوائر.....

(ب)

- ١ دلل على صحة العبارة الآتية: يُعد منخفض الفيوم مميّزاً عن باقي منخفضات مصر.....
- ٢ ما العلاقة بين...؟ التغير المناخي والنبات الطبيعي.....

السؤال الأول (١) ادرس الشكل المقابل، ثم أكمل:



- ١ تمثل دائرة الاستواء رقم (.....)
- ٢ خط جرينتش يمثل رقم (.....)
- ٣ يمثل القطب الشمالي رقم (.....)
- ٤ مدار الجدي يمثل رقم (.....)

(ب) ما النتائج المترتبة على...؟ نشاط رياح الخماسين في مصر في فصل الربيع.

السؤال الثاني (١) صوب ما تحته خط:

- ١ توجد هضبة مارمريكا في جنوب الصحراء الشرقية.
- ٢ تتميز دوائر العرض بأنها متساوية في الطول.
- ٣ يمتد بحر الرمال العظيم في الصحراء الشرقية.

(ب) أجب عما يلي:

- ١ اذكر اثنين من: جهود الدولة لحماية النباتات والحيوانات البرية.
- ٢ بم تفسر...؟ أهمية دوائر العرض في حياتنا.

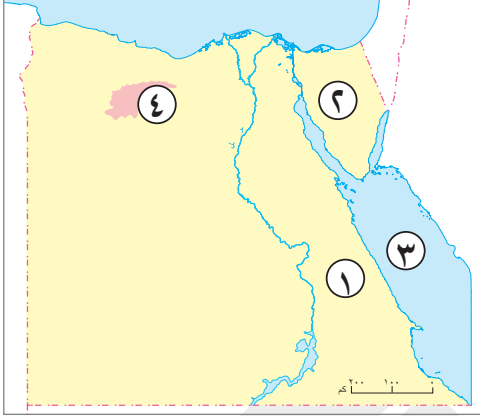
السؤال الثالث (١) اختر الإجابة الصحيحة مما بين القوسين:

- ١ من نباتات الصحارى المصرية التى تتحمل الجفاف (البردى - البوص - اللوز - الصبار)
- ٢ يتميز الجزء الأوسط بشبه جزيرة سيناء بانتشار (البحيرات - الهضاب - الكثبان - الواحات)
- ٣ تستخدم خطوط الطول مع دوائر العرض في تحديد (المناخ - الموقع - الزمن - الحرارة)

(ب) قارن بين: الصحراء الشرقية والصحراء الغربية، من حيث أهم الجبال والهضاب في كل منهما.

وجه المقارنة	الصحراء الشرقية	الصحراء الغربية
أهم الجبال
أهم الهضاب

(١) أمامك خريطة صماء لمصر ، اكتب مدلول الأرقام التالية:



- ١ هضبة.....
٢ هضبة.....
٣ البحر.....
٤ منخفض.....

(ب) ماذا يحدث إذا...؟ تعامدت الشمس على مدار الجدى طول العام.

.....

(١) اختر الإجابة الصحيحة مما بين القوسين:

السؤال الثانى

- ١ تروى أرض منخفض الفيوم بمياه نهر النيل عن طريق ترعة (الإسماعيلية - الإبراهيمية - بحريوسف - المحمودية)
٢ من الأخطار التي تتعرض لها الحيوانات البرية في مصر..... (السيول - الصيد الجائر - ردم الآبار - زحف الرمال)
٣ تساعد خطوط الطول في تحديد (المناخ - الوقت - الفصل - الشهر)

(ب) أجب عما يلي:

١ بم تفسر...؟ تكون سلسلة جبال البحر الأحمر.

.....

٢ ما العلاقة بين: دوائر العرض والمناخ.

.....

(١) اكتب ما تشير إليه العبارات الآتية:

السؤال الثالث

- ١ مساحة من الأرض لها نفس الخصائص المناخية من حيث الحرارة والرياح والمطر. (.....)
٢ مساحات من الأرض أو المياه بها نباتات أو حيوانات أو أسماك نادرة مهددة بالانقراض. (.....)
٣ مجارٍ كانت تملؤها المياه قديماً ثم جفت. (.....)

(ب) أجب عما يلي:

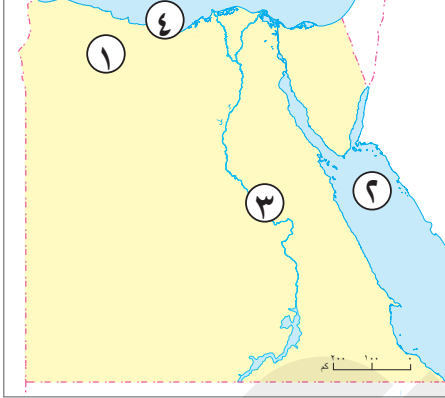
١ ما النتائج المترتبة على...؟ وجود مياه جوفية بالصحراء الغربية.

.....

٢ دلل على صحة العبارة الآتية: يتأثر مناخ مصر بعدة عوامل.

.....

السؤال الأول (١) أمامك خريطة صماء لمصر ، اكتب مدلول الأرقام التالية:



- ١ يشير رقم (١) إلى إقليم مناخ.....
- ٢ البحر.....
- ٣ تقع المدينة رقم (٣) في الإقليم.....
- ٤ البحر.....

(ب) ددل على صحة العبارات التالية...؟ استثمر المصريون القدماء الصحارى المصرية.

السؤال الثانى (١) اكتب كلمة (صواب) أمام العبارة الصحيحة وكلمة (خطأ) أمام العبارة غير الصحيحة:

- ١ تشكل وادى النيل نتيجة التعرية الهوائية. (.....)
- ٢ تمتد معظم الأراضى المصرية فى الإقليم الصحراوى. (.....)
- ٣ النورس من الطيور البرية فى الصحارى المصرية. (.....)

(ب) أجب عما يلى:

١ بم تفسر...؟ تعاقب الفصول الأربعة بانتظام فى مصر.

٢ ما النتائج المترتبة على...؟ تعرّض بعض الأجزاء الشرقية من مصر للحركات الانكسارية.

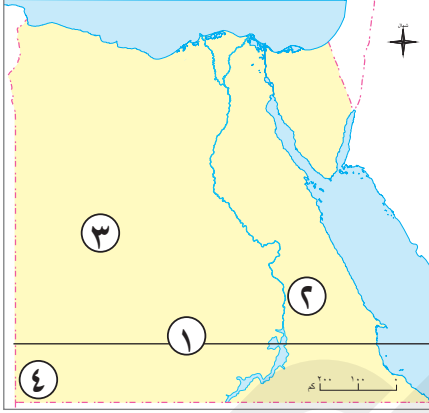
السؤال الثالث (١) أكمل العبارات الآتية بما يناسبها من كلمات:

- ١ ندرة الأمطار إحدى الخصائص المناخية التى تميّز الإقليم.....
- ٢ أكبر الوحدات التضاريسية فى مصر.....
- ٣ من النباتات المائية التى تنمو فى المستنقعات وعلى ضفاف نهر النيل.....

(ب) ما المقصود بكل من...؟

- ١ الحيوان البرى:.....
- ٢ المناخ:.....

(١) أمامك خريطة صماء لمصر، اكتب مدلول الأرقام التالية:



- ١ دائرة عرض تمر بجنوب مصر.....
- ٢ هضبة.....
- ٣ الصحراء.....
- ٤ جبل.....

(ب) ما النتائج المترتبة على...؟ اتصال منخفض الفيوم بترعة بحريوسف.

.....

(١) اكتب كلمة (صواب) أمام العبارة الصحيحة وكلمة (خطأ) أمام العبارة غير الصحيحة:

- ١ ترتفع درجة الحرارة في المناطق المرتفعة مثل الجبال. (.....)
- ٢ الصحراء الشرقية أكبر أقسام سطح مصر من حيث المساحة. (.....)
- ٣ تفيد دوائر العرض في معرفة أحوال المناخ. (.....)

(ب) أجب عما يلي:

- ١ **دل على صحة العبارة الآتية:** تتنوع مظاهر السطح في الصحراء الغربية. (.....)
- ٢ **بم تفسر...؟** أهمية نبات البردى. (.....)

.....

(١) أكمل العبارات الآتية بما يناسبها من كلمات:

- ١ تعتمد الزراعة في شمال مصر على مياه.....
- ٢ دائرة العرض الرئيسية هي دائرة.....
- ٣ يعرف خط الطول الرئيسي بخط.....

(ب) حدد أوجه التشابه والاختلاف بين: فصل الربيع والخريف في مصر.

وجه المقارنة	فصل الربيع	فصل الخريف
أوجه التشابه
أوجه الاختلاف

الدراسات الاجتماعية

إجابات نماذج اختبارات الأضواء

لشهر أكتوبر

الفصل الدراسي الأول
المف
5
الابتدائي

2026



السؤال الأول

(١)

- ١ البحر الأحمر.
- ٢ النيل.
- ٣ سانت كاترين.
- ٤ مارمرিকা.

(ب) يؤدي ذلك إلى شروق الشمس على المناطق الشرقية قبل المناطق الغربية.

السؤال الثاني

(١)

- ١ الخريف والربيع.
- ٢ دلتا النيل.
- ٣ الساحلية.

(ب)

- ١ لحماية النباتات والحيوانات من الانقراض.
- ٢ يُقصد بها خطوط الطول ودوائر العرض.

السؤال الثالث

(١)

- ١ البحر الأحمر.
- ٢ العطور / مستحضرات التجميل.
- ٣ العرض.

(ب)

- ١ يتميز منخفض الفيوم بخصوبة أرضه رغم وقوعه في الصحراء الغربية بسبب وصول مياه نهر النيل والطمى إليه عن طريق ترعة بحريوسف.
- ٢ يؤثر التغير المناخي على مصادر الغذاء للنبات الطبيعي بسبب الجفاف والفيضانات.

السؤال الأول

(١)

- ١ (٣).
- ٢ (١).
- ٣ (٤).
- ٤ (٢).

(ب) تصيب الإنسان ببعض أمراض الجهاز التنفسي كما تسبب أضراراً للمحاصيل الزراعية.

السؤال الثاني

(١)

- ١ العباددة.
- ٢ غير متساوية.
- ٣ الغربية.

(ب)

١ إصدار القوانين التي تجرم (تمنع) الرعى أو الصيد الجائر.

- نشر الوعي بين المواطنين بأهمية التنوع البيولوجي وضرورة الحفاظ عليه.

- إنشاء المحميات الطبيعية لحماية النباتات والحيوانات من الانقراض.

٢ تساعد في تحديد المواقع شمالاً وجنوباً.

- تساعدنا في دراسة المناخ من حيث الحرارة والرياح والمطر.

السؤال الثالث

(١)

- ١ الصبار.
- ٢ الهضاب.
- ٣ الموقع.

(ب)

وجه المقارنة	الصحراء الشرقية	الصحراء الغربية
أهم الجبال	سلسلة جبال البحر الأحمر وأعلى قممها جبل شايب البنات.	جبل العوينات في الجنوب الغربي.
أهم الهضاب	- المعازة في الشمال - العباددة في الجنوب	- هضبة الجلف الكبير في الجنوب. - هضبة مارمريكا في الشمال الغربي.

السؤال الأول

(١)

- ١ العباددة.
- ٢ التيه.
- ٣ الأحمر.
- ٤ القطارة.

(ب) سوف يصبح فصل الشتاء هو الفصل السائد في مصر.

السؤال الثاني

(١)

- ١ بحريوسف.
- ٢ الصيد الجائر.
- ٣ الوقت.

(ب)

- ١ بسبب العوامل الباطنية التي تحدث في باطن الأرض مثل الانكسارات.
- ٢ تساعد دوائر العرض في دراسة المناخ من حيث الحرارة والرياح والمطر.

السؤال الثالث

(١)

- ١ الإقليم المناخي.
- ٢ المحمية الطبيعية.
- ٣ الأودية الجافة.

(ب)

- ١ ساعدت على وجود السكان بالمنخفضات وقيام الزراعة.
- ٢ يتأثر مناخ مصر بعدة عوامل، منها: القرب أو البعد عن المسطحات المائية - مظاهر السطح - الموقع الفلكي.

السؤال الأول

(١)

- ١ البحر المتوسط.
- ٢ الأحمر.
- ٣ الصحراوى الحار.
- ٤ المتوسط.

(ب) حيث أخذوا منها المعادن كالذهب والنحاس والحديد وبنوا بها مقابرهم، وأقاموا فيها معابدهم وقلاعهم وحصونهم لصد المعتدين.

السؤال الثانى

(١)

- ١ (خطأ).
- ٢ (صواب).
- ٣ (خطأ).

(ب)

- ١ بسبب دوران كوكب الأرض حول الشمس مرة كل ٣٦٥ يوماً وربع يوم وهو ما يعرف بالدورة السنوية.
- ٢ أدى إلى تشكيل جبال البحر الأحمر.

السؤال الثالث

(١)

- ١ الصحراوى الحار.
- ٢ الصحراء الغربية.
- ٣ نبات البردى.

(ب)

- ١ الحيوان الذى يعيش فى بيئة طبيعية دون تدخل أو رعاية من الإنسان.
- ٢ وصف حالة الجو خلال فترة زمنية طويلة قد تكون فصلاً أو سنة.

السؤال الأول

(١)

- ١ مدار السرطان.
- ٢ العباددة.
- ٣ الغربية.
- ٤ العوينات.

(ب) أدى إلى وصول مياه نهر النيل والطمى إليه وأصبح يتميز بخصوبة أرضه رغم وقوعه في الصحراء الغربية.

السؤال الثاني

(١)

- ١ (خطأ).
- ٢ (خطأ).
- ٣ (صواب).

(ب)

- ١ حيث ينتشر بها المنخفضات مثل: القطارة - سيوة - الداخلة - الخارجة - البحرية - الفرافرة، والهضاب مثل: هضبة الجلف الكبير وهضبة مارمريكا، والجبال مثل: جبل العوينات والكثبان الرملية مثل بحر الرمال العظيم.
- ٢ استخدمه المصري القديم في صناعة الورق.

السؤال الثالث

(١)

- ١ الأمطار الشتوية.
- ٢ الاستواء.
- ٣ جرينتش.

(ب)

وجه المقارنة	فصل الربيع	فصل الخريف
أوجه التشابه	كلاهما يحدثان عندما تتعامد أشعة الشمس على دائرة الاستواء.	
أوجه الاختلاف	يسود مصر مناخ معتدل، مع نشاط حركة الرياح وخاصة رياح الخماسين المحملة بالرمال والأترية.	يتميز باعتدال المناخ، وقد تسقط الأمطار في بعض أنحاء مصر، وخاصة الجهات الشرقية عند جبال البحر الأحمر وشبه جزيرة سيناء.

تطبيق



مذكرات جاهزة للطباعة

لتحميل الملفات التعليمية مجاناً للمعلم والطالب

مذكرات وملازم / مراجعات وملخصات / امتحانات / كتب الوزارة /
أدلة المعلم / دفاتر التحضير / سجلات مدرسية / أوراق تأسيس

امسح الكود بموبايلك علشان تقدر تثبت التطبيق

وتقدر ف أي وقت تحمّل ال نفسك فيه ببلاش

هيغنيك عن البحث والجروبات والقنوات الكثيرة

