

# سلاح التلميز

منذ عام ١٩٦٠

2025 - 2026



الدراسات  
الاجتماعية

نماذج اختبارات

شهر أكتوبر

طبقاً لآخر مواصفة للورقة الامتحانية

5

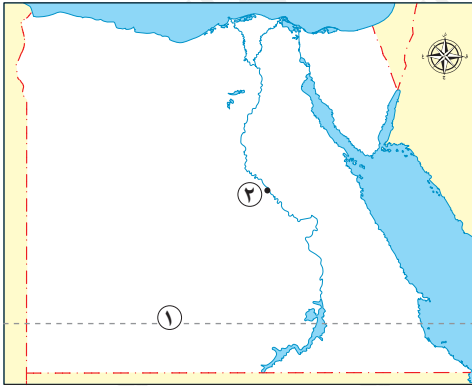
الفصل الدراسي الأول



## الاختبار الأول

١٠

١ أ أمامك خريطة صماء لمصر ، لاحظها ثم أجب :



١ صوب ما تحته خط: يشير رقم (١) إلى مدار الجدى.

(.....)

٢ يسود المدينة رقم (٢) مناخ الإقليم .....

ب ما العلاقة بين :

النباتات الطبيعية والثروة الحيوانية في مصر؟

٢ أ اكتب كلمة (صواب) أمام العبارة الصحيحة، وكلمة (خطأ) أمام العبارة غير الصحيحة:

١ تشرق الشمس على المناطق الغربية من الكرة الأرضية قبل مناطقها الشرقية. ( )

٢ يُعد وادي النيل والدلتا ومنخفض الفيوم أكبر أقسام سطح مصر. ( )

ب ما النتائج المترتبة على :

إنشاء المحميات الطبيعية؟

٣ أ اختر الإجابة الصحيحة مما بين القوسين :

١ تتشابه خطوط الطول ودوائر العرض في أنهما يستخدمان لـ .....

(معرفة أحوال المناخ - تحديد الأماكن - تحديد الارتفاع - معرفة فروق التوقيت)

٢ وادي العريش يقطع هضبة .....

(المعازة - العبادبة - التيه - مارمريكا)

ب أجب عما يلي :

١ ما المقصود بـ: التنوع البيولوجي؟

٢ حدد أوجه التشابه والاختلاف بين الطقس والمناخ.

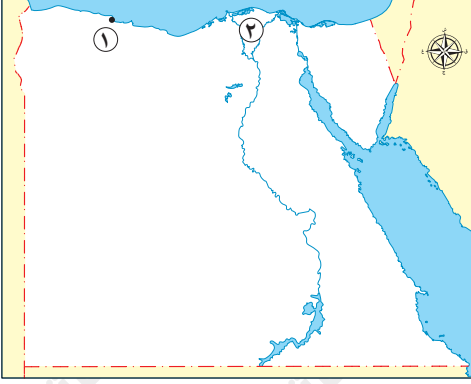


## الاختبار الثاني

١ أ أمامك خريطة صماء لمصر، لاحظها ثم اكتب كلمة (صواب) أمام العبارة الصحيحة، وكلمة

١٠

(خطأ) أمام العبارة غير الصحيحة:



١ تسقط الأمطار على المدينة رقم (١) خلال فصل الصيف.

( )

٢ يعيش في المنطقة رقم (٢) طائر أبو قردان.

( )

ب دلل على:

- أهمية علم الفلك عند المصريين القدماء.

٢ أ اختر الإجابة الصحيحة مما بين القوسين:

١ يصل طمي النيل إلى منخفض الفيوم عن طريق .....

(قناة السويس الجديدة - ترعة الإسماعيلية - البحر الأحمر - ترعة بحر يوسف)

٢ تمتد معظم الأراضي المصرية في الإقليم الصحراوي الحار بسبب .....

(أشكال السطح - المسطحات المائية - الموقع الفلكي - الرياح الموسمية)

ب قارن بين:

- خطوط الطول ودوائر العرض من حيث (التعريف - الأهمية).

دوائر العرض	خطوط الطول	وجه المقارنة
.....	.....	التعريف
.....	.....	الأهمية

٣ أ أكمل العبارات التالية بما يناسبها من كلمات:

١ تكونت سلاسل جبال البحر الأحمر نتيجة لحركات .....

٢ استخدم المصري القديم في صناعة الورق نبات .....

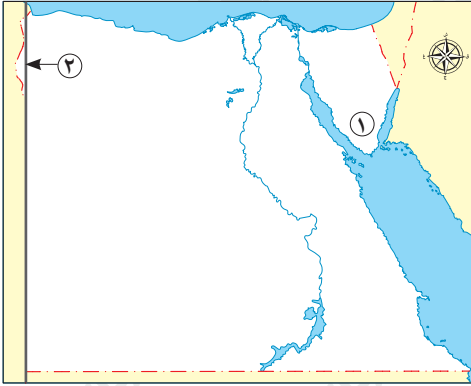
ب أجب عما يلي:

١ بم تفسر: يختلف التوقيت بين دولتي مصر وليبيا؟

٢ ما النتائج المترتبة على: أنشطة الزراعة في الوادي والدلتا بالنسبة للحيوانات البرية؟



١ أ أمامك خريطة صماء لمصر، لاحظها ثم اختر الإجابة الصحيحة مما بين القوسين:



١ تتراكم الثلوج على القمة الجبلية رقم (١) خلال

فصل .....

(الخريف - الشتاء - الربيع - الصيف)

٢ يشير رقم (٢) لخط طول ٢٥° شرقاً وهو يمتد مع حدود

مصر .....

(الشمالية - الشرقية - الجنوبية - الغربية)

ب وضح:

- كيفية استثمار المصريين القدماء الصحاري لبناء حضارتهم.

٢ أ اكتب كلمة (صواب) أمام العبارة الصحيحة، وكلمة (خطأ) أمام العبارة غير الصحيحة:

١ تتميز المناطق المجاورة للمسطحات المائية باعتدال حرارتها. ( )

٢ تُعد شبكة الإحداثيات دوائر حقيقية تُرى على سطح الأرض من الفضاء. ( )

ب حدد أوجه التشابه والاختلاف بين:

- منخفض الفيوم، ومنخفض الفرافرة.

منخفض الفرافرة	منخفض الفيوم	وجه المقارنة
		أوجه التشابه
		أوجه الاختلاف

٣ أ اكتب ما تشير إليه كل عبارة مما يلي:

١ فصل مناخي يحدث في مصر عند تعامد أشعة الشمس على مدار السرطان. (.....)

٢ تفاعل الكائنات الحية مع البيئة المحيطة بطريقة تحافظ على استمرارها واستقرارها. (.....)

ب أجب عما يلي:

١ بم تفسر: تنوع النباتات الطبيعية والحيوانات البرية في مصر؟

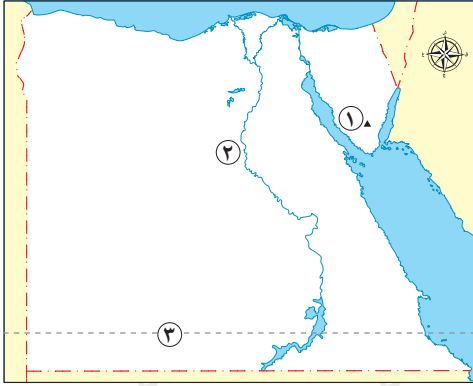
٢ دلل على: أهمية الصحراء الشرقية بالنسبة للاقتصاد المصري.



## الاختبار الرابع

١٠

١ أ أمامك خريطة صماء لمصر، لاحظها ثم اكتب الرقم المناسب أمام كل عبارة مما يلي:



١ إحدى دوائر العرض الرئيسية يشير إليها الرقم. (.....)

٢ إذا أردت زيارة جبل موسى، عليك الاتجاه للمنطقة رقم.

(.....)

ب ما المقصود بـ:

– الإقليم المناخي؟

٢ أ اختر الإجابة الصحيحة مما بين القوسين:

١ تتكيف النباتات الطبيعية بالصحاري المصرية من خلال .....

(أزهارها الملونة – جذورها الطويلة – أوراقها المتشابكة – سيقانها المرنة)

٢ يتساوى كل من خط جرينتش ودائرة الاستواء في ..... (الشكل – الحجم – الدرجة – الطول)

ب **دلل على صحة العبارة التالية:**

– ارتبطت السنة الزراعية عند المصريين القدماء بنهر النيل.

٣ أ صوب ما تحته خط فيما يلي:

١ نستطيع تحديد المواقع شمالاً وجنوباً بواسطة خطوط الطول. (.....)

٢ يُعد بحر الرمال العظيم في مصر من أشكال المسطحات المائية. (.....)

ب **أجب عما يلي:**

١ ما النتائج المترتبة على: ترسيب نهر النيل للطين عند المصب؟

٢ ماذا يحدث إذا: لم تتعاقب فصول السنة الأربعة على مصر؟



## الاختبار الخامس



١٠

١ اكتب كلمة (صواب) أمام العبارة الصحيحة، وكلمة (خطأ) أمام العبارة غير الصحيحة:

- ١) تتعامد أشعة الشمس على مدار السرطان مرتين كل عام. ( )
- ٢) تتميز شبه جزيرة سيناء بوجود الجبال المرتفعة في الجنوب. ( )
- ٣) يساهم الرعي الجائر في ازدهار النباتات الطبيعية في مصر. ( )
- ٤) تعيش الحيوانات البرية في البيئة الطبيعية دون تدخل من الإنسان. ( )

٢ ما المقصود بـ:

– الأودية الجافة؟

٣ بم تفسر:

– تكوّن جبال البحر الأحمر؟

٤ ما العلاقة بين:

– المناخ والآثار المصرية؟

٥ دلل على:

– أهمية نبات البوص.

# سلاح التلميز

منذ عام ١٩٦٠

2025 - 2026



الدراسات  
الاجتماعية

إجابات نماذج  
اختبارات شهر أكتوبر

5

الفصل الدراسي الأول

## إجابة الاختبار الأول

- ١ أ ١ السرطان. ٢ الصحراوي الحار.
- ب تُعد النباتات الطبيعية مصدرًا لغذاء الحيوانات البرية ومأوى لهم؛ لذلك تساعد في الحفاظ على الثروة الحيوانية في مصر.
- ٢ أ ١ خطأ. ٢ خطأ.
- ب حماية النباتات الطبيعية والحيوانات البرية من الانقراض (الاختفاء).
- ٣ أ ١ تحديد الأماكن. ٢ التيه.
- ب تنوع الحياة النباتية والحيوانية على كوكب الأرض.
- ٢ التشابه: يصف الطقس والمناخ حالة الجو خلال فترة زمنية محددة.
- الاختلاف: اختلاف الفترة الزمنية حيث تكون قصيرة في الطقس، طويلة في المناخ.

## إجابة الاختبار الثاني

- ١ أ ١ خطأ. ٢ صواب.
- ب حيث استخدموه في مجالات متعددة، منها تحديد المواقع وتوقيت الزراعة، وتنظيم الأعياد الدينية، وبناء الأهرامات.
- ٢ أ ١ ترعة بحر يوسف. ٢ الموقع الفلكي.
- ب

دوائر العرض	خطوط الطول	وجه المقارنة
- دوائر أفقية غير متساوية الطول تُرسم حول الكرة الأرضية.	- أنصاف دوائر رأسية تصل بين القطبين الشمالي والجنوبي.	التعريف
- تساعد في تحديد المواقع على سطح الأرض شمالاً وجنوباً. - تساعد في دراسة المناخ من حيث الحرارة والرياح والمطر.	- تساعد في تحديد المواقع على سطح الأرض شرقاً وغرباً، ومعرفة فروق التوقيت بين الدول.	الأهمية

- ٣ أ ١ باطنية انكسارية. ٢ البردي.
- ب ١ بسبب اختلاف موقع الدولتين وبالتالي اختلاف خطوط الطول. ٢ تأثرت سلبًا بالأنشطة الزراعية.

## إجابة الاختبار الثالث

١ أ ١ الشتاء.

٢ الغربية.

ب استخرجوا منها المعادن كالذهب والنحاس والحديد، وبنوا بها مقابرهم وأقاموا فيها معابدهم وقلاعهم وحصونهم لصد المعتدين.

٢ أ ١ صواب.

٢ خطأ.

ب **التشابه:** كلاهما من منخفضات الصحراء الغربية، ومأهولان بالسكان، ويوجد بهما النشاط الزراعي.  
**الاختلاف:** يعتمد منخفض الفيوم على مياه نهر النيل التي تصل إليه عن طريق ترعة بحر يوسف، بينما يعتمد منخفض الفرافرة على المياه الجوفية.

٣ أ ١ الصيف.

٢ التوازن البيئي.

ب ١ بسبب تنوع المناخ والبيئات والموارد المائية بها.

٢ غنية بالمعادن كالذهب، كما يوجد بها حقول للبتروك والغاز الطبيعي، بالإضافة للمناظر الطبيعية الخلابة بها والتي تساهم في جذب السياح.

## إجابة الاختبار الرابع

١ أ ١ (٣).

٢ (١).

ب مساحة من الأرض لها نفس الخصائص المناخية من حيث الحرارة والرياح والمطر.

٢ أ ١ جذورها الطويلة.

٢ الدرجة.

ب حيث قسّموا السنة الزراعية إلى ثلاثة فصول، وهي فصل الفيضان، وفصل الزراعة، وفصل الحصاد.

٣ أ ١ دوائر العرض.

٢ الكتبان الرملية.

ب ١ تكوّن دلتا النيل.

٢ لن تتغير حالة المناخ في مصر طوال العام.

## إجابة الاختبار الخامس

١ أ ١ خطأ.

٢ صواب.

٣ خطأ.

٤ صواب.

٢ أودية كانت تمتلئ بالمياه قديماً ثم جفت.

٣ بسبب حدوث حركات انكسارية في باطن الأرض.

٤ ساعد مناخ مصر الجاف على بقاء الآثار المصرية صامدة عبر آلاف السنين.

٥ يستخدم في صناعة الحصير.

تطبيق



مذكرات جاهزة للطباعة

لتحميل الملفات التعليمية مجاناً للمعلم والطالب

مذكرات وملازم / مراجعات وملخصات / امتحانات / كتب الوزارة /  
أدلة المعلم / دفاتر التحضير / سجلات مدرسية / أوراق تأسيس

امسح الكود بموبايلك علشان تقدر تثبت التطبيق

وتقدر ف أي وقت تحمّل ال نفسك فيه ببلاش

هيغنيك عن البحث والجروبات والقنوات الكثيرة



تطبيق الموبايل لتحميل الملفات