

4

20
25



الدراسات الاجتماعية

الصف الرابع الابتدائي

اختبارات آخر العام

Katr Elnada
قطر الندي



الاختبار الأول

مجاب عنه

١ (أ) أمامك خريطة لتوزيع السكان في مصر. وضح من خلال مفتاح الخريطة ما يلي:



- ١- محافظة يقل بها عدد السكان عن مليون نسمة
- ٢- محافظة يتراوح عدد سكانها ما بين ١ - ٤ مليون نسمة
- ٣- محافظة يزيد بها عدد السكان على ٨ مليون نسمة
- ٤- محافظة هي عاصمة جمهورية مصر العربية.

(ب) ما العلاقة بين ؟

- ١- علامات المرور وحوادث الطرق.

- ٢- السياحة والبطالة.

٢ (أ) صوب العبارات الآتية:

- ١- يمكننا رؤية الأشجار المتحجرة في محمية الصحراء البيضاء. (.....)
- ٢- زيارة معرض الكتاب في القاهرة يعتبر سياحة ترفيهية. (.....)
- ٣- يستخدم النقل الجوي في نقل البضائع كبيرة الحجم وثقيلة الوزن. (.....)
- ٤- يهدف القطار الكهربائي السريع إلى الربط بين مدينة العين السخنة ومدينة أسوان. (.....)

(ب) أجب عن الأسئلة التالية :

- ١- وضح : لشبكة الإنترنت فوائد عديدة.

٢- قارن بين : السياحة الثقافية والسياحة العلاجية من حيث التعريف مع ذكر مثال :

وجه المقارنة	السياحة الثقافية	السياحة العلاجية
التعريف
مثال

٣ (أ) اختر الإجابة الصحيحة مما بين القوسين :

- ١- الهجرة من الريف إلى الحضر في مصر نتج عنها ظهور..... (العشوائيات - المدن - القرى - المراكز)
- ٢- للتعداد السكاني أهمية في تحديد..... التي يحتاجها السكان.
- ٣- من المبادرات التي قامت بها الدولة لتنمية الريف..... (الخصائص - الخدمات - اللهجات - العادات)
- ٤- من المدن الشاطئية الموجودة على البحر الأحمر مدينة..... (احضر للأخضر - حياة كريمة - ١٠٠ مليون صحة - تشجيع الإنجاب)
- ٤- من المدن الشاطئية الموجودة على البحر الأحمر مدينة..... (الإسكندرية - بورسعيد - دمياط - الغردقة)

(ب) اذكر سبباً واحداً لـ :

١- أهمية الالتزام بقواعد المرور.....

٢- أهمية سباقات الهجن.....

٤ (أ) أكمل العبارات الآتية بما يناسبها من كلمات :

١- تم إنشاء متحف السيرة الهلالية في محافظة عام ٢٠١٥ م.

٢- تعد المحاكم جزءاً من السلطة.....

٣- دخلت العربات الحربية مصر مع غزو.....

٤- أرسلت الملكة حتشبسوت رحلات لجلب البخور والأخشاب من بلاد.....

٥- يتولى رئاسة الدولة عن طريق التصويت.

(ب) وضح :

١- أهمية تنوع التراث الثقافي للاقتصاد المصري.

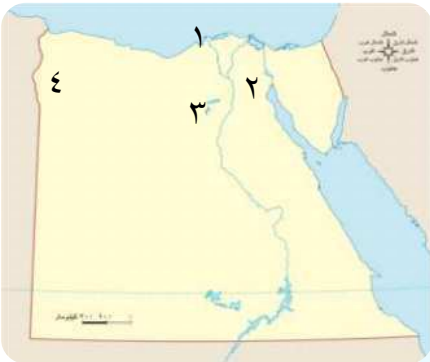
.....

٢- جهود الدولة من أجل التحول الرقمي.

.....

الاختبار الثاني

مجاب عنه



١ (أ) أمامك خريطة صماء لمصر اكتب مدلول الأرقام عليها :

١- ميناء.....

٢- محمية تحتوي على أشجار متحجرة.

٣- محمية طبيعية في الفيوم.....

٤- واحة تتميز بالسياحة العلاجية.....

(ب) ماذا يحدث إذا ؟

١- لم تهتم الدولة بتطوير الموانئ المصرية.

.....


٢- لم تحتفل الدولة بعيد السياحة في واحة سيوة.

.....

٢ (أ) اختر الإجابة الصحيحة مما بين القوسين :

١- يوجد دير سانت كاترين في محافظة (الجيزة - الإسكندرية - جنوب سيناء - مطروح)

٢- يجب منع جلوس في المقاعد الأمامية للسيارة. (الأطفال - كبار السن - الشيوخ - الشباب)

٣- تشير العلامة المرورية  إلى وجود (مطعم - مصنع - محطة وقود - إسعاف)

٤- بنيت الأهرامات على هضبة مرتفعة..... (شرق النيل - غرب النيل - شمال النيل - جنوب شرق النيل)

٥- توجد في منطقة حفريات لأسماك وحياتان ضخمة.

(الغابة المتحجرة - رأس محمد - وادي الريان - وادي الحيتان)

(ب) ما النتائج المترتبة على ؟

١- استضافة مصر الكثير من المؤتمرات.

٢- إهدار الكثير من الوقت على وسائل التواصل الاجتماعي.

٣ (أ) اكتب كلمة (صواب) أمام العبارة الصحيحة وكلمة (خطأ) أمام العبارة غير الصحيحة :

- ١- يجوز لسكان الإسكندرية أن يرشحوا أنفسهم لانتخابات المجالس المحلية في المنيا. ()
- ٢- المسئول عن إجراء التعداد السكاني هو الجهاز المركزي للمحاسبات. ()
- ٣- تشتهر منطقة مدن القناة باستخدام آلة السمسامية. ()
- ٤- التلغراف هو أحد وسائل الاتصال ويعتبر أحدث من الهاتف. ()

(ب) ما العلاقة بين ؟

١- السياحة والدخل القومي.

٢- الأمية ومحافظة البحرا الأحمر.

٤ (أ) أكمل العبارات الآتية بما يناسبها من كلمات :

- ١- عملية حصر عدد السكان في مصر كل عشر سنوات تسمى في انتخابات عامة.
- ٢- أعلى محافظات مصر في الأمية هي وأقلها محافظة
- ٣- شيد صلاح الدين لتوصيل المياه من نهر النيل إلى القلعة.
- ٤- يجب عدم التحدث في أثناء القيادة.
- ٥- أرسل الملك بعثات تجارية لبلاد فينيقيا.

(ب) أجب عن الأسئلة التالية:

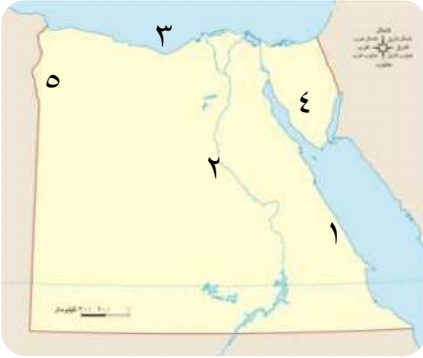
١- فسر: أهمية متحف السيرة الهلالية.

٢- قارن بين : دور الفرد ودور الدولة في الحفاظ على المناطق الأثرية.

وجه المقارنة	دور الفرد	دور الدولة
كيفية الحفاظ على المناطق الأثرية	١-	١-
	٢-	٢-
	٣-	٣-
	٤-	٤-

الاختبار الثالث

مجاب عنه



١ (أ) أمامك خريطة صماء لمصر حدد ما تدل عليه الأرقام :

- ١- أقل محافظات مصر من حيث الأمية
- ٢- أعلى محافظات مصر من حيث الأمية
- ٣- البحر
- ٤- منطقة تشتهر بقيام سباقات الهجن
- ٥- واحة

(ب) قارن بين :- مهام رئيس الجمهورية ومهام المحافظ.

المحافظة	رئيس الجمهورية	وجه المقارنة
.....	المهام
.....	

٢ (أ) اكتب كلمة (صواب) أمام العبارة الصحيحة وكلمة (خطأ) أمام العبارة غير الصحيحة :

- ١- يزيد عدد سكان مصريوياً بسبب ارتفاع نسبة المواليد. ()
- ٢- يعتبر المعبد اليهودي من المناطق الأثرية في منطقة مجمع الأديان. ()
- ٣- تشجع الدولة استخدام وسائل النقل التي تعتمد على مصادر الطاقة النظيفة. ()
- ٤- يشمل النقل البري في مصر السفن والبواخر. ()
- ٥- ساعدت قلعة صلاح الدين في طابا على حماية مصر برياً وبحرياً. ()

(ب) أجب عن الأسئلة التالية :

١- اذكر : اثنين من جهود الدولة للحفاظ على المناطق الأثرية.

.....

٢- دلل : تعددت محاولات الإنسان للتنقل عبر الجو.

.....

٣ (أ) أكمل العبارات الآتية بما يناسبها من كلمات :

- ١- أرخص أنواع وسائل النقل في مصر هو النقل
- ٢- قامت الدولة بإنشاء لتخفيف الضغط المروري.
- ٣- تم تصميم برج القاهرة على شكل زهرة المصرية التي تعد رمزاً للحضارة المصرية القديمة.
- ٤- تتمثل السلطة في مصر سلطة مستقلة.

(ب) اذكر :


١- اثنين من قواعد المرور الهامة للمشاة.

٢- اثنين من قائمة التراث العالمي التي حددتها منظمة اليونسكو.

٤ (أ) اختر الإجابة الصحيحة مما بين القوسين

١- بنى المصريون القدماء لتكون مقابر لهم. (الأهرامات - المعابد - القلاع - الحصون)

٢- مدينة اعتبرتها منظمة اليونسكو أفضل مدينة للسلام (الجيزة - شرم الشيخ - نويبع - الغردقة)

٣- تعد العلامة المقابلة  من العلامات (التحذيرية - الإرشادية - الإلزامية - الأرضية)

٤- تعد السكك الحديدية المصرية الثانية عالمياً بعد

(المملكة العربية السعودية - المملكة الأردنية - المملكة المتحدة - الولايات المتحدة)

٥- يرجع معبد إيزيس في النوبة إلى العصر من عصور مصر. (الفرعوني - الإسلامي - القبطي - الروماني)

(ب) اذكر تفسيراً واحداً لـ:

١- أهمية وسائل النقل في حياتنا.

٢- دعم مصر للسياحة المستدامة.

الاختبار الرابع

مجاب عنه

١ (أ) اختر الإجابة الصحيحة مما بين القوسين :

١- محافظة يزيد فيها عدد السكان على ٨ مليون نسمة (القاهرة - أسيوط - أسوان - الشرقية)

٢- تنتشر سباقات رياضة الهجن في (مدن القناة - صعيد مصر - سيناء - النوبة)

٣- من وسائل النقل النهري (الدواب - المطارات - المراكب - القطارات)

٤- من سلبيات شبكة الإنترنت

(التباعد بين أفراد الأسرة - البحث عن فرص عمل - سرعة الحصول على المعلومات - العمل عن بُعد)

٥- أرسل الملك خوفو بعثات إلى مناجم للحصول على الفيروز والنحاس.

(أسيوط - المنيا - سيناء - أسوان)

(ب) أجب عن الأسئلة التالية :

١- ما الفرق بين : خطورة الأمية على الفرد وعلى المجتمع؟

٢- اذكر : جهود الدولة لتنظيم حركة المرور في مصر.

٢ (أ) اكتب كلمة (صواب) أمام العبارة الصحيحة وكلمة (خطأ) أمام العبارة غير الصحيحة:

- ١- تعد السياحة المصدر الأول للعملة الأجنبية. ()
- ٢- تسعى مبادرة (حياة كريمة) إلى تحقيق التنمية المستدامة. ()
- ٣- ساعدت وسائل النقل المختلفة على انتشار التجارة بين الدول. ()
- ٤- صمم برج القاهرة على شكل زهرة اللوتس المصرية. ()
- ٥- تم مد أول خط سكة حديد بين القاهرة والفيوم عام ١٨٥٦ م. ()

(ب) ما العلاقة بين ؟

١- النقل المستدام والبيئة.

٢- النقل الجوي وبنك مصر.

٣ (أ) أكمل العبارات الآتية بما يناسبها من كلمات :

- ١- تقوم مصر بعمل تعداد سكاني مرة كل سنوات.
- ٢- من أشهر الآلات الموسيقية المستخدمة في الاحتفالات في مدن القناة
- ٣- تتمثل السياحة في زيارة العيون الكبرى والرمال الساخنة.
- ٤- شاركت مصر في مؤتمر النقل المستدام الذي عقد في مدينة

(ب) بم تفسر؟

١- أهمية الدواب عند المصريين القدماء.

٢- وضعت الدولة كاميرات على الطرق.

٤ (أ) أمامك خريطة لمصر حدد ما تدل عليه الأرقام :



- ١- أكثر محافظات مصر سكان
- ٢- محافظة توجد بها منطقة (أبو مينا)
- ٣- محمية طبيعية
- ٤- البحر

(ب) دلل على صحة العبارات الآتية :

١- تطور وسائل النقل البري في مصر عبر العصور.

٢- لعب تطور وسائل الاتصال دورًا هامًا في تقليل البطالة.

الاختبار الخامس

مجاب عنه

١ (أ) أمامك خريطة صماء لمصر اكتب كلمة (صح) أمام العبارة الصحيحة وكلمة (خطأ) أمام العبارة غير الصحيحة:



- ١- يشير رقم (١) إلى محمية وادي الريان في الفيوم. ()
- ٢- يشير رقم (٢) إلى ميناء الغردقة علي البحر الأحمر. ()
- ٣- يشير رقم (٣) إلى أقل محافظات مصر سكاناً. ()
- ٤- يشير رقم (٤) إلى منطقة تشتهر بالسياحة الثقافية. ()

(ب) بم تفسر:

١- قيام الدولة بتطوير منطقة الأهرامات.

٢- إنشاء مترو الأنفاق في مصر.

٢ (أ) اختر الإجابة الصحيحة مما بين القوسين:

١- من أقدم الأديرة في مصر وتم إدراجه على قائمة التراث العالمي

(دير سانت كاترين - دير المحرق - دير الأنبا مقار - دير السريان)

٢- كتب المصري القديم الرسائل على ورق

(البردى - التوت - الكتان - العنب)

٣- أرسلت الملكة حتشبسوت رحلات إلى بلاد

(النوبة - بونت - المغرب - الهند)

٤- أسرع أنواع وسائل النقل

(البرى - النهري - البحري - الجوي)

(ب) ماذا يحدث إذا ؟

١- لم يتم استخدام وسائل النقل الجوي.

٢- لم تنشئ منظمة اليونسكو متحف النوبة في أسوان.

٣ (أ) أكمل العبارات الآتية بما يناسبها من كلمات :

١- تعد مدينة عاصمة سياسية وثقافية وتجارية ودينية عريقة.

٢- اختلاف السكان في مصر يساعد على تحقيق بين السكان.

٣- أنشأت منظمة متحف النوبة للحفاظ على الحضارة النوبية.

٤- تعد ناقلات النفط من مظاهر تطور وسائل النقل

(ب) ما العلاقة بين ؟

١- البعث والخلود والأهرامات.

.....

٢- شبكة الإنترنت والسياحة.

.....

٤ (أ) صوب العبارات الآتية:

١- يعتبر الحمام الزاجل إحدى وسائل الاتصال في العصر الحديث. ()

٢- أصبح التواصل أسهل وأسرع في العصر الحديث بعد اختراع الهاتف. ()

٣- يعد ميناء سفاجا من الموانئ الهامة على ساحل البحر المتوسط. ()

٤- من أنواع النقل المائي السكك الحديدية والسيارات والشاحنات. ()

(ب) أجب عن الأسئلة التالية :

١- **دلل** : اهتمام الدولة بدعم النقل المستدام.

.....

٢- **قارن بين** : - قواعد قيادة السيارات وقواعد المرور للمشاة.

قواعد المرور للمشاة	قواعد قيادة السيارات
.....
.....
.....
.....

4

20
25



الدراسات الاجتماعية

الصف الرابع الابتدائي

الإجابات النموذجية

Katrina Nada
قطر الندى



الإجابات النموذجية

إجابة الاختبار الأول

ج ١: (أ)

- ١- الوادي الجديد. ٢- الأقصر.
٣- الجيزة. ٤- القاهرة.

(ب)

- ١- يساعد الالتزام بعلامات المرور على منع حوادث الطرق.

- ٢- توفر السياحة العديد من فرص العمل ، مما يقلل البطالة في مصر.

ج ٢: (أ)

- ١- الغابة المتحجرة.

- ٢- مهرجانات ومؤتمرات ومعارض.

- ٣- المائي. ٤- العلمين.

(ب) ١- حيث تمتاز شبكة الإنترنت بـ:

- ١- سرعة الحصول على المعلومات.

- ٢- التواصل مع الزملاء والمعلمين

- لمناقشة الموضوعات العلمية والدراسية.

- ٣- العمل عن بُعد في مجالات مختلفة.

٢-

وجه المقارنة	السياحة الثقافية	السياحة العلاجية
التعريف	هي سياحة تتمثل في زيارة الأماكن التاريخية والثقافية.	هي سياحة تتمثل في زيارة الأماكن الطبيعية الخلابة.
مثال	أهرامات الجيزة - مكتبة الإسكندرية - خان الخليلي - دار الأوبرا المصرية.	المدن الشاطئية على البحر الأحمر والمتوسط - التنزه عبر نهر النيل - زيارة الصحارى المصرية.

ج ٣: (أ)

- ١- العشوائيات. ٢- الخدمات.
٣- حياة كريمة. ٤- الغردقة.

(ب)

- ١- لمنع حوادث الطرق.

- ٢- لأنها: تسهم في تنشيط السياحة في شبه جزيرة سيناء.

ج ٤: (أ)

- ١- قنا. ٢- القضائية.
٣- الهكسوس. ٤- بلاد بونت.

- ٥- رئيس الجمهورية.

(ب)

- ١- تساهم في زيادة العملات الأجنبية - زيادة الدخل القومي.

- ٢- حيث ساعد التحول الرقمي على:

- ١- توفير الخدمات الإلكترونية للمواطنين، مثل: استخراج الأوراق الرسمية كشهادات الميلاد وبطاقة الرقم القومي.

- ٢- مكافحة الجرائم الإلكترونية من خلال وزارة الداخلية.

إجابة الاختبار الثاني

ج ١: (أ)

- ١- الإسكندرية. ٢- الغابة المتحجرة.
٣- وادى الحيتان. ٤- سيوة.

(ب)

- ١- لم تنشط حركة التجارة وتزيد فترة انتظار السفن خارج الموانئ - تقل كمية البضائع المتداولة.

- تقل مساحات التخزين داخل الموانئ فتقل حركة التجارة.

-٢

وجه المقارنة	دور الفرد	دور الدولة
كيفية الحفاظ على المناطق الأثرية	١- عدم تلوين الأثر بالكتابة عليه أو خدشه.	١- تنظيم عملية البحث والتنقيب عن الآثار.
	٢- اتباع قواعد النظافة والأمن.	٢- صيانة المناطق الأثرية وترميمها بواسطة المتخصصين.
	٣- عدم تناول الطعام والشراب بالقرب منها.	٣- إصدار قوانين تجرم الإتجار والاعتداء على المناطق السياحية والأثرية.

إجابة الاختبار الثالث

ج١: (أ)

- ١- البحر الأحمر. ٢- المنيا.
٣- المتوسط. ٤- سيناء.
٥- سيوة.

(ب)

وجه المقارنة	رئيس الجمهورية	المحافظ
المهام	١- يمثل مصر داخلياً وخارجياً.	١- حفظ الأمن والنظام داخل المحافظة.
	٢- مسئول عن أمن الوطن ورعاية مصالح الشعب.	٢- توفير فرص عمل لأبناء المحافظة.
		٣- الإشراف على تنفيذ مشروعات التنمية داخل المحافظة.

٢- لم يكن في واحة سيوة موسم حصاد التمور والزيتون ولم يكن المورد الرئيسي لاقتصاد الواحة.

ج٢: (أ)

- ١- جنوب سيناء. ٢- الأطفال.
٣- إسعاف. ٤- غرب النيل.
٥- وادي الحيتان.

(ب)

١- أدى إلى جذب المزيد من السياح لزيارة وحضور المؤتمرات العالمية وزيادة الدخل القومي وتنشيط حركة السياحة في مصر.
٢- يؤدي ذلك إلى: التأثير السلبي على مستوى الطالب الدراسي وإهمال ممارسة الهوايات المفيدة والتباعد بين أفراد الأسرة.

ج٣: (أ)

- ١- (خطأ). ٢- (خطأ).
٣- (صح). ٤- (خطأ).

(ب)

١- تساهم السياحة في زيادة الدخل القومي للبلاد.
٢- تعد محافظة البحر الأحمر الأقل في نسبة الأمية بين محافظات مصر.

ج٤: (أ)

- ١- التعداد السكاني.
٢- المنيا - البحر الأحمر.
٣- سور مجرى العيون.
٤- الهاتف المحمول.
٥- سنفرو.

(ب)

١- أنشأتها الدولة في محافظة قنا للحفاظ على التراث المرتبط بالسيارة الهلالية.

ج ٢: (أ)

- ١- (صح). ٢- (صح). ٣- (صح).
٤- (خطأ). ٥- (صح).

(ب)

١- ١- صيانة المناطق الأثرية وترميمها بواسطة المتخصصين.

٢- إصدار قوانين تجرم الأتجار بالآثار أو الاعتداء عليها.

٢- محاولة عباس بن فرناس الذي استخدم جناحين للطيران محاكاة للطيور - نجح الأخوان رايت في الطيران الحقيقي عام ١٩٠٣م وتطورت بعد ذلك أشكال الطائرات حتى وصلت لشكلها الحالي.

ج ٣: (أ)

- ١- المائي. ٢- الكباري والمحاور.
٣- اللوتس. ٤- القضائية.

(ب)

١- ١- الانتباه إلى إشارات المرور.
٢- العبور من المكان المخصص لعبور المشاة.
٢- تساعد على زيادة معرفة المواطنين بالأماكن التراثية في وطنهم وحمائتها - تشجع الشعوب على زيارة هذه المواقع مما يساعد على زيادة الدخل القومي للدولة.

ج ٤: (أ)

- ١- الأهرامات. ٢- شرم الشيخ.
٣- التحذيرية. ٤- المملكة المتحدة.
٥- الفرعوني.

(ب)

١- لأنها: ١- توفر الوقت والجهد لانتقال الأفراد والسلع من مكان لآخر.

٢- تساعد على التبادل التجاري والتواصل الحضاري بين الدول.

٢- للحفاظ على الموارد الطبيعية والبيئة من خلال ترشيد استهلاك الطاقة والمياه في المناطق السياحية.

إجابة الاختبار الرابع

ج ١: (أ)

- ١- القاهرة. ٢- سيناء. ٣- المراكب.
٤- التباعد بين أفراد الأسرة. ٥- سيناء.

(ب) ١-

خطورة الأمية على الفرد	خطورة الأمية على المجتمع
١- انتشار الجهل والخرافات بين الناس.	١- تؤثر سلباً في برنامج التنمية المستدامة في المجتمعات.
٢- تقليل من فرص الحصول على العمل مما يؤدي لانتشار البطالة والفقر.	٢- تؤدي إلى تدني الاقتصاد القومي.

٢- قامت الدولة بإصدار قانون المرور الجديد -

وضع كاميرات على الطرق وملصقات إلكترونية جديدة على كل سيارة.

ج ٢: (أ)

- ١- (صح). ٢- (صح).
٣- (صح). ٤- (صح).
٥- (خطأ).

(ب)

١- يساعد استخدام وسائل النقل المستدامة على الحفاظ على البيئة من التلوث.

٢- أنشأ بنك مصر شركة مصر للطيران وهي أول شركة طيران في الشرق الأوسط والسابعة على مستوى العالم.

ج ٣: (أ)

- ١- عشر. ٢- السمسمة.
٣- العلاجية. ٤- بكين.

٢- لم يتم عرض التاريخ والحضارة النوبية العريقة ، ولم يتعرف أحد في العالم على هذه الحضارة العظيمة .

ج ٣ : (أ)

١- القاهرة . ٢- التنمية .

٣- اليونسكو . ٤- المائي .

(ب)

١- حيث بنى المصريون القدماء الأهرامات ، مثل :

(خوفو - خفرع - منكاورع) لاعتقادهم في

البعث والخلود (أي الحياة بعد الموت) وعيش

حياة أبدية لا موت بعدها .

٢- حيث أتاحت شبكة الإنترنت للناس الزيارات

الافتراضية لبعض المواقع السياحية والأثرية

حول العالم والتعرف عليها .

ج ٤ : (أ)

١- الهاتف . ٢- شبكة الإنترنت .

٣- الإسكندرية . ٤- البرى .

(ب)

١- تحويل الكثير من السيارات للعمل بالغاز

الطبيعي - زيادة عدد الأتوبيسات التي تسيّر

بالكهرباء أو الغاز الطبيعي - تشجيع المواطنين

على استخدام وسائل النقل الجماعي لتقليل

استخدام السيارات الخاصة .

٢-

قواعد قيادة السيارات	قواعد المرور للمشاة
١- اتباع علامات المرور .	١- الانتباه إلى إشارات المرور .
٢- عدم تجاوز السرعة المحددة .	٢- العبور من المكان المخصص لعبور المشاة .
٣- ضرورة التحرك في المسار المحدد للسيارة على الطريق .	٣- السير دائماً على الرصيف المخصص للمشاة .
٤- عدم استخدام الهاتف المحمول أثناء القيادة .	٤- استخدام كباري المشاة أو أنفاق العبور .

(ب)

١- استخدمها المصريون القدماء لنقل البضائع والتنقل .

٢- لمعرفة مدى الالتزام بقواعد المرور وحصر أماكن

الكثافات المرورية والتعامل معها .

ج ٤ : (أ)

١- القاهرة . ٢- الإسكندرية .

٣- وادى الحيطان . ٤- الأحمر .

(ب)

١- حيث استخدم المصريون القدماء الدواب قديماً ثم

دخلت العربات الحربية التي يجرها الخيول إلى مصر

مع غزو الهكسوس ثم تطور النقل البري في مصر

حديث تطورت صناعة السيارات التي دخلت إلى

مصر عام ١٨٩٠ م في عهد الخديوي توفيق وكانت

تعمل بطاقة البخار حتى تطورت عبر الزمن حتى

وصلت لشكلها الحالي وظهرت السكك الحديدية .

٢- حيث يمكن استخدام شبكة الإنترنت في البحث

عن فرص عمل مناسبة ، والعمل عن بُعد في

مجالات متعددة مثل : التسويق الإلكتروني وغيرها .

إجابة الاختبار الخامس

ج ١ : (أ)

١- (خطأ) . ٢- (صح) .

٣- (خطأ) . ٤- (خطأ) .

(ب) ١- لاسترجاع الصورة التاريخية للمنطقة

وتعظيم قيمتها الأثرية عن طريق تحويل

المنطقة لمتحف مفتوح ، ولأنها تعد إحدى أبرز

المناطق التراثية القديمة على مستوى العالم .

٢- للربط بين ثلاث مدن مصرية وهى القاهرة

والجيزة وشبرا الخيمة في القليوبية .

ج ٢ : (أ)

١- دير سانت كاترين . ٢- البردى .

٣- بونت . ٤- الجوي .

(ب) ١- لم يتم استخدامه في نقل الركاب

والبضائع سريعة التلف ولم يتم

الاستفادة من النقل الجوي في السرعة

والانتشار وتخطى المرتفعات والبحار .