

الأشياء الاجتماعية



الدراسات الاجتماعية الصف ٤ الابتدائي

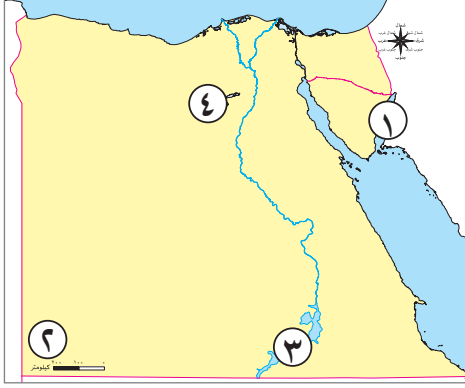
مقترح النماذج الاسترشادية لشهر نوفمبر

العام الدراسي 2023-2024

نموذج (١)

السؤال الأول

(١) أمامك خريطة صماء لمصر، اكتب مدلول الأرقام التالية:



- ١ خليج
- ٢ جبل
- ٣ بحيرة
- ٤ منخفض

(ب) برهن على صحة العبارة الآتية: تتعرض التربة لأخطار متعددة.

السؤال الثاني

أكمل العبارات الآتية بما يناسبها من كلمات مما بين القوسين:

(الساحلية - الهواء - المتجددة - الطاقة الحفزية - الطقس)

- ١ يعتبر الهواء والمياه والتربة من الموارد
- ٢ وصف حالة الجوفى فترة زمنية قصيرة، يعد ذلك مفهومًا لـ
- ٣ تنتشر الشعاب المرجانية في البيئة
- ٤ طاقة يتم استخراجها من باطن الأرض مثل البترول والفحم هي
- ٥ الهدف من استخدام السيارات التي تعمل بالغاز الطبيعي بدلاً من البنزين تقليل تلوث

السؤال الثالث

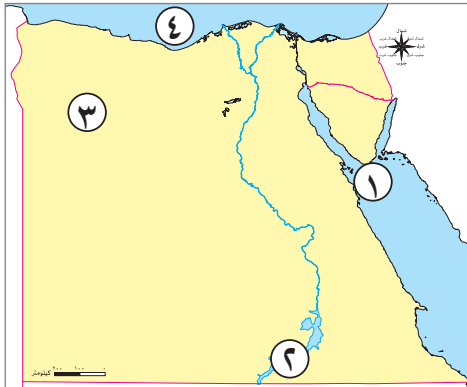
اكتب كلمة (صواب) أمام العبارة الصحيحة، وكلمة (خطأ) أمام العبارة غير الصحيحة:

- ١ ينتشر معدن الذهب في الصحراء الشرقية. ()
- ٢ ميزان الحرارة يستخدم في قياس سرعة الرياح. ()
- ٣ يتميز مناخ مصر بأنه صحراوي حار. ()
- ٤ النهر مجرى مائي مالح. ()
- ٥ تتميز مصر بتنوع بيئاتها ومواردها الطبيعية. ()

نموذج (٢)

السؤال الأول

(١) أمامك خريطة صماء لمصر، اكتب مدلول الأرقام التالية:



- ١ جزيرة.....
- ٢ بحيرة.....
- ٣ واحة.....
- ٤ البحر.....

(ب) بم تفسر..؟

- ضيق الشريط الساحلي عند ساحل البحر الأحمر.

السؤال الثاني

اكتب كلمة (صواب) أمام العبارة الصحيحة، وكلمة (خطأ) أمام العبارة غير الصحيحة:

- ١ يتميز وادى النيل بصخوره الصلبة وجباله الشاهقة. ()
- ٢ دخان المصانع وعوادم السيارات من ملوثات التربة. ()
- ٣ بحيرة البرلس من البحيرات المالحة في مصر. ()
- ٤ بحر الرمال العظيم يوجد في الصحراء الشرقية. ()
- ٥ محطة الكريما ت تولد الكهرباء من طاقة الرياح. ()

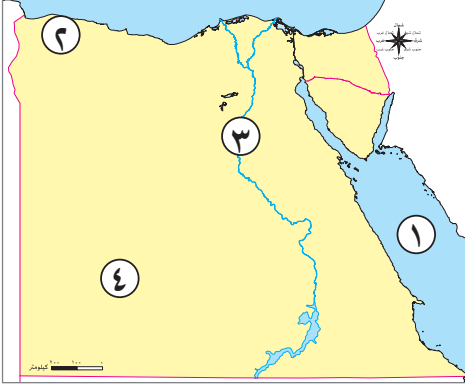
السؤال الثالث

اختر الإجابة الصحيحة مما بين القوسين:

- ١ الطقس والمناخ يختلفان في (درجات الحرارة - سرعة الرياح - كمية المطر - الفترة الزمنية)
- ٢ مساحة واسعة من الأرض مرتفعة مستوية أو شبه مستوية تسمى بـ..... (جبل - هضبة - سهل - تل)
- ٣ توجد الصحراء البيضاء والسوداء بداخل الصحراء (الشرقية - العربية - المغربية - الغربية)
- ٤ يوجد معدن النحاس في الصحراء (الشرقية - الغربية - العربية - الجنوبية)
- ٥ جبل سانت كاترين يقع ضمن محافظات (الوجه البحرى - الوجه القبلى - الحدود الصحراوية - الساحلية)

نموذج (٣)

السؤال الأول



(١) أمامك خريطة صماء لمصر، اكتب مدلول الأرقام التالية:

١ يشير رقم (١) إلى

٢ يشير رقم (٢) إلى البيئة

٣ يشير رقم (٣) إلى مورد مياه عذبة

٤ يشير رقم (٤) إلى البيئة

(ب) ما المقصود ب...؟ الطقس

السؤال الثاني

اكتب كلمة (صواب) أمام العبارة الصحيحة، وكلمة (خطأ) أمام العبارة غير الصحيحة:

- ١ تلال المقطم هي المساحة الواسعة من الأرض المرتفعة مستوية أو شبه مستوية السطح. ()
- ٢ يتغير المناخ بشكل يومي. ()
- ٣ استخدام السيارات بدلاً من الدراجات يسهم في خفض نسب التلوث. ()
- ٤ مناخ مصر معتدل وممطر في الشتاء. ()
- ٥ شبه جزيرة سيناء تحيط بها المياه من ثلاث جهات. ()

السؤال الثالث

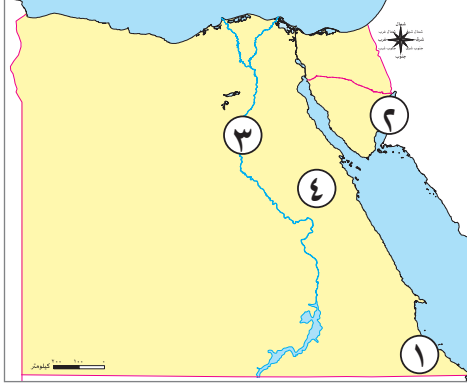
اختر الإجابة الصحيحة مما بين الأقواس:

- ١ تقاس درجة حرارة الطقس باستخدام (الأنيمومتر - جوب الرياح - الترمومتر - مقياس المطر)
- ٢ البيانات الدقيقة في خرائط الطقس توفرها (الأقمار الصناعية - الصور الجوية - برامج التلفزيون - برامج الراديو)
- ٣ تنتشر مناجم الحديد والفوسفات في (شبه جزيرة سيناء - الصحراء الغربية - الصحراء الشرقية - الصحراء المغربية)
- ٤ تسقط الأمطار في مصر (طوال العام - شتاءً - صيفاً - ربيعاً)
- ٥ محطة الزعفرانة لتوليد الطاقة الكهربائية من (الشمس - المياه - الرياح - الوقود)

نموذج (٤)

السؤال الأول

(١) أمامك خريطة صماء لمصر، اكتب مدلول الأرقام التالية:



- ١ جبل
- ٢ خليج
- ٣ نهر
- ٤ الصحراء

(ب) ما النتائج المترتبة على..؟ وجود المياه الجوفية في الصحراء الغربية.

السؤال الثاني

اكتب كلمة (صواب) أمام العبارة الصحيحة، وكلمة (خطأ) أمام العبارة غير الصحيحة:

- ١ يتم توليد الطاقة الكهرومائية من السد العالي. ()
- ٢ تعتبر الشمس من مصادر الطاقة المهمة المتجددة في مصر. ()
- ٣ تقع هضبة الجلف الكبير بمصر في الركن الجنوبي الشرقي. ()
- ٤ كل الموارد الطبيعية لا تنفذ باستخدام الإنسان لها. ()
- ٥ دوار الرياح تستخدم لتحديد اتجاه الرياح. ()

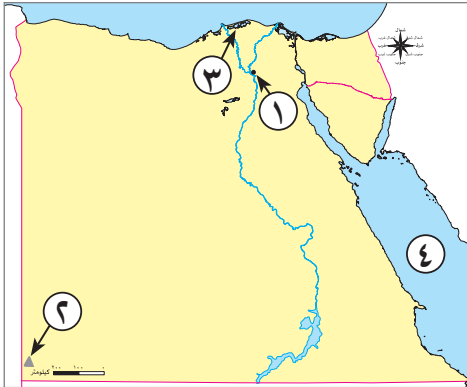
السؤال الثالث

اختر الإجابة الصحيحة مما بين القوسين:

- ١ استخدام المبيدات الحشرية يلوث (التربة - الهواء - المياه العذبة - المياه المالحة)
- ٢ كيس من القماش يستخدم في تحديد اتجاه الرياح (ميزان الرياح - دوار الرياح - جوب الرياح - مقياس الرياح)
- ٣ الموقع الجغرافي ومظاهر السطح ومساحة مصر الكبيرة، كل ذلك أدى إلى (تنوع البيئات - توحيد البيئات - ثبات البيئات - اختلال البيئات)
- ٤ الطاقة الكهرومائية مولدة من (الرياح - الأنهار - الشمس - البترول)
- ٥ المورد الطبيعي المتجدد الذي لا ينفذ باستخدام الإنسان له هو (الحديد - الشمس - البترول - المنجنيز)

نموذج (هـ)

السؤال الأول



(١) أمامك خريطة صماء لمصر، اكتب مدلول الأرقام التالية:

- ١ يشير رقم (١) إلى تلال
- ٢ يشير رقم (٢) إلى جبل
- ٣ يشير رقم (٣) إلى بحيرة
- ٤ يشير رقم (٤) إلى البحر

(ب) ما العلاقة بين...؟ حالة الطقس والأقمار الصناعية

السؤال الثاني

أكمل العبارات الآتية بما يناسبها من كلمات مما بين القوسين:

(الأنيمومتر - السوداء - الساحلية - المياه - أقل من)

- ١ بيئة تضم سواحل خلافة هي البيئة
- ٢ يمكننا قياس سرعة الرياح ب.....
- ٣ البحر هو مساحة من الماء المالح من المحيط.
- ٤ إلقاء مياه الصرف الصحي والزراعي الملوثة بالأسمدة والمبيدات في المياه، يعد ذلك أحد أسباب تلوث
- ٥ نوع من الرمال يدخل في صناعة الخزف، هي الرمال

السؤال الثالث

اكتب كلمة (صواب) أمام العبارة الصحيحة، وكلمة (خطأ) أمام العبارة غير الصحيحة:

- ١ معرفة أحوال الطقس تساعدك في اتخاذ بعض القرارات اليومية. ()
- ٢ شبه جزيرة سيناء تقع بين خليجي السويس والعقبة. ()
- ٣ تعتمد الزراعة في البيئة الصحراوية على مياه نهر النيل. ()
- ٤ بحيرة ناصر أكبر بحيرة صناعية في العالم. ()
- ٥ توجد جزيرة شدوان في البحر المتوسط. ()

الأشياء



الدراسات الاجتماعية الصف ٤ الابتدائي

الإجابات النموذجية للنماذج الاسترشادية لشهر نوفمبر

العام الدراسي 2023-2024

إجابة نموذج (١)

السؤال الأول

(أ)

١ العقبة.

٢ العوينات.

٣ ناصر.

٤ الفيوم.

(ب) تتعرض التربة لأخطار متعددة، منها: التلوث نتيجة إسراف المزارعين في استخدام الأسمدة الكيميائية والمبيدات الحشرية - تجريف الأرض الزراعية.

السؤال الثاني

١ المتجددة.

٢ الطقس.

٣ الساحلية.

٤ الطاقة الحفزية.

٥ الهواء.

السؤال الثالث

١ (صواب)

٢ (خطأ)

٣ (صواب)

٤ (خطأ)

٥ (صواب)

إجابة نموذج (٢)

السؤال الأول

(أ)

١ شدوان.

٢ ناصر.

٣ سيوة.

٤ المتوسط.

(ب) لاقترب الجبال من الساحل.

السؤال الثاني

١ (خطأ)

٢ (خطأ)

٣ (صواب)

٤ (خطأ)

٥ (خطأ)

السؤال الثالث

١ الفترة الزمنية.

٢ هضبة.

٣ الغربية.

٤ الشرقية.

٥ الحدود الصحراوية.

إجابة نموذج (٣)

السؤال الأول

(أ)

- ١ البحر الأحمر.
- ٢ الساحلية.
- ٣ نهر النيل.
- ٤ الصحراوية.

(ب) وصف حالة الجو من حيث الحرارة والرياح والأمطار لفترة زمنية قصيرة؛ يوم أو أسبوع أو شهر.

السؤال الثاني

- ١ (خطأ)
- ٢ (خطأ)
- ٣ (خطأ)
- ٤ (صواب)
- ٥ (صواب)

السؤال الثالث

- ١ الترمومتر.
- ٢ الأقمار الصناعية.
- ٣ الصحراء الغربية.
- ٤ شتاءً.
- ٥ الرياح.

إجابة نموذج (٤)

السؤال الأول

(أ)

١. علبة.
٢. العقبة.
٣. النيل.
٤. الشرقية.

(ب) ساعدت على قيام الزراعة.

السؤال الثاني

- ١ (صواب)
- ٢ (صواب)
- ٣ (خطأ)
- ٤ (خطأ)
- ٥ (صواب)

السؤال الثالث

- ١ التربة.
- ٢ جوب الرياح.
- ٣ تنوع البيئات.
- ٤ الأنهار.
- ٥ الشمس.

إجابة نموذج (هـ)

السؤال الأول

(أ)

١ المقطم.

٢ العوينات.

٣ البرلس.

٤ الأحمر.

(ب) الأقمار الصناعية الخاصة بالطقس تدور حول الأرض، وتستخدم في جمع بيانات دقيقة عن عناصر الطقس.

السؤال الثاني

١ الساحلية.

٢ الأنيمومتر.

٣ أقل.

٤ المياه.

٥ السوداء.

السؤال الثالث

١ (صواب)

٢ (صواب)

٣ (خطأ)

٤ (صواب)

٥ (خطأ)