

بنك اسئلة ونماذج معدل ومنقول اولاً : الجغرافيا

السؤال الاول : صوب ما تحته خط

- 1- تنتشر الزراعة البدائية في المناطق الباردة وعلي هوامش الغابات الصنوبرية
- 2 - أكبر دول العالم انتاجاً للقمح دولة مصر
- 3 - تتركز زراعة البنجر في بريطانيا بالقارة الأوروبية
- 4- تعد قارة أفريقيا أكبر قارات العالم انتاجاً للقطن وتنتج منه نحو ثلثي الانتاج العالمي
- 5 - يشكل الفحم والغاز نحو 55% من الطاقة المستخدمة في العالم
- 6- أكبر الاقاليم الصناعية في العالم الجديد اقليم شمال شرق المانيا الصناعي
- 7 - تعد مصر أكبر دول العالم انتاجاً للثاي
- 8 - توجد جبال البرانس في دولة ألمانيا و فيها أعلى القمم الجبلية
- 9 - يستخرج الحديد في نيجيريا من هضبة جوس
- 10 - تقع دولة ألمانيا في غرب قارة آسيا
- 11 - يجري نهر الجانج في جنوب الهند

السؤال الثاني : اختر الإجابة الصحيحة مما بين القوسين واكمل بها العبارات الآتية

- 1 - تتميز الزراعة بصغر مساحة الحقول الزراعية
(البسيطة - الكثيفة - التجارية - المختلطة)
- 2 - تعد قارة آسيا أولي قارات العالم في انتاج(البنجر - الذرة - القطن - جميع ما سبق)
- 3 - تعتبر دولة اولي دول العالم في انتاج القمح
(موريتانيا - البرازيل - الصين - مصر)
- 4 - تعتبر العمود الفقري للاقتصاد الألماني
(الزراعة - الصناعة - التجارة - الثروة الحيوانية)
- 5 - من أهم دول افريقيا في انتاج القطن
(المغرب - ليبيا - تونس - مصر)
- 6 - اولي دول العالم المربية للاغنام
(الهند - البرازيل - الصين - الولايات المتحدة)
- 7 - تحتل دولة المركز الاول عالميا في انتاج لحوم الدواجن
(الولايات المتحدة الامريكية - السعودية - الهند - الصين)
- 8 - أكبر الدول المنتجة للصوف دولة
(الولايات المتحدة الامريكية - الهند - استراليا - الصين)
- 9 - يسود الرعي التجاري في دولة بامريكا الجنوبية
(شيلي - الارجننتين - البرازيل - فنزويلا)

- 10 - تعتبر دولة أولي دول العالم في انتاج الاسماك
(بيرو - الصين - البرازيل - الارجننتين)
- 11 - من العوامل البشرية التي تساعد علي نجاح حرفة الصيد
(ضحالة مياة الساحل - التقاء التيارات البحرية - الارصفة القارية - توافر الخبرات الفنية)
- 12 - يستخدم البوكسيت في صناعة
(الاسلاك - الادوات الكهربائية - الحديد والصلب - الالومنيوم)
- 13- تعتبر دولة أولي دولة العالم في انتاج البوكسيت
(جنوب افريقيا - الصين - كندا - استراليا)
- 14- ياتي 3/4 انتاج الفحم في قارتي
(اوربا وافريقيا - اسيا واوربا - اسيا واستراليا - الامريكتين)
- 15- يشكل البترول و نحو 55% من الطاقة المستخدمة في العالم
(الفحم - الغاز الطبيعي - الرياح - جميع ما سبق)
- 16- أكبر الاقليم الصناعية في العالم الجديد اقليم
(غرب ووسط اوربا - شمال شرق الولايات المتحدة الأمريكية - روسيا واورانيا - شرق اسيا)
- 17- يبدو اقليم الصناعي في شكل مناطق صناعية متباعدة
(غرب ووسط اوربا - شمال شرق الولايات المتحدة الأمريكية - روسيا واورانيا - شرق اسيا)
- 18- تقع أهم المراكز الصناعية الحديثة في امريكا الشمالية بدولة
(المكسيك - فنزويلا - كوبا - تايلاند)
- 19 - يعد الاقليم الغربي بنيجيريا أهم مناطق الانتاج
(الصناعي - التعدين - السمكي - الزراعي)
- 20 - تصدر مصر إلى المانيا
(الصناعات الكيماوية - الآلات - السيارات - البترول)
- 21- تعد مناطق جذب للسياح في ألمانيا
(السهل الألماني الشمالي - جبال الغات - السهل الأوروبي العظيم - المرتفعات الوسطى)
- 22- تعد الصين دول العالم لانتاج اللحوم (أولي - ثانية - ثالثة - رابعة)
- 23- تقع دولة ميانمار الي من الهند
(الجنوب الشرقي - الجنوب الغربي - الشمال الشرقي - الشمال الغربي)
- 24- يحد المانيا من جهة الشمال دولة
(الدنمارك - بولندا - فرنسا - النمسا)
- 25 - يتم استخراج الفحم في نيجيريا من
(هضبة جوس - المنطقة الشرقية - الساحل الجنوبي - الاقليم الغربي)
- 26- تعد نيجيريا أكبر دول افريقيا
(سكانا - مساحة - انتاجا للبترول - انتاجا للقمح)
- 27- تحتل نيجيريا المركز الثاني بافريقيا في انتاج بعد مصر
(الذرة - القطن - المطاط - الارز)
- 28- تقع المانيا في قارة أوروبا

(غرب - شمال - جنوب - شرق)

29- تعتبر مدينة عاصمة اقليم بافاريا بالمانيا

(برلين - ميونخ - هامبرج - النمسا)

السؤال الثالث : اكتب المصطلح الذي تعبر عنه كل عبارة من العبارات الآتية

- 1- زراعة الارض أكثر من مرة في العام لاشباع حاجة السكان المحليين من الغذاء
- 2 - زراعة تتم في مزارع واسعة وتستخدم احدث الالات الزراعية وتهدف الي الانتاج الضخم
- 3- من أهم محاصيل الالياف وتتركز زراعة في دول قارة اسيا
- 4- نوع من انواع الرعي تمارسه جماعات سكانية في المناطق الصحراوية في مساحات واسعة في قارات العالم
- 5- استخراج المعادن ومصادر الطاقة الاخرى من فحم وبتترول وغاز طبيعي من باطن الارض .

السؤال الرابع :-

(أ) لقد أدى تباين التربة وتوزيع السكان - إلى تباين أساليب الزراعة والمحاصيل من إقليم لآخر في ضوء العبارة وضح :-

- 1- أهمية النشاط الزراعي
 - 2- أماكن إنتشار الزراعة الكثيفة ومميزاتها
 - 3- أهم قارات العالم انتاجا للقطن ؟
- (ب) ترعى الماشية والأغنام في مناطق حشائش السافانا والإستبس في ضوء العبارة وضح :-

- 1- الأهمية الإقتصادية لحشائش السافانا والإستبس ؟
- 2- أولى دول العالم في إنتاج الأغنام والأبقار ؟
- 3- اهم مناطق الرعي التجارى في العالم ؟

السؤال الخامس :- بم تفسر.....؟

- 1- إعتبار النشاط الزراعي من الأنشطة الاقتصادية الأساسية في العالم .
- 2 - إحتياج الزراعة الكثيفة إلى أيدي عاملة وفيرة .
- 3 - إعتبار محصول القمح الغذاء الرئيسي لمعظم شعوب العالم
- 4 - عدم جودة زراعة قصب السكر في أوروبا
- 5- توجد في نيجيريا أعداد كبيرة من الأبقار و الأغنام و الماعز ؟
- 6 - إعتبر القطن في مصر والسودان من أجود أنواع القطن في العالم ؟
- 7 - تنتج نيجيريا كميات كبيرة من الأسماك ؟
- 8 - يقل السكان في دلتا نهر النيجر جنوب نيجيريا ؟
- 9- زيادة معدل الإستهلاك لعالمي من اللحوم ؟
- 10- عدم كفاية إنتاج الألبان في مصر لحاجة الإستهلاك المحلي
- 11- إحتلال الصين المركز الأول في إنتاج الأسماك
- 12- لجوء بعض الدول لصيد الحيتان ؟
- 13- معظم الدول المنتجة للألومنيوم ليست هي المنتجة للبوكسيت
- 14- الأهمية الاقتصادية لمعدن النحاس
- 15- اعتبار البترول أهم مصادر الطاقة في العالم
- 16- توسع العالم في استخدام الغاز الطبيعي كبديل لمصادر الطاقة الأخرى ؟
- 17- جذب المرتفعات الوسطى للسباح في ألمانيا ؟
- 18- شهدت الصناعة الألمانية تطورا كبيرا بعد الحرب العالمية الثانية

19- ارتفاع الكثافة السكانية فوق هضبة جوس

20- الأهمية الاقتصادية للغابات فى نيجيريا .

21- انكماش مساحة الحشائش بالمانيا

22- تعد الهند من الدول الرئيسية المنتجة للاسماك

23- تعد مدينة ميونخ أحد أهم المدن بدولة المانيا

السؤال السادس : قارن بين :

1- الزراعة البسيطة والزراعة التجارية والعلمية من حيث مناطق الانتشار والمميزات وأهم المحاصيل

2- القمح والقطن من حيث أهم الدول المنتجة

3- قصب السكر والبنجر من حيث أهم القارات المنتجة وأهم الدول المنتجة

4- الأبقار والأغنام من حيث أهم الدول المربية

5- مدينتي لاجوس وأبوجا من حيث الأهمية والموقع

6- مدينتي برلين وهامبورج من حيث الأهمية

7- مدينتي نيودلهي وبومباي من حيث الأهمية

السؤال السابع :- امامك مجموعة من المدن المهمة اكتب اين تقع وما سبب شهرتها

1- إبيادان

2- برلين

3- لاجوس

4 - هامبورج

5 - نيودلهي

6- بومباي

7- حيدر اباد

السؤال الثامن ماذا يحدث إذا.....:-

1- اتبعت مصر نظام الزراعة الواسعة فى الصحراء الغربية وسيناء

2- كانت مصر غنية بالمراعى الطبيعية

3- قامت مصر ببناء أساطيل صيد حديثة

4- توسعت مصر فى إنشاء محطات الطاقة النووية السلمية

5- أهتمت مصر بالجودة فى صناعتها

السؤال التاسع ما النتائج المترتبة على.....:-

1- صغر مساحات الحقول الزراعية بالزرعة الكثيفة

2- إهتمام الدول المتقدمة بالزراعة التجارية والعلمية

3- تركيز إنتاج البترول فى دول الخليج العربي

4 - وجود مراعى حشائش السافانا فى نيجيريا

5 - وقوع دلتا نهر النيجر فى المنطقة الاستوائية

6 - وقوع شمال المانيا فى نطاق مناخ غرب أوروبا

7 - تعدد الأنشطة الاقتصادية فى المانيا

8- اشراف الهند على محيطات وخليجان بجبهات ساحلية طويلة .

9- افتقار الهند لمصادر الطاقة مثل البترول .

ثانيا : التاريخ

السؤال الأول : اكتب كلمة (صواب) أو (خطأ) مع التصويب :

- 1- كانت ثورة 23 يوليو 1952م ثورة علي الفساد والاحتلال وسوء الحكم
- 2- ألغت ثورة يوليو 1952م دستور 1923م
- 3- القي السادات أول بيان لثورة 23 يوليو 1952م
- 4- ساهمت مشاركات الدول العربية في حرب اكتوبر 1973م في تحقيق النصر
- 5- عقد مؤتمر باندونج باندونسيا في عام 1955م
- 6- قبلت مصر قرار مجلس الامن رقم 242 وامتنعت اسرائيل عن تنفيذة
- 7- انسحبت القوات الانجليزية والفرنسية من بورسعيد في عام 1956م
- 8 - أظهرت حرب اكتوبر 1973م أهمية استخدام سلاح النفط العربي
- 9- يعرف خط الدفاع الاسرائيلي في هضبة الجولان باسم خط بارليف
- 10- نادي الرئيس السادات بالسلام العادل لكل شعوب المنطقة
- 11- دعا الرئيس الامريكي كارتر لعقد مؤتمر كامب ديفيد عام 1978م
- 12- تحقق الانسحاب الاسرائيلي الكامل من سيناء في ابريل 1982م فيما عدا منطقة طابا
- 13- صدر ما عرف بدستور مصر الدائم عام 1971م
- 14- انشأ رفاة الطهطاوي أول مدرسة لتعليم البنات عام 1873م
- 15- وضع ميثاق جامعة الدول العربية بالقاهرة في مارس 1945م
- 16- ساهمت منظمة اليونسكو في انقاذ معابد أبو سمبل في عام 1964م
- 17- يعتبر محمد نجيب أول رئيس لجمهورية مصر العربية .
- 18 - يتم تعيين الأمين العام للأمم المتحدة عن طريق مجلس الوصاية
- 19 - شاركت مصر في كافة المؤتمرات الإسلامية

السؤال الثاني : اختر الإجابة الصحيحة مما بين القوسين واكمل بها العبارات الاتية

- 1- قامت الوحدة بين مصر و عام 1958 م
(لبنان - سوريا - السعودية - الاردن)
- 2- عقدت معاهدة السلام بين مصر واسرائيل عام 1979م برعاية
(اوروبية - امريكية - الاتحاد السوفيتي - المانية)
- 3- عقد مؤتمر باندونج بالاشتراك بين مصر والهند ويوغوسلافيا و.....
(فرنسا - انجلترا - اندونيسيا - ليبيا)
- 4- اعلن الرئيس عن مبادرة للسلام عام 1977م
(محمد نجيب - جمال عبد الناصر - السادات - حسني مبارك)
- 5- رفضت الدول العربية مشروع تقسيم عام 1947م
(لبنان - السودان - فلسطين - سوريا)
- 6- أول وزيرة للشئون الاجتماعية في مصر هي
(تهاني الجبالي - امال عثمان - عائشة راتب - حكمت ابو زيد)
- 7- ساهمت منظمة في احياء مكتبة الاسكندرية
(اليونسكو - الصحة العالمية - اليونيسيف - الاغذية)

- 8- عقد اول قمة افريقية عام 1964م بدولة
- (السودان - اوغندا - نيجيريا - مصر)
- 9- يعين الامين العام للجامعة العربية بموافقة مجلس
- (الأمن - الجامعة - الشعب - الشيوخ)
- 10- كان أول رئيس لجمهورية مصر العربية الرئيس
- (محمد نجيب - محمد انور السادات- جمال عبد الناصر - محمد حسني مبارك)
- 11 - يوجد مقر محكمة العدل الدولية في مدينة بهولندا
- (نيويورك - جنيف - روما - لاهاي)

السؤال الثالث : الي من تنسب الأعمال الآتية

- 1- تعين عائشة راتب وزيرة للشئون الاجتماعية 1971م
- 2- تزعم مجموعة من ضباط الجيش المصري عرفوا باسم الضباط الاحرار
- 3- أنشاء اول مدرسة لتعليم البنات عام 1873م
- 4- اعلان أول بيان لثورة 23 يوليو سنة 1952م
- 5- توقيع معاهدة السلام بين مصر واسرائيل عام 1979م
- 6- اصدار حكم باحقية مصر في طابا عام 1988م
- 7- انشاء مجلس المشورة
- 8- انشاء مجلس شعوري النواب عام 1866م
- 9- اصدار مجلة الريحانية 1907م كاول مجلة نسائية مصرية

السؤال الرابع : صوب ما تحته خط

- 1- كان الهدف من قيام ثورة 23 يوليو 1925م هو التخلص من الاحتلال الفرنسي
- 2- تزعم جمال عبد الناصر مجموعة من ضباط الجيش المصري عرفوا باسم حركة الانحياز
- 3- قررت عصبة الامم وضع مصر تحت الانتداب البريطاني وتنفيذ وعد بلفور
- 4- قامت الوحدة بين مصر واليمن عام 1958م
- 5- قبلت مصر قرار مجاس الامن رقم 242 وامتنعت بريطانيا عن تنفيذة
- 6- تم تدمير المدمرة البريطانية ايلات بصواريخ البحرية المصرية في اكتوبر 1967م
- 7- اقامت فرنسا جسر جويًا لتقديم المساعدات العسكرية لاسرائيل في حرب اكتوبر 1973م
- 8- يعرف خط الدفاع الاسرائيلي علي هضبة الجولان باسم بارليف
- 9- عرف خط الدفاع الاسرائيلي في شبة جزيرة سيناء باسم دفرسوار
- 10- دعا الرئيس الامريكي كارتر السادات وبيجن الي اجتماعات في مدريد
- 11- عقد مؤتمر كامب ديفيد علي اساس مبدأ الارض مقابل السلام
- 12- ظهرت اول مجلة نسائية مصرية علي يد هدي شعراوي

السؤال الخامس : بم تفسر

- 1- قيام ثورة 23 يوليو 1952م
- 2- اصدار قرار بناء السد العالي
- 3- هزيمة الجيش المصري في حرب فلسطين 1948م
- 4- العدوان الثلاثي علي مصر 1956م
- 5- العدوان الاسرائيلي علي الدول العربية في 5 يونيو 1967م

- 6- هزيمة الدول العربية امام اسرائيل عام 1967م
- 7- قيام حرب اكتوبر 1973م
- 8- اهمية استخدام سلاح البترول في حرب اكتوبر 1973م
- 9- زيادة الرئيس السادات لاسرائيل عام 1977م
- 10- اصدار قانون الاصلاح الزراعي في سبتمبر 1952م
- 11- فساد النظام الملكي قبيل ثورة يوليو 1952م
- 12- فشل العدوان الثلاثي علي مصر عام 1956م
- 13- اغلاق مصر لخليج العقبة في وجه الملاحة الاسرائيلية مايو 1967م
- 14 - يعد مجلس الأمن أهم أجهزة الأمم المتحدة

السؤال السادس : ما رايك في .

- 1- الدعم العربي اثناء حرب السادس من اكتوبر 1973م
- 2- بنود اتفاقية السلام 1979م
- 3 - قرار تامين شركة قناة السويس
- 4 - مشروع تقسيم فلسطين 1947م

السؤال السابع :

كان لثورة 23 يوليو 1952م اهداف عظيمة . في ضوء العبارة السابقة اجب عن الاتي

- 1- اذكر اهداف الثورة
- 2- اختر اثنين من انجازات ثورة 23 يوليو 1952م وشرحها
- 3- ما رايك في تنظيم الضباط الاحرار ؟

السؤال الثامن : اكتب المصطلح الذي تعبر عنه كل عبارة من العبارات الاتية

- 1- قيام الشعب بانتخاب ممثلين لادارة شئون الحكم في البلاد وسن القوانين ومراقبة اعمال الحكومة
- 2- الوثيقة الرسمية التي تحدد نظام الحكم في الدولة وتحدد شكل واختصاصات المؤسسات المختلفة
- 3- مجموعة من ضباط الجيش المصري راوا ضرورة القيام بثورة للقضاء علي الفساد وتزعهم جمال عبد الناصر
- 4- قانون اصدره ثورة يوليو في سبتمبر 1952م وبمقتضاة حددت الملكية الزراعية وتم القضاء علي الإقطاع
- 5- مؤتمر دعا اليه كل من الولايات المتحدة والاتحاد السوفيتي مؤكدا مبدا الارض مقابل السلام
- 6- تضم جمعيات المجتمعات المحلية والمنظمات غير الحكومية والنقابات العمالية والجمعيات الخيرية وغيرها
- 7- المنظمة التي تجمع عددا من الدول المستقلة وترتبط ببعضها بروابط معينة مثل جامعة الدول العربية
- 8- المنظمة التي تضم في عضويتها دول العالم المستقلة وان لم ترتبط بروابط معينة
- 9- احد أجهزة الأمم المتحدة تضم جميع الدول الأعضاء في الأمم المتحدة ولكل دولة صوت واحد
- 10- أهم أجهزة الأمم المتحدة المسنولة عن حفظ السلام والأمن الدوليين
- 11- منظمة تابعة للامم المتحدة هدفها الرئيسي المساهمة في إحلال السلام والأمن عن طريق رفع مستوي التعامل بين العالم في مجالات التربية والتعليم والثقافة
- 12- منظمة عالمية متخصصة في المجال الزراعي للقضاء علي الجوع ومساعدة البلدان النامية علي تطوير وتحسين الإنتاج الزراعي
- 13- المنظمة العالمية الوحيدة المتخصصة في مجال الطفولة لتعزيز وحماية حقوق الاطفال ورفاهيتهم
- 14- الجهاز القضائي الاساسي للامم المتحدة ينظر في القضايا التي تضعها الدول امامها وتقديم الاستشارات القانونية للهيئات الدولية
- 15- عدم الانضمام الي اي من الكتلتين الشرقية والغربية
- 16- منظمة عالمية متخصصة في المجال الصحي انشئت في 1948م مقرها جنيف بسوسرا
- 17- المجلس الذي يتكون من ممثلي جميع الدول الاعضاء في جامعة الدول العربية

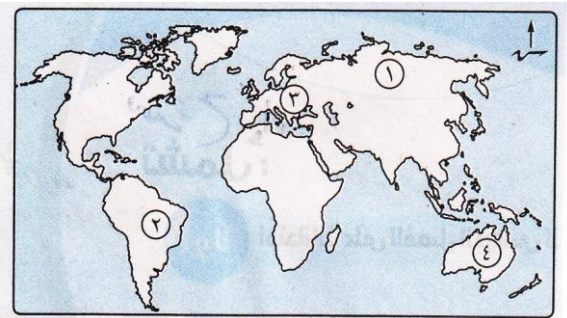
السؤال التاسع : ما النتائج المترتبة علي؟

- 1- فساد النظام الملكي قبيل ثورة يوليو 1952 ؟
- 2- إصدار قانون الاصلاح الزراعي الاول في سبتمبر 1952 ؟
- 3- إصدار بريطانيا لوعده بلفور 1917 ؟
- 4- الانتداب البريطاني علي فلسطين (1920 - 1948) ؟
- 5- فشل العدوان الثلاثي علي مصرفي 1956 ؟
- 6- الدعم العربي اثناء حرب اكتوبر 1973 ؟
- 7- تقديم الولايات المتحدة المساعدات العسكرية لاسرائيل اثناء حرب اكتوبر 1973م ؟
- 8- مؤتمر كامب ديفيد سبتمبر 1978
- 9- معاهدة السلام في مارس 1979
- 10- حكم محكمة العدل الدولي الصادر في مارس 1989

النموذج الأول

السؤال الأول

ا) امامك خريطة صماء للعالم اكتب في كراسة الاجابة مدلول الارقام الموقعة عليها



- 1- اولي قارات العالم انتاجا للقمح
- 2- ثاني قارات العالم في تربية الابقار
- 3- اولي قارات العالم انتاجا للغاز الطبيعي
- 4- اولي دول العالم انتاجا للبوكسيت

ب) بم تفسر

- 1- تركيز زراعة البنجر في معظم دول أوروبا .
- 2- التوسع في استخدام الغاز الطبيعي كبديل لمصادر الطاقة الاخرى .
- 3- تعد الصين من الدول الرئيسية المنتجة للأسمك .

السؤال الثاني

أ - اكتب المصطلح الذي تعبر عنه كل عبارة مما يأتي

- 1- زراعة الارض اكثر من مرة في السنة لاشباع حاجة السكان المحليين من الغذاء
- 2 - نوع من انواع الرعي يمارسه سكان المناطق الصحراوية في مساحات واسعة في قارات العالم

(ب) **قارن** بين نيجيريا و جمهورية المانيا الاتحادية من حيث المناخ والموقع الجغرافي
(ج) توجد علاقات مصرية مع كل من نيجيريا والهند في ضوء العبارة السابقة اجب عما يأتي:

- 1- ما مدي صحة العبارة السابقة ولماذا ؟
- 2- ما اوجة الاختلاف بين كل منها من حيث اهم الصناعات

(ج) ما العلاقة بين ... ؟

(1) الديانة الهندوسية، وضخامة أعداد الأبقار في الهند.

(٢) القطن، والثروة الحيوانية.

(د) دلل على صحة العبارة الآتية : صعوبة استخدام الآلات والميكنة الزراعية في الزراعة الكثيفة

ثانيا : التاريخ

السؤال الثالث

(ا) اكتب كلمة **صواب** أمام العبارات الصحيحة وكلمة **خطا** أمام العبارات غير الصحيحة مع التصويب

- 1- كان من اهداف قيام ثورة 23 يوليو 1952م التخلص من الاحتلال البريطاني
- 2 - ا عطي مؤتمر سان ريمو لبريطانيا حق الانتداب علي فلسطين 1920م
- 3- انشا محمد علي عدد مجالس استشارية منها مجلس النواب
- 4- يقع مقر منظمة الامم المتحدة في مدينة مدريد

(ب) ما النتائج التي تترتبت على ؟

- 1- عقد مؤتمر مدريد للسلام عام 1991م
- 2- قيام ثورة 23 يوليو 1952م في مجال التجارة
- 3- تدهور الاوضاع الاجتماعية والاقتصادية في عهد مبارك

السؤال الرابع

(أ) من يكون

- 1-اذاع أول بيان لثورة 23 يوليو 1952م
- 2- قادت الثورة عام 1936م بفلسطين
- 3-المنظمة التي ساهمت في احياء مكتبة الاسكندرية وانقاذ معابد ابو سمبل
- 4- الجهة المسنولة عن تولي السلطة التشريعية في الدولة

(ب) ماذا كان يحدث اذا

- 1- لم تصدر بريطانيا وعد بلفور 1917م
- 2- استجابت اسرائيل لنداءات السلام بالانسحاب من الاراضي التي احتلتها في حرب 1967م
- 3- لم يتضامن الجيش مع الشعب اثناء ثورة 25 يناير 2011م

النموذج الثاني

أولا الجغرافيا

السؤال الأول (١) أمامك خريطة صماء للعالم اكتب في كراسة اجابتك مدلول الارقام الموقعة عليها



- 1- اولي قارات العالم انتاجا للذرة
- 2- من الدول المربية للاغنام
- 3- اولي قارات العالم انتاجا للطاقة النووية
- 4- اولي قارات العالم انتاجا للقطن

(ب) بم تفسر :-

- 1- يعد النشاط الزراعي من الأنشطة الاقتصادية الأساسية في العالم
- 2- توسع دول العالم في استخدام الغاز الطبيعي كبديل لمصادر للطاقة الاخرى

السؤال الثاني :- (أ) أكتب المفهوم أو المصطلح الذي تعبر عنه العبارات التالية

- 1 - الخام الرئيسي للالومنيوم
- 2 - اقليم صناعي يبدو في شكل مناطق متباعدة اهمها مركز الصناعة في اقليم موسكو
- 3 - نشاط اقتصادي يمثل العمود الفقري للاقتصاد الالماني ويعمل بها نحو ثلث القوي العاملة

(ب) ماذا يحدث إذا؟

- 1- تطورت الصناعة في نيجيريا .
- 2 - توافرت مصادر الطاقة والخبرة العلمية والفنية لدى الدول المنتجة للبوكسيت

ثانيا التاريخ

السؤال الثالث :- ضع كلمة (صواب) أمام العبارة الصحيحة وكلمة (خطأ) أمام العبارة غير الصحيحة مع التصويب

- 1 - قدمت الدول العربية دعما عسكريا وماليا لمصر اثناء حرب اكتوبر 1973م
- 2 - اقرت معاهدة السلام اثناء حالة الحرب بين مصر واسرائيل
- 3 - استمرت حرب الاستنزاف لمدة خمس سنوات
- 4 - نص دستور 1956م ان تكون السلطة التشريعية في يد مجلس منتخب هو مجلس الأمة

(ب) ما النتائج التي تترتب على

- 1- سؤ الأحوال الإجتماعية قبل ثورة 23 يوليو 1952م
- 2- إنشاء السد العالي
- 3- التعاون بين مصر ومنظمة اليونسكو

السؤال الرابع :- قارن بين كل من :-

(أ) العدوان الثلاثي علي مصر في 1956م والعدوان الاسرائيلي علي مصر في يونية 1967م من حيث الاسباب والنتائج

(ب) ما رأيك : مبادرة الرئيس الراحل محمد انور السادات بالذهاب الي اسرائيل من اجل السلام

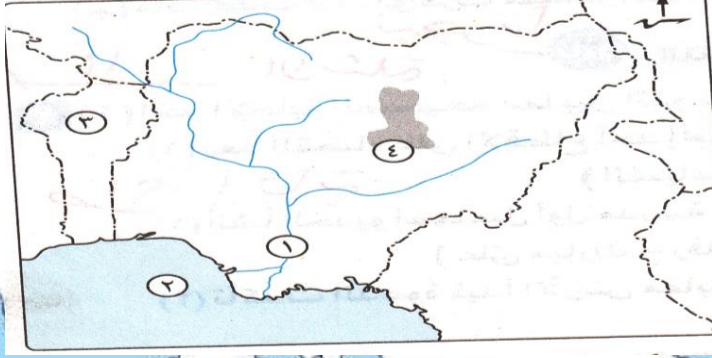
(ج) لمن تنسب الأعمال التالية :-

- 1- انشا مجلس شوري النواب في 1866م
- 2- دعا الرئيس السادات وبيجن الي اجتماعات في كامب ديفيد لتوصل الي اطار اتفاق للسلام بين مصر واسرائيل

النموذج الثالث

أولا الجغرافيا

السؤال الأول :- (أ) امامك خريطة للدولة نيجيريا اكتب في كراسة اجابتك مدلول الارقام الموقعة امامك



- 1- نهر
- 2- خليج
- 3- دولة
- 4- هضبة

(ب) قارن بين المانيا و الهند من حيث اهم المدن و علاقتها بمصر

السؤال الثاني

(ا) حدد الدولة في انتاج ما يلي

- 1- اللحوم الحمراء
- 2- الحديد
- 3- البترول
- 4- قصب السكر

(ب) ما المقصود بكل من

- 1- الزراعة البسيطة
- 2- الزراعة الكثيفة

(ج) دال على صحة كل عبارة من العبارات الاتية :-

- 1- تركز الصناعة في الدول المتقدمة .
- 2- يربط مصر بنيجيريا علاقات قوية .
- 3- تنوع النبات الطبيعي في المانيا .

ثانيا التاريخ

السؤال الثالث :- ضع كلمة (صواب) أمام العبارة الصحيحة وكلمة (خطأ) أمام العبارة غير الصحيحة مع التصويب

- 1 - غادر الملك فاروق مصر قبل الموعد المحدد له
- 2 - وافقت الدول العربية علي مشروع تقسيم فلسطين عام 1947م
- 3- تم انسحاب اسرائيل بالكامل من سيناء بعد توقيع معاهدة السلام 1979م
- 4 - اصبح للمرأة حق الترشح في البرلمان وفق دستور 1956م

(ب) بم تفسر :-

- 1- إنشاء جامعة الدول العربية
- 2- اهمية البترول العربي في حرب 1973م
- 3- العدوان الثلاثي علي مصر عام 1956م

السؤال الرابع

(أ) ماالنتائج التي تترتبت على

- 1- التعاون بين جمهورية مصر العربية ومنظمة اليونسكو

2- حرب فلسطين عام 1948م

3- مؤتمر مدريد للسلام 1991م

(ب) رتب الأحداث التاريخية الآتية من القديم إلى الحديث :-

نشأة الامم المتحدة

اصدار ما عرف بالدستور الدائم لمصر

مجلس شعوري النواب

اغتيال الرئيس السادات

(ج) ما رايك في

1- قرار تأميم شركة قناة السويس عام 1956م

2- الدعم العربي اثناء حرب اكتوبر 1973م

النموذج الرابع

أولا الجغرافيا

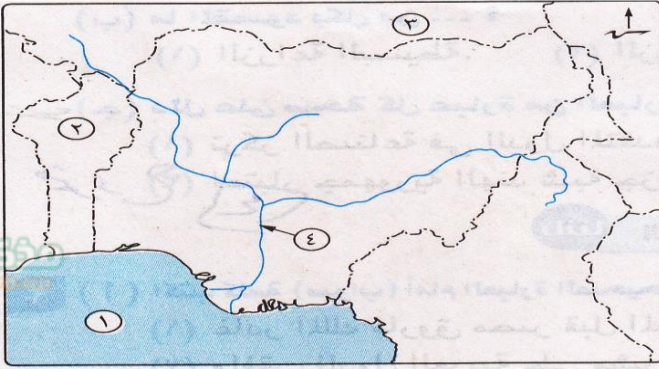
السؤال الاول : (أ) امامك خريطة لدولة نيجيريا اكتب في كراسة اجابتك مدلول الارقام الموقعة امامك

1 - خليج

2 - دولة

3 - دولة

4 - نهر



(ب) ما مدي صحة العبارات الآتية

1- النشاط الزراعي من الانشطة الاقتصادية المهمة

2- واجهت الهند المشكلة السكانية بسياسات تنمية مختلفة .

4- سواحل شمال غرب اوربا من أهم مناطق صيد الاسماك في العالم

ج - امامك مجموعة من المدن حدد ما تشتهر به والدولة التي تنتمي اليها

- نيودلهي

- ميونخ

- ابيدان

السؤال الثاني

(أ) صوب ما تحته خط

1-تستخدم الذرة الشامية في امريكا الشمالية كغذاء للانسان

2-اوروبا اكثر قارات العالم انتاجا للقطن

3-استراليا اكبر دول العالم انتاجا لقصب السكر

4- قارة اوربا اكثر قارات العالم انتاجا للبتروك كمصدر للطاقة

ب- قارن بين :

1- نيجيريا والمانيا من حيث الموقع الجغرافي ومناطق التركيز السكاني

2- اقليم غرب ووسط أوروبا الصناعي واقليم شرق اسيا الصناعي من حيث اهم مراكز الصناعة

التاريخ

السؤال الثالث

أ) ضع كلمة (صواب) أمام العبارة الصحيحة وكلمة (خطأ) أمام العبارة غير الصحيحة مع التصويب

- 1- صدر أول قانون للإصلاح الزراعي في مصر عام 1952م
- 2- تشكلت لجنة الوفد المركزية للسيدات عام 1920م برئاسة هدي شعراوي
- 3- حصلت مصر علي طابا بالقوة العسكرية
- 4- وافق الملك فاروق علي مغادرة البلاد قبل الموعد المحدد له

ب) قارن بين :

حرب عام 1948 م وحرب عام 1973م من حيث الاسباب

ج) ما المقصود بكل من

- 1- منظمة اقليمية
- 2- الحياة النيابية

السؤال الرابع

ا) ماذا كان يحدث اذا

- 1- لم يصدر تصريح بلفور في عام 1917م
- 2- لم تشارك مصر في منظمة الوحدة الافريقية

ب) من يكون

- 1- اعطاء اشارة البدء لحرب اكتوبر 1973م
- 2- انشأ مجلس شوري النواب 1866م
- 3 - قادت ثورة 1936م بفلسطين

النموذج الخامس

اولا : الجغرافيا

السؤال الأول

أ) أمامك خريطة صماء لجمهورية المانيا الاتحادية اكتب مدلول الارقام الموقعة عليها

- 1 - جبال
- 2- نهر
- 3 - مدينة
- 4 - دولة

ب) بم تفسر ؟

- 1 - توجد بالهند ثروات حيوانية ضخمة .
- 2- ينتج قصب السكر في كل القارات ماعدا أوروبا
- 3 - معظم الدولة المنتجة للبوكسيت ليست هي المنتجة للألومنيوم



السؤال الثاني(ا)ضع كلمة (صواب) أمام العبارة الصحيحة وكلمة (خطأ) أمام العبارة غير الصحيحة مع التصويب

- 1- نيودلهي العاصمة التجارية للهند وبومباي العاصمة السياسية
- 2- يعد القطن من المحاصيل المدارية
- 3 - تتمتع نيجيريا بساحل طويل علي خليج غينيا
- 4- تأتي العراق في المركز الاول في الانتاج العالمي من البترول

ب) قارن بين

المانيا و نيجيريا من حيث العاصمة السياسية ونوع المناخ السائد وما تصدره مصر اليها
ج) حدد اولي دول العالم انتاجا لكل من

- 1- القمح
- 2- الفحم
- 3- المطاط

التاريخ

ا) صوب ما تحته خط

- 1- عقد المؤتمر الاسلامي عام1955م في باندونج
- 2- انتهت حرب اكتوبر 1973م حالة اللاسلم وللاحرب بين مصر وفرنسا
- 3- اشترك في العدوان الثلاثي علي مصر كل من فرنسا و الولايات المتحدة الامريكية واسرائيل
- 4- اذيع اول بيان لثورة 23 يوليو 1952 باسم جمال عبد الناصر

ب) الى من ينسب كل عمل مما ياتي

- 1- هيئة تقوم بتقديم الاستشارات القانونية للهيئات الدولية
- 2- اسس تنظيم الضباط الاحرار
- 3- انشا مجلس شوري النواب عام 1866م

السؤال الرابع

أ) اختر الاجابة الصحيحة مما بين القوسين

- 1- استمرت الوحدة بين مصر و حتي عام 1961م
(اليمن - العراق - السعودية - سوريا)
- 2- وافقت هيئة الامم المتحدة في عام 1947م علي
(ضم القدس للدولة اليهودية - الانتداب البريطاني علي فلسطين - تقسيم السودان - تقسيم فلسطين)
- 3- عقد مؤتمر القمة الاسلامي عام 1969م بمدينة (الكويت - الرباط - الرياض - القاهرة)
- 4 - استجاب الخديوي اسماعيل لدعوةوانشاء أول مدرسة لتعليم البنات 1873م
(رفاعة الطهطاوي - جمال الدين الافغاني - سعد زغول - محمد فريد)

ب) دلل تاريخيا علي صحة كل عبارة من العبارات الاتية

- 1- شهدت مصر نهضة نسائية في فترة ما قبل ثورة عام 1919 م
- 2- حققت مبادرة السلام للرئيس الراحل السادات عام 1977 أهدافها .